

1. Задача 1

Полный балл — 2

Выберите из приведенного списка ученого, который сформулировал закон высотной поясности.

1	В.В. Докучаев
2	П.П. Семенов-Тянь-Шанский
3	А. Гумбольдт
4	М.В. Ломоносов

2. Задача 2

Полный балл — 2

Выберите город, который является антиподом города с координатами 51° ю.ш., 72° з.д.

1	Улан-Удэ
2	Эдмонтон
3	Оттава
4	Улан-Батор

3. Задача 3

Полный балл — 2

Выберите, как называется математическая модель, характеризующая форму Земли и используемая при геодезических измерениях.

1	геоид
2	эллипсоид вращения
3	шар
4	вращательный эллипсоид

4. Задача 4

Полный балл — 2

Установите последовательность перечисленных событий в истории географических открытий, начиная с самого раннего:

покорение горы Джомолунгмы (Эверест) Э. Хиллари и Т. Норгеем	<input type="text"/>
открытие озера Эдуард и верховья реки Нил Г.М. Стэнли	<input type="text"/>
завоевание Мексики экспедицией Э. Кортеса	<input type="text"/>
открытие пролива между Азией и Америкой С.И. Дежневым	<input type="text"/>

5. Задача 5

Полный балл — 2

Назовите горную систему, образовавшуюся в эпоху каледонской складчатости.

1	<input type="text"/>	Урал
2	<input type="text"/>	Кавказ
3	<input type="text"/>	Западный Саян
4	<input type="text"/>	Сихотэ-Алинь

6. Задача 6

Полный балл — 2

Расположите горные вершины в порядке убывания их абсолютной высоты.

Охос-дель-Саладо	<input type="text"/>
Чогори	<input type="text"/>
Кения	<input type="text"/>
Логан	<input type="text"/>

7. Задача 7

Полный балл — 2

Расположите перечисленные субъекты России по валовому региональному продукту (ВРП), начиная с наименьшего по данному показателю.

Санкт-Петербург	<input type="text"/>
Республика Башкортостан	<input type="text"/>
Республика Ингушетия	<input type="text"/>
Липецкая область	<input type="text"/>

8. Задача 8

Полный балл — 2

В каких трех из перечисленных субъектов России доля городского населения наименьшая?

1	Республика Калмыкия
2	Свердловская область
3	Республика Коми
4	Республика Алтай
5	Ярославская область
6	Краснодарский край

9. Задача 9

Полный балл — 2

Выберите субъект Российской Федерации, где расположено крупнейшее газоконденсатное месторождение.

1	Тверская область
2	Республика Татарстан
3	Астраханская область
4	Калининградская область
5	Ханты-Мансийский автономный округ
6	Ненецкий автономный округ

10. Задача 10

Полный балл — 2

Какой из перечисленных объектов Всемирного наследия ЮНЕСКО находится, в отличие от остальных, в другом полушарии?

1	охраняемая природная область Пантанал
2	национальный парк «Эверглейдс»
3	геоглифы пустыни Наска
4	Липарские острова
5	Мачу-Пикчу
6	национальный парк «Лос Гласиарес»

11. Задача 11

Полный балл — 3

Выберите из списка названия трех наиболее характерных геоморфологических процессов, протекающих в современных условиях в Хибинах.

1	<input type="checkbox"/>	карст
2	<input type="checkbox"/>	солифлюкция
3	<input type="checkbox"/>	абразия
4	<input type="checkbox"/>	осыпи
5	<input type="checkbox"/>	сход лавин
6	<input type="checkbox"/>	экзарация
7	<input type="checkbox"/>	термокарст

12. Задача 12

Полный балл — 3

Выберите из приведенного списка названия местных ветров.

1	<input type="checkbox"/>	Куросоио
2	<input type="checkbox"/>	Хамсин
3	<input type="checkbox"/>	Мараньон
4	<input type="checkbox"/>	Фен
5	<input type="checkbox"/>	Нунатак
6	<input type="checkbox"/>	Бора
7	<input type="checkbox"/>	Гальинас

13. Задача 13

Полный балл — 3

Какие из перечисленных субъектов имеют вторые официальные названия, зафиксированные в Конституции РФ?

1	<input type="checkbox"/>	Республика Башкортостан
2	<input type="checkbox"/>	Чувашская республика
3	<input type="checkbox"/>	Республика Северная Осетия
4	<input type="checkbox"/>	Республика Бурятия
5	<input type="checkbox"/>	Чеченская республика
6	<input type="checkbox"/>	Республика Адыгея
7	<input type="checkbox"/>	Кемеровская область

14. Задача 14

Полный балл — 3

Установите соответствия между путешественниками и городами, которые на момент жизни этого путешественника являлись столицей государства, чьи интересы он представлял.

1	<input type="text"/>	М.П. Лазарев
2	<input type="text"/>	Ибн Баттута
3	<input type="text"/>	Р. Скотт
4	<input type="text"/>	Б. Диаш

Возможные ответы


1	Лиссабон
2	Санкт-Петербург
3	Эр-Рияд
4	Вашингтон
5	Порту
6	Лондон
7	Москва
8	Фес

15. Задача 15

Полный балл — 3

Установите соответствия между географическими объектами, изображёнными на фотографиях, и видами характерных для них топонимов.

1 <input type="text"/>	
2 <input type="text"/>	
3 <input type="text"/>	
4 <input type="text"/>	

5		
	<input type="text"/>	

Возможные ответы

1	дромонимы
2	оронимы
3	агоронимы
4	спелеонимы
5	потамонимы
6	инсулонимы
7	дримонимы

16. Задача 16

Полный балл — 3

Выберите эндемиков Евразии.

1	<input type="checkbox"/>	малая панда
2	<input type="checkbox"/>	барibal
3	<input type="checkbox"/>	обыкновенная рысь
4	<input type="checkbox"/>	ирбис
5	<input type="checkbox"/>	карибу
6	<input type="checkbox"/>	кабарга
7	<input type="checkbox"/>	горная вискаша

17. Задача 17

Полный балл — 3



Выберите неверные утверждения о России.


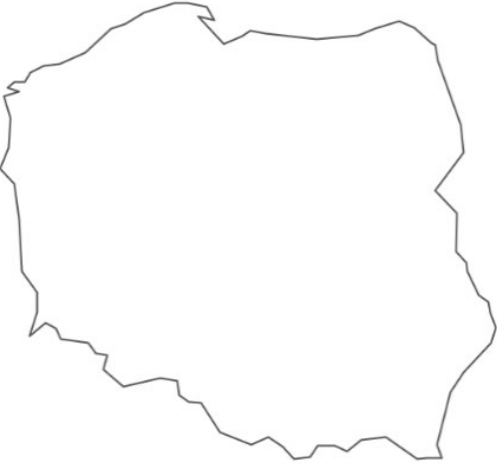
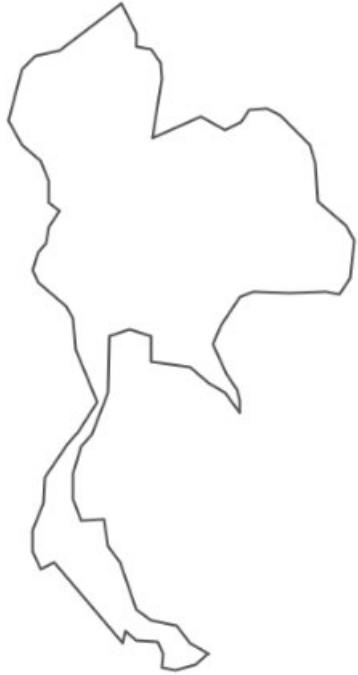
1	Площадь страны более чем в два раза превосходит по площади самый маленький материк
2	На территории страны протекает самая длинная река Европы
3	Располагается в 12-ти часовых зонах
4	Имеет 17 сухопутных стран-соседей, к тому же граничит по морю с тремя государствами
5	Федеральных округов в государстве больше, чем экономических районов
6	Зона тундры распространена на 40% территории страны

18. Задача 18

Полный балл — 3

Установите соответствия между контурами стран и крупнейшими по длине реками на их территории.

1	<input type="text"/>	
2	<input type="text"/>	

3	<input type="text"/>	
4	<input type="text"/>	
5	<input type="text"/>	

Возможные ответы

1	Парана
2	Нил
3	Конго
4	Висла
5	Дунай
6	Амазонка
7	Тигр
8	Обь
9	Меконг

19. Задача 19

Полный балл — 3

В приведённом списке 7 народов России, 5 из них относятся к одной и той же языковой семье. Определите два народа в этом списке, которые относятся к другим языковым семьям.

Примечание: классификация языковых семей и групп даётся в соответствии с содержанием учебников для основного общего образования по А.Ю. Милитареву и др., 1985.

1		чеченцы
2		ингуши
3		осетины
4		черкесы
5		лезгины
6		карачаевцы
7		аварцы

20. Задача 20

Полный балл — 3

Установите соответствия между экологическими проблемами и территориями или акваториями, для которых они наиболее характерны.

1	<input type="text"/>	Таяние ледников
2	<input type="text"/>	Кислотные осадки
3	<input type="text"/>	Обезлесение
4	<input type="text"/>	Разрушение озонового слоя
5	<input type="text"/>	Нефтяное загрязнение

Возможные ответы

1	Новая Зеландия
2	Среднешведская низменность
3	бассейн р. Атабаска
4	Амазония
5	Алтай

21. Задача 21

Полный балл — 3

Напишите название субъекта РФ, определив его по перечисленным объектам: остров Рудольфа, Приразломное месторождение, Котласский ЦБК, автомобильная трасса «Холмогоры»: .

22. Задача 22

Полный балл — 3

Определите полуостров на территории России по его описанию.

Полуостров сложен в основном докембрийскими породами, осадочный чехол имеет незначительную площадь, а местами отсутствует. В северо-восточной части полуострова развиты многолетнемерзлые породы. Территория богата минеральными ресурсами, на полуострове расположено крупнейшее в мире месторождение апатитовых руд. На севере полуостров омывается теплым течением, благодаря которому здесь расположен крупный незамерзающий порт нашей страны. Название полуострова: .

23. Задача 23

Полный балл — 3

Определите отрасль хозяйства России, если известно, что к числу крупных центров этой отрасли относятся Омск, Тольятти и Ярославль, а представлена она такими компаниями, как «Новатэк», «Сибур» и «Ставролен»: .

24. Задача 24

Полный балл — 3

Укажите какой вид демографического явления изображен на представленной картосхеме: .



25. Задача 25

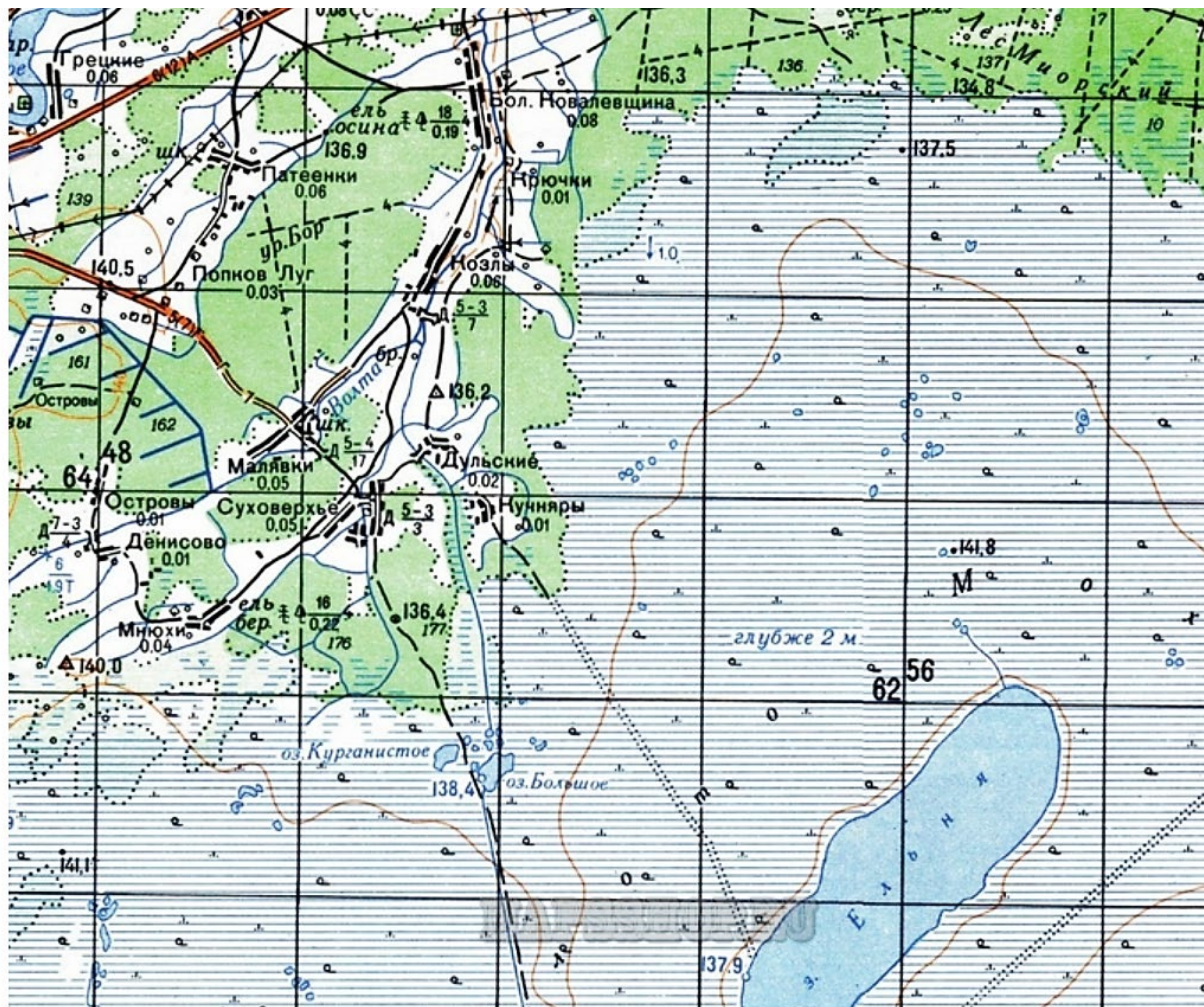
Полный балл — 3

В горах Южной Сибири эти природные объекты носят название тебелеры, а в Якутии – булгуняхи. Как они называются в Северной Америке? .

26. Задача 26

Полный балл — 5

Выполните задания, используя фрагмент топографической карты.



Определите масштаб карты, если известно, что длина стороны квадрата на сетке прямоугольных координат составляет на карте составляет 2 см. Ответ запишите в виде численного масштаба:

Определите значение наиболее высокой точки в пределах фрагмента карты (только число):

Определите из какого материала сооружены мосты через р. Волга:

Какой населенный пункт расположен вблизи проходимого участка болота? Напишите его название:

27. Задача 27

Полный балл — 5

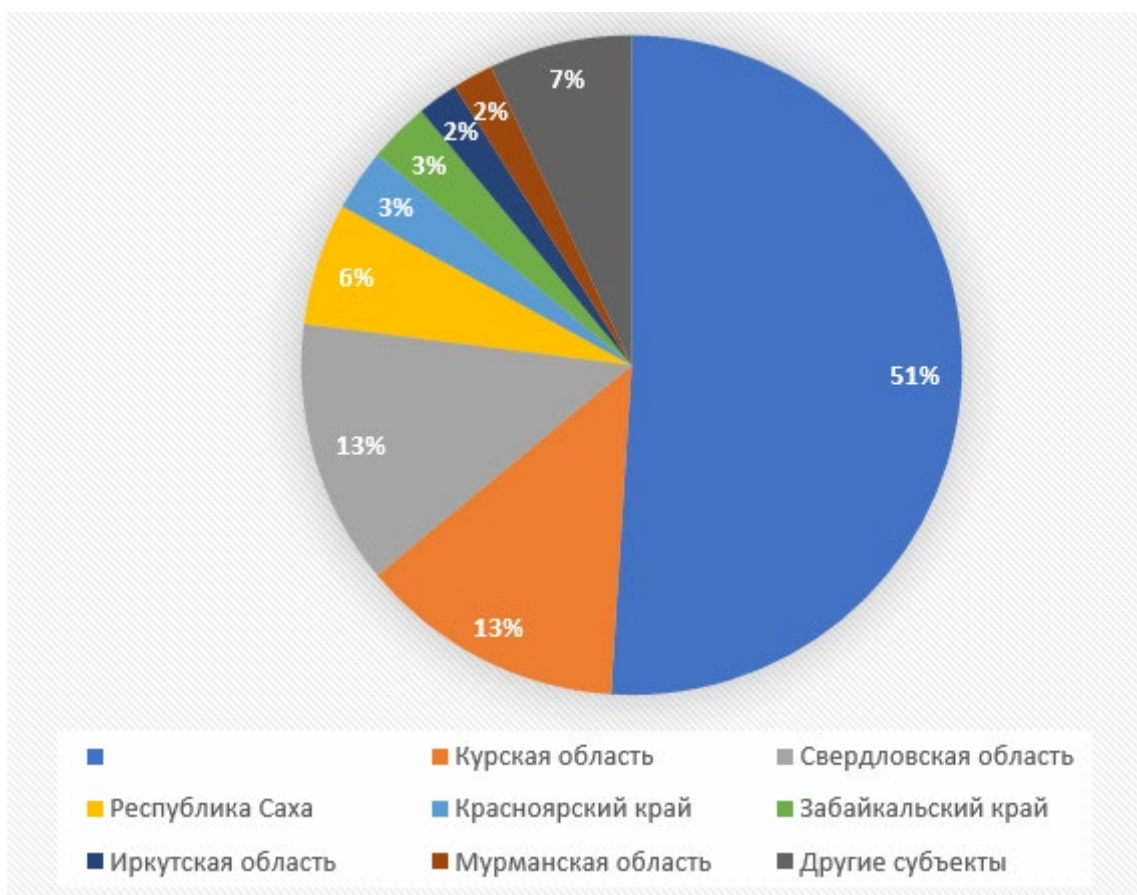
Пароход, отплывший из Сан-Франциско в понедельник 24 августа до 5 часов утра, прибыл в Пусан ровно через 18 суток. Какого числа, в какой месяц и день недели он прибыл в Пусан?

Формат записи: число (пробел) месяц (пробел) день недели (например, 2 августа среда).

28. Задача 28

Полный балл — 5

Рассмотрите круговую диаграмму, где показана доля запасов рудного полезного ископаемого по субъектам России и выполните задания.



Назовите полезное ископаемое: .

Назовите страну, являющуюся лидером по запасам данного полезного ископаемого: .

Назовите не подписанный на диаграмме субъект России, являющийся в нашей стране лидером по запасам данного полезного ископаемого: .

Назовите крупнейший в России рудный бассейн данного полезного ископаемого: .

29. Задача 29

Полный балл — 10

Внимательно прочитайте текст о государстве, которое находится в составе СНГ. Ответьте на вопросы.

Это внутриконтинентальное государство, граничащее с пятью странами. Это государство одно из двух стран в мире, которое отделено территориями 2-х стран от прямого выхода к мировому океану. Самый западный регион страны является районом экологического бедствия в связи со снижением уровня и существенным сокращением площади крупного бессточного озера. Это происходит по причине забора воды для нужд сельского хозяйства из двух крупных рек, которые впадают в это озеро и протекают по территории данного государства. Страна имеет богатую ресурсную базу. Активно разрабатываются месторождения полиметаллов и углеводородов. По запасам и добыче одного из полезных ископаемых страна находится на 19-м и 11-м местах в мировом рейтинге. Столица государства, а также два города, являющиеся крупными туристскими центрами, имеют возраст свыше 2000 лет. Сельское хозяйство является важной статьёй дохода государства и составляет около 20% ВВП страны. Сейчас, несмотря на некоторое уменьшение производства, страна находится на 5-м месте в мире по объемам выращивания сельскохозяйственной культуры, которая раньше была одним из символов рассматриваемого государства. Помимо титульного народа в населении страны 2,5 %, а в столице страны 20 %, составляет этнос, который был наибольшим по численности в государстве в состав которого входила рассматриваемая страна до 1991 года.

Напишите:

название страны: ,

название второго государства в мире, которое отделено от мирового океана территориями 2-х государств: ,

название озера: ,

название двух крупных рек в алфавитном порядке:

- первая река: ,

- вторая река: ,

назовите полезное ископаемое: ,

назовите эти два города, являющиеся крупными туристскими центрами, в алфавитном порядке:

- первый город: ,

- второй город: ,

назовите техническую сельскохозяйственную культуру: ,

назовите национальность (этнос, который был наибольшим по численности в государстве в состав которого входила рассматриваемая страна до 1991 года): .

30. Задача 30

Полный балл — 10

Замените пропуски в тексте словами или словосочетаниями, которые могут быть именами собственными или понятиями.

– единственный субъект России, полностью расположенный на островах. Считается, что впервые русские увидели эту территорию во время экспедиции 1640 года, которой руководил , – первый из европейцев, открывший море. Активное освоение территории началось уже в XIX веке, а свои современные границы этот субъект РФ получил только в 1945 году, после победы СССР во Второй мировой войне. Южные острова до сих пор оспаривает , с которой Россия имеет морскую границу. Главная особенность природных условий территории – это активный современный на архипелаге, обусловленный тем, что здесь происходит – явление, когда одна погружается под другую. Эндогенные природные явления, а также климат умеренного пояса создают уникальные для России ландшафты с особой флорой и фауной. Этот субъект РФ обладает не только богатейшими биологическими ресурсами моря, но и значительными запасами полезных ископаемых – в первую очередь, это и другие топливные ресурсы. Важнейшим промышленным и научным центром региона является город .