

1. Задача 1

Полный балл — 2

Выберите из приведенного списка ученого, который сформулировал закон географической зональности.

1	В.В. Докучаев
2	А.Г. Исаченко
3	Н.А. Солнцев
4	А. Гумбольдт

2. Задача 2

Полный балл — 2

Городские часы какого из городов будут показывать полдень, когда в других городах будет 13 часов?

1	Хошимин
2	Сингапур
3	Пекин
4	Тайбей
5	Манила
6	Бандар-Сери-Бегаван

3. Задача 3

Полный балл — 2

При построении какого из нижеприведенных картографических изображений не учитывается шарообразность Земли?

1	физическая карта России
2	план Московского Кремля
3	карта административно-территориального деления ФРГ
4	карта рельефа дна Атлантического океан

4. Задача 4

Полный балл — 2

Установите последовательность перечисленных событий в истории географических открытий, начиная с самого раннего:

Дж. Кук открыл восточное побережье Австралии	<input type="text"/>
С.И. Дежнев открыл пролив между Азией и Америкой	<input type="text"/>
П.П. Семенов-Тянь-Шанский исследовал Тянь-Шань	<input type="text"/>
Дж. Кабот достиг берегов Северной Америки у острова Ньюфаундленд	<input type="text"/>

5. Задача 5

Полный балл — 2

Какой из перечисленных вулканов является потухшим?

1	<input type="checkbox"/>	Ключевская сопка
2	<input type="checkbox"/>	Килауэа
3	<input type="checkbox"/>	Льюльяльяко
4	<input type="checkbox"/>	Охос-дель-Саладо
5	<input type="checkbox"/>	Этна
6	<input type="checkbox"/>	Эйяфьядлайекюдль

6. Задача 6

Полный балл — 2

Расположите притоки р. Днепр в последовательности, начиная от наиболее близко расположенного к его устью.

Припять	<input type="text"/>
Десна	<input type="text"/>
Березина	<input type="text"/>
Самара	<input type="text"/>

7. Задача 7

Полный балл — 2

Расположите перечисленные государства по номинальному валовому внутреннему продукту (ВВП) на душу населения, начиная с наименьшего по данному показателю.

Швейцария	<input type="text"/>
Япония	<input type="text"/>
Австралия	<input type="text"/>
Саудовская Аравия	<input type="text"/>

8. Задача 8

Полный балл — 2

В каких трёх из перечисленных субъектов России показатель средней ожидаемой продолжительности жизни наименьший?

1	Саратовская область
2	Иркутская область
3	Псковская область
4	Ставропольский край
5	Республика Адыгея
6	Чукотский автономный округ

9. Задача 9

Полный балл — 2

Какой из перечисленных российских городов является моногородом?

1	Антрацит
2	Мурманск
3	Мончегорск
4	Ярославль
5	Челябинск
6	Казань

10. Задача 10

Полный балл — 2

В какой из перечисленных международных организаций состоит Мексика?

1	МЕРКОСУР
2	НАТО
3	ОПЕК
4	АТЭС
5	ЕС
6	ЛАГ

11. Задача 11

Полный балл — 3

Какие три из перечисленных форм рельефа распространены в Калужской области?

1	оз
2	овраг
3	старичное понижение
4	клиф
5	надпойменная терраса
6	булгуннях
7	алас

12. Задача 12

Полный балл — 3

Какие из перечисленных географических объектов расположены в экваториальном климатическом поясе?

1	оз. Ньяса
2	устье р. Амазонка
3	о. Лусон
4	влк. Камерун
5	р. Токантинс
6	г. Джая
7	м. Пиай

13. Задача 13

Полный балл — 3

Какие из перечисленных стран имеют сухопутную границу с Россией?

1	Киргизия
2	Армения
3	КНДР
4	Турция
5	Польша
6	Норвегия
7	Узбекистан

14. Задача 14

Полный балл — 3

Установите соответствия между парой исследователей и современным государством, территорию которого каждый из них посетил во время своих путешествий.

1	<input type="text"/>	Ибн Баттута и Н. Пржевальский
2	<input type="text"/>	А. Тасман и Ж. Дюмон-Дервиль
3	<input type="text"/>	Г. Гудзон и Э. Рыжий
4	<input type="text"/>	Д. Ливингстон и Г.М. Стэнли


Возможные ответы

1	Казахстан
2	Мадагаскар
3	Исландия
4	Монголия
5	Эфиопия
6	Папуа – Новая Гвинея
7	Япония
8	Бразилия
9	Танзания
10	США

15. Задача 15

Полный балл — 3

Установите соответствия между географическими объектами и местными географическими терминами, используемыми в их названиях.

1	<input type="text"/>	
---	----------------------	--

2 <input type="text"/>	
3 <input type="text"/>	
4 <input type="text"/>	
5 <input type="text"/>	

Возможные ответы

1	лука
2	белки
3	шор
4	мох
5	даг
6	пуша
7	сай

16. Задача 16

Полный балл — 3

Определите почвы с промывным типом водного режима.

1	<input type="checkbox"/>	подзолистые
2	<input type="checkbox"/>	коричневые
3	<input type="checkbox"/>	желтозёмы
4	<input type="checkbox"/>	каштановые
5	<input type="checkbox"/>	красные ферралитные
6	<input type="checkbox"/>	тундровые глеевые почвы
7	<input type="checkbox"/>	почвы низинных болот

17. Задача 17

Полный балл — 3

Выберите неверные утверждения о природных объектах.

1	<input type="checkbox"/>	г. Кения, озеро Виктория и водопады Стенли расположены в экваториальном климатическом поясе
2	<input type="checkbox"/>	зона жестколистных вечнозеленых лесов и кустарников встречается как на севере, так и на юге второго по площади материка Земли
3	<input type="checkbox"/>	болота Эверглейдс пересекаются Северным тропиком
4	<input type="checkbox"/>	на втором по площади острове мира расположены столицы трёх государств
5	<input type="checkbox"/>	разница между минимальной и максимальной зарегистрированными температурами в северном полушарии составляет менее 135°C
6	<input type="checkbox"/>	южная граница многолетней мерзлоты не проходит по территории Монголии

18. Задача 18

Полный балл — 3

Установите соответствия между контурами стран и крупнейшими по длине реками на их территории.

1	<input type="text"/>	Нигер
2	<input type="text"/>	Гран-Чако
3	<input type="text"/>	Меконг
4	<input type="text"/>	Адамава

Возможные ответы

1	Касабланка
2	Хошимин
3	Дар-эс-Салам
4	Коломбо
5	Карачи
6	Лагос
7	Окленд
8	Абиджан
9	Дуала
10	Санта-Крус-де-ла-Сьерра

19. Задача 19

Полный балл — 3

В списке 7 государств, в четырёх из них официальный язык относится к одной и той же языковой группе. Определите три государства, официальный язык которых не принадлежит данной языковой группе.

1	<input type="text"/>	Гайана
2	<input type="text"/>	Коста-Рика
3	<input type="text"/>	Ангола
4	<input type="text"/>	Сьерра-Леоне
5	<input type="text"/>	Гана
6	<input type="text"/>	Суринам
7	<input type="text"/>	Бенин

20. Задача 20

Полный балл — 3

Установите соответствия между экологическими проблемами и территориями или акваториями, для которых они наиболее характерны.

1	<input type="text"/>	Таяние ледников
2	<input type="text"/>	Опустынивание
3	<input type="text"/>	Обезлесение
4	<input type="text"/>	Истощение ресурсов подземных вод
5	<input type="text"/>	Нефтяное загрязнение

Возможные ответы

1	Долина Мехико
2	Калахари
3	о. Суматра
4	Северное море
5	о. Шпицберген

21. Задача 21

Полный балл — 3

Назовите государство, определив его по перечисленным географическим объектам: озеро Рудольф, Великая Рифтовая долина, национальный парк Масаи-Мара, Момбаса: .

22. Задача 22

Полный балл — 3

Определите возвышенность по текстовому описанию.

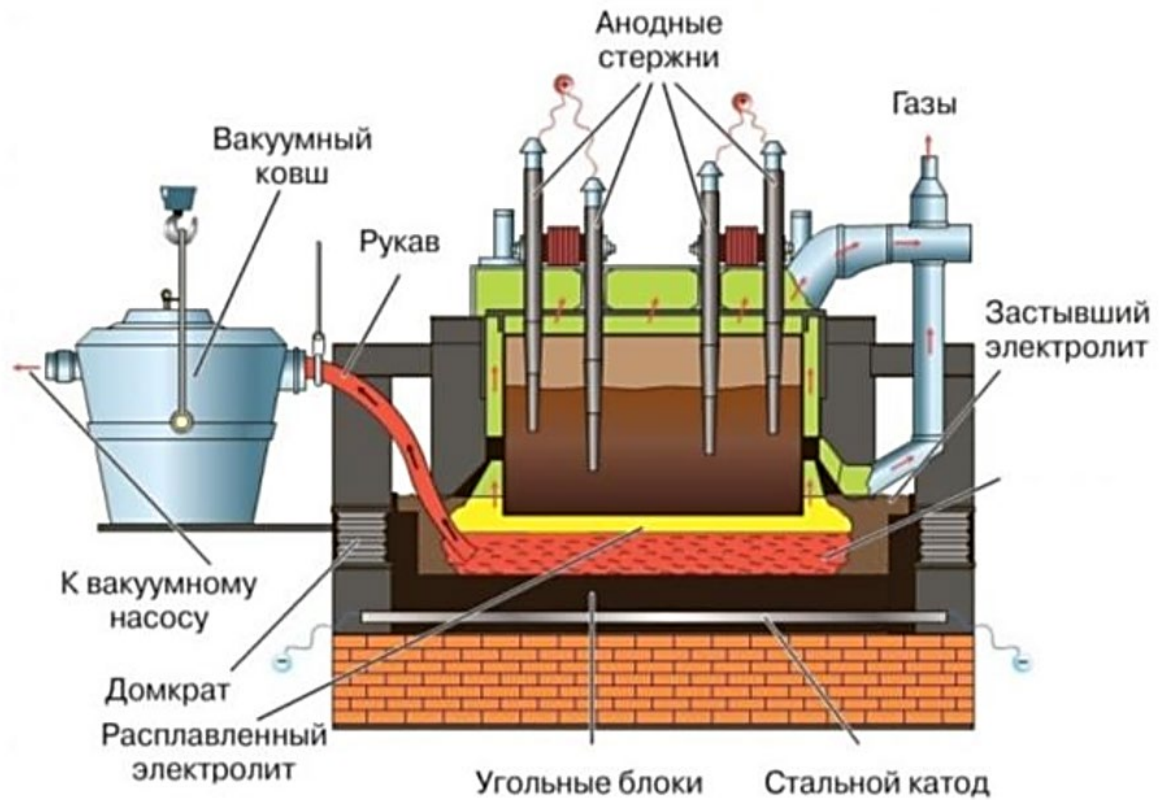
Возвышенность расположена в пределах древней платформы, протягивается с северо-востока на юго-запад на 800 км. Наиболее возвышенная часть представлена «горами» тектонического происхождения, в честь которых была названа марка отечественного легкового автомобиля. Топоним описываемой возвышенности был образован от названия крупнейшей в этой части света реки, в правобережной части бассейна которой она расположена.

Название возвышенности: .

23. Задача 23

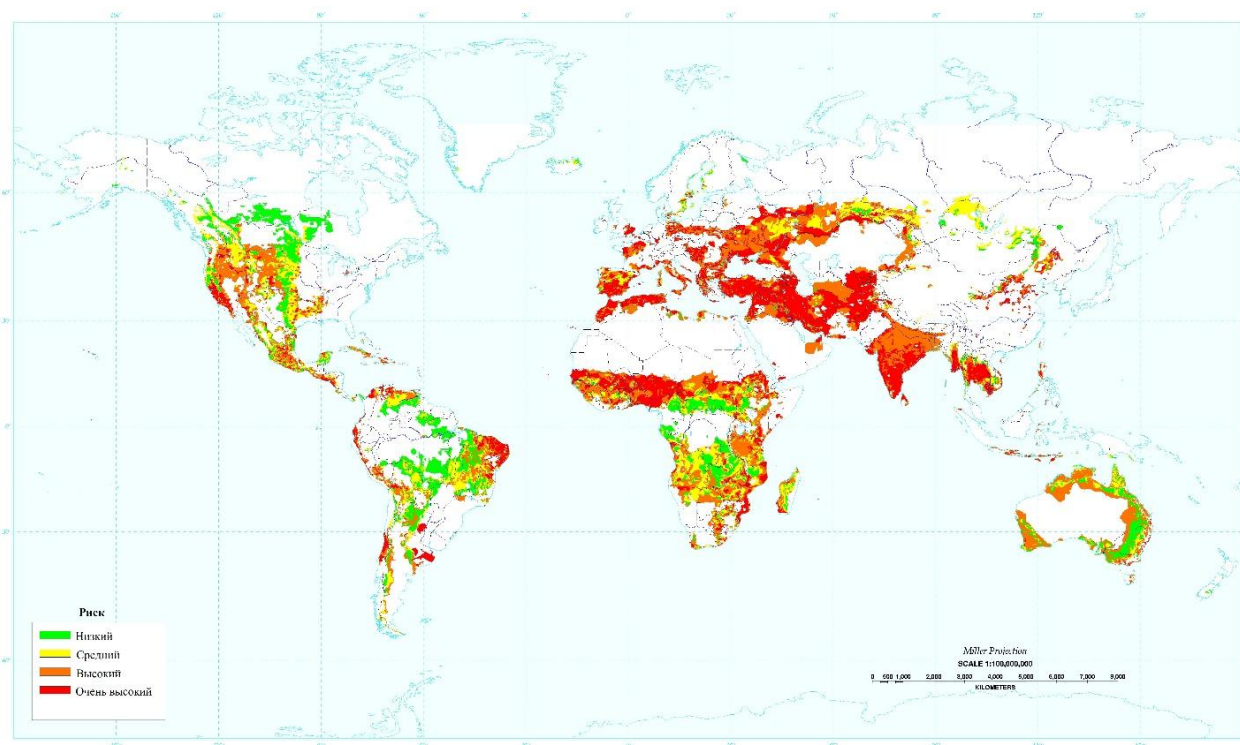
Полный балл — 3

Определите отрасль хозяйства по изображению, на котором представлена технологическая схема получения одного из продуктов этой отрасли: .

**24. Задача 24**

Полный балл — 3

Какая экологическая проблема изображена на представленной карте? .



25. Задача 25

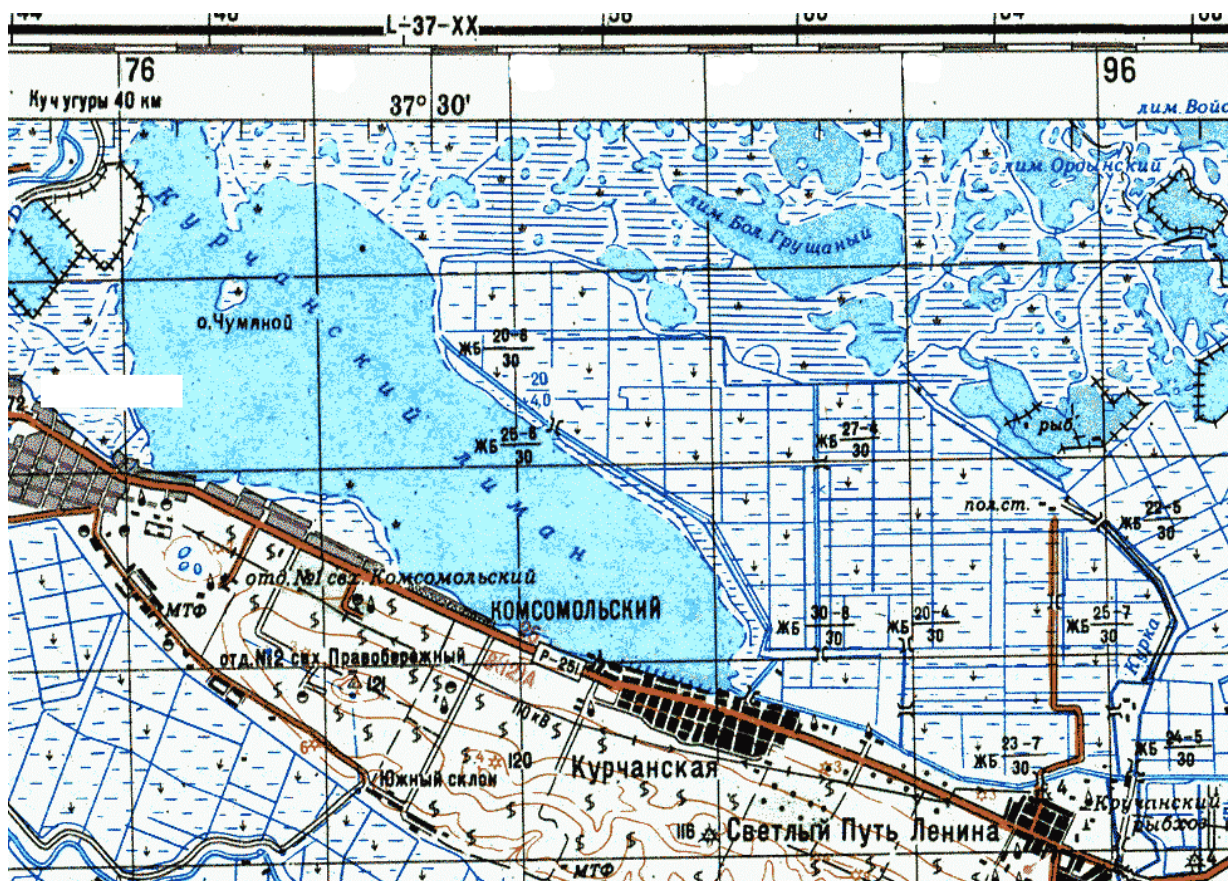
Полный балл — 3

Какой географический объект народы романской языковой группы называют «лаго», финны – «ярви», а народы Средней Азии – «куль»? .

26. Задача 26

Полный балл — 5

Выполните задания, используя увеличенный фрагмент топографической карты.



Определите масштаб карты по сетке прямоугольных координат, если известно, что длина стороны квадрата на километровой сетке составляет на карте составляет 0.5 см. Ответ запишите в виде численного масштаба: .

Территория какого субъекта изображена на фрагменте топографической карты? .

Какие две сельскохозяйственные культуры имеют наибольшее распространение в пределах данного картографического фрагмента (впишите сельскохозяйственные культуры по алфавиту)?

Первая сельскохозяйственная культура: .

Вторая сельскохозяйственная культура: .

Назовите главную реку, в бассейне которой находится данная территория. .

27. Задача 27

Полный балл — 5

Определите длину дуги в $0,5^\circ$ по параллели, проходящую через столицу Финляндии, на карте масштабом 1:500000. В ответе укажите:

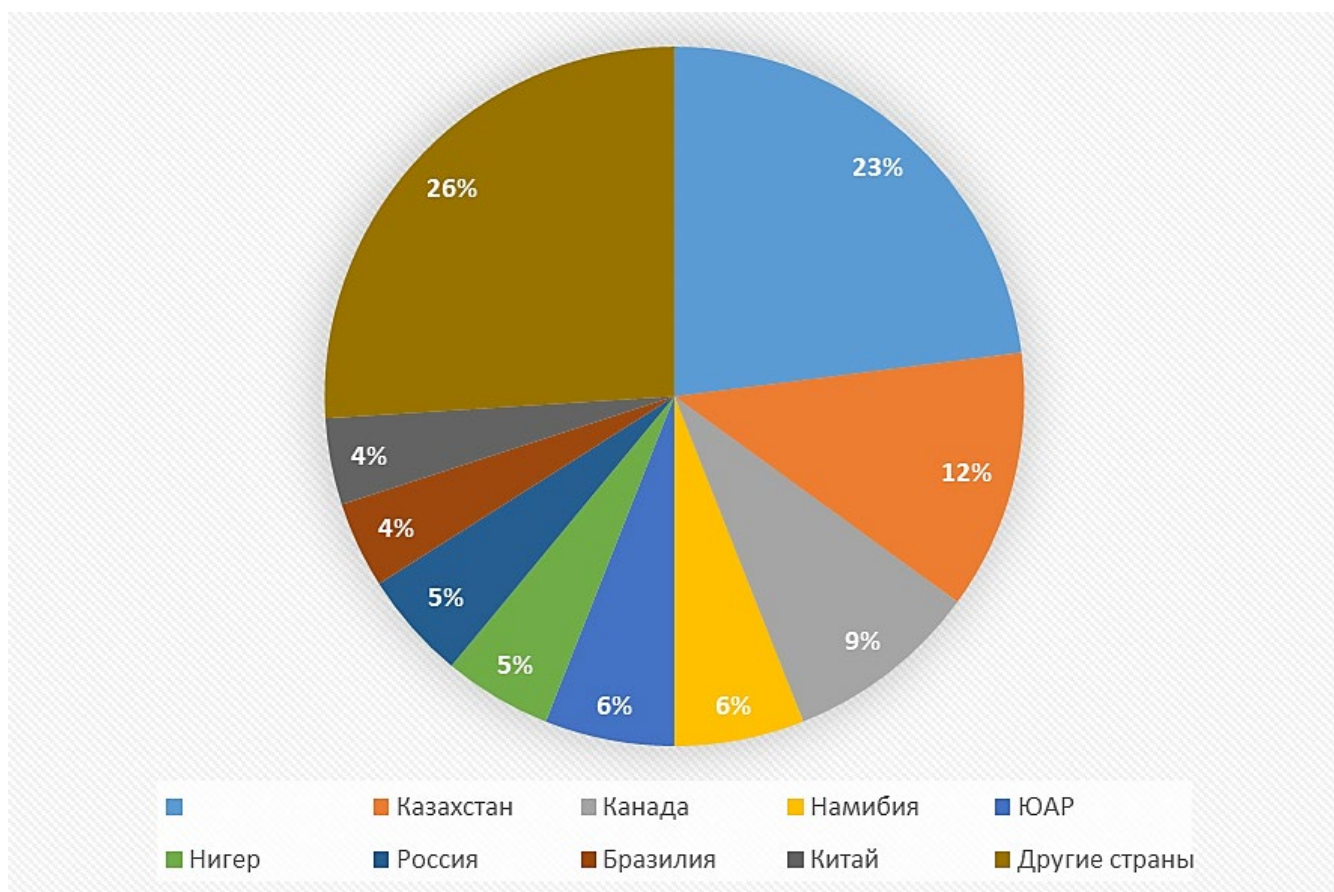
- длину дуги в $0,5^\circ$ в км (ответ округлите до десятых): ,

- длину дуги $0,5^\circ$ параллели на карте (ответ укажите в сантиметрах, округлив до десятых): .

28. Задача 28

Полный балл — 5

Рассмотрите круговую диаграмму, которая отображает запасы рудного полезного ископаемого по странам мира и выполните задания.



Назовите полезное ископаемое: .

Назовите не подписанную на диаграмме страну, являющуюся лидером по запасам полезного ископаемого: .

Назовите страну, являющуюся лидером по добыче полезного ископаемого: .

Назовите субъект России, являющийся лидером по запасам данного полезного ископаемого: .

29. Задача 29

Полный балл — 10

Определите государство по описанию и выполните задания.

Эта внутриконтинентальная страна граничит с двумя государствами. На юге и юго-востоке страны расположена северо-восточная часть крупнейшей пустыни материка. На территории государства расположено несколько бессточных озер, наиболее крупная группа которых лежит в котловине на северо-западе страны и называется «Котловина Больших озер». Крупнейшая река, протекающая по территории страны, имеет трансграничный характер, она впадает в озеро тектонического происхождения. Столица государства официально признана самым холодным столичным городом в мире, в ней проживает свыше трети населения страны и производится более половины промышленной продукции. В стране находится самая высокая конная статуя в мире, имеющая высоту более 40 метров. Большинство верующих в стране исповедуют одну из трех крупных мировых религий, которая распространена в двух пограничных административно-территориальных единицах соседнего федеративного государства.

Напишите:

название государства: ,

название пустыни: ,

озеро в составе группы «Больших озер», являющееся объектом всемирного природного наследия ЮНЕСКО: ,

название реки: ,

название озера тектонического происхождения: ,

название столицы: ,

имя человека, которому посвящена статуя: ,

название религии: ,

названия двух административно-территориальных образований (в алфавитном порядке):

- ,

- .

30. Задача 30

Полный балл — 10

Замените пропуски в тексте словами. Слова могут быть именами собственными и географическими понятиями. Ответы укажите в именительном падеже.

- вечнозеленые леса, произрастающие в пределах тропического и реже умеренного тепловых поясов и являющиеся интразональными сообществами. Эти леса произрастают в полосе побережья, расположенной между уровнем самого высокого прилива и самого низкого отлива, которая называется . Леса распространены на пологих участках побережья, защищенных от волн коралловыми и островами. Одним из главных приспособлений деревьев являются ходульные , позволяющие растениям произрастать в условиях затопления во время приливов. Распространение таких лесов в умеренном поясе обусловлено теплыми , что связано с их зависимостью от температурных условий – их ареал ограничен зимней среднемесячной изотермой воды $+20^{\circ}\text{C}$. Южной границей ареала этих лиственных лесов является побережье развитого островного государства - , расположенного в умеренном и субтропическом климатических поясах. Считается, что деревья задерживают загрязняющие вещества, ослабляют эрозионные процессы в прибрежной зоне, являются экосистемами с повышенным биоразнообразием, а также могут выступать в качестве защиты прибрежной зоны от . По мнению некоторых ученых вырубка в государстве усугубила последствия наступления этой гигантской волны в 2004 году, спровоцированной землетрясением магнитудой 9,3 (погибло свыше 230000 человек). Эти леса относятся к категории водно-болотных угодий по конвенции. Одной из самых известных особо охраняемых природных территорий, защищающих эти вечнозелёные леса, является национальный парк Сундарбан – крупнейший сохранившийся участок этих лесов на Земле, находящийся

преимущественно в пределах государства , на территории которого расположена крупнейшая речная дельта в мире.