

## Задания отборочного этапа (10-11 классы) 50 баллов

1 вариант

**Задание 1. «Первооткрыватели Австралии»** (Ответ записывается в виде сочетания буквы и цифры без пробела)

На схеме цифрами отмечены маршруты исследователей Тихого океана XVI-XVIII вв.: А – Дрейка, Б – Магеллана, В – Сааведры, Г – Кука, Д – Торреса, Е – Тасмана. Какие, трое из них являются первооткрывателями Австралии? Соотнесите соответствующие им индексы (А-Е) с их маршрутами (1-6)



Ответ:

**Задание 2. «Земное яблоко»** (Ответ записывается одной буквой)

Этот ученый и мореплаватель впервые изобрел географический глобус в 1492 году. Глобус, названный им «Земным яблоком», был 507 мм в диаметре; на нём не было указаний широты и долготы по современному методу, но были представлены экватор, меридианы, тропики и изображения знаков зодиака. На глобусе встречались те же географические ошибки, что и на картах того времени. Также были представлены краткие описания различных стран и изображения их жителей. Его изобретение было первым визуальным доказательством шарообразности Земли. Назовите его имя.

- А) Герард Меркатор;                      В) Мартин Бехайм;  
Б) Христофор Колумб;                Г) Фризиус Реньер Гемма.

Ответ:

**Задание 3. «Определяем «пары» гидрологических объектов России»** (Ответ записывается буквами слитно)

Выберите правильные сочетания («пары») гидрологических объектов России

- А) Лена – Восточно-Сибирское море

- Б) Колыма – Чукотское море
- В) Обь – Карское море
- Г) Онега – Баренцево море
- Д) Енисей – море Лаптевых
- Е) Неман – Балтийское море

Ответ:

**Задание 4. «Страна в полоску»** (Ответ записывается в виде сочетания арабской цифры, буквы и римской цифры без пробела).

Определите какие из названий природных зон в списке – А, Б, В, Г, Д, Е, Ж, З, И, К, Л, М и зональные типы почв в списке – I, II, III, IV, V, VI, VII, VIII, XI, X

соответствуют пронумерованным зональным природным комплексам на карте природных зон России (1, 2, 3, 4)

*Природные зоны:* А – смешанные и широколиственные леса; Б – арктические пустыни; В – лесостепи; Г – тундра; Д – саванны и редколесья; Е – тайга; Ж – области высотной поясности; З – степи; И – переменнно-влажные леса; К – пустыни; Л – лесотундра; М – полупустыни.

*Зональные типы почв:* I – арктические; II – дерново-подзолистые, серые лесные; III – торфянисто-глеевые, торфяно-болотные, глеево-подзолистые (подбуры); IV – серые лесные; V – бурые, серо-бурые; VI – черноземы, каштановые; VII – тундрово-глеевые; VIII – подзолистые, таежно-мерзлотные; IX – горно-тундровые, горно-таежные, горно-луговые, горные лугово-степные, горно-степные; X – бурые, серо-бурые и сероземные, песчаные, засоленные.



Ответ:

**Задание 5. «Эндемики мира»** (Ответ записывается в виде сочетания арабской цифры, буквы и римской цифры без пробела).

Определите какие из материков в списке— А, Б, В, Г, Д и видовые названия в списке – I, II, III, IV, V, VI, VII, VIII, IX, X, XI, XII соответствуют эндемикам, изображенных на рисунках 1, 2, 3, 4.

*Материки: А – Евразия, Б – Северная Америка, В – Африка, Г – Южная Америка, Д – Австралия*

*Список эндемиков: I – красный волк, II – большая панда, III–зебра, IV–кенгуровый прыгун Мериама, V–сумчатый муравьед, VI –двугорбый верблюд, VII – вилорогая антилопа, VIII–квокка, IX – бескрылая чомга, X –окапи, XI–барибал, XII– олень пуду.*



Ответы:

**Задание 6. «Определяем категорию особо охраняемой природной территории»** (Ответ записывается буквой)

Укажите категорию особо охраняемой природной территории, о которой идет речь: «Природоохранные, эколого-просветительские и научно-исследовательские учреждения, территории которых включают в себя природные комплексы и объекты, имеющие особую экологическую, историческую и эстетическую ценность, и которые предназначены для использования в природоохранных, просветительских, научных и культурных целях и для регулируемого туризма».

- А) заповедник
- Б) заказник
- В) национальный парк
- Г) памятник природы

Ответ:

**Задание 7. «Межгосударственное объединение»** (Ответ записывается буквой)


Это межгосударственное политико-экономическое объединение является двигателем интеграционных процессов в своём регионе, объединяя пять стран (одна из которых длительное время блокировала вступление другой страны), имеет три официальных рабочих языка (в том числе испанский, от словосочетания на котором образована аббревиатура названия союза), штаб-квартира находится в городе с «горным» названием

- А. АСЕАН
- Б. Бенилюкс
- В. Кариком
- Г. Меркосур
- Д. НАФТА

Ответ:

**Задание 8. Определяем государство** (Ответ записывается буквой)

На рисунке представлен герб старейшей монархии на политической карте мира



- А. Дания
- Б. Япония
- В. Саудовская Аравия
- Г. Великобритания

Ответ:

**Задание 9. «Определяем административный регион»** (Ответ записывается буквой)

Этот административный регион одной из экономически развитых стран мира является одним из самых сепаратистки настроенных в мире, активно борясь за свою независимость, он возглавляется вторым по размерам городом в стране и сам является вторым среди регионов по численности населения, привлекает наибольшую часть туристов в стране (своим морским побережьем и историко-культурными достопримечательностями):

- А. Каталония
- Б. Ломбардия
- В. Прованс
- Г. Техас
- Д. Шотландия

Ответ:

**Задание 10. «Определяем город»** (Ответ записывается буквой)

Название этого города происходит от слова «лев», официальными являются сразу четыре языка, в нём действует смертная казнь, его транспортный узел является одним из крупнейших в мире:

- А. Лагос
- Б. Мумбаи
- В. Сан-Паулу
- Г. Сингапур
- Д. Шанхай

Ответ:

**Задание 11. «Хлебный регион Канады»** (Ответ записывается буквой)

Провинция, которую называют «хлебной корзиной» Канады.

Ответ:

**Задание 12. «Российская металлургия»** » (Ответ записывается буквой)

Найдите ошибку в соответствии: «город – металл, который там выплавляется»

- А. Норильск – никель
- Б. Красноярск – алюминий
- В. Липецк – олово
- Г. Магнитогорск – сталь

Ответ:

**Задание 13. Население Северного Кавказа»** (Ответ записывается буквой)

Укажите неверное утверждение для характеристики населения Северного Кавказа

- А. «молодая» возрастная структура населения объясняется высокой рождаемостью
- Б. Основные демографические показатели населения этого района совпадают со среднероссийскими
- В. Высокая рождаемость объясняется религией, традициями местного населения
- Г. В этом районе наибольший процент долгожителей в России

Ответ:

**Задание 14. «Города России»** (В ответе записывается слитно соответствующие буквы) 5 баллов

Расположите города России в соответствии с их местоположением с севера на юг.

- А. Волгоград
- Б. Санкт-Петербург
- В. Махачкала
- Г. Самара
- Д. Норильск
- Е. Екатеринбург

Ответ:

**Задание 15. «Народы России»** (В ответе записывается слитно соответствующие буквы) 5 баллов

Укажите пять народов России, относящихся к одной языковой семье и исповедующие одну и ту же религию:

- А. Удмурты
- Б. Коми
- В. Тувинцы
- Г. Башкиры
- Д. Марийцы
- Е. Калмыки
- Ж. Мордва
- З. Чуваша
- И. Татары
- К. Карелы

Ответ:

## Задания отборочного этапа (10-11 классы) 50 баллов

2 вариант

**Задание 1. «Кругосветные путешествия»** (Ответ записывается в виде сочетания цифры и буквы без пробела).

2 – А

3 – Б

**6 баллов.**

На схеме цифрами отмечены маршруты исследователей Тихого океана XVI-XVIII вв.: А – Дрейка, Б – Магеллана, В – Сааведры, Г – Кука, Д – Торреса, Е – Тасмана. Какие, три из них являются кругосветными? Соотнесите маршруты (1-6) и руководителей этих экспедиций (А-Е)



Ответ:

**Задание 2. «Определяем море»** (Ответ записывается словом)

Это внутриматериковое окраинное море, входящее в бассейн Атлантического океана, является самым пресным морем в мире, где концентрация соли колеблется от 2 до 8 грамм в литре, примечательно тем, что отображалось на большинстве древних европейских карт. У славян это море называлось Воряжским, у шведов, датчан и немцев оно имеет второе название Восточного моря, что не удивительно, поскольку оно расположено к востоку от этих стран, омывая их берега. А еще на этом море расположен один из красивейших городов Европы, основанный в 1703 году. Назовите самое пресное море на Земле

Ответ:

**Задание 3. «Определяем области современного рифтообразования России»**

*(Ответ записывается буквами слитно)*

Найдите в списке области современного рифтообразования России

- А) Курильские острова
- Б) Большой Кавказ
- В) Становое нагорье
- Г) Корякское нагорье
- Д) Нагорье Черского
- Е) Баренцево море

Ответ:

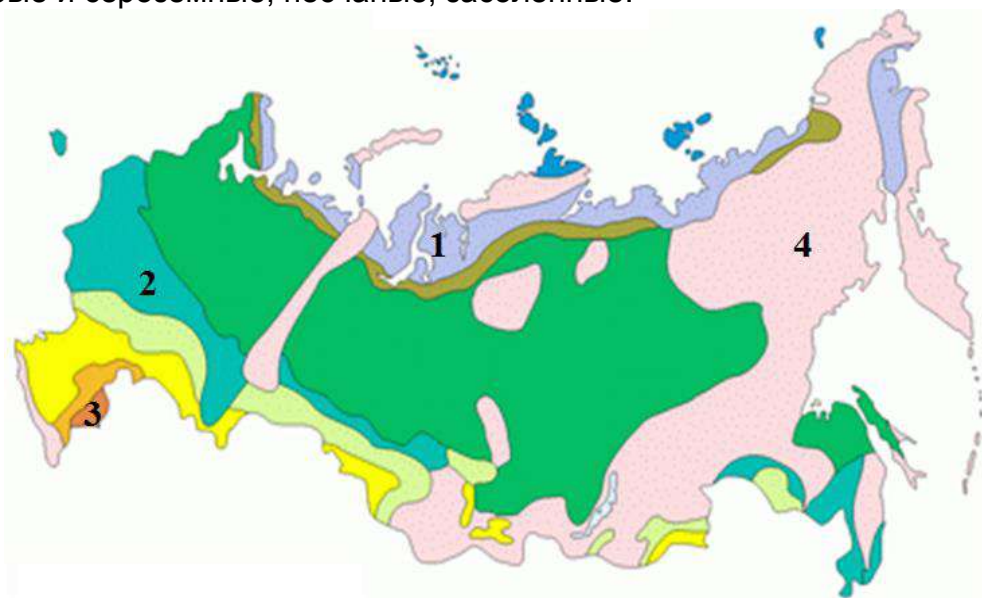
**Задание 4. «Страна в полоску»** » *(Ответ записывается в виде сочетания арабской цифры, буквы и римской цифры без пробела).*

Определите какие из названий природных зон в списке – А, Б, В, Г, Д, Е, Ж, З, И, К, Л, М и зональные типы почв в списке – I, II, III, IV, V, VI, VII, VIII, XI, X

соответствуют пронумерованным зональным природным комплексам на карте природных зон России (1, 2, 3, 4)

*Природные зоны:* А – смешанные и широколиственные леса; Б – арктические пустыни; В – лесостепи; Г – тундра; Д – саванны и редколесья; Е – тайга; Ж – области высотной поясности; З – степи; И – переменнно-влажные леса; К – пустыни; Л – лесотундра; М – полупустыни.

*Зональные типы почв:* I – арктические; II – дерново-подзолистые, серые лесные; III – торфянисто-глеевые, торфяно-болотные, глеево-подзолистые (подбуры); IV – серые лесные; V – бурые, серо-бурые; VI – черноземы, каштановые; VII – тундрово-глеевые; VIII – подзолистые, таежно-мерзлотные; IX – горно-тундровые, горно-таежные, горно-луговые, горные лугово-степные, горно-степные; X – бурые, серо-бурые и сероземные, песчаные, засоленные.







Ответ:

**Задание 5. «Эндемики мира»** (Ответ записывается в виде сочетания арабской цифры, буквы и римской цифры без пробела).

Определите какие из материков в списке – А, Б, В, Г, Д и видовые названия в списке – I, II, III, IV, V, VI, VII, VIII, IX, X, XI, XII соответствуют эндемикам, изображенных на рисунках 1, 2, 3, 4.

Материки: А – Евразия, Б – Северная Америка, В – Африка, Г – Южная Америка, Д – Австралия

Список эндемиков: I – красный волк, II – большая панда, III – зебра, IV – кенгуровый прыгун Мериама, V – сумчатый муравьед, VI – двугорбый верблюд, VII – вилорогая антилопа, VIII – квокка, IX – бескрылая чомга, X – окапи, XI – барибал, XII – олень пуду.

1		3	
2		4	

Ответ:

**Задание 6. «Определяем категорию особо охраняемой природной территории»** (Ответ записывается буквой)

Укажите категорию особо охраняемой природной территории, о которой идет речь: «Участок территории (акватории), на котором сохраняется в естественном состоянии весь его природный комплекс, запрещена любая хозяйственная деятельность человека, а земли изъяты из любых форм пользования».

- А) заповедник
- Б) заказник
- В) национальный парк
- Г) памятник природы

Ответ:

**Задание 7. «Межгосударственное объединение»** (Ответ записывается буквой)



Временный союз государств, создаваемый для достижения политических, экономических, культурных и прочих целей

- А. Содружество
- Б. Кондоминиум
- В. Конфедерация
- Г. Протекторат

Ответ:

**Задание 8. Определяем государство** (Ответ записывается буквой)

На рисунке представлен герб одной из стран мира



- А. Демократическая республика Конго
- Б. Колумбия
- В. Аргентина
- Г. Великобритания

Ответ:

**Задание 9. «Определяем страну»** (Ответ записывается буквой)

Самоназвание этого высокогорного государства означает «страна дракона-громовержца», оно является одним из самых изолированных в мире, сохраняя самобытность (даже телевидение в нём появилось лишь в 2002 году), входит в число наименее развитых стран:

- А) Афганистан
- Б) Боливия
- В) Бутан
- Г) Руанда
- Д) Сан-Марино

Ответ:

**Задание 10. «Угадай страну»** (Ответ записывается буквой)

Это государство занимает один из крупнейших островов мира, открытый португальцами, но колонизированный впоследствии французами, 90% видов растений и животных на нём являются эндемиками, а сам остров омывается самым длинным в мире проливом, основная часть населения говорит на языке австронезийской семьи, важной статьёй экспорта являются пряности:

- А) Бруней
- Б) Мадагаскар
- В) Новая Зеландия
- Г) Папуа – Новая Гвинея
- Д) Шри-Ланка

Ответ:

**Задание 11. «Центр трамваестроения»** (Ответ записывается словом)

Город- крупный центр трамваестроения России:

Ответ:

**Задание 12. «Российская металлургия» » (Ответ записывается буквой)**

Найдите ошибку в соответствии: «город – продукция машиностроения, которая в нем производится»

- А. Челябинск – тракторы
- Б. Павлово – автобусы
- В. Владикавказ – самолеты
- Г. Набережные Челны – грузовые автомобили

Ответ:

**Задание 13. Население России» (Ответ записывается буквой)**

Укажите верное утверждение для характеристики этнического состава населения России

- А. монгольская группа не представлена в России
- Б. в России представлена финно-угорская группа
- В. в Урало-Поволжье широко распространены языки иранской группы
- Г. в Северо-Западном и Центрально-Черноземном районах сложный этнический состав

Ответ:

**Задание 14. «Народы России» (В ответе записывается слитно соответствующие буквы)**

Расположите народы России по убыванию их численности

- А. чуваша
- Б. украинцы
- В. чеченцы
- Г. армяне
- Д. татары
- Е. башкиры

Ответ:

**Задание 15. «Нефтяные месторождения» (В ответе записывается слитно соответствующие буквы)**

Выберете месторождения нефти, расположенные на территории Западно-Сибирской нефтегазоносной провинции

- А. Самотлорское
- Б. Мегионское
- В. Ромашкинское
- Г. Возейское
- Д. Сургутское
- Е. Усинское
- Ж. Шаимское
- З. Оха
- И. Жирновское
- К. Губкинское

Ответ:

## Задания отборочного этапа (10-11 классы) 50 баллов

3 вариант

**Задание 1. «Кругосветные путешествия»** (Ответ записывается в виде сочетания цифры и буквы без пробела).

На схеме цифрами отмечены маршруты исследователей Тихого океана XVI-XVIII вв.: А – Дрейка, Б – Магеллана, В – Сааведры, Г – Кука, Д – Торреса, Е – Тасмана. Какие, три из экспедиций не являются испанскими? Соотнесите маршруты (1-6) и руководителей этих экспедиций (А-Е).



Ответ:

**Задание 2. «Определяем материк»** (Ответ записывается словом)

Это единственный континент, где не зарегистрировано не одного землетрясения. В этом кроется его загадка, которая до сих пор не разгадана, несмотря на имеющиеся на нем вулканы. Только карты, выполненные в азимутальной проекции, способны сравнительно правильно передать его форму. О каком материке идет речь?

Ответ:

**Задание 3. «Определяем области современного оледенения России»** (Ответ записывается буквами слитно)

Найдите в списке области современного оледенения в России

- А) Курильские острова
- Б) Большой Кавказ
- В) Сихотэ-Алинь
- Г) Крымские горы
- Д) Нагорье Черского
- Е) Кузнецкий Алатау

Ответ:

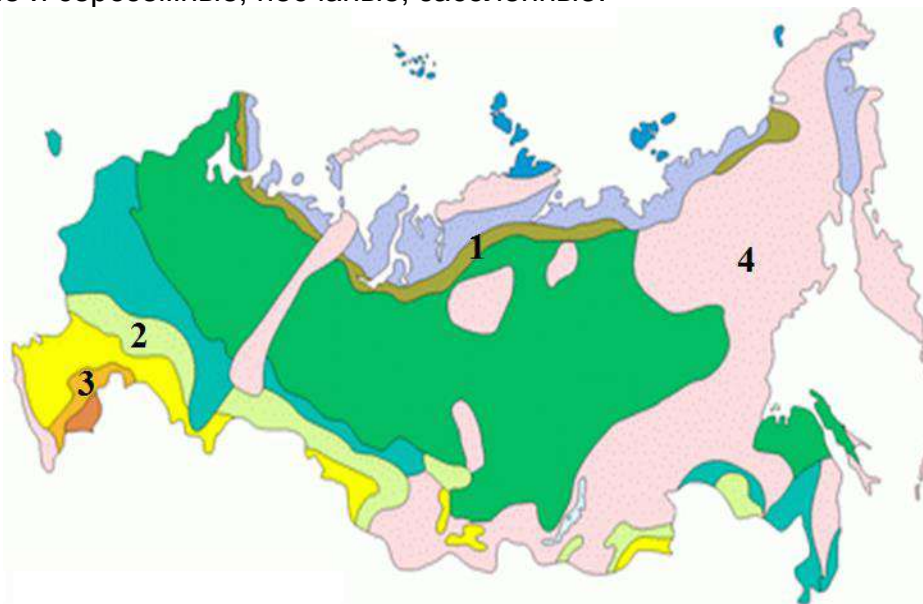
**Задание 4. «Страна в полоску»** (Ответ записывается в виде сочетания арабской цифры, буквы и римской цифры без пробела).

Определите какие из названий природных зон в списке – А, Б, В, Г, Д, Е, Ж, З, И, К, Л, М и зональные типы почв в списке – I, II, III, IV, V, VI, VII, VIII, XI, X

соответствуют пронумерованным зональным природным комплексам на карте природных зон России (1, 2, 3, 4)

*Природные зоны:* А – смешанные и широколиственные леса; Б – арктические пустыни; В – лесостепи; Г – тундра; Д – саванны и редколесья; Е – тайга; Ж – области высотной поясности; З – степи; И – переменнно-влажные леса; К – пустыни; Л – лесотундра; М – полупустыни.

*Зональные типы почв:* I – арктические; II – дерново-подзолистые, серые лесные; III – торфянисто-глеевые, торфяно-болотные, глеево-подзолистые (подбуры); IV – серые лесные; V – бурые, серо-бурые; VI – черноземы, каштановые; VII – тундрово-глеевые; VIII – подзолистые, таежно-мерзлотные; IX – горно-тундровые, горно-таежные, горно-луговые, горные лугово-степные, горно-степные; X – бурые, серо-бурые и сероземные, песчаные, засоленные.




Ответ:

**Задание 5. «Эндемики мира»** (Ответ записывается в виде сочетания арабской цифры, буквы и римской цифры без пробела).

Определите какие из материков в списке– А, Б, В, Г, Д и видовые названия в списке – I, II, III, IV, V, VI, VII, VIII, IX, X, XI, XII соответствуют эндемикам, изображенных на рисунках 1, 2, 3, 4.

Материки: А – Евразия, Б – Северная Америка, В – Африка, Г – Южная Америка, Д – Австралия

Список эндемиков: I – красный волк, II – большая панда, III–зебра, IV–кенгуровый прыгун Мериама, V–сумчатый муравьед, VI –двугорбый верблюд, VII – вилорогая антилопа, VIII–квокка, IX – бескрылая чомга, X –окапи, XI–барибал, XII– олень пуду.



Ответы:

**Задание 6. «Определяем категорию особо охраняемой природной территории»** (Ответ записывается буквой)

Укажите категорию особо охраняемой природной территории, о которой идет речь: «Территория на которой под охраной находится не природный комплекс, а некоторые его части: только растения, только животные, либо их отдельные виды, либо отдельные историко-мемориальные или геологические объекты».

- А) заповедник
- Б) заказник

В) национальный парк

Г) памятник природы

Ответ:

**Задание 7. «Межгосударственное объединение»** (Ответ записывается буквой)

Это межгосударственное политико-экономическое объединение является двигателем интеграционных процессов в своём регионе, объединяя пять стран (одна из которых длительное время блокировала вступление другой страны), имеет три официальных рабочих языка (в том числе испанский, от словосочетания на котором образована аббревиатура названия союза), штаб-квартира находится в городе с «горным» названием

А. АСЕАН

Г. Меркосур

Б. Бенилюкс

Д. НАФТА

В. Кариком

Ответ:

**Задание 8. Определяем государство** (Ответ записывается буквой)

На рисунке представлен герб одной из стран мира



सत्यमेव जयते

А. Китай

В. Сингапур

Б. Индия

Г. Индонезия

Ответ:

**Задание 9. «Определяем административный регион»** (Ответ записывается буквой)

Этот административный регион одной из экономически развитых стран мира является одним из самых сепаратистки настроенных в мире, активно борясь за свою независимость, он возглавляется вторым по размерам городом в стране и сам является вторым среди регионов по численности населения, привлекает наибольшую часть туристов в стране (своим морским побережьем и историко-культурными достопримечательностями):

А. Каталония

Г. Техас

Б. Ломбардия

Д. Шотландия

В. Прованс

Ответ:

**Задание 10. «Определяем город»** (Ответ записывается буквой)

Название этого города происходит от слова «лев», официальными являются сразу четыре языка, в нём действует смертная казнь, его транспортный узел является одним из крупнейших в мире:

- А. Лагос
- Б. Мумбаи
- В. Сан-Паулу
- Г. Сингапур
- Д. Шанхай

Ответ:

**Задание 11. «Молочный пояс США»** (Ответ записывается словом)

Штаты США, входящие в состав «молочного пояса»:

- А. Огайо, Индиана, Иллинойс
- Б. Юта, Аризона, Калифорния
- В. Миссисипи, Алабама
- Г. Мичиган, Висконсин

Ответ:

**Задание 12. «Российская металлургия»** (Ответ записывается буквой)

Найдите ошибку в соответствии: «город – продукция цветной металлургии, которая в нем производится»

- А. Ачинск – глинозем
- Б. Братск - алюминий
- В. Красноярск – никель
- Г. Норильск - медь

Ответ:

**Задание 13. Население России»** (Ответ записывается буквой)

Укажите верное утверждение для характеристики этнического состава населения России

- А. финно-угорская языковая группа не представлена на территории России
- Б. на территории России представлена иранская языковая группа
- В. в Северном экономическом районе широко распространены народы тюркской языковой группы
- Г. сложный этнический состав в Поволжском и Центральном районах

Ответ:

**Задание 14. «Города России»** (В ответе записывается слитно соответствующие буквы)

Расположите города России по времени их возникновения (от самого старого к самому молодому городу)

- А. Белгород
- Б. Якутск
- В. Мурманск
- Г. Суздаль
- Д. Нижний Новгород
- Е. Ставрополь

Ответ:

**Задание 15. «Газовые месторождения»** (В ответе записывается слитно соответствующие буквы)

Укажите пять месторождений газа, расположенных на территории Западно-Сибирской нефтегазоносной провинции

- . Ямбургское
  - Б. Медвежье
  - В. Избербаш
  - Г. Войвожское
  - Д. Уренгойское
  - Е. Василковское
  - Ж. Игримское
  - З. Вуктылское
  - И. Оренбургское
  - К. Самотлорское
- Ответ: