



Многопрофильная инженерная олимпиада «Звезда» по истории

8-9 классы

**Отборочный этап
Вариант 1**

2017-2018

Блок 1. Задания с выбором одного ответа (2 балла за каждый правильный ответ, всего 20 баллов).

1. С именем какого князя связано первое упоминание о Москве в летописи?

- а) Андрея Боголюбского
- б) Юрия Долгорукого
- в) Александра Невского
- г) Даниила Александровича

2. Перу Владимира Мономаха принадлежит:

- а) «Домострой»
- б) «Поучение детям»
- в) «Житие»
- г) «Повесть временных лет»

3. К деятельности Ивана III не относится:

- а) Свод гражданских законов (Судебник)
- б) «Собирание земель»
- в) Боярская Дума
- г) присоединение Ногайской Орды
- д) прекращение выплаты дани Золотой Орде

4. В каком году был учрежден Земский Собор?

- а) 1548 г.
- б) 1550 г.
- в) 1547 г.
- г) 1549 г.

5. В 1575 году Иван IV отказывается от престола и передает его:

- а) касимовскому хану Симеону Бекбулатовичу
- б) Ивану V
- в) князю А. Курбскому
- г) Митрополиту Филиппу

6. Прозвище «Тушинский вор» получил:

- а) Лжедмитрий I
- б) Иван Болотников
- в) Лжедмитрий II
- г) Хлопок

7. Укажите событие, которое произошло в 1686 году?

- а) «Хованщина»
- б) Россия и Польша заключили «Вечный мир»
- в) смерть Алексея Михайловича
- г) Кардисский мир

8. Укажите место трёхдневной «Битвы народов» в 1813 г., в которой были разбиты войска Наполеона:

- а) под Берлином
- б) под Аустерлицем
- в) под Лейпцигом
- г) при Ватерлоо

9. Идеи декабристов были сформированы под влиянием

- а) внутренней политики Николая I
- б) европейской философии Просвещения
- в) идеологии М.Бакунина
- г) теории «официальной народности»

10. Братья Лихуды сыграли роль в появлении в России

- а) Славяно-греко-латинской академии
- б) газеты «Ведомости»
- в) Вольного экономического общества
- г) первой обсерватории в Сухаревской башне

Блок 2. Задания с выбором нескольких вариантов ответа (3 балла за каждый правильный ответ, всего 12 баллов).

11. Какие из стран посетил Петр I в ходе Великого посольства? Запишите соответствующие буквы:

- а) Австрийская империя
- б) Нидерланды
- в) Англия
- г) Османская империя
- д) Дания
- е) Италия
- ж) Испания
- з) Речь Посполитая
- и) Саксония

12. Какие пять городов находились в составе Российского государства к концу XVIII века?

- | | |
|---------------|---------------|
| 1. Азов | 6. Минск |
| 2. Варшава | 7. Рига |
| 3. Кенигсберг | 8. Смоленск |
| 4. Киев | 9. Стокгольм |
| 5. Львов | 10. Хельсинки |

13. Какие военные отряды принимали участие в войне 1812 года?

- а) гвардия
- б) стрельцы
- в) драгуны
- г) «посоха»
- д) ополчение
- е) партизаны
- ж) служилые люди по отечеству

14. Что даровала реформа 1861 г. крестьянам:

- а) крестьяне перестали считаться крепостными
- б) крестьяне получили право продавать земли
- в) крестьяне получали выборное самоуправление
- г) право выхода из общины

Блок 3. Задания на установление правильной последовательности (6 баллов)

15. Расположите в хронологическом порядке следующие события:

- 1) Венский конгресс
- 2) Морозовская стачка
- 3) Оборона Севастополя
- 4) Отмена крепостного права
- 5) Правление Павла I
- 6) Сражение на реке Березине
- 7) Судебная реформа
- 8) Тильзитский мирный договор

Ответ _____

Блок 4. Задания на установление соответствия.

16. Соотнесите имя правителя с принятием правового акта (6 баллов, по 1 баллу за каждый правильный ответ).

Имя правителя	Правовой акт
а) Анна Иоановна	1. Указ о прекращении преследования раскольников
б) Екатерина II	2. Разрешение всем жителям страны, независимо от сословий, разыскивать полезные ископаемые и открывать завод
в) Елизавета Петровна	3. Право помещика самостоятельно устанавливать меры наказания крестьян за побег
г) Павел I	4. Запрет на поездку за границу для обучения и на ввоз книг
д) Петр I	5. Указ, дающий право открывать мануфактуры только представителям купечества и потомственным фабрикантам
е) Петр III	6. Запрет лицам недворянского происхождения покупать крестьян для работы на мануфактурах

Ответ:

а	б	в	г	д	е

17. Соотнесите имена полководцев и сражения, в которых они отличились (8 баллов, по 1 баллу за каждый правильный ответ):

Имя полководца	Сражение
1. М. Скопин-Шуйский	А. Сражение при Лесной
2. Д. Пожарский	Б. Взятие Очакова
3. Петр I	В. Взятие Измаила
4. П. Румянцев	Г. Освобождение Ионических островов
5. Г. Потемкин	Д. Освобождение Москвы
6. А. Суворов	Е. Сражение под Кунерсдорфом
7. Ф. Ушаков	Ж. Снятие осады Троице-Сергиева монастыря
8. П. Салтыков	З. Битва у Ларги

Ответ:

1	2	3	4	5	6	7	8

Блок 5. Задание на восстановление пропущенных данных.

18. Поэма Н.А. Некрасова «Кому на Руси жить хорошо» начинается так:

В каком году – рассчитывай,
В какой земле – угадывай,
На столбовой дороженьке
Сошлись семь мужиков:
Семь временнообязанных ...

Когда могла произойти эта встреча? Укажите хронологический период (6 баллов).

Ответ _____

19. Заполните пропуски в приведенных ниже предложениях (10 баллов, по 2 балла за каждый правильный ответ):

1. Правительство, действовавшее в самом начале правления Ивана IV называлось _____

2. Крупное предприятие, основанное на ремесленной ручной технике, но имеющее разделение труда, называется _____

3. В русском государстве полурегулярное войско, несущее гарнизонную службу, имевшее на вооружении пищали и бердыши, называлось _____

4. Назовите имя московского князя, победившего Мамая на Куликовом поле _____

5. Имя иерарха церкви, с которым связано проведение церковной реформы и исправление богослужебных книг _____


20. Прочитайте текст. К какому событию он относится? Укажите дату этого события. Вставьте недостающие слова. Кто автор текста? (10 баллов, из них 2 балла за событие, 1 балл – за правильную датировку, по 1 баллу за каждое верно указанное слово и имя автора)

«Из давнего времени примечали мы неприязненные против России поступки _____ императора, но всегда кроткими и миролюбивыми способами надеялись отклонить оные. Наконец, видя беспрестанное возобновление явных оскорблений, при всем нашем желании сохранить тишину, принуждены мы были ополчиться и собрать _____ наши; но и тогда, ласкаясь еще примирением, оставались в пределах нашей империи, не нарушая мира, а быв тожко готовыми к _____. Все сии меры кротости и миролюбия не могли удержать желаемого нами спокойствия. _____ император нападением на войска наши при Ковно открыл первый войну. И так, видя его никакими средствами непреклонного к миру, не остается нам ничего иного, как призвав на помощь свидетеля и защитника правды, Всемогущего Творца небес, поставить силы наши противу сил неприятельских. Не нужно мне напоминать вождям, полководцам и воинам нашим о их долге и храбрости. В них издревле течет громкая победами кровь славян. Воины! Вы защищаете _____, _____, свободу. Я с вами».

Ответ _____

Блок 6. Работа с картой

21. Перед Вами изображения исторических памятников (мемориалов), расположенных в городах России. Назовите эти памятники, укажите города, где они находятся, соотнесите название города с цифрой, обозначенной на карте. Ответы внесите в таблицу (12 баллов, по 1 баллу за каждый правильно названный элемент в таблице).



1.



2.



3.






4.





Название памятника	Название города	Номер города на карте

Блок 7. Работа с изображениями.

22. Установите соответствие между историческим памятником, его изображением и архитектурным стилем, в котором оно сооружено (10 баллов).

Исторический памятник	Архитектурный стиль	Изображение
а) Казанский собор в Петербурге	1. Барокко	I 
б) церковь Покрова в Филях	2. Классицизм	II 
в) Эрмитаж (Зимний дворец)	3. Модерн	III 

г) дом компании Зингер в Петербурге	4. Нарышкинский стиль	IV 
д) Церковь Вознесения в Коломенском	5. Шатровый стиль	V 

а	б	в	г	д