

### 1. Замок для короля Артура

Король Артур завоевал новые территории. Для защиты от врагов и освоения территории нужно построить замок. Король пообещал щедрое вознаграждение тому, кто выберет лучшее место для его строительства. Для обеспечения жизнедеятельности замка в нем, конечно, должен быть колодец. Технологии этого времени позволяют вырыть колодец не глубже 70 метров. Используя картосхему залегания грунтовых вод (рисунок 2) и карту высот местности (рисунок 1), определи, где лучше всего построить замок для короля Артура. Не забывай о стратегическом положении, которое должен занимать замок.

Обозначь на картосхеме (лист ответов) место предполагаемого строения.




Рисунок 1.

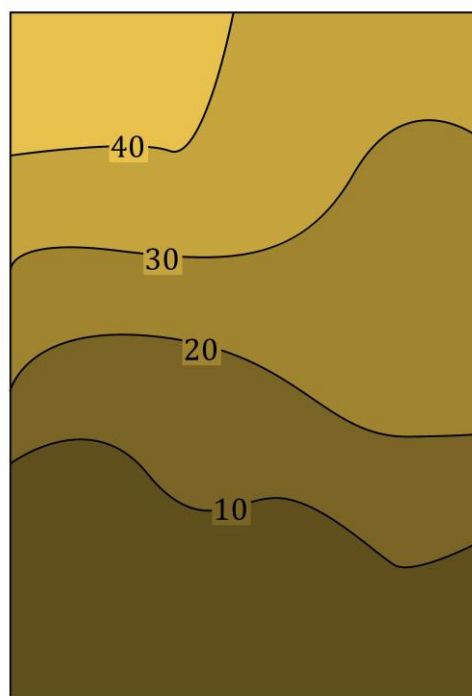


Рисунок 2.

### 2. Регионы мира

Определите, в каких странах находятся административные единицы, к какой языковой группе относится преобладающий язык, на котором говорят их жители. Ответы занесите в таблицу в листе ответов.

### 3. Продолжение логического ряда

Определите признак, по которому сгруппирован каждый логический ряд. Продолжите логические ряды, приведя по каждому из них 1 пример. Запишите признак и пример в таблицу.

### 4. Уровень специализации стран на производстве сельскохозяйственной культуры

Дано:

Сельскохозяйственную культуру «А» производят страны «Х», «У» и «Z»;

Население страны Z в 2 раза больше страны У;

Посевная площадь (га) сельскохозяйственной культуры А в стране X в два раза меньше, чем в стране У;

Урожай страны Z составил 16 млн т;

Посевная площадь страны У в 2 раза меньше чем в стране Z;

Урожайность в стране X в 2 раза больше страны Z;

Население в стране X в 2 раза больше страны Z;

Посевная площадь страны Z столько же млн га сколько население (млн чел.) в стране X;  
Урожайность в стране Y на 10 ц/га меньше страны X.

*Вопрос:* сколько тонн на душу населения производят в всех трех странах, если население страны Y составляет 4 млн человек.

### 5. Дешифрирование аэрофотоснимков

Рассмотрите представленные ниже снимки различных антропогенных объектов, процессов или элементов процесса природопользования. Определите их, результаты укажите в листе ответов.



1.



2.



3.




4.



5.



6.



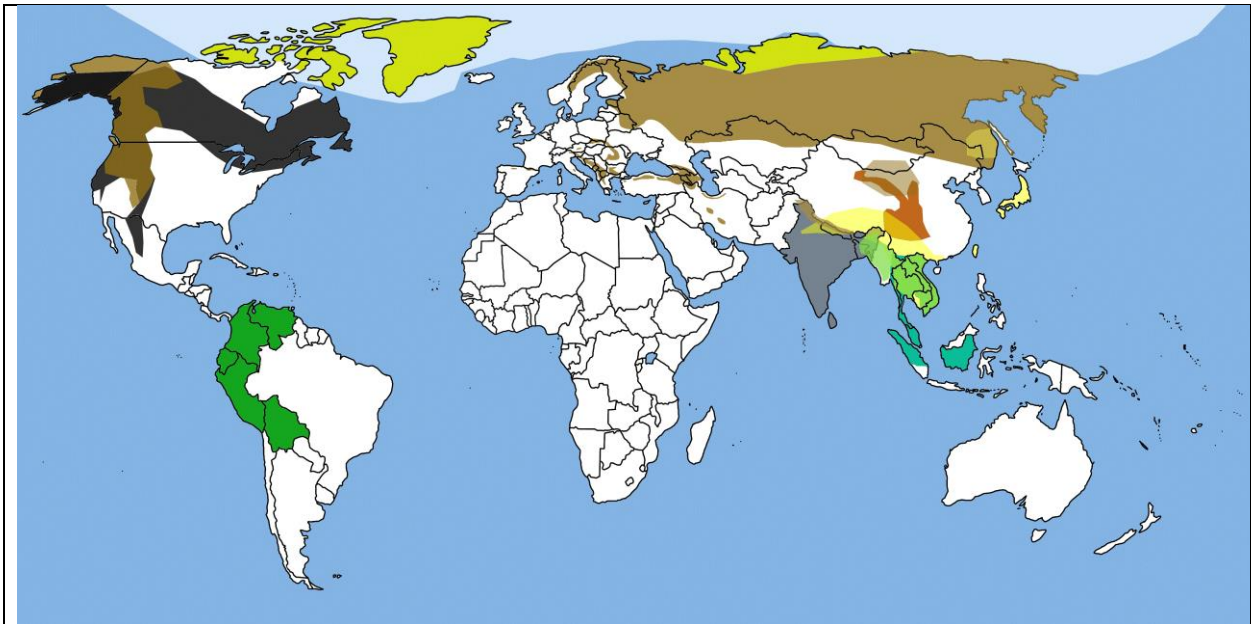
7.



8.

## 6. Немые карты

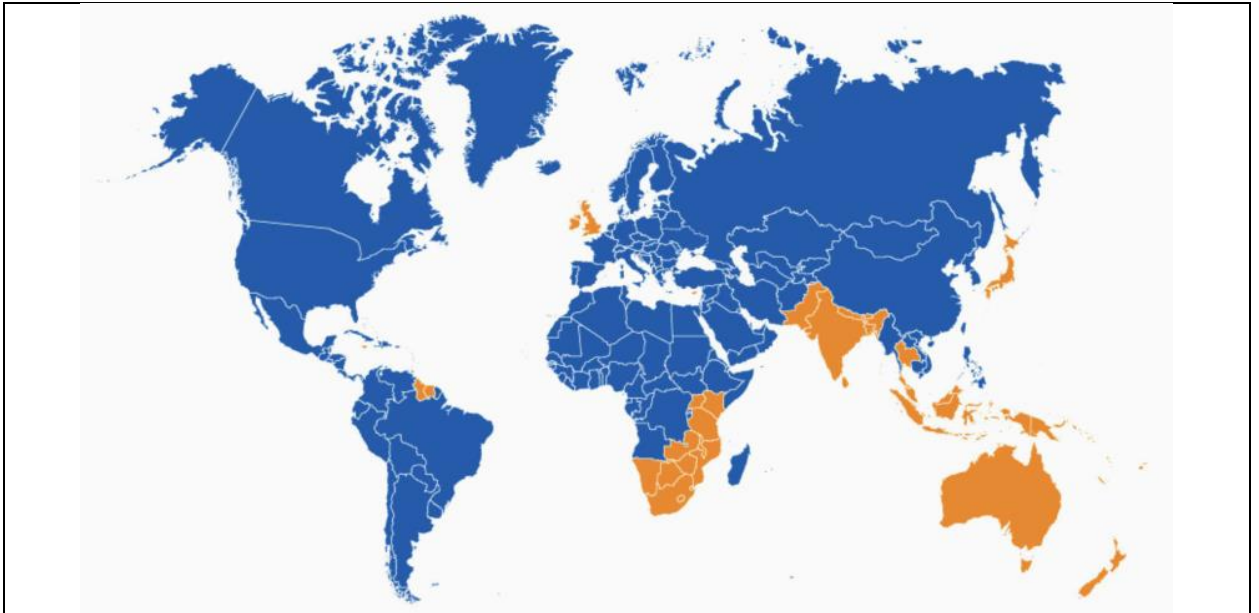
Определите названия карт, представленных ниже, впишите их в таблицу листа ответов.



1.



2.



3.



4.

## 7. Что лишнее?

В каждом ряду присутствует лишнее изображение. Его номер занесите в таблицу листа ответов и обоснуйте свой выбор.


			
1.1	1.2	1.3	1.4
			
Габон			Кения
2.1	2.2	2.3	2.4
			
3.1	3.2	3.3	3.4
			
4.1	4.2	4.3	4.4
			
Кингисепп	Гусев	Светлогорск	Правдинск
5.1	5.2	5.3	5.4

## 8. Постеры Adidas.

Компания Adidas выпустила серию кроссовок, выполненных в стилистике различных городов. Сами кроссовки достаточно тяжело отнести к какому-то городу. Но к кроссовкам прилагаются постеры.

Задача: узнайте 10 городов по постерам, составленным из фирменных полосок Adidas. Определите город. Результаты внесите в лист ответов.












### 9. Эмодзи. Зашифрованные страны


В каждом горизонтальном ряду из трех эмодзи зашифровано название страны. Определите страны и запишите их в лист ответов.


1.			
2.			
3.			
4.			
5.			

6.	
7.	
8.	
9.	
10.	

Фамилия	Имя	Отчество	День рождения	Месяц рождения	Год рождения

### 1. Замок для короля Артура

Для обозначения места предполагаемого строения воспользуйтесь вкладкой «Вставка» и выберите опцию «Фигуры». Выберите фигуру  (или любую другую) и укажите место на картосхеме.



## 2. Регионы мира

Административная единица	Страна	Преобладающий язык	Языковая группа
Западная Фландрия			
Фукусима			
Иссык-Кульская область			
Тироль			
Цзянсу			
Клайпедский уезд			
Арагатская область			
Абу-Даби			
Парана			
Сырдарьинская область			

## 3. Продолжение логического ряда

	Пример	Признак
Тверь, Нижний Новгород, Самара		
Польша, Монголия, Финляндия		
Лагос, Дар-эс-Салам, Санкт-Петербург		
Сараево, Сочи, Солт-Лейк-Сити		
Норильск, Тромсё, Апатиты		
Ханты, венгры, мордва		
Альборан, Тирренское, Ливийское		
Висла, Даугава, Нарва		
Куршская коса, Байкал, Западный Кавказ		
Гурон, Онтарио, Эри		

**4. Уровень специализации стран на производстве сельскохозяйственной культуры**

	<b>X</b>	<b>Y</b>	<b>Z</b>
<b>Производство сельскохозяйственной культуры А, тонн на душу населения</b>			

**5. Дешифрирование аэрофотоснимков**

<b>1.</b>		<b>5.</b>	
<b>2.</b>		<b>6.</b>	
<b>3.</b>		<b>7.</b>	
<b>4.</b>		<b>8.</b>	

**6. Немые карты**

<b>1.</b>	
<b>2.</b>	
<b>3.</b>	
<b>4.</b>	

**7. Что лишнее?**

<b>№ лишнего изображения</b>	<b>Обоснование</b>

**8. Постеры Adidas**

<b>№ афиши</b>	<b>Город</b>
<b>1.</b>	
<b>2.</b>	
<b>3.</b>	
<b>4.</b>	
<b>5.</b>	
<b>6.</b>	
<b>7.</b>	
<b>8.</b>	
<b>9.</b>	
<b>10.</b>	

**9. Эмодзи. Зашифрованные страны**

№ ряда	Страна
1.	
2.	
3.	
4.	
5.	
6.	
7.	
8.	
9.	
10.	