

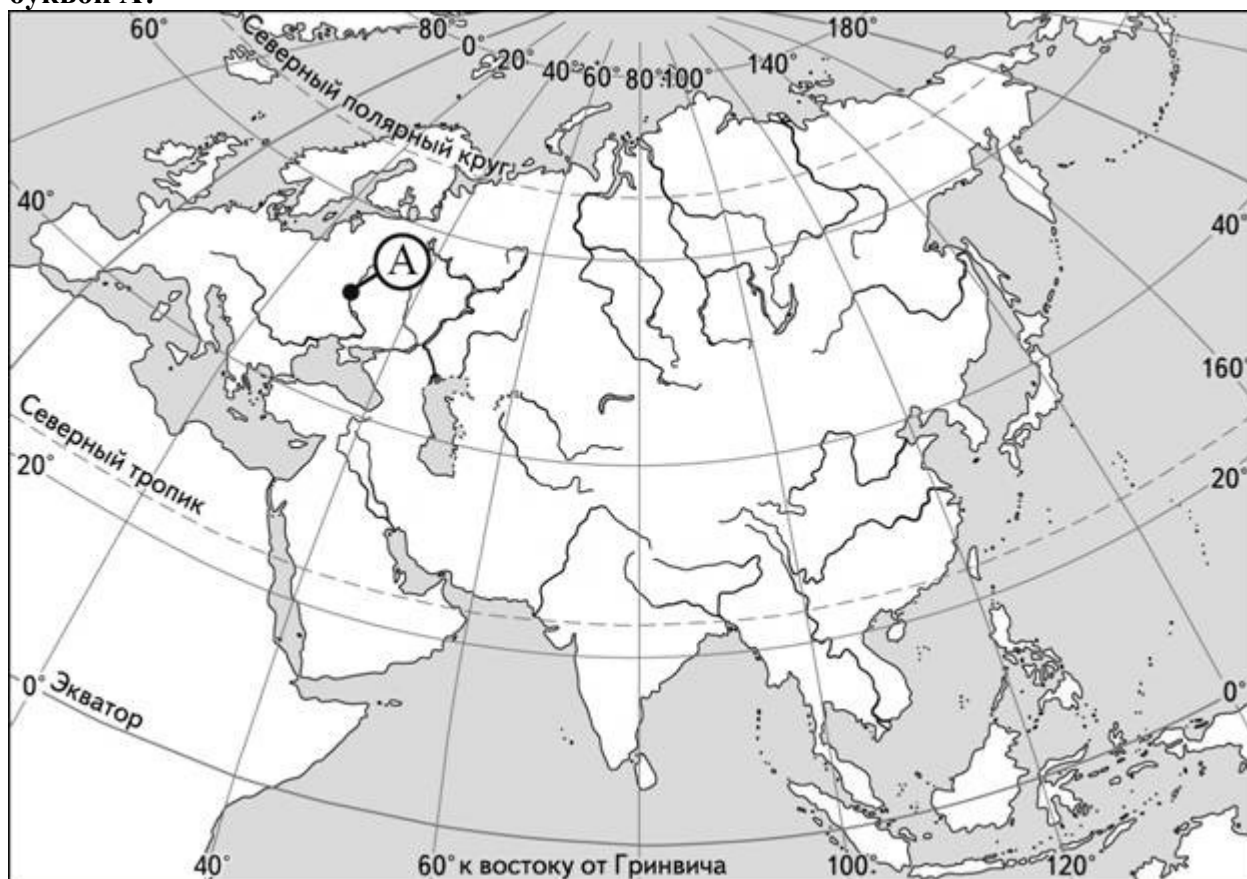
## Вариант теста дистанционного отборочного этапа 2014

Отборочный этап Герценовской олимпиады школьников по географии включает 35 вопросов и заданий из различных разделов школьного курса географии, предполагающих выбор одного или нескольких правильных ответов, формулировку краткого ответа или установление соответствия. Вопросы входят в состав 7 блоков ("Источники географической информации", "Природа мира", "Население мира", "Хозяйство мира", "Страны мира", "География России", «Природопользование»). Каждый правильный ответ оценивается 2 баллами, максимальное количество баллов, которые можно получить за выполнение всех олимпиадных заданий - 70. Время выполнения олимпиадных заданий составляет 40 минут.

### 1. Какой стороне горизонта соответствует азимут $45^\circ$ ?

- Выберите один ответ:
- Северо-запад
- Юго-восток
- Северо-восток
- Юго-запад

### 2. Какие географические координаты имеет точка, обозначенная на карте Евразии буквой А?



Выберите один ответ:

- $30^\circ$  с.ш.  $50^\circ$  в.д.
- $50^\circ$  с.ш.  $30^\circ$  з.д.
- $30^\circ$  с.ш.  $50^\circ$  з.д.
- $50^\circ$  с.ш.  $30^\circ$  в.д.

**3. Ты переместился от Гринвичского меридиана вдоль экватора удаляясь от Африки на 444 км, затем от экватора по меридиану к Тропику Рака на 666 км и оказался в пункте с координатами...**

Выберите один ответ:

- 6° с.ш., 4°з.д.
- 4° ю.ш., 6° з.д.
- 6° ю.ш., 4° з.д.
- 4° с.ш., 6°з.д.

**4. Линии на карте, соединяющие точки с одинаковыми значениями глубин водоемов называются**

Выберите один ответ:

- Изотермы
- Изогиеты
- **Изобаты**
- Изобары

**5. Численный масштаб карты 1:10 000, соответствует именованному масштабу**

Выберите один ответ:

- в 1см – 10000 м.
- в 1см – 1000 м.
- в 1см – 10 м.
- **в 1см – 100 м.**

**6. Прибор, при помощи которого можно определить скорость ветра**

Выберите один ответ:

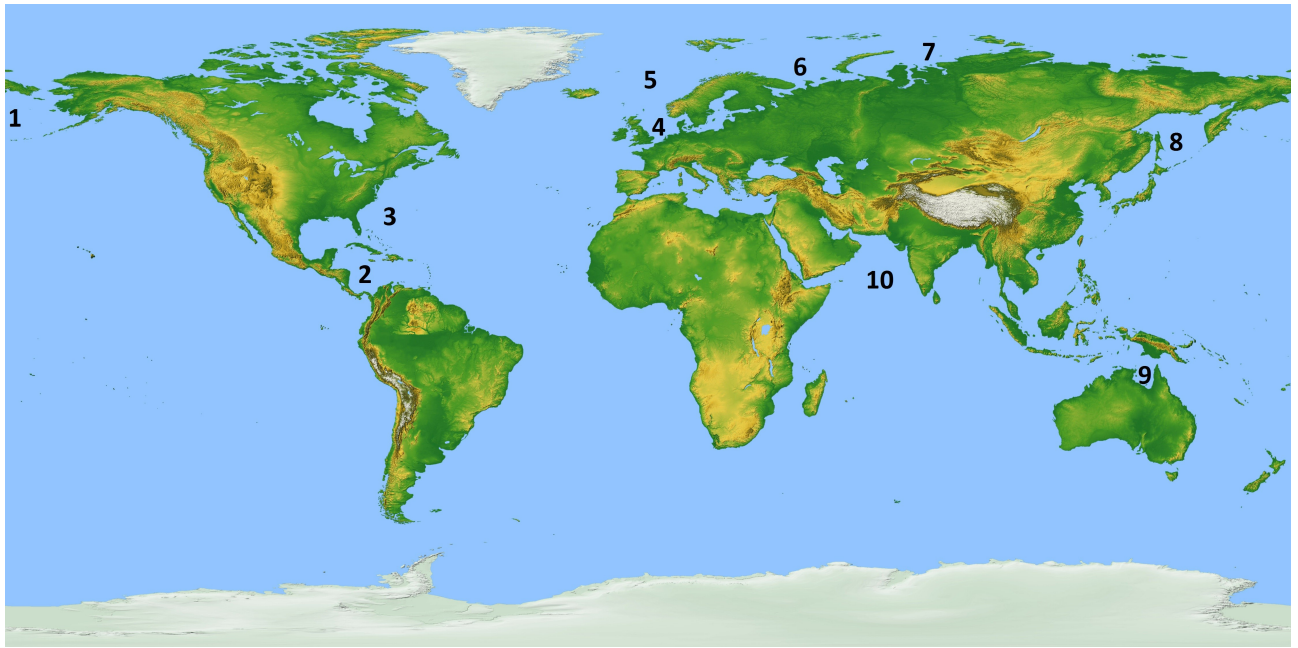
- Термометр
- **Анемометр**
- Психрометр
- Барометр

**7. Выберите два верных утверждения**

Выберите один или несколько ответов:

- a. Атмосферное давление воздуха с высотой повышается
- b. Атмосферное давление воздуха понижается с высотой.**
- c. Атмосферное давление воздуха одинаково на всех широтах.
- d. Нормальное атмосферное давление составляет 780 мм ртутного столба.
- e. Давление воздуха зависит от его температуры.**

**8. Установите соответствие между морем и цифрой на карте обозначающей его положение**



Моря: Саргассово море, Баренцево море, Карибское море, Берингово море, Норвежское море.

**Правильный ответ:** Саргассово море – 3, Баренцево море – 6, Карибское море – 2, Берингово море – 1, Норвежское море – 5

**9. Пользуясь данными таблицы, определите, в каком климатическом поясе находится пункт, каков его тип климата:**

месяц/ признаки	I	II	III	IV	V	VI	VII	VIII	IX	X	XI	XII	Год
t °C	10.3	11.2	12.4	14.2	15.7	19.8	21.1	21.7	20.2	16.8	13.8	11.0	15.7
осадки	92	89	87	66	50	18	4	6	36	83	109	104	744

Выберите один ответ:

- a. умеренный пояс – морской
- b. тропический пояс – континентальный
- c. умеренный пояс – муссонный
- d. субтропический пояс – средиземноморский**
- e. умеренный пояс – умеренно-континентальный
- f. экваториальный пояс — экваториальный

**10. Установи соответствие между формами рельефа и процессами их создавшими**

Дюны	Деятельность ледника
Морены	Деятельность человека
Бараньи лбы	деятельность ветра
Овраги	Деятельность текущих вод
Терриконы	

**Правильный ответ:** Дюны – Деятельность ветра, Морены – Деятельность ледника, Бараньи лбы – Деятельность ледника, Овраги – Деятельность текущих вод, Терриконы – Деятельность человека

**11. Какую высоту в метрах относительно уровня Мирового океана имеет гора V если она на 4555 метров ниже Эвереста? Ответ запишите одним числом.**

**Правильный ответ: 4293**

**12. Для какой из перечисленных стран характерна возрастная структура населения указанная в описании:**

- Доля лиц в возрасте до 15 лет — 44,3 %; лиц в возрасте старше 65 лет — 2,6 %.
- Средний возраст составляет 17,8 лет.
- Средняя продолжительность жизни на 2011 год — 58 лет

Выберите один ответ:

- a. Норвегия
- b. Швейцария
- c. Танзания**
- d. Испания

**13. Выберите три страны входящих в первую десятку стран мира - крупнейших по численности населения**

Выберите один или несколько ответов:

- a. Канада
- b. Корея
- c. Индонезия**
- d. Мексика
- e. Нигерия**
- f. Япония**
- g. Малайзия

**14. В каком из высказываний содержится информация о миграциях населения?**

Выберите один ответ:

- a. Свыше 50% населения Земли проживает в Азии. Это самый населённый регион мира.
- b. К началу 2000 г. численность лиц старше трудоспособного возраста в России впервые превысила численность детей и подростков до 16 лет.
- c. В России насчитывается более 18 тыс. сельских населённых пунктов, а городов – более тысячи.
- d. За 90-е гг. XX в. отток населения из Дальневосточного региона превысил 840 тыс. человек (11% всех жителей)**

**15. Потомков межрасовых браков между монголоидами и негроидами называют**

Выберите один ответ:

- a. Мулаты
- b. Креолы
- c. Метисы
- d. Самбо**

**16. Большинство верующих какого из перечисленных народов исповедуют индуизм?**

Выберите один ответ:

- a. Пакистанцы
- b. Бангладешцы
- c. Непальцы**
- d. Китайцы

**17. Какие три из перечисленных стран являются крупнейшими производителями и экспортёрами легковых автомобилей?**

Выберите один или несколько ответов:

- a. Германия**
- b. Турция

- c. Япония
- d. Швеция
- e. Польша
- f. Китай

**18. В каком из следующих утверждений содержится информация о проявлении международной экономической интеграции?**

Выберите один ответ:

- a. К группе наименее развитых стран относится около 40 стран с общим населением более 600 млн человек и среднедушевым ВВП 100–300 долл. в год.
- b. 12 стран входят в состав ОПЕК, целью которой является координация деятельности и выработка общей политики в отношении добычи нефти.
- c. В последние два-три десятилетия в США, Японии и странах Западной Европы развитие чёрной и цветной металлургии резко замедлилось.
- d. Наиболее компактную группу стран с отчётливо выраженной индустриальной структурой хозяйства образуют некоторые страны Восточной Европы и Ближнего Зарубежья.

**19. Какие три из перечисленных стран являются крупными производителями и экспортёрами апельсинов?**

Выберите один или несколько ответов:

- a. Португалия
- b. Испания
- c. Грузия
- d. США
- e. Куба
- f. Бразилия

**20. Выберите из списка развивающихся стран три государства которые относятся к группе беднейших стран**

Выберите один или несколько ответов:

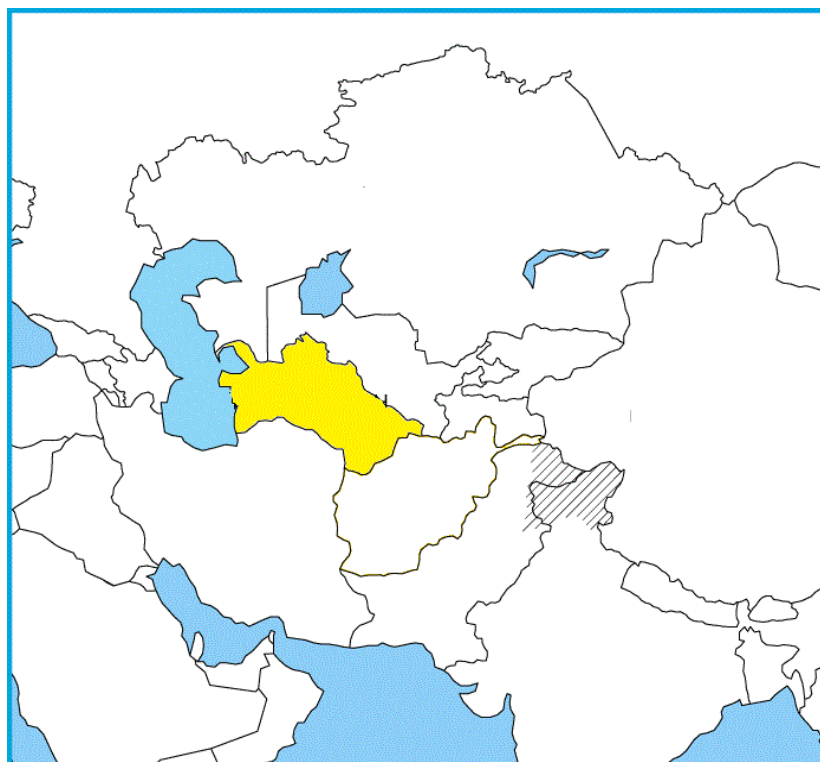
- a. Бразилия
- b. Афганистан
- c. Индия
- d. Бангладеш
- e. Бутан
- f. Мексика

**21. Установите соответствие между туристическими местами и странами в которых они расположены**

Петра	Израиль
Гоа	Индия
Шарм-эль-Шейх	Египет
Эйлат	Иордания

**Правильный ответ:** Петра – Иордания, Гоа – Индия, Шарм-эль-Шейх – Египет, Эйлат – Израиль

**22. Назовите столицу государства, выделенного на карте желтым цветом**



Выберите один ответ:

- a. Бишкек
- b. Душанбе
- c. Алма-Ата
- d. Ташкент
- e. Ашхабад

**23. Определи по описанию о каком государстве идет речь:**

"Индуизм является доминирующей религией в этом государстве Южной Азии. По уровню развития это государство относится к беднейшим и пополняет бюджет преимущественно за счет развития туризма и выпуска почтовых марок. Почти двести лет государство было в зависимости от Великобритании и лишь в 1951 году вновь обрело независимость. До 2008 г. страна была конституционной монархией, в настоящее время - республика."

Впиши название государства: \_\_\_\_\_

**Правильный ответ:** Непал

**24. Установите соответствие между названием государства и его столицей**

Парагвай	Дакка
Бангладеш	Асунсьон
Южный Судан	Джуба
Мьянма	Нейпидо

**Правильный ответ:** Парагвай – Асунсьон, Бангладеш – Дакка, Южный Судан – Джуба, Мьянма – Нейпидо

**25. Из перечисленных стран, в двух частях света находятся**

Выберите один или несколько ответов:

- a. Марокко
- b. Египет
- c. Казахстан
- d. Украина

е. Бразилия

**26. Выбери государства, которые являются монархиями**

Выберите один или несколько ответов:

a. Испания

b. Марокко

c. Монако

d. Италия

e. Македония

f. Малайзия

g. Греция

**27. Установите соответствие между горными системами и цифрой на карте показывающей их расположение**

Горы:

- горы Саяны

- Яблонный хребет

- Становой хребет

- Становое нагорье



**Правильный ответ:** горы Саяны – 14, Яблонный хребет – 12, Становой хребет – 10, Становое нагорье – 11

**28. Определи по описанию о каком субъекте Российской Федерации идет речь:**

"Эта область выходит к одному из морей Тихого океана. Территория области расположена в области мезозойской складчатости. Областной центр - важнейший морской порт области. Отличительными особенностями области являются:

- отсутствие железных дорог;
- самый высокий уровень урбанизации в РФ;
- главные минеральные богатства - руды олова и золота"

Впиши название субъекта РФ: \_\_\_\_\_

**Правильный ответ:** Магаданская область

**29. Какой из перечисленных городов России самый восточный?**

Выберите один ответ:

a. Новосибирск

**b. Томск**

c. Тюмень

d. Омск

**30. Установите соответствие между городами России и реками на которых они расположены**

Абакан	Волхов
Великий Новгород	Енисей
Иркутск	Ангара
Улан-Удэ	Селенга

**Правильный ответ:** Абакан – Енисей, Великий Новгород – Волхов, Иркутск – Ангара, Улан-Удэ – Селенга

**31. Установите соответствие между названием республики в составе России и ее столицей**

Республика Калмыкия	Саранск
Республика Адыгея	Элиста
Республика Ингушетия	Магас
Республика Мордовия	Майкоп

Правильный ответ: Республика Калмыкия – Элиста, Республика Адыгея – Майкоп, Республика Ингушетия – Магас, Республика Мордовия – Саранск

**32. Группа студентов из Санкт-Петербурга занимается изучением экосистем морских побережий. Какой из перечисленных заповедников им необходимо посетить для изучения прибрежных акваторий Берингова моря?**

Выберите один ответ:

a. Дальневосточный морской

b. Командорский

**c. Кандалакшский**

d. Магаданский

**33. Установите соответствие между мероприятием по улучшению качества почв и его названием.**

- пашня, оставляющаяся без посева с целью очищения почвы от сорняков и накопления



питательных веществ

- ежегодное научно обоснованное чередование сельскохозяйственных культур, с целью восстановления плодородия почвы
- посев трав с целью повышения плодородия сельскохозяйственных угодий и для борьбы с эрозией
- система мер по улучшению качества почв

Севооборот  
Пар  
Мелиорация  
Залуживание

**Правильный ответ:** пашня, оставляющаяся без посева с целью очищения почвы от сорняков и накопления питательных веществ – **пар**, ежегодное научно обоснованное чередование сельскохозяйственных культур, с целью восстановления плодородия почвы – **севооборот**, посев трав с целью повышения плодородия сельскохозяйственных угодий и для борьбы с эрозией – **залуживание**, система мер по улучшению качества почв – **мелиорация**.

**34. Используя таблицу, сравните обеспеченность стран пресной водой. Расположите страны в порядке уменьшения ресурсообеспеченности.**

Страна	Ресурсы пресной воды, (км.3 )	Численность населения, (млн. чел.)
Венесуэла	1320	28
Канада	2900	33
Индия	2085	1132

Канада -

Индия -

Венесуэла -

**Правильный ответ:** Канада – **1**, Индия – **3**, Венесуэла – **2**.

**35. Установите соответствие между видами и характером природопользования**

- Создание системы особо охраняемых природных территорий
- Избыточное орошение в засушливых районах
- Создание лесополос в степных районах
- Рубка и заготовка леса по долинам рек
- Проведение снегозадержания на полях в зимнее время

Рациональное  
Нерациональное

**Правильный ответ:** Создание системы особо охраняемых природных территорий – **Рациональное**, избыточное орошение в засушливых районах – **Нерациональное**, Создание лесополос в степных районах – **Рациональное**, Рубка и заготовка леса по долинам рек – **Нерациональное**, Проведение снегозадержания на полях в зимнее время – **Рациональное**.