

## ВАРИАНТ 1

1. Выберите из перечисленных ТРИ события, которые происходили в период правления Ярослава Мудрого. (Правильный ответ — 6 баллов).

- Великая хартия вольностей
- Битва при Гастингсе
- «Русская Правда»
- Создание «Повести временных лет»
- Строительство собора Святой Софии в Киеве
- Основание города Юрьева (Тарту)

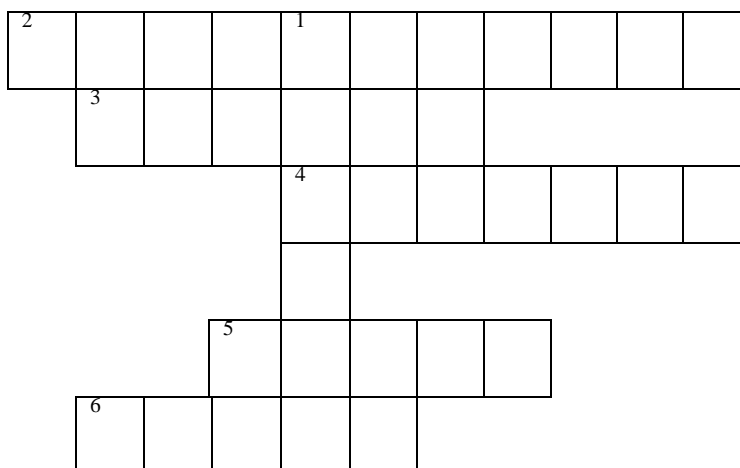
2. В научных исторических текстах часто используются аббревиатуры, т. е. слова, образованные из первых букв единиц в словосочетании, из начальных частей двух и более слов или представляющее собою сложение начала одного слова с другим словом словосочетания. Расшифруйте приведенную аббревиатуру (Правильный ответ — 4 балла).

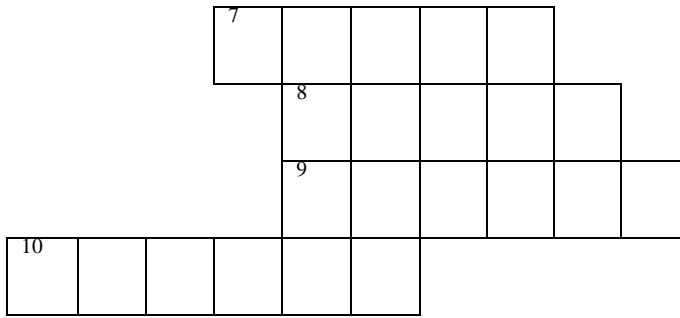
**ЦМиАР** — хранилище коллекции шедевров древнерусской иконописи и памятников декоративно-прикладного искусства XIII–XVII веков, основанное в стенах одного из старейших московских монастырей, в том числе для сохранения памяти о похороненном здесь великом русском иконописце, именем которого оно и названо.

3. Замените выделенный курсивом фрагмент текста историческим термином (правильный ответ — 4 балла)

*Первый военный поход на Ближний Восток, организованный католической церковью для борьбы против «неверных»,* начался в 1096 году. В результате этого похода был захвачен Иерусалим, где власть получил Готфрид Бульонский.

4. Разгадайте исторический кроссворд (правильный ответ — 10 баллов)





**По вертикали:**

1. Древнегреческий философ, живший в IV в. до н.э., ученик Платона, воспитатель Александра Македонского.

**По горизонтали:**


2. Квалифицированный ремесленник в средневековых цехах, закончивший ученичество, но еще не ставший самостоятельным мастером.
3. Государство в Древней Греции, в области Лакония на юге полуострова Пелопоннес.
4. Монахи, члены мужского духовного ордена Римско-католической церкви, основанного Игнатием Лойолой в XVI веке.
5. Первый император Священной Римской Империи.
6. Укрепленное жилище феодала.
7. Фамилия автора 95 тезисов, инициатора Реформации.
8. Египетский фараон, строитель самой высокой пирамиды.
9. Поэма Гомера, рассказывающая об осаде города Трои.
10. Диктатор Римской республики, перешедший Рубикон и убитый на мартовские иды.



**5. Заполните пробелы в тексте (при вводе ответа учитывайте число и падеж в соответствии с правилами русского языка, имена собственные пишутся с заглавной буквы). Ответы занесите в таблицу в виде перечня слов, заменённых в тексте соответствующими номерами (правильный ответ — 7 баллов).**

Когда Карл Великий провозгласил себя императором франков, на Востоке это восприняли как большую дерзость, ведь единственным государем, который имел право на императорский титул, был ромейский василевс. Однако в то время [1] империя переживала очень трудные времена и не могла препятствовать амбициям Карла. С одной стороны на империю наступали [2], принявшие новую религию — [3], с другой — ее сотрясали внутренние распри между иконопочитателями и [4].

Во второй половине [5] века империя навсегда потеряла Сирию, Палестину, Египет и северную Африку, уступив их новым завоевателям. Теперь они постоянно вторгаются и на территорию Малой Азии, где, угрожая империи все больше, атакуют острова в Средиземном море. Остановить их натиск смог только правитель по имени Лев III [6]. Он был незнатного происхождения, однако сумел добыть себе славу на полях сражений и прослыл искусным полководцем. Не успел он еще вступить на престол, как завоеватели-неофиты осадили саму имперскую столицу. Однако, в результате решительных действий Льва III на море и применения очень мощного в то время оружия греческого [7] — горючей жидкости, которая под давлением выбрасывалась из особых трубок на корабли неприятеля, захватчики были вынуждены отступить и еще долго не могли отправиться от понесенного поражения. Победы императора отвели опасность завоевания иноверцами, которая нависла в то время над Малой Азией.

**6. Установите соответствие между изображениями картин и художниками. Запишите цифры, которыми обозначены правильные ответы, в таблицу (правильный ответ — 12 баллов).**

А		1	Эль Греко
Б		2	Рембрандт

В		3	Тициан
Г		4	Леонардо да Винчи

7. Вопрос по изображению «Б». Укажите музей, в котором экспонируется данная картина (*правильный ответ — 4 балла*)

8. Вопросы по изображению «Г» (*правильный ответ — 6 баллов*):

- 1) Назовите имя римского императора, при котором жил человек, изображенный на картине.
- 2) В каком веке была написана картина?
- 3) В какой книге впервые был изложен сюжет, послуживший основой для этой картины?

9. Установите соответствие между именами авторов произведения и названиями произведений. Ответ занесите в таблицу (*правильный ответ — 5 баллов*)

А	«Медея»	1	Эсхил
Б	«Семеро против Фив»	2	Софокл
В	«Царь Эдип»	3	Аристофан
Г	«Лягушки»	4	Еврипид
Д	«Одиссея»	5	Гомер

10. Используя свои знания и смекалку, ответьте на вопрос (*правильный ответ — 6 баллов*)

В раннесредневековой поэзии германских народов существовал особый художественный прием: некоторые слова не назывались прямо, а зашифровывались метафорическим определением, состоящим из двух частей. Например, море именовалось «твердью тюленей», мужчина «ясенем битвы», а женщина «сосной ожерелий». Одна из известнейших англосаксонских поэм имеет название, придуманное подобным образом, по имени ее главного героя, который зашифрован как «пчелиный волк» или «волк пчел». **Каким было название этой поэмы? Приведите его.**

11. Историческая память о том или ином событии или личности находит свое отражение в топонимике. В классификации топонимов выделяют урбанонимы — названия различных внутригородских объектов. **Объясните исторический смысл нескольких урбанонимов Москвы (*правильный ответ — 6 баллов*)**

*Гранатная улица, Большая Бронная улица, Кузнецкий мост.* **Объясните, в связи с чем появились эти названия?**

12. Перед Вами 5 слов и выражений или имен, относящихся к одному историческому событию, явлению или периоду. Вам необходимо указать это событие (явление или период) и обозначить правителя (указав годы его правления), при котором это событие или явление происходило (*правильный ответ — 6 баллов*).

*Богослужбные книги, патриарх, Соловецкий монастырь, исправление, «старое благочестие».*

13. Все слова, кроме одного, можно отнести к одному классу. Найдите лишнее слово. Объясните Ваш выбор. К какому классу относится лишнее слово? (*правильный ответ — 6 баллов*)

*ендова, братина, корчага, садник, черепушка.*

14. Перед Вами портрет, написанный неизвестным художником. Ответьте на вопросы. (*Правильный ответ — 6 баллов*)

1. Кого изобразил художник? Укажите имя и фамилию этого человека. 2. С каким видом деятельности он совмещал творческую деятельность? 3. Назовите его самое известное произведение.



15. Перед вами три изображения, свидетельствующие о сохранении исторической памяти об известном средневековом путешественнике. Совсем недавно памятник были установлены в двух городах Китая и столице Монголии. Более скромный бюст украшает один из знаменитых парков в Италии. **Ответьте на вопросы. (Правильный ответ — 12 баллов)**



1. Назовите этого путешественника. 2. Объясните, кем он был по основному роду занятий и чем прославился. 3. Почему памятники были установлены в этих трех государствах? 4. В каких регионах нашей страны соотечественники этого путешественника основывали свои колонии?

2) Это венецианский купец, который совершил путешествие в восточные страны и рассказал о нем в «Книге о разнообразии мира»

3) В Италии Марко Поло родился, жил и умер. В Китае, который в то время был завоеван монголами и стал частью Монгольской империи, он прожил семнадцать лет, будучи на службе у хана Хубилая, побывал в различных городах (в том числе в столице Монголии — Каракоруме) и описал его в своей книге.

4) Крым, Причерноморье, Приазовье.



## ВАРИАНТ 2

1. Выберите из перечисленных ТРИ понятия или термина, которые связаны с периодом правления Гая Юлия Цезаря. (Правильный ответ — 6 баллов).

- Галльская война
- Взятие Константинополя
- Первая экспедиция римлян в Британию
- Учреждение выборного суда
- Битва при Диррахии
- Выдача индульгенций

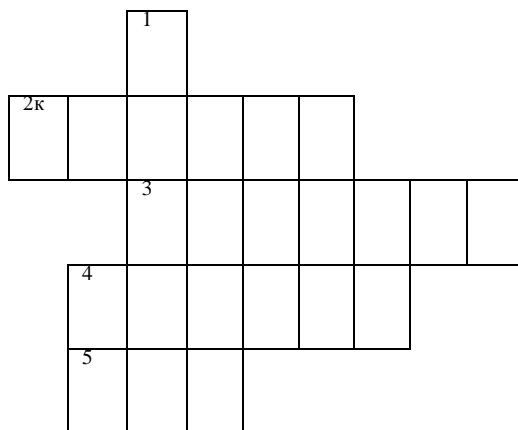
2. В научных исторических текстах часто используются аббревиатуры, т. е. слова, образованные из первых букв единиц в словосочетании, из начальных частей двух и более слов или представляющее собою сложение начала одного слова с другим словом словосочетания. Расшифруйте приведенную аббревиатуру (Правильный ответ — 5 баллов).

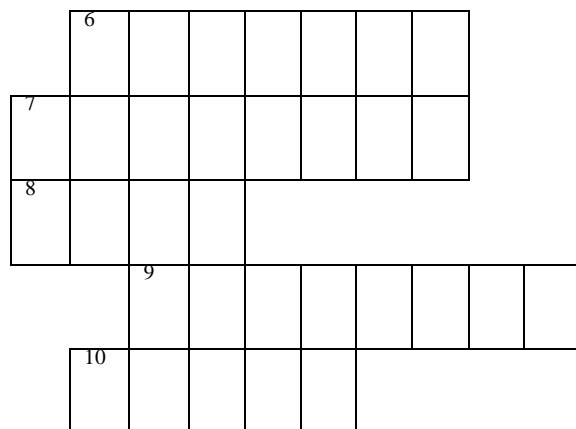
**РГБ** — такова аббревиатура названия одного из крупнейших книгохранилищ мира, собрания, находящегося в ряду наиболее значимых по величине фондов в России. Находится это научное учреждение в Москве, а его неофициальное название — «Ленинка».

3. Замените выделенный курсивом фрагмент текста историческим именем (правильный ответ — 4 балла)

Древние обитатели Халдеи верили в духов и прибегали к магическим обрядам. Семитские народы принесли сюда собственные верования в виде многобожия, однако отчасти восприняли и верования местных туземцев, главными божествами которых были Бел и *богиня земного плодородия*. Также они поклонялись нескольким планетам, которые носили имена богов.

4. Разгадайте исторический кроссворд (правильный ответ — 10 баллов)





**По вертикали:**

1) С именем этой ассирийской царицы связывают одно из семи чудес света, знаменитые сады.

**По горизонтали:**

- 2) Персидский царь, приказавший высечь море.
- 3) Система наследования, при которой земельное владение переходит к старшему сыну или старшему в роде.
4. Имя английского короля, получившего прозвище «Львиное сердце».
- 5) Один из высших титулов в иерархии средневековой Скандинавии, а также само сословие знати.
6. Имя султана Египта и Сирии, в русской и западной традиции известного по его лакабу «благочестие веры» — почетному прозвищу. Разбил крестоносцев в битве при Хаттине.
7. Член Ордена бедных рыцарей Иерусалимского храма, храмовник.
8. Имя рода первого императора Рима.
- 9) Десятая часть дохода, которую население должно было выплачивать в пользу церкви.
10. Орлеанская дева.



**5. Заполните пробелы в тексте (при вводе ответа учитывайте число и падеж в соответствии с правилами русского языка, имена собственные пишутся с заглавной буквы). Ответы занесите в таблицу в виде перечня слов, заменённых в тексте соответствующими номерами. (Правильный ответ — 7 баллов).**

Период расцвета Греции закончился в результате внутренней войны, продолжавшейся, хоть и с перерывами, в течение долгих двадцати семи лет. Соперниками в этой войне, происходившей в [1] веке до н.э., стали Афины и Спарта, два крупнейших города-государства, которые в Греции получили наименование [2], а также их союзники. В первый период войны Афины пытались противостоять Спарте на море, а спартанские войска под командованием царя Архидама несколько раз вторгались на территорию [3],

плодородной области в средней Греции, центром которой были Афины. Практически всё ее население в то время скопилось в Афинах. Беженцы жили на площадях, в храмах и даже в канализационных трубах. В городе вспыхнула эпидемия, продолжавшаяся почти три года и унесшая множество жизней; погиб от нее и лидер Афин, реформатор по имени [4]. Афинам пришлось нелегко, но и Спарта, которую периодически сотрясали восстания государственных рабов — [5], тоже была сильно истощена войной. Противники заключили временный мир, но затем война возобновилась. Воспользовавшись тем, что силы Афин были отвлечены на масштабный военно-морской поход к острову [6] у берегов Италии, Спарта нарушила мир, заняла город Декелею и получила контроль над всей афинской равниной. На помощь Спарте пришел также давний враг Греции, государство [7], предоставившее Спарте существенную финансовую поддержку. В решающем бою афинский флот был разбит. Победа не принесла успеха Спарте, вскоре оказавшийся безвозвратным кризис охватил всё греческое общество.

**6. Установите соответствие между картиной и фамилией художника. Запишите цифры, которыми обозначены правильные ответы, в таблицу (правильный ответ — 12 баллов).**

А		1	Боттичелли
---	--	---	------------

<p><b>Б</b></p>		<p><b>2</b></p>	<p><b>Вермеер</b></p>
<p><b>В</b></p>		<p><b>3</b></p>	<p><b>Рафаэль</b></p>

Г		4	Веласкес
---	---	---	----------

7. Вопрос по изображению «А». В каком музее данная картина находится в постоянной экспозиции? (*Правильный ответ — 4 балла*)

8. Вопросы по изображению «Б» (*правильный ответ — 6 баллов*):

- 1) Назовите имя святого, изображенного на картине.
- 2) Какой монашеский орден связан с его именем?
- 3) Он проповедовал в Лангедоке во время походов против этих еретиков, назовите их.

9. Установите соответствие между именами авторов произведений и названиями произведений. Ответ занесите в таблицу (*правильный ответ — 5 баллов*)

А	«Заговор Катилины»	1	Марк Порций Катон
Б	«Сравнительные жизнеописания»	2	Гай Саллюстий Крисп
В	«Энеида»	3	Плутарх
Г	«Сильвы»	4	Вергилий
Д	«Начала»	5	Стаций

**10.** Русское слово «царь» происходит от латинского слова Caesar (цезарь). В России первым царем в 1547 году стал Иван IV. Такой титул носили все российские правители вплоть до 1721 года. Они были представителями нескольких правящих династий и прославились многими делами и свершениями. **Используя свои знания и смекалку, ответьте на вопрос (правильный ответ — 6 баллов)**

В русской истории были два «царя», которые так ни разу и не выполнили своих функций, назовите их.

**11.** Историческая память о том или ином событии или личности находит свое отражение в топонимике. В классификации топонимов выделяют урбанонимы — названия различных внутригородских объектов. **Объясните исторический смысл нескольких урбанонимов Санкт-Петербурга (правильный ответ — 6 баллов).**

*Семеновский плац, Измайловский проспект, Преображенская площадь.* Почему появились эти названия?

**12.** Перед Вами 5 слов и выражений или имен, относящихся к одному историческому событию, явлению или периоду. Вам необходимо указать это событие (явление или период) и назвать царя (указав годы его правления), при котором это событие или явление происходило (*правильный ответ — 6 баллов*).

*Дон, поход за зипунами, Астрахань, казаки, голытьба.*

**13.** Все слова, кроме одного, можно отнести к одному классу. Найдите лишнее слово. Объясните Ваш выбор. К какому классу относится лишнее слово? (*правильный ответ — 6 баллов*)

*Стилет, каннелюра, катана, эскадрон, фальшон.*


**14.** Перед Вами портрет, написанный Сандро Боттичелли. Ответьте на вопросы.

1) Кого изобразил художник? Укажите имя и фамилию этого человека. 2) В каком он городе родился? 3) Назовите два его самых известных произведения (*правильный ответ — 6 баллов*)



15. Перед вами три фотографии, свидетельствующие о сохранении памяти о свершениях знаменитого императора и о нём самом. Памятники созданы как при жизни императора, так и после его смерти: это триумфальная арка в Риме, колонна в Стамбуле, а также памятник императору и его матери в Нижнем Новгороде. **Ответьте на вопросы.** (Правильный ответ — 12 баллов)





- 1) Назовите этого императора.
- 2) Почему арка императора и его колонна установлены в Риме и в Стамбуле?
- 3) Какова была политика императора по отношению к христианам?
- 4) Чем была известна мать императора?