

4.2. Расположите моря(заливы) в порядке от самого северного к самому южному (за каждое правильное расположение относительно друг друга на земной поверхности присуждается 1 балл).

- север
1. Белое море
 2. Залив Аляска
 3. Японское море
 4. Карибское море
 5. Тасманово море
- юг

Задание 5 (максимум 20 баллов)

Рассмотрите герб города и ответьте на вопросы (за каждый правильный ответ присуждается 4 балла).

- 5.1. Назовите город, административный центр одного из субъектов РФ в Центральной России, герб которого представлен на картинке.
- 5.2. Какая отрасль специализации промышленности исторически связана с этим городом?
- 5.3. С середины XIX в. искомый город получил прозвище «Русский» в честь одного из английских городов, который в то время был всемирно известен как ведущий центр производства в данной отрасли. Назовите его.
- 5.4. Городом-побратимом данного города в Польше является город, также имевший широкую известность как центр данной отрасли промышленности в Российской империи. Назовите его.
- 5.5. Укажите какое название носил этот город до 1932 г.



- Ответы:
- 5.1. город Иваново
 - 5.2. текстильная промышленность
 - 5.3. Манчестер
 - 5.4. город Лодзь
 - 5.5. город Иваново-Вознесенск

Шифр:

**ПИСЬМЕННАЯ РАБОТА УЧАСТНИКА
ОЛИМПИАДЫ ШКОЛЬНИКОВ СПбГУ
2017–2018**

заключительный этап

Предмет (комплекс предметов) Олимпиады **ГЕОГРАФИЯ (06-08 класс)**

Город, в котором проводится Олимпиада _____

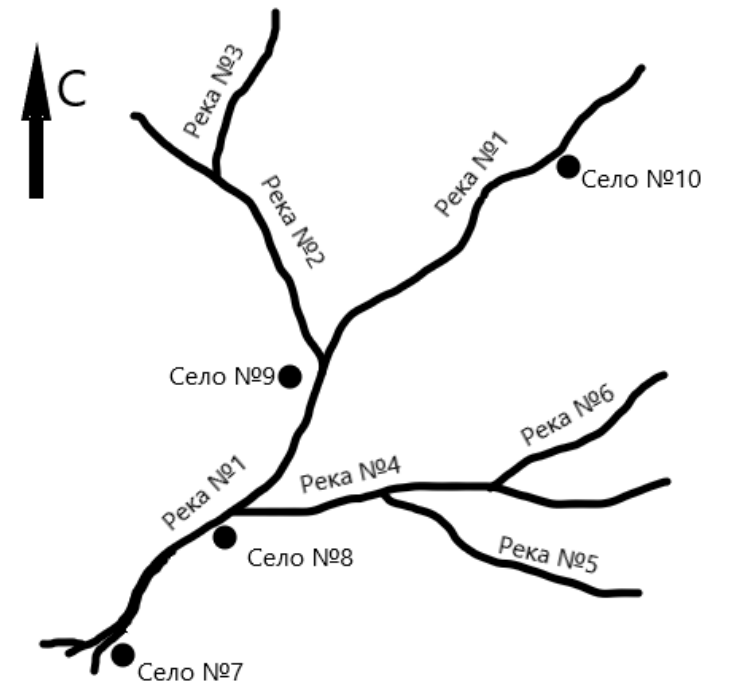
Дата _____

Вариант 1

Задание 1 (максимум 20 баллов)

Внимательно прочитайте описания и сопоставьте номера объектов с их названиями (каждый правильный ответ оценивается в 2 балла)

1. Река Злыня имеет только один приток;
2. Реки Косиновка, Песчанка и Томянка являются левыми притоками;
3. Село Болотино находится ближе всех к истоку реки Шумной;
4. Сёла Болотино, Разливино и Низкое находятся на левом берегу реки Шумной;
5. Село Низкое имеет наименьшую абсолютную высоту над уровнем моря;
6. Реки Жалейка и Песчанка – притоки реки Косиновки;
7. Село Заверть расположено в месте слияния рек Злыни и Шумной;
8. Село Болотино расположено восточнее села Заверть;
9. Сёла Заверть и Разливино расположены в среднем течении реки Шумной;
10. Село Разливино расположено вблизи устья реки Косиновки.

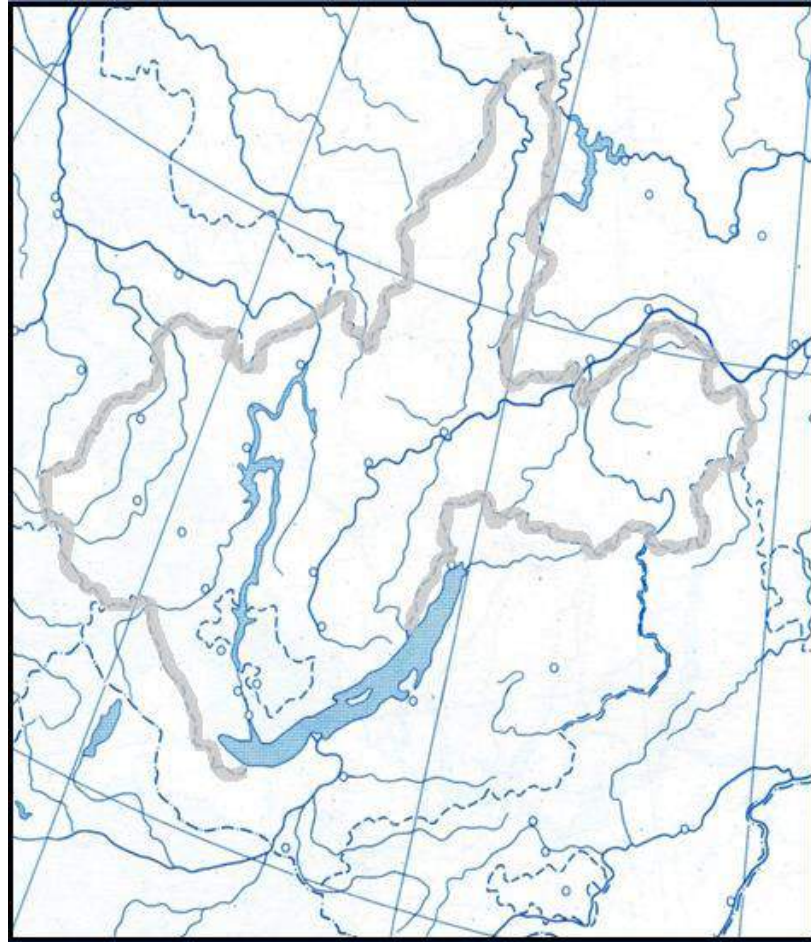


- Ответы:
- | | |
|--------------------------|--------------------------|
| Река №1 <u>Шумная</u> | Река №6 <u>Жалейка</u> |
| Река №2 <u>Злыня</u> | Село №7 <u>Низкое</u> |
| Река №3 <u>Томянка</u> | Село №8 <u>Разливино</u> |
| Река №4 <u>Косиновка</u> | Село №9 <u>Заверть</u> |
| Река №5 <u>Песчанка</u> | Село №10 <u>Болотино</u> |

Задание 2 (максимум 20 баллов)

2.1. Подберите верные значения координат крайних точек региона, обозначенного на контурной карте, из перечисленных ниже (максимум 8 баллов). Впишите их в таблицу (1 балл) и отметьте на карте (1 балл за правильное оформление на карте).

51° с.ш.; 64° с.ш.; 53° с.ш.; 58° с.ш.
119° в.д.; 104° в.д.; 108° в.д.; 96° в.д.



крайние точки	координаты по широте	координаты по долготе
Северная	64° с.ш.	108° в.д.
Южная	51° с.ш.	104° в.д.
Западная	53° с.ш.	96° в.д.
Восточная	58° с.ш.	119° в.д.

2.2. Подпишите на контурной карте значения всех координатных линий (максимум 4 балла +1 балл за правильное оформление на карте). Следует подписать как минимум 2 параллели (50°, 60° с.ш.) и минимум 2 меридиана (из 100°, 110°, 120° в.д.)

2.3. По очертаниям и координатам узнайте и назовите административно-территориальную единицу (5 баллов) _____ Иркутская область

Задание 3 (максимум 20 баллов)

Поезд Москва — Владивосток

Поезд Москва — Владивосток отправился от перрона Ярославского вокзала в 00 часов 35 минут. За время пути он сделал 150 остановок на станциях и вокзалах различных городов страны, пересек десятки больших и малых рек, и через 6 суток 23 часа прибыл в город Владивосток.

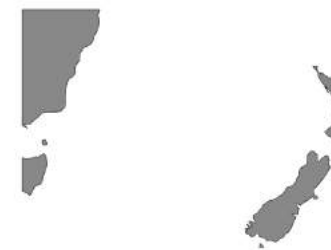
Расставьте приведенные ниже географические объекты в порядке следования поезда: озеро Байкал; город Галич; город Кунгур; ж/д станция Ерофей Павлович; город Зима; город Екатеринбург; Яблоновый хребет; город Лесозаводск; река Иртыш; город Канск (за каждый правильно поставленный в последовательность объект присуждается 2 балла)

1. город Галич	6. город Зима
2. город Кунгур	7. озеро Байкал
3. город Екатеринбург	8. Яблоновый хребет
4. река Иртыш	9. ж/д ст. Ерофей Павлович
5. город Канск	10. город Лесозаводск

Задание 4 (максимум 20 баллов)

4.1. Перед вами очертания морей (заливов). Напишите их названия (за каждое правильно названное море (залив) присуждается 3 балла).

Уточнение: проекция Меркатора, север сверху. Указать нужно название водоёма, занимающего наибольшую часть картинки.



4.1. _____ Тасманово море



4.2. _____ Залив Аляска



4.3. _____ Карибское море



4.4. _____ Белое море



4.5. _____ Японское море

4.2. Расположите моря(заливы) в порядке от самого северного к самому южному (за каждое правильное расположение относительно друг друга на земной поверхности присуждается 1 балл).

север

1. ___ море Бофорта _____
2. ___ Гудзонов залив _____
3. ___ Персидский залив _____
4. ___ Андаманское море _____
5. ___ море Сулавеси _____

юг

Задание 5 (максимум 20 баллов)

Рассмотрите герб города и ответьте на вопросы (за каждый правильный ответ присуждается 4 балла).

- 5.1. Назовите город, административный центр одного из субъектов РФ в Центральной России, герб которого представлен на картинке.
- 5.2. Какая отрасль специализации промышленности исторически связана с этим городом?
- 5.3. Этот город расположен на реке, название которой дало имя административному центру соседнего субъекта РФ. Назовите реку.
- 5.4. В этом городе располагается Всероссийский научно-исследовательский институт, который занимается изучением одной из масличных культур, ставшей относительно недавно популярной и в России, и в мире, в связи с ее экономическим значением как сырья для производства биодизельного топлива. Назовите эту культуру.
- 5.5. В XIX в. город пережил период деиндустриализации и стал специализироваться на рекреационных услугах, указом императора Александра I в 1805 г. здесь был учрежден курорт, который существует до сих пор. Назовите тип курорта.



Ответы:

- 5.1. ___ город Липецк _____
- 5.2. ___ черная металлургия _____
- 5.3. ___ город Воронеж _____
- 5.4. ___ рапс _____
- 5.5. ___ Бальнеогрязевой (можно зачесть бальнеологический) _____

Шифр:

**ПИСЬМЕННАЯ РАБОТА УЧАСТНИКА
ОЛИМПИАДЫ ШКОЛЬНИКОВ СПбГУ
2017–2018**

заключительный этап

Предмет (комплекс предметов) Олимпиады _____

ГЕОГРАФИЯ (06-08 класс)

Город, в котором проводится Олимпиада _____

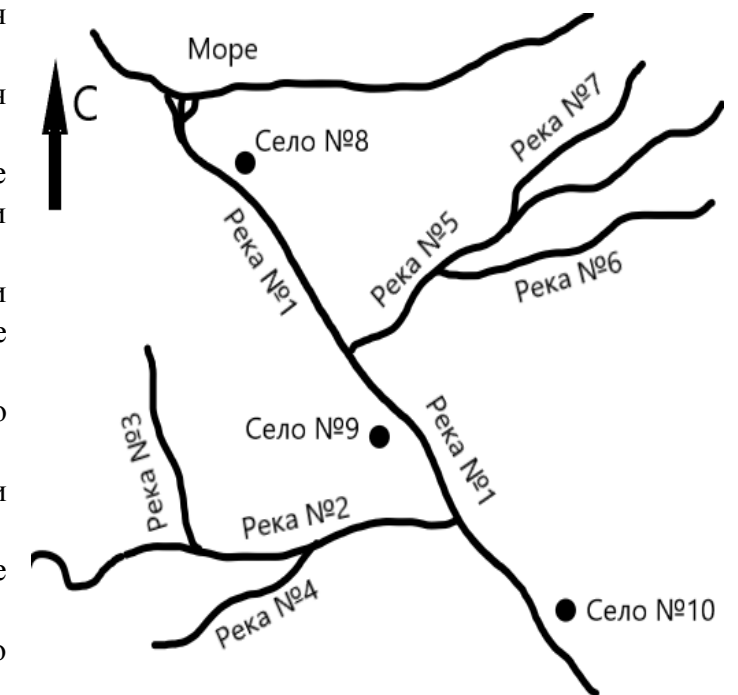
Дата _____

Вариант 5

Задание 1 (максимум 20 баллов)

Внимательно прочитайте описания и сопоставьте номера объектов с их названиями (каждый правильный ответ оценивается в 2 балла).

1. Реки Москвитинка, Восточная и Ворона имеют по два притока;
2. Село Холодный Родник находится восточнее села Обозова;
3. Реки Ореховка, Орлянка, Косиновка и Седая являются притоками второго порядка;
4. Село Ивовая Заводь расположено восточнее устья реки Ворона и западнее устья реки Москвитинка;
5. У рек Косиновка, Седая, Ворона и Восточная устья расположены западнее истоков;
6. Сёла Холодный Родник и Обозово расположены на правом берегу реки;
7. Реки Москвитинка и Ворона – притоки реки Восточной;
8. Устье реки Ореховки расположено южнее устья реки Седой;
9. Село Обозово расположено ниже по течению реки, чем село Ивовая Заводь;
10. Река Орлянка не впадает в реку Ворону.



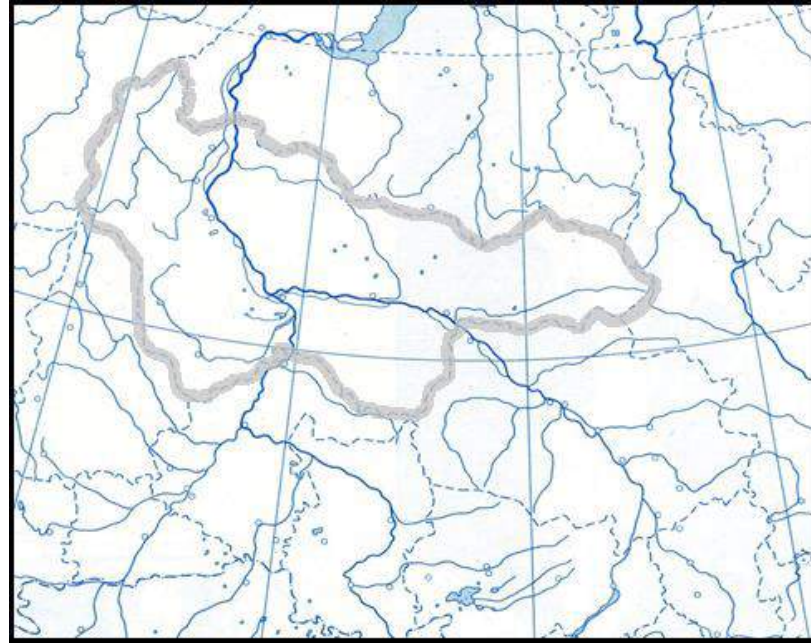
Ответы:

- | | |
|-------------------------------|------------------------------------|
| Река №1 ___ Восточная _____ | Река №6 ___ Косиновка _____ |
| Река №2 ___ Москвитинка _____ | Река №7 ___ Седая _____ |
| Река №3 ___ Ореховка _____ | Село №8 ___ Обозово _____ |
| Река №4 ___ Орлянка _____ | Село №9 ___ Ивовая Заводь _____ |
| Река №5 ___ Ворона _____ | Село №10 ___ Холодный Родник _____ |

Задание 2 (максимум 20 баллов)

2.1. Подберите верные значения координат крайних точек региона, обозначенного на контурной карте, из перечисленных ниже (максимум 8 баллов). Впишите их в таблицу (1 балл) и отметьте на карте (1 балл за правильное оформление на карте).

62° 30' с.ш.; 58° 30' с.ш.; 66° с.ш.; 58° 30' с.ш.;
66° 30' в.д.; 62° в.д.; 85° 30' в.д.; 59° в.д.



крайние точки	координаты по широте	координаты по долготе
Северная	66° с.ш.	62° в.д.
Южная	58° 30' с.ш.	66° 30' в.д.
Западная	62° 30' с.ш.	59° в.д.
Восточная	61° 30' с.ш.	85° 30' в.д.

2.2. Подпишите на контурной карте значения всех координатных линий (максимум 4 балла +1 балл за правильное оформление на карте). Следует подписать как минимум 2 параллели (60° с.ш. и Северный полярный круг) и минимум 2 меридиана (из 60°, 70°, 80°, 90° в.д.).

2.3. По очертаниям и координатам узнайте и назовите административно-территориальную единицу Ханты-Мансийский автономный округ - Югра (5 баллов), если Тюменская область (2 балла) _____

Задание 3 (максимум 20 баллов)

Поезд Москва — Владивосток

Поезд Москва — Владивосток отправился от перрона Ярославского вокзала в 00 часов 35 минут. За время пути он сделал 150 остановок на станциях и вокзалах различных городов страны, пересек десятки больших и малых рек, и через 6 суток 23 часа прибыл в город Владивосток.

Расставьте приведенные ниже географические объекты в порядке следования поезда: река Селенга, город Мариинск, город Ярославль, озеро Байкал, город Тюмень, река Бикин, река Буря.

город Тайшет, город Омск, река Чулым. (за каждый правильно поставленный в последовательность объект присуждается 2 балла)

1. город Ярославль	6. город Тайшет
2. город Тюмень	7. озеро Байкал
3. город Омск	8. река Селенга
4. город Мариинск	9. река Буря
5. река Чулым	10. река Бикин

Задание 4 (максимум 20 баллов)

4.1. Перед вами очертания морей (заливов). Напишите их названия (за каждое правильно названное море (залив) присуждается 3 балла).

Уточнение: проекция Меркатора, север сверху. Указать нужно название водоёма, занимающего наибольшую часть картинки.



4.1. _____ море Сулавеси _____

4.2. _____ Персидский залив _____



4.3. _____ Андаманское море _____

4.4. _____ Гудзонов залив _____



4.5. _____ море Бофорта _____