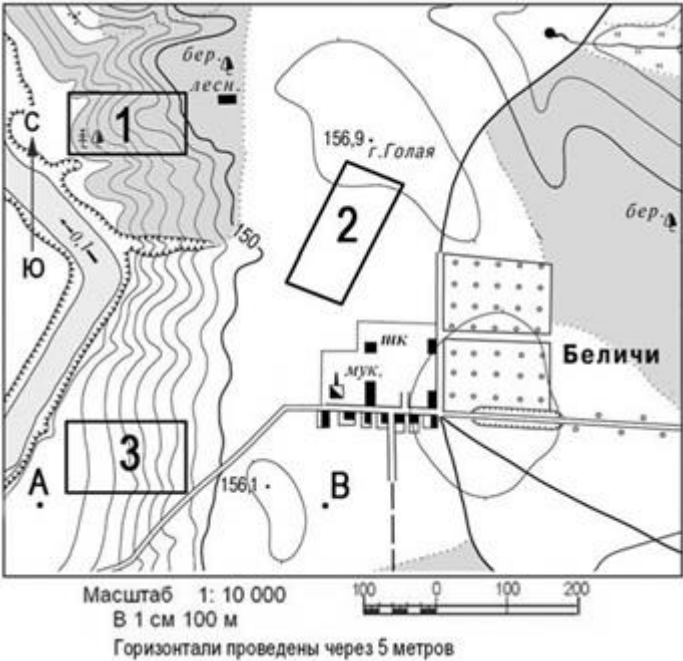


Межрегиональные предметные олимпиады КФУ
профиль «География»
отборочный этап
2020-2021 учебный год
10-11 классы

	Вариант 1	Балл
100	Для какого из перечисленных полуостровов характерно наименьшее среднегодовое количество осадков? 1 Аравийский 2 Индокитай 3 Индостан 4 Корейский	2
101	Какое утверждение о движении воздушных масс является верным? 1 Бризы меняют свое направление дважды в год. 2 В тропических широтах господствуют западные ветры. 3 Летом муссоны дуют с океана на материк. 4 В умеренных широтах господствуют пассаты	2
102	Какие из перечисленных природных ресурсов относятся к исчерпаемым невозобновимым? 1 лесные 2 почвенные 3 водные 4 биологические	2
103	Летнее половодье наблюдается на реках: 1 Кольского полуострова 2 Кулундинской равнины 3 полуострова Камчатка 4 Прикаспийской низм.	3
104	Азимут 45° соответствует направлению на	2

	<p>1 юго-восток 2 северо-запад 3 северо-восток 4 юго-запад</p>	
105	<p>На какой равнине России больше форм рельефа, созданных четвертичными оледенениями?</p> <p>1 на Среднесибирском плоскогорье 2 на Западно-Сибирской равнине 3 на Русской равнине 4 на Прикаспийской низменности</p>	2
106	<p>Какое происхождение имеют такие формы рельефа как байджарахи?</p> <p>1 Криогенное 2 Ледниковое 3 карстовое 4 эоловое</p>	3
107	<p>Солнечные лучи падают на экватор отвесно. Под каким углом они падают на поверхность населенного пункта, имеющего широту 40°?</p> <p>1 34° 2 42° 3 56° 4 60°</p>	4
108	<p>На территории Татарстана на дневной поверхности преобладают отложения:</p> <p>1 юрские 2 пермские 3 антропогеновые 4 девонские</p>	3
109	<p>Какой объект лишний?</p> <p>1 Цна</p>	3

	<p>2 Мокша 3 Пинега 4 Ахтуба</p>	
110	<p>Укажите, в какой из предложенных стран, единицей административно-территориального деления является "штат".</p> <p>1 Алжир 2 Чили 3 Мексика 4 Аргентина</p>	2
111	<p>Укажите в предложенном списке городов столицу азиатской страны с монархической формой правления.</p> <p>1 Тегеран 2 Манама 3 Анкара 4 Дели</p>	2
112	<p>Какое государство называют "страной 10 тысяч озер"?</p> <p>1 Монако 2 Сингапур 3 Финляндия 4 Ватикан</p>	2
113	<p>Укажите, между какими расами этническая переходная группа "самбо" являются промежуточной:</p> <p>1 между европеоидной и негроидной 2 между европеоидной и монголоидной 3 между европеоидной и австролоидной 4 между негроидной и монголоидной</p>	2
114	<p>Отметьте крупнейшую агломерацию Латинской Америки.</p> <p>1 Чипитс 2 Рио-де-Жанейро</p>	2

	<p>3 Сан-Паулу 4 Сансан</p>	
115	<p>Сколько сантиметров составляет длина экватора на карте масштаба 1:600000000?</p> <p>1 8 2 67 3 90 4 800</p>	5
116	<p>Выберите верное утверждение по фрагменту топографической карты.</p>  <p>1 Азимут от точки А на мукомольный завод составляет 180° 2 Из площадок указанных номерами 1,2,3 трасу хоккейную коробку лучше построить на площадке №2 3 Абсолютная высота родника 152,5 м 4 На площадке №1 можно построить трассу для скоростного спуска</p>	6
117	<p>Чему будет равен коэффициент увлажнения территории, если известно, что уровень суммарной радиации составляет 90 кКал/см^2 в год,</p>	4

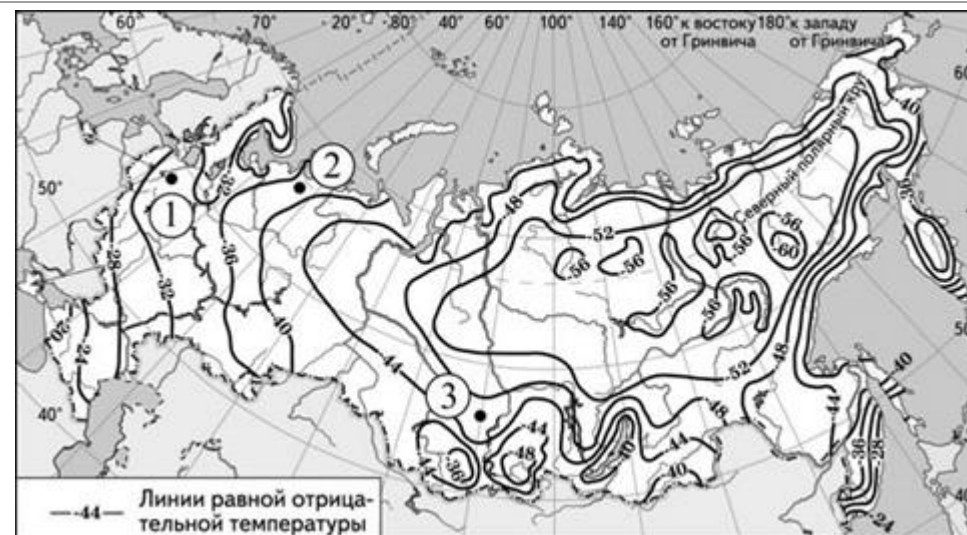
	<p>годовое количество осадков равно 250 мм, испаряемости 250 мм/год, средняя температура января -16°, средняя температура июля +14°. Ответ указать цифрами без пробелов, при этом единицы измерения не указывать. Например: 5.</p>	
118	<p>Укажите соответствие названиями международных организаций и их аббревиатурой.</p> <p>А. Организация стран экспортеров нефти Б. Организация Северо-Атлантического договора В. Всемирная продовольственная организация Г. Организация стран Юго-Восточной Азии</p> <p>1) АСЕАН 2) ОПЕК 3) НАТО 4) ФАО</p> <p>Получившуюся последовательность цифр ввести без пробелов и других знаков.</p>	4
119	<p>Найдите соответствие между языковой лингвистической группой и народом, к ней относящейся.</p> <p>А. германская Б. романская В. тюркская Г. славянская</p> <p>1. французы 2. голландцы 3. узбеки 4. поляки</p> <p>Получившуюся последовательность цифр ввести без пробелов и других знаков.</p>	4
120	<p>Найдите соответствие между компанией по производству автомобилей и страной их производящей.</p> <p>А. Хонда</p>	5

	<p>Б. Ссан Йонг В. Альфа Ромео Г. Грейт Валл</p> <p>1. Южная Корея 2. Китай 3. Италия 4. Япония</p> <p>Получившуюся последовательность цифр ввести без пробелов и других знаков.</p>	
121	<p>Найдите соответствие страны и "мировым" портом на ее территории.</p> <p>А. Япония Б. Великобритания В. Италия Г. Канада</p> <p>1. Дувр 2. Нагасаки 3. Ванкувер 4. Генуя</p> <p>Получившуюся последовательность цифр ввести без пробелов и других знаков.</p>	5
122	<p>Определите страну по описанию.</p> <p>Федеративная республика, входящая в десятку крупнейших государств мира по площади и численности населения; самая многонациональная страна в мире; имеет разнообразные минеральные ресурсы, в том числе большие запасы железной руды, большая часть которой идет на экспорт; очень велико поголовье крупного рогатого скота, но оно используется оно исключительно для получения молока.</p> <p>Ответ вводите заглавными буквами, например, БРАЗИЛИЯ.</p>	5

123

С помощью карты сравните значения средних многолетних минимумов температуры воздуха в точках, обозначенных на карте цифрами 1, 2 и 3. Расположите точки в порядке понижения этих значений.

Ответ пишите без пробелов, без знаков пунктуации. Например, 213.

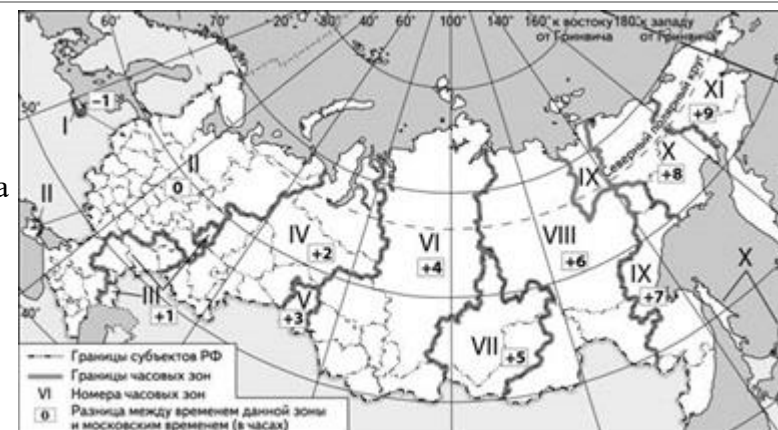


5

124

Самолёт вылетел из Владивостока в Иркутск в 12 часов по времени Владивостока. Расчётное время полёта составляет 2 часа. Сколько времени будет в Иркутске, когда самолёт приземлится?

В ответ впишите только цифры.



6

125

Определите долготу пункта, если в то время, когда в Лондоне полдень, в этом пункте 18 часов.

Ответ содержит цифры и заглавные буквы. Все символы (цифры, заглавные буквы) вводятся без пробелов и других знаков. Например: 165ВД.

7

126

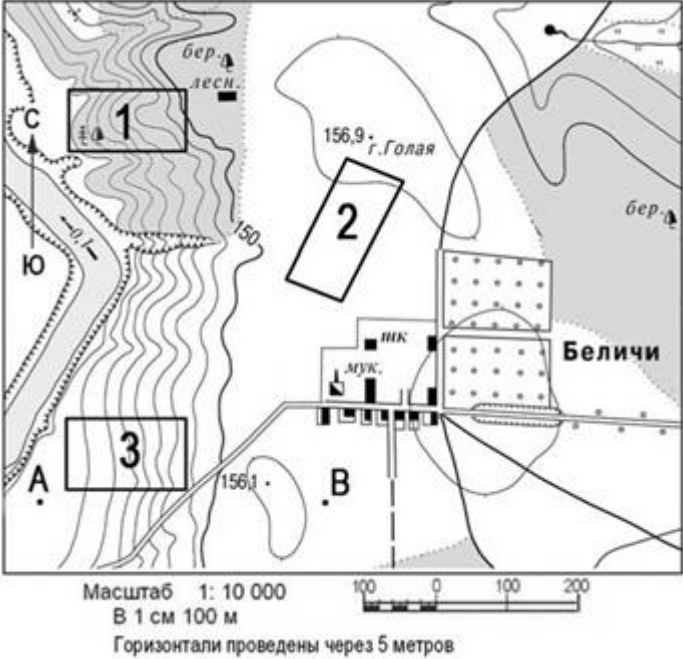
По какому азимуту должны двигаться туристы, если их путь лежит из точки с координатами $55^{\circ}45'$ с.ш. $37^{\circ}15'$ в.д. в точку с координатами $55^{\circ}45'$ с.ш. $37^{\circ}10'$ в.д.

8

	Ответ указать цифрами без пробелов, при этом единицы измерения не указывать. Например: 90.	
	Вариант 2	Балл
200	<p>Для какого из перечисленных полуостровов характерно наибольшее среднегодовое количество осадков?</p> <p>1 Аравийский 2 Индокитай 3 Индостан 4 Корейский</p>	2
201	<p>Какое утверждение о движении воздушных масс является верным?</p> <p>1 Бризы меняют свое направление дважды в сутки. 2 В тропических широтах господствуют западные ветры. 3 Зимой муссоны дуют с океана на материк. 4 В умеренных широтах господствуют пассаты</p>	2
202	<p>Какие из перечисленных природных ресурсов относятся к исчерпаемым невозобновимым?</p> <p>1 лесные 2 минеральные 3 водные 4 биологические</p>	2
203	<p>Летнее половодье наблюдается на реках:</p> <p>1 Калмыкии 2 Юга Западной Сибири 3 Дальнего Востока 4 Татарстана</p>	3
204	<p>Азимут 135° соответствует направлению на:</p> <p>1 юго-восток 2 северо-запад</p>	2

	3 северо-восток 4 юго-запад	
205	На какой равнине России нет форм рельефа, созданных четвертичными оледенениями? 1 на Среднесибирском плоскогорье 2 на Западно-Сибирской равнине 3 на Русской равнине 4 на Прикаспийской низменности	2
206	Какое происхождение имеют такие формы рельефа как дюны? 1 Криогенное 2 Ледниковое 3 карстовое 4 эоловое	3
207	Столица Анголы г. Луанда расположена на параллели 9° ю. ш. Определите полуденную высоту Солнца над горизонтом в Луанде 23 сентября. 1 34° 2 42° 3 56° 4 81°	4
208	На территории Московской области на дневной поверхности преобладают отложения: 1 юрские 2 пермские 3 антропогеновые 4 девонские	3
209	Какой объект лишний? 1 Тюлений 2 Врангеля	3

	3 Шпицберген 4 Ахгуба	
210	Укажите, в какой из предложенных стран, единицей административно-территориального деления является "штат". 1 Алжир 2 Чили 3 Бразилия 4 Аргентина	2
211	Укажите в предложенном списке городов столицу азиатской страны с монархической формой правления. 1 Манила 2 Маскат 3 Анкара 4 Мумбаи	2
212	Какое государство называют "страной огня и льда"? 1 Ирландия 2 Норвегия 3 Исландия 4 Гренландия	2
213	Укажите, между какими расами этническая переходная группа "метисы" являются промежуточной: 1 между европеоидной и негроидной 2 между европеоидной и монголоидной 3 между европеоидной и австралоидной 4 между негроидной и монголоидной	2
214	Отметьте крупнейшую агломерацию Северной Америки. 1 Чипитс 2 Монреаль 3 Босваш	2

	4 Сансан	
215	<p>Озеро протяженностью в 4 км на карте масштаба 1: 200 000 имеет длину:</p> <p>1 2 см</p> <p>2 2 мм</p> <p>3 4 см</p> <p>4 4 мм</p>	5
216	<p>Выберите верное утверждение по фрагменту топографической карты.</p>  <p>1 Азимут от точки А на мукомольный завод составляет 180°</p> <p>2 Из площадок указанных номерами 1,2,3 трасу хоккейную коробку лучше построить на площадке №1</p> <p>3 Абсолютная высота родника 152,5 м</p> <p>4 На площадке №3 можно построить трасу для скоростного спуска</p>	6
217	<p>Чему будет равен коэффициент увлажнения территории, если известно, что уровень суммарной радиации составляет 130 кКал/см² в год, годовое количество осадков равно 250 мм, испаряемости 500 мм/год, средняя температура января +16°, средняя температура июля +28°.</p>	4

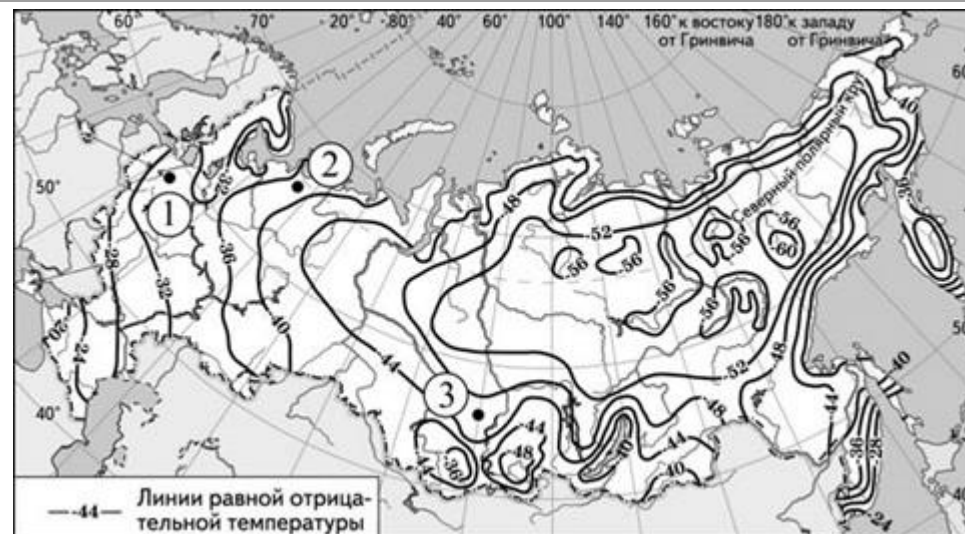
	<p>Ответ указать цифрами, округлив до десятых, без пробелов, при этом единицы измерения не указывать. Например: 5,2.</p>	
218	<p>Укажите соответствие названиями международных организаций и их аббревиатурой.</p> <p>А. Всемирная организация здравоохранения Б. Организация Северо-Атлантического договора В. Всемирная продовольственная организация Г. Всемирная торговая организация</p> <p>1) ВТО 2) ВОЗ 3) НАТО 4) ФАО</p> <p>Получившуюся последовательность цифр ввести без пробелов и других знаков.</p>	4
219	<p>Найдите соответствие между языковой лингвистической группой и народом, к ней относящейся.</p> <p>А. германская Б. романская В. тюркская Г. славянская</p> <p>1. французы 2. шведы 3. туркмены 4. болгары</p> <p>Получившуюся последовательность цифр ввести без пробелов и других знаков.</p>	4
220	<p>Найдите соответствие между компанией по производству автомобилей и страной их производящей.</p> <p>А. Субару Б. Хёндэ</p>	5

	<p>В. Фиат Г. Рено</p> <p>1. Южная Корея 2. Франция 3. Италия 4. Япония</p> <p>Получившуюся последовательность цифр ввести без пробелов и других знаков.</p>	
221	<p>Найдите соответствие страны и "мировым" портом на ее территории.</p> <p>А. Япония Б. Великобритания В. Италия Г. Канада</p> <p>1. Эдинбург 2. Кавасаки 3. Ванкувер 4. Палермо</p> <p>Получившуюся последовательность цифр ввести без пробелов и других знаков.</p>	5
222	<p>Определите страну по описанию. Конституционная монархия, имеющая значительные рекреационные ресурсы. С благоприятным средиземноморским климатом, особенно популярно посещение средиземноморских пляжей и островов, где сосредоточены основные курорты. Столица располагается практически в центре страны. Население многонациональное, но почти все верующие - католики. Здесь производятся и экспортируются автомобили, морские суда, цитрусовые, оливковое масло, вина. Выделяется по экспорту апельсинов, основными видами туризма является пляжный и деловой. Сформировалась собственная национальная кухня, мировую известность приобрели хамон, паэлья.</p> <p>Ответ вводите заглавными буквами, например, БРАЗИЛИЯ.</p>	5

223

С помощью карты сравните значения средних многолетних минимумов температуры воздуха в точках, обозначенных на карте цифрами 1, 2 и 3. Расположите точки в порядке возрастания этих значений. Ответ пишите без пробелов, без знаков пунктуации. Например, 213.

Получившуюся последовательность цифр ввести без пробелов и других знаков.

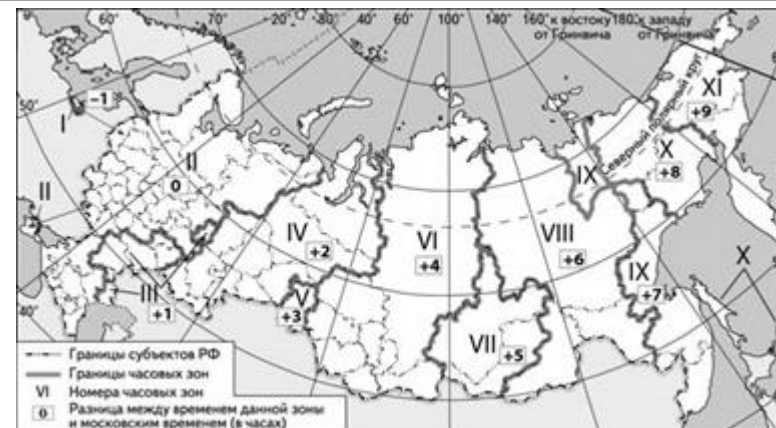


5

224

Самолёт вылетел из Красноярска в Екатеринбург в 15 часов по времени Красноярска. Расчётное время полёта составляет 2 часа. Сколько времени будет в Екатеринбурге, когда самолёт приземлится?

В ответ впишите только цифры.



6

225

Определите долготу пункта, если в то время, когда в Лондоне полдень, в этом пункте 5 часов.

Ответ содержит цифры и заглавные буквы. Все символы (цифры, заглавные буквы) вводятся без пробелов и других знаков. Например: 165ВД.

7

226

По какому азимуту должны двигаться туристы, если их путь лежит из точки с координатами $55^{\circ}45'$ с.ш. $37^{\circ}10'$ в.д. в точку с координатами $55^{\circ}45'$ с.ш. $37^{\circ}15'$ в.д.

8

Ответ указать цифрами без пробелов, при этом единицы измерения не указывать. Например: 90.