


Межрегиональная олимпиада школьников "Будущие исследователи – будущее науки"
История. Финал 2021 г

8 класс

1. Укажите соответствие. Максимально – 10 баллов (по 1 б. за соответствие).

А) 1617 г.; Б) 1634 г.; В) 1651 г. Г) 1661 г. Д) 1681 г.

Мирный договор	Год заключения
Кардисский	
Столбовский	
Белоцерковский	
Бахчисарайский	
Поляновский	



2. Данная мера, название которой происходит от латинского arcus («лук»), соответствовала длине натяжения тетивы. Укажите А) название, Б) значение в сантиметрах. Максимально – 4 балла.

3. Перед вами текст документа XVI (в переводе на современный русский язык). Макс. – 12 баллов.

«Ст.88. Крестьянам разрешается переходить из волости в волость и из села в село раз в году: за неделю до и неделю после осеннего Юрьева дня. За дворы пожилые платить: в полевой местности за двор рубль и два алтына, в лесной местности, за десять верст до строевого леса, за двор полтина и два алтына».

- 1) Укажите А) год издания данного документа, Б) имя правителя, при котором он был издан.
- 2) Меняются ли условия крестьянского выхода согласно данному документу (если да, то каким образом)?
- 3) Кто из московских князей и когда (в каком году) впервые ограничил срок крестьянского выхода недель до и недель после Юрьева дня?

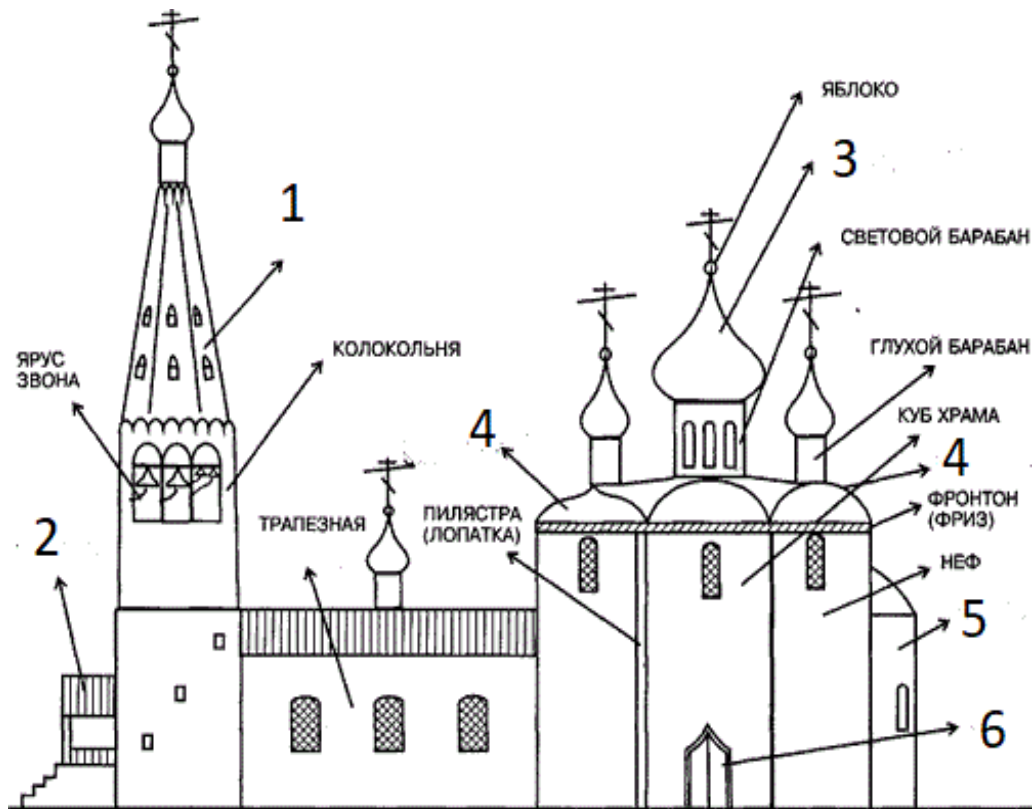
4. Выберите один правильный вариант ответа. Максимально – 6 баллов.

- 1) Сколько всего раз Россия воевала с Османской империей?
А) 8 Б) 10 В) 12 Г) 14
- 2) Кто из путешественников первым прошел через пролив между Евразией и Америкой?
А) Поярков Б) Хабаров В) Дежнев Г) Беринг
- 3) Принято считать, что последний Земский собор был создан в ... году:
А) 1653 г. Б) 1674 г. В) 1684 г. Г) 1698 г.

5. Заполните пробелы. Максимально – 8 баллов (по 2 б. за каждый верный ответ).

К концу княжения 1) ___ их осталось всего два; принадлежали они младшим братьям великого князя: 2) ___, владевшему Дмитровом и Звенигородом, и 3) ___, в удел которого входили 4) ___ в Тверской земле и Верея на юго-западе».

6. Укажите названия архитектурных деталей православного храма, обозначенных на схеме цифрами от 1 до 6 (цифрой 4 обозначены две разновидности одной детали). Максимально – 12 баллов (по 2 б. за каждый верный ответ).



7. Представлены гербы пяти городов Российской империи. Каждый из них является «говорящим», намекает на название города (почти как ребус). Назовите эти города. Максимально – 10 баллов (по 2 б. за каждый верный ответ).




А



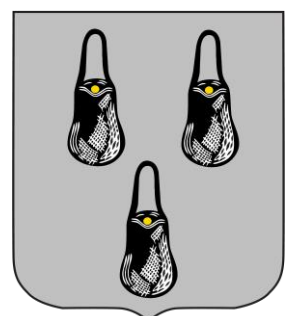
Б



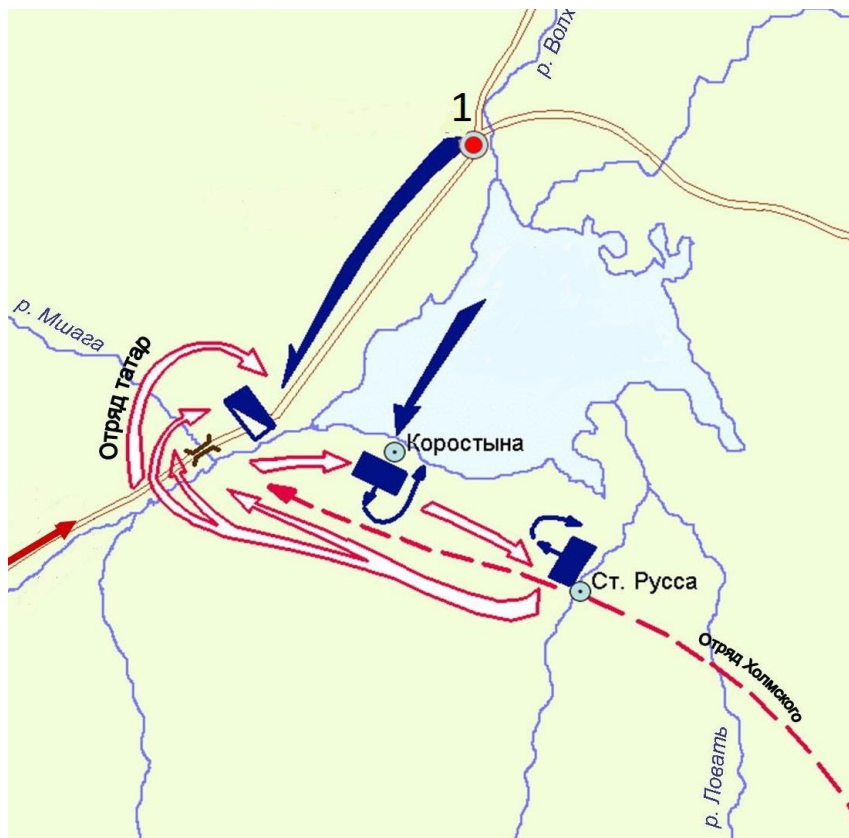
В



Г



Д



- 8.
- А) Каковы причины данного события (не менее двух)?
- Б) Укажите год и название сражения.
- В) Как называется город, обозначенный на схеме цифрой «1»? Какая форма правления в нем существовала в то время?
- Г) Войском какого княжества командовал воевода Даниил Холмский?
- Д) Какую роль в этом сражении сыграла татарская конница?

9. Соотнесите имена митрополитов всея Руси и события, с ними связанные. Максимально – 12 баллов.

Имена митрополитов: 1. Кирилл 2. Максим 3. Петр 4. Алексей 5. Фотий 6. Иона

События: (а) расцвет деятельности Андрея Рублева; (б) руководство московским княжеством при малолетнем Дмитрии Донском; (в) провозглашение автокефалии московской митрополии; (г) получение первого ярлыка русскому духовенству от хана; (д) перенос кафедры митрополита в Москву де-факто; (е) перенос кафедры митрополита во Владимир де-факто.

10. Прочитайте отрывок из документа и выполните задания. Максимально – 12 баллов.

«И того ж дни возмутились миром на его Левонтьевых заступников, на боярина и государева царева дятку на Бориса Иванова сына Морозова, да на окольничего на Петра Тиханова сына Траханиотова, да на думного дьяка на Назарья Иванова сына Чистова и иных многих единомыслеников их, и дома их миром разбили и разграбили. И самого думного дьяка Назарья Чистого у него в дому до смерти прибили. И июня в 3 день, видя государь такое в миру великое смятение, велел ево земсково судью Левонтия Плещеева всей земле выдать головою, и его Левонтья на Пожаре прибили ослопьем. И того же дня те презреченные Борис Морозов и Петр Траханиотов научением дьявольским разослали людей своих по всей Москве, велели всю Москву выжечь... а государь царь велел ево Петра Траханиотова за ту их измену и за московский пожег перед миром казнить на Пожаре. А тово Бориса Морозова государь у миру упротил, что ево сослать с Москвы в Кириллов монастырь на Белоозеро...».

- А) Какое событие описано в документе, и когда оно произошло?
- Б) В чем причина описанного в тексте народного возмущения?
- В) Опишите последствия (желательно три) данного события
- Г) Объясните, почему царь просит у восставших не казнить Б. Морозова
- Д) Как ныне называется место, где был убит Плещеев и казнен Траханиотов?