


**1. Укажите соответствие. Максимально – 10 баллов (по 1 б. за соответствие).**

А) 1617 г.; Б) 1634 г.; В) 1651 г. Г) 1661 г. Д) 1681 г.

Мирный договор	Год заключения
Кардисский	Г
Столбовский	А
Белоцерковский	В
Бахчисарайский	Д
Поляновский	Б



**2. Данная мера, название которой происходит от латинского arcus («лук»), соответствовала длине натяжения тетивы. Укажите А) название, Б) значение в сантиметрах. Максимально – 4 балла.**

А) Аршин – 2 балла

Б) 71,12 см. / около 71 см. – 2 балла

**3. Перед вами текст документа XVI (в переводе на современный русский язык). Макс. – 12 баллов.**

«Ст.88. Крестьянам разрешается переходить из волости в волость и из села в село раз в году: за неделю до и неделю после осеннего Юрьева дня. За дворы пожилые платить: в полевой местности за двор рубль и два алтына, в лесной местности, за десять верст до строевого леса, за двор полтина и два алтына».

- 1) Укажите А) год издания данного документа, Б) имя правителя, при котором он был издан.
- 2) Меняются ли условия крестьянского выхода согласно данному документу (если да, то каким образом)?
- 3) Кто из московских князей и когда (в каком году) впервые ограничил срок крестьянского выхода недель до и недель после Юрьева дня?

4) А) 1550 – 2 балла, Б) Иван IV – 2 балла

5) Увеличен размер пожилых – 2 балла

6) Иван III – 3 балла, 1497 – 3 балла

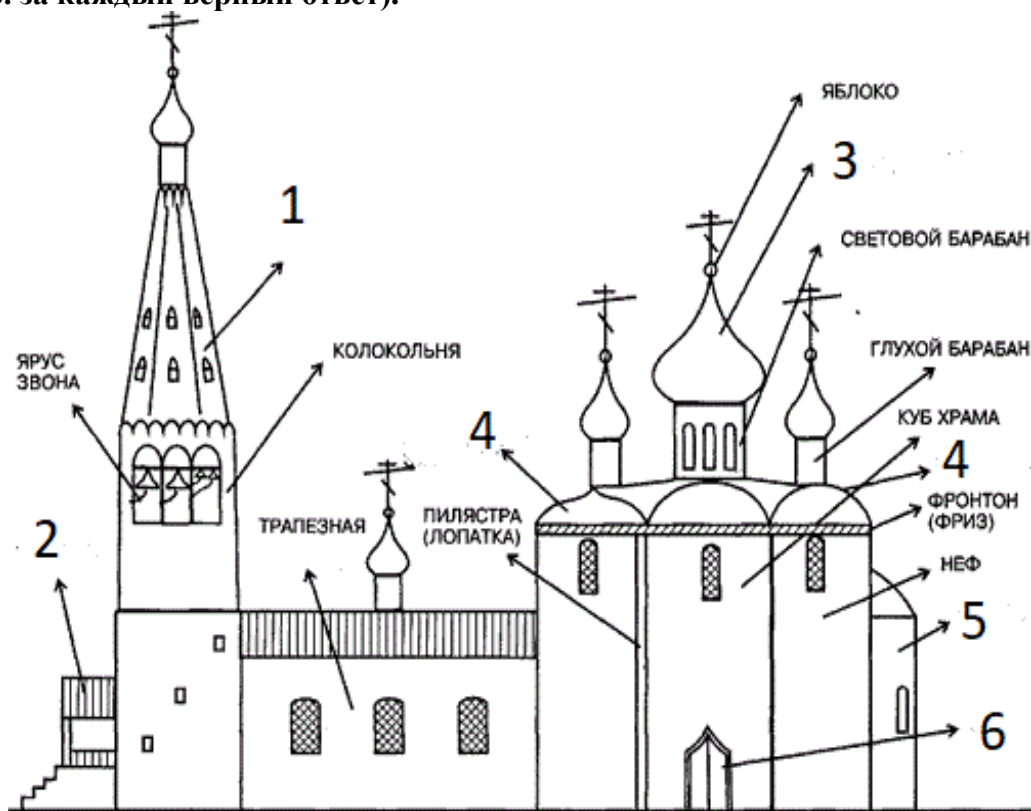
**4. Выберите один правильный вариант ответа. Максимально – 6 баллов.**

- 1) Сколько всего раз Россия воевала с Османской империей?  
А) 8 Б) 10 В) 12 Г) 14
- 2) Кто из путешественников первым прошел через пролив между Евразией и Америкой?  
А) Поярков Б) Хабаров В) Дежнев Г) Беринг
- 3) Принято считать, что последний Земский собор был созван в ... году:  
А) 1653 г. Б) 1674 г. В) 1684 г. Г) 1698 г.

**5. Заполните пробелы. Максимально – 8 баллов (по 2 б. за каждый верный ответ).**

К концу княжения 1) \_\_\_ (Василия III) их осталось всего два; принадлежали они младшим братьям великого князя: 2) \_\_\_ (Юрию), владевшему Дмитровом и Звенигородом, и 3) \_\_\_ (Андрею), в удел которого входили 4) \_\_\_ (Старица) в Тверской земле и Верея на юго-западе».

6. Укажите названия архитектурных деталей православного храма, обозначенных на схеме цифрами от 1 до 6 (цифрой 4 обозначены две разновидности одной детали). Максимально – 12 баллов (по 2 б. за каждый верный ответ).



1 – шатер, 2 – паперть, 3 – купол, 4 – закомара, 5 – апсида, 6 – портал.

7. Представлены гербы пяти городов Российской империи. Каждый из них является «говорящим», намекает на название города (почти как ребус). Назовите эти города. Максимально – 10 баллов (по 2 б. за каждый верный ответ).




А



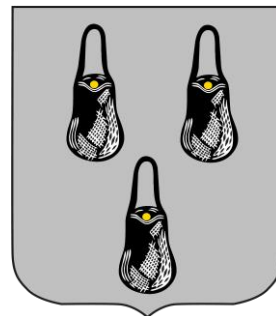
Б



В

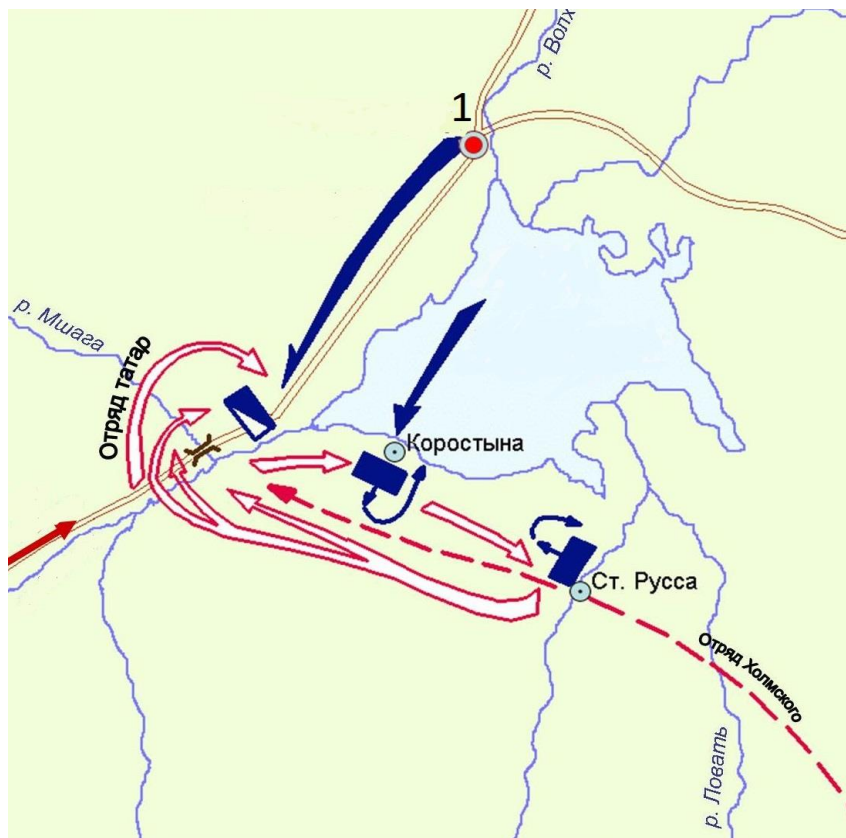


Г



Д

- А) Великие Луки
- Б) Старица
- В) Архангельск
- Г) Зубцов
- Д) Сумы



- 8.**
- А) Каковы причины данного события (не менее двух; по 2 балла, макс. – 4 балла)?  
*Стремление новгородцев доказать Москве свою независимость; приход к власти в Новгороде пролитовской группировки во главе с Марфой Борецкой, [желавших заключить вассальный договор с Казимиром IV]; стремление Ивана III предотвратить переход Новгорода под контроль Литвы.*
- Б) Укажите год и название сражения.  
*1471 – 2 балла, Битва на реке Шелони / Шелонская битва – 2 балла.*
- В) Как называется город, обозначенный на схеме цифрой «1»? Какая форма правления в нем существовала в то время?  
*Новгород – 1 балл, республика / боярская республика – 1 балл.*
- Г) Войском какого княжества командовал воевода Даниил Холмский?  
*– [Великое княжество] Московское – 2 балла*
- Д) Какую роль в этом сражении сыграла татарская конница?  
*Нанесла решающий удар во фланг новгородского войска, определив исход битвы в пользу Москвы.*

**9. Соотнесите имена митрополитов всея Руси и события, с ними связанные. Максимально – 12 баллов.**

**Имена митрополитов:** 1. Кирилл 2. Максим 3. Петр 4. Алексей 5. Фотий 6. Иона

**События:** (а) расцвет деятельности Андрея Рублева; (б) руководство московским княжеством при малолетнем Дмитрие Донском; (в) провозглашение автокефалии московской митрополии; (г) получение первого ярлыка русскому духовенству от хана; (д) перенос кафедры митрополита в Москву де-факто; (е) перенос кафедры митрополита во Владимир де-факто.

1. – Г, 2. – Е, 3. – Д, 4. – Б, 5. – А, 6. – В

**10. Прочитайте отрывок из документа и выполните задания. Максимально – 12 баллов.**

*«И того ж дни возмутились миром на его Левонтьевых заступников, на боярина и государева царева дятку на Бориса Иванова сына Морозова, да на окольничево на Петра Тиханова сына Траханиотова, да на думного дьяка на Назарья Иванова сына Чистова и иных многих единомыслеников их, и дома их миром разбили и разграбили. И самого думного дьяка Назарья Чистого у него в дому до смерти прибили. И июня в 3 день, видя государь такое в миру великое смятение, велел ево земсково судью Левонтия Плещеева всей земле выдать головою, и его Левонтья на Пожаре прибили ослопьем. И того же дня те презреченные Борис Морозов и Петр Траханиотов научением дьявольским разослали людей своих по всей Москве, велели всю Москву выжечь...а государь царь велел ево Петра Траханиотова за ту их измену и за московский пожег перед миром казнить на Пожаре. А тово Бориса Морозова государь у миру упросил, что ево сослать с Москвы в Кириллов монастырь на Белоозеро...».*

А) Какое событие описано в документе, и когда оно произошло? *Соляной бунт (1 б.) 1648 (1 б.)*

Б) В чем причина описанного в тексте народного возмущения? *Основная причина – введение дополнительной пошлины на соль, ее резкое подорожание и, как следствие сокращение потребления, в то время как соль являлась основным консервантом. Население было также недовольно общим ростом налогов, мздоимством и самоуправством властей. (до 2 б.)*

В) Опишите последствия (желательно три) данного события (до 3 б.) *Последствия: подготовка Соборного уложения, ослабление политического влияния Морозова, повышение степени самостоятельности царя в решении политических вопросов, издание указа об отсрочке взимания недоимок, выдача двойного жалования стрельцам, казнь наиболее активных бунтовщиков. Возможны иные формулировки.*

Г) Объясните, почему царь просит у восставших не казнить Б. Морозова. (2 б) *Боярин Борис Морозов был воспитателем и свояком Алексея Михайловича, осуществлял фактическое руководство страной.*

Д) Как ныне называется место, где был убит Плещеев и казнен Траханиотов? *Красная площадь (3 б.)*