

За верный ответ в каждой из задач №1, 2, 3, 4, 5 ставится 20 баллов.

Максимальная сумма баллов равна 100.

1.1. Тело, брошенное вертикально вверх, за вторую секунду пролетело 14 метров.

Какое максимальное время тело может находиться в полете, если сопротивление воздуха не учитывать? Ответ дайте в единицах СИ, при необходимости округлив его до сотых.

1.2. Тело, брошенное вертикально вверх, за вторую секунду пролетело 47 метров.

Какое максимальное время тело может находиться в полете, если сопротивление воздуха не учитывать? Ответ дайте в единицах СИ, при необходимости округлив его до сотых.

1.3. Тело, брошенное вертикально вверх, за третью секунду пролетело 6 метров.

Какое максимальное время тело может находиться в полете, если сопротивление воздуха не учитывать? Ответ дайте в единицах СИ, при необходимости округлив его до сотых.

1.4. Тело, брошенное вертикально вверх, за третью секунду пролетело 16 метров.

Какое максимальное время тело может находиться в полете, если сопротивление воздуха не учитывать? Ответ дайте в единицах СИ, при необходимости округлив его до сотых.

2.1. Катер преодолевает расстояние между А и Б по течению на 6 часов быстрее, чем плот. Сколько времени потратит катер на путь туда и обратно, если на

обратный путь он тратит на 2 часа больше? Ответ дайте в минутах, при необходимости округлив до ближайшего целого числа.

2.2. Катер преодолевает расстояние между А и Б по течению на 12 часов быстрее, чем плот. Сколько времени потратит катер на путь туда и обратно, если на обратный путь он тратит на 2 часа больше? Ответ дайте в минутах, при необходимости округлив до ближайшего целого числа.

2.3. Катер преодолевает расстояние между А и Б по течению на 8 часов быстрее, чем плот. Сколько времени потратит катер на путь туда и обратно, если на обратный путь он тратит на 1 час 20 минут больше? Ответ дайте в минутах, при необходимости округлив до ближайшего целого числа.

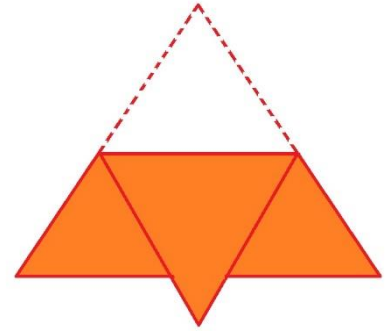
2.4. Катер преодолевает расстояние между А и Б по течению на 9 часов быстрее, чем плот. Сколько времени потратит катер на путь туда и обратно, если на обратный путь он тратит на 3 часа больше? Ответ дайте в минутах, при необходимости округлив до ближайшего целого числа.

3.1. В деревне, где живет Глафира, есть небольшой пруд, который наполняется бьющими на дне ключами. Пытливая Глафира выяснила, что стадо из 16 коров полностью выпило этот пруд ровно за 3 дня. Через какое-то время ключи снова наполнили пруд, после чего 2 коровы выпили его ровно за 27 дней. За какое минимальное целое количество дней может выпить этот пруд одна корова?

- 3.2. В деревне, где живет Глафира, есть небольшой пруд, который наполняется бьющими на дне ключами. Пытливая Глафира выяснила, что стадо из 18 коров полностью выпило этот пруд ровно за 4 дня. Через какое-то время ключи снова наполнили пруд, после чего 3 коровы выпили его ровно за 28 дней. За какое минимальное целое количество дней может выпить этот пруд одна корова?
- 3.3. В деревне, где живет Глафира, есть небольшой пруд, который наполняется бьющими на дне ключами. Пытливая Глафира выяснила, что стадо из 11 коров полностью выпило этот пруд ровно за 5 дней. Через какое-то время ключи снова наполнили пруд, после чего 3 коровы выпили его ровно за 20 дней. За какое минимальное целое количество дней может выпить этот пруд одна корова?
- 3.4. В деревне, где живет Глафира, есть небольшой пруд, который наполняется бьющими на дне ключами. Пытливая Глафира выяснила, что стадо из 13 коров полностью выпило этот пруд ровно за 6 дней. Через какое-то время ключи снова наполнили пруд, после чего 3 коровы выпили его ровно за 30 дней. За какое минимальное целое количество дней может выпить этот пруд одна корова?
- 4.1. Какое наибольшее целое количество литров воды можно нагреть до температуры кипения с помощью количества теплоты, полученной от сгорания твердого топлива, если за первые 5 минут горения из топлива получается 440 кДж, а за каждую следующую пятиминутку на 25% меньше, чем за предыдущую. Начальная температура воды 20°C, температура кипения 100°C. Удельная теплоемкость воды 4,2 кДж/(кг · К).

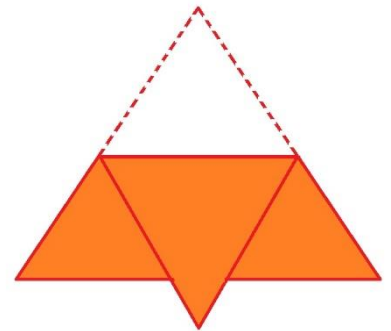
- 4.2. Какое наибольшее целое количество литров воды можно нагреть до температуры кипения с помощью количества теплоты, полученной от сгорания твердого топлива, если за первые 5 минут горения из топлива получается 420 кДж, а за каждую следующую пятиминутку на 10% меньше, чем за предыдущую. Начальная температура воды 20°C, температура кипения 100°C. Удельная теплоемкость воды 4,2 кДж/(кг · К).
- 4.3. Какое наибольшее целое количество литров воды можно нагреть до температуры кипения с помощью количества теплоты, полученной от сгорания твердого топлива, если за первые 5 минут горения из топлива получается 560 кДж, а за каждую следующую пятиминутку на 50% меньше, чем за предыдущую. Начальная температура воды 20°C, температура кипения 100°C. Удельная теплоемкость воды 4,2 кДж/(кг · К).
- 4.4. Какое наибольшее целое количество литров воды можно нагреть до температуры кипения с помощью количества теплоты, полученной от сгорания твердого топлива, если за первые 5 минут горения из топлива получается 440 кДж, а за каждую следующую пятиминутку на 20% меньше, чем за предыдущую. Начальная температура воды 20°C, температура кипения 100°C. Удельная теплоемкость воды 4,2 кДж/(кг · К).
- 5.1 Горизонтально расположенный брезентовый тент имеет форму правильного треугольника площадью 25 м², этот треугольник находится на расстоянии 3 м от поверхности земли. Если Солнце в зените, то считаем, что тень от тента в точности совпадает по форме и размерам с этим треугольником.

Имеется возможность согнуть этот тент один раз вдоль любой прямой, параллельной стороне треугольника, и сложить два получившихся слоя вместе (пример – на рисунке). Какую наименьшую площадь может иметь тень от получившейся конструкции? Ответ дайте в м^2 и при необходимости округлите до сотых.



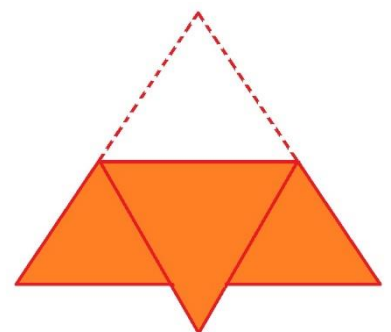
5.2. Горизонтально расположенный брезентовый тент имеет форму правильного треугольника площадью 40 м^2 , этот треугольник находится на расстоянии 3 м от поверхности земли. Если Солнце в зените, то считаем, что тень от тента в точности совпадает по форме и размерам с этим треугольником.

Имеется возможность согнуть этот тент один раз вдоль любой прямой, параллельной стороне треугольника, и сложить два получившихся слоя вместе (пример – на рисунке). Какую наименьшую площадь может иметь тень от получившейся конструкции? Ответ дайте в м^2 и при необходимости округлите до сотых.



5.3. Горизонтально расположенный брезентовый тент имеет форму правильного треугольника площадью 55 м^2 , этот треугольник находится на расстоянии 3 м от поверхности земли. Если Солнце в зените, то считаем, что тень от тента в точности совпадает по форме и размерам с этим треугольником.

Имеется возможность согнуть этот тент один раз вдоль любой прямой, параллельной стороне треугольника, и сложить два получившихся слоя вместе (пример – на рисунке). Какую наименьшую площадь может иметь тень от получившейся конструкции? Ответ дайте в м^2 и при необходимости округлите до сотых.



5.4. Горизонтально расположенный брезентовый тент имеет форму правильного треугольника площадью 70 м^2 , этот треугольник находится на расстоянии 3 м от поверхности земли. Если Солнце в зените, то считаем, что тень от тента в точности совпадает по форме и размерам с этим треугольником.

Имеется возможность согнуть этот тент один раз вдоль любой прямой,

параллельной стороне треугольника, и сложить два получившихся слоя вместе (пример – на рисунке).

Какую наименьшую площадь может иметь тень от получившейся конструкции? Ответ дайте в м^2 и при необходимости округлите до сотых.

