

## Математика

### Простые задачи


#### Задача 1. Потенциалы и кластеры

1. При моделировании нанокластеров широко используются парные потенциалы, описывающие энергию системы из двух атомов в зависимости от расстояния между ними:

$$U(r, \text{нм}) = -\frac{2,6 \cdot 10^{-3}}{r^5} + \frac{4,4 \cdot 10^{-5}}{r^8} \text{ (эВ)}$$

1. Найдите расстояние между центрами двух атомов  $r_0$ , при котором энергия системы минимальна. (2,5 балла)

Парные потенциалы можно использовать для определения оптимальной формы нанокластеров, при этом суммарная энергия системы может быть представлена как сумма энергий всех возможных парных взаимодействий в кластере.



2. Сколько парных взаимодействий между атомами можно выделить в кластере из пяти атомов? Рассчитайте\* энергии представленных на рисунке кластеров (правильный пятиугольник, тригональная бипирамида, квадратная пирамида). На основании расчета расположите их в порядке уменьшения энергии. (5,5 баллов)

\*Расстояния между центрами ближайших атомов принять  $r_0$ .

**Решение:**

1. Найдем экстремумы функции  $U(r, \text{нм}) = -\frac{2,6 \cdot 10^{-3}}{r^5} + \frac{4,4 \cdot 10^{-5}}{r^8}$ :

$$U'(r) = \frac{dU}{dr} = 0$$

$$\frac{dU}{dr} = 5 \frac{A}{r^6} - 8 \frac{B}{r^9}, \text{ тогда } 5 \frac{A}{r_0^6} - 8 \frac{B}{r_0^9} = 0 \text{ или } \frac{1}{r_0^6} \left( 5A - 8 \frac{B}{r_0^3} \right) = 0 \text{ или } 5A = 8 \frac{B}{r_0^3} \text{ или}$$

$$r_0 = \sqrt[3]{8B/(5A)} = \sqrt[3]{8 \cdot 4,4 \cdot 10^{-5} / (5 \cdot 2,6 \cdot 10^{-3})} = \sqrt[3]{0,027} = 0,30 \text{ нм}$$

Это и есть искомая точка минимума, поскольку  $U'_-(r) < 0$  и  $U'_+(r) > 0$ .

2. В системе из 5 атомов будет **10** парных взаимодействий (**0,5 балла**), поэтому каждое выражение для энергии кластера из 5 атомов содержит 10 слагаемых.

Найдем минимальную энергию пары атомов:

$$U(r_0) = -\frac{2,6 \cdot 10^{-3}}{0,3^5} + \frac{4,4 \cdot 10^{-5}}{0,3^8} \approx -\frac{2,6}{2,43} + \frac{4,4}{6,56} \approx -1,07 + 0,67 = -0,40 \text{ эВ}$$

а) пятиугольник (1 балл): 5 пар касающихся атомов и 5 пар атомов на диагоналях пятиугольника.

Диагональ пятиугольника (см. вспомогательные данные)  $(1 + \sqrt{5})/2 \cdot r_0 \approx (1 + 2,2)/2 \cdot r_0 = 1,6 r_0$

$$U(\text{пятиугольника}) = 5U(r_0) + 5U(1,6r_0)$$

$$U(1,6r_0) \approx -\frac{1,07}{1,6^5} + \frac{0,67}{1,6^8} \approx -\frac{1,07}{10,5} + \frac{0,67}{43} \approx -0,102 + 0,016 = -0,086 \text{ эВ}$$

$$U(\text{пятиугольника}) = 5(-0,4) + 5(-0,086) = -2,43 \text{ эВ}$$

б) квадратная пирамида (1 балл): 8 пар касающихся атомов и 2 пары атомов на диагоналях квадрата.

$$U(\text{квадратной пирамиды}) = 8U(r_0) + 2U(1,4r_0)$$

$$U(1,4r_0) \approx -\frac{1,07}{1,4^5} + \frac{0,67}{1,4^8} \approx -\frac{1,07}{5,38} + \frac{0,67}{15} \approx -0,199 + 0,045 = -0,154 \text{ эВ}$$

$$U(\text{квадратной пирамиды}) = 8(-0,4) + 2(-0,154) = -3,51 \text{ эВ}$$

в) тригональная бипирамида (1,5 балла): 9 пар касающихся атомов (ребра бипирамиды) и одна пара атомов в противоположных вершинах бипирамиды. Расстояние между ними равно удвоенной высоте тетраэдра, т.е.  $2\sqrt{2/3} \cdot r_0 \approx 2 \cdot 1,4/1,7 \cdot r_0 \approx 1,65 \cdot r_0$

$$U(\text{тригональной бипирамиды}) = 9U(r_0) + U(1,65r_0)$$

$$U(1,65r_0) \approx -\frac{1,07}{1,65^5} + \frac{0,67}{1,65^8} \approx -\frac{1,07}{12,2} + \frac{0,67}{55} \approx -0,088 + 0,012 = -0,076 \text{ эВ}$$


$$U(\text{тригональной бипирамиды}) = 9(-0,4) + (-0,076) \approx -3,68 \text{ эВ}$$

В порядке уменьшения энергии: Пятиугольник > квадратная пирамида > тригональная бипирамида (1 балл).

Полученный результат подтверждает известный факт, что чем больше плотность упаковки в кластере (чем больше касаний между атомами и чем больше слагаемых равны  $U_0$ ), тем устойчивее кластер.

## Задача 2. Загадочный октаэдр

1. Выведите формулу, описывающую зависимость числа атомов в октаэдрическом кластере от количества атомов на его ребре  $O(n)$ . (2 балла)



2. Если «разобрать» на атомы некоторый тетраэдрический кластер и затем сложить из них октаэдр, то для завершения фигуры нам понадобится один дополнительный атом металла, а ребро нового кластера будет содержать на 2 атома меньше, чем ребро исходного. Сколько атомов было в исходном кластере? Является ли полученный ответ единственным? (6 баллов)

Суммарное количество атомов в кластерах с длиной ребра в  $n$  атомов задается формулами: квадратная пирамида:  $R(n) = (2n^3 + 3n^2 + n)/6$ , тетраэдр:  $T(n) = (n^3 + 3n^2 + 2n)/6$ .

**Решение:**

$$1. O(n) = R(n) + R(n-1) = \frac{2n^3 + n}{3}.$$

2. Обозначим длину ребра тетраэдрического кластера  $x$ .

Запишем уравнение согласно условию:  $\frac{x^3 + 3x^2 + 2x}{6} + 1 = \frac{2(x-2)^3 + (x-2)}{3}$  (1 балл)

Упрощая, получаем приведенное кубическое уравнение:  $x^3 - 9x^2 + 16x - 14 = 0$  (1,5 балла)

Поскольку это уравнение имеет целые корни, то они должны быть делителями свободного члена (следствие теоремы Безу). Последовательно проверим положительные делители (так как ребро кластера не может быть отрицательной величиной):

- $x = 2$ ,  $2^3 - 9 \cdot 2^2 + 16 \cdot 2 - 14 = -10 \neq 0$  не является решением,
- $x = 7$ ,  $7^3 - 9 \cdot 7^2 + 16 \cdot 7 - 14 = 0$  является решением. (2,5 балла)

Поделим  $x^3 - 9x^2 + 16x - 14$  на  $x - 7$

$$\begin{array}{r} x^3 - 9x^2 + 16x - 14 \mid x - 7 \\ \underline{x^3 - 7x^2} \phantom{+ 16x - 14} \mid x^2 - 2x + 2 \\ -2x^2 + 16x - 14 \\ \underline{-2x^2 + 14x} \phantom{- 14} \\ 2x - 14 \\ \underline{2x - 14} \\ 0 \end{array}$$

Перепишем уравнение как  $(x - 7)(x^2 - 2x + 2) = 0$ . Квадратное уравнение во вторых скобках решений не имеет ( $D < 0$ ), поэтому  $x = 7$  - единственное решение. **(0,5 балла)**

Тогда в исходном кластере было  $T(7) = \frac{7^3 + 3 \cdot 7^2 + 2 \cdot 7}{6} = 84$  атома металла.  
**(1,5 балла)**

### Задача 3. Плоские нанотрубки

Закрытая углеродная нанотрубка (зУНТ), по сути, является фуллереном и может быть спроецирована на одну из граней с образованием плоского изображения без самопересечений (проекция Шлегеля).

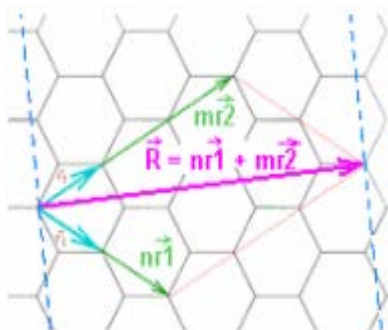


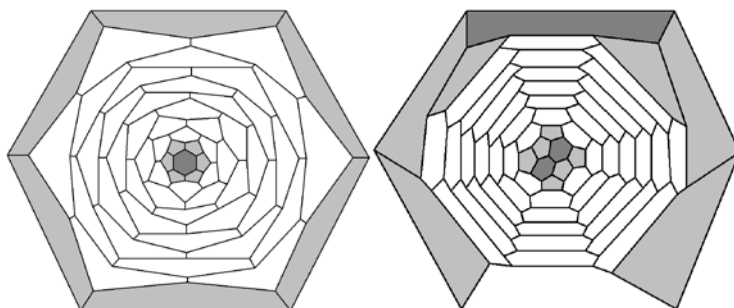
Рис. 1. Для получения нанотрубки с индексами хиральности ( $n$ ,  $m$ ), графеновую плоскость надо разрезать по пунктирным линиям и свернуть вдоль направления вектора  $R$ .

В этом примере  $n = 2$ ,  $m = 3$ .

Различают следующие типы нанотрубок:

- зубчатые,  $n = m$ ;
- зигзагообразные,  $m=0$  или  $n=0$ ;
- спиральные или хиральные нанотрубки (все остальные значения  $n$  и  $m$ ).

1. Определите тип и индексы хиральности зУНТ, представленных на рисунке ниже. (3 балла)



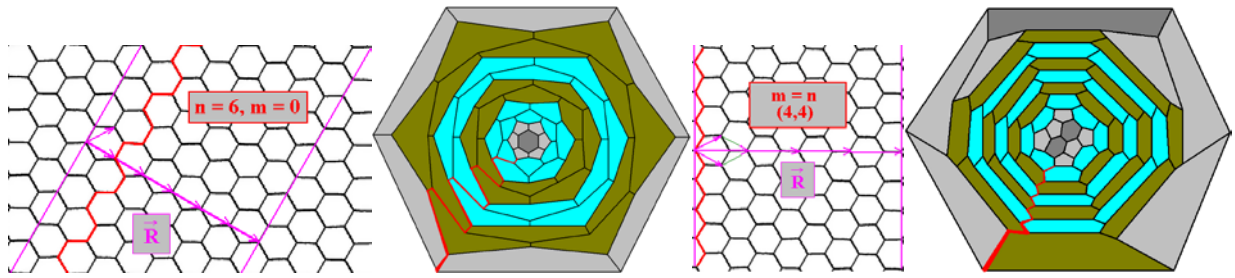
Химическую формулу зУНТ можно в общем виде записать как  $C_{x+ky}$ , где  $x$  – количество атомов в фуллерене-«родоначальнике» зУНТ,  $y$  – число атомов, добавляемых при минимальном шаге роста зУНТ,  $k$  - 0, 1, 2, 3, 4 ....

2. Определите  $x$  и  $y$  для рассматриваемых зУНТ. (3 балла)

3. Определите  $k$  для представленных на рисунке зУНТ. (2 балла)

\*Примечание: считайте, что «шапочки» нельзя поворачивать друг относительно друга при уменьшении/росте этих зУНТ.

**Решение:**



Для решения этой задачи можно было построить развертки трубок разных типов на приведенной во вспомогательных материалах графеновой сетке.

1. Допустим  $m = 0$  (трубка зигзагообразная). Тогда вдоль трубки будет расположено  $n$  цепочек атомов углерода (см. рисунок). На рис. а) мы видим именно такое расположение, определяем трубку как **(6, 0)**.

Допустим  $n = m$  (трубка зубчатая). Тогда вдоль трубки будет расположено  $2n$  параллельных цепочек атомов углерода. На рис. б) мы видим именно такие цепочки, определяем трубку как **(4, 4)**.

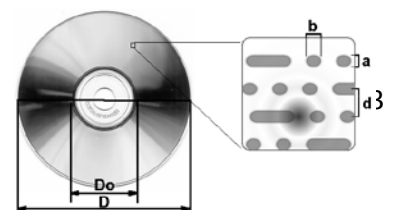
2, 3. Удаление одного шестиугольника «пояса» удаляет из фуллера 2 атома углерода (шестиугольник имеет 6 вершин, каждая из которых принадлежит одновременно 3-м шестиугольникам, поэтому на каждый шестиугольник в поясе приходится по  $6/3 = 2$  атома углерода). Нужно определить, сколько шестиугольников содержится в «поясе» каждой нанотрубки  $n_6(\text{пояс})$  (не забывая, что по условию нельзя поворачивать шапочки друг относительно друга), тогда  $y = 2n_6(\text{пояс})$ . Затем нужно определить, какое число «поясов»  $k$  мы можем удалить, прежде чем шапочки коснутся друг друга, и число шестиугольников  $n_6(\text{фуллерен})$  в оставшейся конструкции (не забывая про внешний шестиугольник, на который происходит проецирование). Каждый фуллерен содержит 12 пятиугольников (можно сосчитать на рисунках либо вывести из теоремы Эйлера применительно к фуллеренам), на которые приходится  $12 \cdot 5 \cdot 1/3 = 20$  атомов, поэтому число атомов в фуллерене  $x = 20 + 2n_6(\text{фуллерен})$ .

Трубка  $(n,m)$  и фуллерен  $C_{x+ky}$

	$(n,m)$	$n_6(\text{фуллерен})$	$x$	$k$	$n_6(\text{пояс})$	$y$
	<b>(6, 0)</b>	2	<b>24</b>	<b>4</b>	12	<b>24</b>
	<b>(4, 4)</b>	4	<b>28</b>	<b>6</b>	8	<b>16</b>

#### Задача 4. Оптический диск

Рассмотрим оптический носитель информации - диск Blu-ray. Данные на него наносятся без промежутков по спирали с



помощью последовательности участков, которые отражают или рассеивают луч лазера.

Основываясь на данных, приведенных в таблице ниже, оцените:

1. сколько витков имеет спираль с данными на этом диске? **(2 балла)**
2. какое количество информации (в гигабайтах) можно записать на такой диск? **(4 балла)**
3. какой максимальный процент от зоны записи могут занимать собственно данные? **(2 балла)**

Таблица. Примерные параметры оптического носителя информации.

Внешний диаметр зоны записи данных $D$ , мм	Внутренний диаметр зоны записи данных $D_0$ , мм	Ширина спиральной дорожки $d$ , нм	Ширина логической ячейки $a$ , нм	Длина логической ячейки $b$ , нм
120	50	320	130	150

1 Гигабайт  $\approx 8,6 \cdot 10^9$  бит

**Решение:**

1. Чтобы оценить число витков спирали с данными, необходимо рассчитать ширину зоны записи данных и поделить ее на ширину спиральной дорожки **(1 балл за способ поиска):**

$$n = \frac{D - D_0}{2d} = \frac{120 \cdot 10^{-3} - 50 \cdot 10^{-3}}{2 \cdot 320 \cdot 10^{-9}} = 109375 \text{ (1 за число)}$$

2. Для начала необходимо найти длину спиральной дорожки, то есть, рассчитать площадь зоны записи данных и поделить ее на ширину дорожки **(1,5 балла,  $L \approx 28500$  м)**. Затем делим полученную величину на длину логической ячейки и получаем число логических ячеек в спирали:  $N = \frac{\pi}{4db} (D^2 - D_0^2) = \frac{\pi}{4db} (D - D_0)(D + D_0)$ ,

$$N = \frac{\pi}{4 \cdot 320 \cdot 10^{-9} \cdot 150 \cdot 10^{-9}} (120 \cdot 10^{-3} - 50 \cdot 10^{-3})(120 \cdot 10^{-3} + 50 \cdot 10^{-3}) = 1,9 \cdot 10^{11} \text{ бит (1,5 балла)}$$

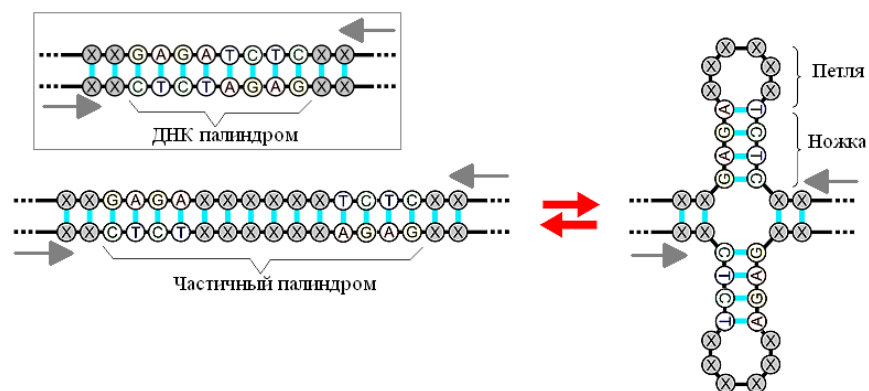
$$N = \frac{3,14}{4 \cdot 320 \cdot 10^{-9} \cdot 150 \cdot 10^{-9}} (120 \cdot 10^{-3} - 50 \cdot 10^{-3})(120 \cdot 10^{-3} + 50 \cdot 10^{-3}) = 1,9 \cdot 10^{11} \text{ бит (1,5 балла)}$$

или  **$\sim 22,1$  Гб. (1 балл)**

3. Доля площади зоны записи, занимаемая информацией, равна соотношению ширины логической ячейки и ширины дорожки (поскольку длина спиралей совпадает) **(1 балл за логику):**  $\delta = a/d \cdot 100\% = 130/320 \cdot 100\% = 40,6\%$  (т.е., данные занимают менее половины площади диска) **(1 балл)**.

### Задача 5. ДНК палиндромы

Наследственную информацию в двойной спирали молекул ДНК можно рассматривать как две параллельные строчки текста, записанные всего четырьмя буквами – **A, G, T, C**. При этом напротив каждой буквы из одной ДНК последовательности расположена строго определенная (комплементарная: **A** напротив **T**, **C** напротив **G**) буква второй последовательности.



ДНК палиндромом называется такая последовательность ДНК, прочтение которой совпадает с прочтением в обратном направлении по комплементарной цепочке (см. рис.). Например, последовательность **АТТА** – «обычный» палиндром, а последовательность **ААТТ** – ДНК палиндром.

1. Найдите вероятность того, что случайная последовательность ДНК из **8** нуклеотидов будет являться ДНК палиндромом. На какое число нуклеотидов случайной последовательности в среднем приходится один такой палиндром? **(4 балла)**

Важным биологическим свойством ДНК палиндroma является то, что если его цепочку сложить пополам, она будет сама себе комплементарна. Поэтому даже частичные ДНК палиндромы (т.е. палиндромы, имеющие в середине непалиндромную вставку) могут образовывать структуры в виде креста (см. рис.).

2. Рассчитайте вероятность того, что случайная последовательность ДНК может образовать такой крест с длиной «ножки» **6** и длиной петли\* **8** нуклеотидов? **(4 балла)**

\* Считать, что в петле крайние нуклеотиды некомплементарны, а остальные могут быть любыми. Ответы можно приводить в виде простых дробей.

**Решение:**

1. Рассчитаем вероятность того, что последовательность длиной **8** нуклеотидов является палиндромом:

всего возможно  $4^8$  вариантов последовательностей нуклеотидов;

поскольку чтобы задать ДНК палиндром, достаточно задать его первую половину (вторая половина однозначно следует из первой по правилам комплементарности, то есть ее вероятность равна единице **(1 балл)**), то всего возможно  $4^4$  вариантов палиндромов;

тогда вероятность палиндroma длиной **8** составляет  $\frac{4^4}{4^8} = \frac{1}{4^4} = \frac{1}{256}$ . **(1 балл)**

Рассмотрим некоторую большую цепочку нуклеотидов длиной **k**. Всего в ней можно выделить  $k - 8 + 1 = k - 7$  различных участков длиной **8**, каждый из которых с вероятностью  $1/256$  является палиндромом. Значит, в цепочке будет в среднем  $\frac{k - 7}{4^4}$  палиндромов, один палиндром приходится в среднем на  $\frac{k}{k - 7} 4^4$  нуклеотидов. **(1 балл)**



**балл)** При достаточно больших  $k$  ( $k \gg 7$ ), один ДНК палиндром длиной  $8$  в среднем приходится на ДНК цепочку длиной  $256$  нуклеотидов. **(1 балл)**

2. Рассмотрим вероятность формирования креста с «ножкой» длиной  $6$  из цепочки суммарной длиной  $6 \cdot 2 + 8 = 20$  нуклеотидов:

всего возможно  $4^{20}$  вариантов последовательностей нуклеотидов;

«ножку» длиной  $6$  нуклеотидов можно получить  $4^6$  способами; **(1 балл)**

петлю можно получить  $4^8$  способами, но в  $4 \cdot 4^6$  случаях из них крайние нуклеотиды будут комплементарны друг другу;

значит, число вариантов некомплементарных петель составляет  $4^8 - 4 \cdot 4^6 = 3 \cdot 4^7$ ; **(2 балла)**

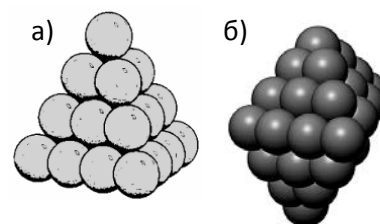
тогда вероятность такого креста составляет

$$\frac{4^6 \cdot 3 \cdot 4^7}{4^{20}} = \frac{3}{4^7} = \frac{3}{4^3 \cdot 4^3 \cdot 4} = \frac{3}{64 \cdot 64 \cdot 4} = \frac{3}{16384} \text{ (1 балл)}$$

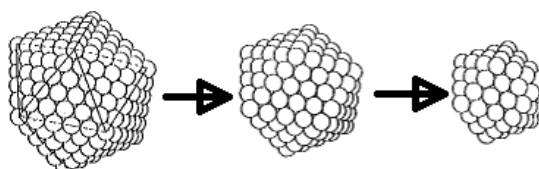
## Более сложные задачи

### Задача 6. Нанокластер как луковица

Рассмотрим четыре вида кластеров - в форме: а) тетраэдра, б) тригональной бипирамиды, в) куба, г) икосаэдра. Каждый из кластеров имеет ребро длиной в  $n$  атомов.



Представьте, что с кластера «снимают» внешний слой, имеющий толщину ровно в один атом:



Для каждого вида кластеров:

1. Определите, сколько атомов ( $n'$ ) останется на ребре после такой процедуры. **(5 баллов)**
2. Найдите длину ребра  $n_{\min}$  и общее число атомов в исходном кластере, для которого «раздевание» еще приводит к кластеру той же формы **(3 балла)**
3. Определите в общем виде, сколько атомов содержит внешний слой кластера. **(4 балла)**
4. Найдите долю поверхностных атомов для кластера с  $n_{\min}$ . **(3 балла)**
5. Сколько слоев можно выделить в кубических кластерах с общим числом атомов 512 и 125? Свой ответ обоснуйте. **(2 балла)** Чему равно число «луковичных» слоев в кубическом кластере с длиной ребра в  $n$  атомов? **(3 балла)**

Суммарное количество атомов в кластере с длиной ребра в  $n$  атомов задается формулами:

а) тетраэдр:  $T(n) = (n^3 + 3n^2 + 2n)/6$ ,

б) треугольная бипирамида:  $P(n) = (2n^3 + 3n^2 + n)/6$ ,

икосаэдр:  $I(n) = (10n^3 - 15n^2 + 11n - 3)/3$ .

**Решение:**

**1, 2.** Поскольку один атом не может иметь никакую форму, кроме шара, то минимальный кластер, имеющий форму многогранника, должен иметь ребро длиной в 2 атома.

**3.**  $\Delta N(n) = N(n) - N(n')$

**4.**

	тетраэдр		треугольная бипирамида	куб		икосаэдр
<b>1.</b> $n'$	$n - 4$	<b>1,5</b>	$n - 3$	$n - 2$	<b>1</b>	$n - 1$
<b>2.</b> $n_{\min}$	6	<b>0,5</b>	5	4	<b>0,25</b>	3
$N(n_{\min})$	56	<b>0,5</b>	55	64	<b>0,25</b>	55
<b>3.</b> $\Delta N(n)$	$2(n^2 - 2n + 2)$	<b>1</b>	$3n^2 - 6n + 5$	$2(3n^2 - 6n + 4)$	<b>1</b>	$2(5n^2 - 10n + 6)$
<b>4.</b> $\Delta N(n_{\min})$	52	<b>0,25</b>	50	56	<b>0,25</b>	42
$\delta$	$\frac{52}{56} \approx 0,93$	<b>0,5</b>	$\frac{50}{55} \approx 0,91$	$\frac{56}{64} = 0,875$	<b>0,5</b>	$\frac{42}{55} \approx 0,76$

**5.**  $C(n) = 512 (= 8^3)$  при  $n = 8$ , можно «снять» последовательно 3 слоя (8-6-4-2) и в итоге останется куб со стороной 2. **(1 балла)**

$C(n) = 125 (= 5^3)$  при  $n = 5$ , можно «снять» последовательно 2 слоя (5-3-1) и в итоге останется один атом **(1 балла)**

Число слоев в произвольном кубическом кластере:  $k = n/2 - 1$  при  $n:2$ , или  $\left[ \frac{n-1}{2} \right]$ ,  
 $k = (n-1)/2$  при  $(n-1):2$

общее условие -  $n \geq 3$ . **(1,5 балл за чет) (1,5 балл за нечет)**

### Задание 7. Многогранники $X_{60}$

Рассмотрим выпуклый многогранник  $Z$ , состоящий из  $x$   $n$ -угольников и  $y$   $m$ -угольников, в каждой вершине которого сходятся по 3 ребра.

1. Выразите число вершин многогранника  $Z$  через  $x$ ,  $y$ ,  $n$ ,  $m$ . (2 балла)

2. Сколько ребер в  $Z$ , если он имеет 60 вершин? (1 балл)

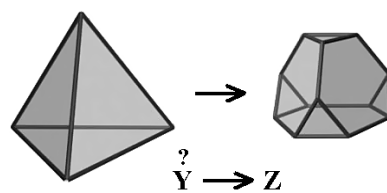
Для выпуклых многогранников справедлива теорема Эйлера:  $\Gamma + B - P = 2$  (где  $\Gamma$ ,  $B$ ,  $P$  – количество, соответственно, граней, вершин и ребер).

3. Запишите теорему Эйлера для многогранника  $Z$ . Сколько всего в нем граней? (2 балла)

Все вершины многогранника  $Z$  принадлежат разделенным (не имеющим общих ребер)  $n$ -угольникам.

4. Определите все удовлетворяющие вышеприведенным условиям пары  $n$ - и  $m$ -угольников, из которых может быть составлен  $Z$ . Рассчитайте соответствующие им значения  $x$  и  $y$ . (5 баллов)

5. Рассмотрим усечение всех вершин некоторого многогранника, так, что секущие плоскости при этом не соприкасаются (см. пример на рис.). Основываясь на п.4, реконструируйте, усечением каких выпуклых многогранников  $Y$  можно получить некоторые из найденных  $Z$ . (4 балла)



Далее рассмотрим многогранники  $Z$ , которые можно получить усечением выпуклых многогранников.

6. Какие выпуклые многогранники получатся, если в них соединить центры  $m$ -угольных граней? (1 балл)

7. Сколько различных типов вершин и ребер содержит каждый из рассматриваемых  $Z$ ? (1 балл)

8. Сколько разных изомеров (фигур, не совмещаемых друг с другом вращением в пространстве) получится, если у каждого из рассматриваемых  $Z$  в пределах одной грани пометить две вершины? Ответ проиллюстрируйте рисунками. (4 балла)

**Решение:**

1. Каждая вершина многогранника  $Z$  одновременно принадлежит 3 разным многоугольникам, каждый  $n$ - и  $m$ -угольник содержит по  $n$  и  $m$  вершин, соответственно, значит  $x$   $n$ -угольников и  $y$   $m$ -угольников содержат суммарно  $\frac{nx + my}{3}$  вершин.

2. В каждой вершине сходятся по 3 ребра, одно ребро принадлежит двум вершинам, значит, число ребер в многограннике  $Z$  равно  $60 \cdot 3 / 2 = 90$ .

3. Число граней в многограннике  $Z$  равно  $x + y$ . Подставляя в теорему Эйлера число вершин и ребер находим:

$$x + y + 60 + 90 = 2, \text{ тогда } x + y = 32.$$

Значит, в многограннике **Z** суммарно **32** грани.

4. Поскольку все вершины **Z** принадлежат разделенным **n**-угольникам, то  $nx = 60$ .

С учетом предыдущих пунктов получаем систему из трех уравнений с четырьмя неизвестными:

$$x + y = 32 \qquad y = 32 - x$$

$$nx + my = 180 \rightarrow my = 120$$

$$nx = 60 \qquad x = 60/n$$

Объединяя все уравнения системы в одно и выражая **m** через **n**, получаем:

$$m = \frac{30}{8 - 15/n} = \frac{30n}{8n - 15}$$

При этом (т.к. **n** и **x** – натуральные числа и  $nx = 60$ ) **n** должно быть делителем 60. Подставляя последовательно в качестве **n** 3, 4, 5, 6, 10, находим два решения. Поскольку  $n < 60$  (число вершин грани не может быть больше числа вершин всего многогранника), то  $m > 3,9$ . Поскольку функция **m(n)** монотонно убывает, то в интервале **m** от 4,6 до 3,9 возможно только одно целочисленное **m** = 4, находим, что оно соответствует **n** = 30.

n	<b>3</b>	4	<b>5</b>	6	10	...	<b>30</b>	...	60
m	<b>10</b>	7,06	<b>6</b>	5,5	4,6	$4,6 > m > 4$	<b>4</b>	$4 > m > 3,9$	3,9

Тогда:

разделенные n-угольники	x	m-угольник	y
3	20	10	12
5	12	6	20
30	2	4	30

5, 6. При усечении вершины выпуклого многогранника на каждом ребре появляется по 2 новых вершины, т.е. число вершин грани увеличивается вдвое. Соответственно грани, образовавшиеся из граней исходного многогранника при усечении его вершин, должны содержать четное число вершин. В свою очередь, грани, содержащие нечетное число вершин могут получиться вместо отсекаемых вершин, в которых сходились соответствующее нечетное число ребер.

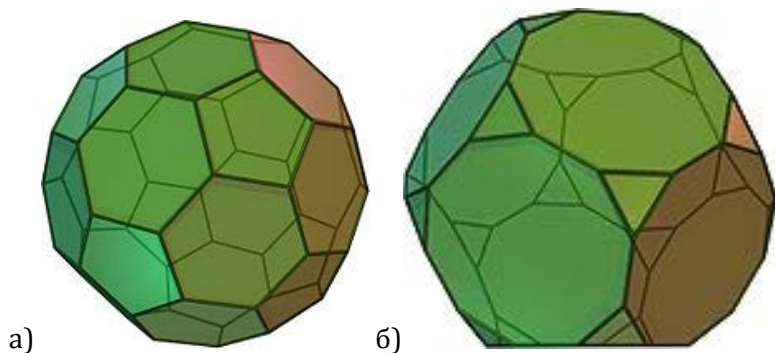
Рассмотрим с таким подходом все три полученных нами многогранника:

а) 20 шестиугольников появились на месте 20-ти треугольников, при этом 12 пятиугольников получились на месте усеченных 12 вершин, в которых сходились по 5 граней. 20 треугольных граней, сходящихся по пять в вершине, вершин 12 – это **икосаэдр**.

Центры 20-ти шестиугольников лежат в вершинах **додекаэдра**.

б) 12 десятиугольников получились из 12 пятиугольников, при этом 20 треугольников образовались на месте 20 вершин, в которых сходилось по 3 грани. 12 пятиугольников и 20 вершин, в вершине сходятся по 3 грани – это **додекаэдр**.

Центры 12-ти десятиугольников лежат в вершинах **икосаэдра**.



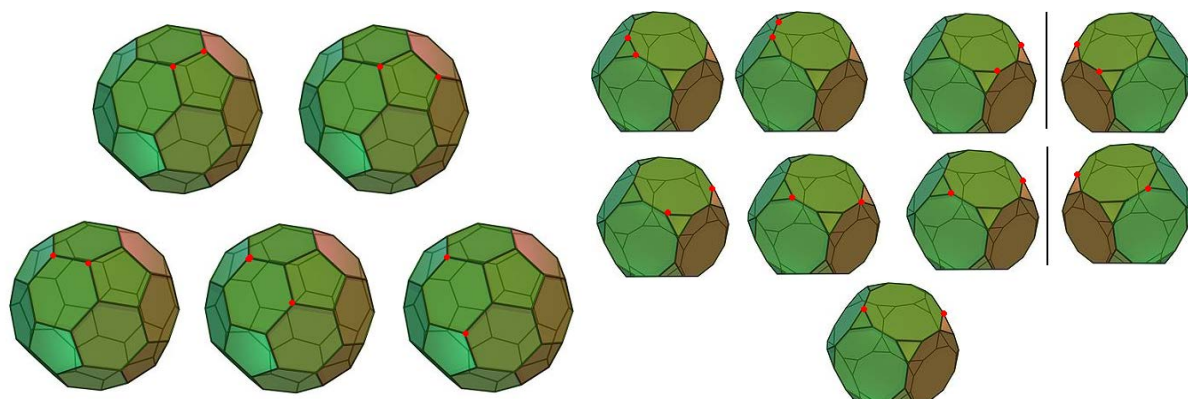
Таким образом, усеченный икосаэдр – это не единственная высокосимметричная форма каркаса  $X_{60}$ .

в) Многогранник, содержащий 2 разделенных 30-тиугольника, представляет собой призму и не может быть получен отсечением вершин выпуклого многогранника описанным в условии способом.

7. Каждый из усеченных многогранников **Z** имеет полностью идентичные вершины и 2 типа ребер: принадлежащие разделенным многогранникам и соединяющие вершины соседних разделенных многогранников.

**8. усеченный икосаэдр: 5 изомеров (2 балла)**

усеченный додекаэдр: любые две вершины треугольника принадлежат также одному десятиугольнику, поэтому при поиске изомеров можно рассматривать только десятиугольник. Десятиугольник имеет 2 типа ребер, поэтому возможны 9 изомеров (см. рис.) (2 балла)



## Задание 8. Икосаэдрические фуллерены и сетка шестиугольников

Любой икосаэдрический фуллерен можно представить в виде «выкройки» на графеновой плоскости (рис. 1). Общее число атомов при этом определяется по формуле  $N = 20(n^2 + nm + m^2)$ , где натуральные числа  $n$  и  $m$  – индексы хиральности – задают радиус-вектор  $\vec{R} = n\vec{r}_1 + m\vec{r}_2$ , равный стороне треугольника «выкройки».

1. Найдите все пары индексов  $n$  и  $m$ , которые задают икосаэдрические изомеры фуллерена  $C_{7220}$ , последовательно ответив на вопросы:

а) Может ли заданному составу соответствовать пара индексов  $n = m$  или пара с  $n = 0$  либо  $m = 0$ ? Если нет, то найдите ближайшие по составу икосаэдрические фуллерены, удовлетворяющие таким условиям. (3 балла)

б) Поясните, в какой области на рис. 2 расположены возможные хиральные изомеры  $C_{7220}$ ? Как с использованием карандаша и сетки шестиугольников приблизительно очертить зону их поиска? Ответ при необходимости проиллюстрируйте схематическими рисунками. (3 балла)

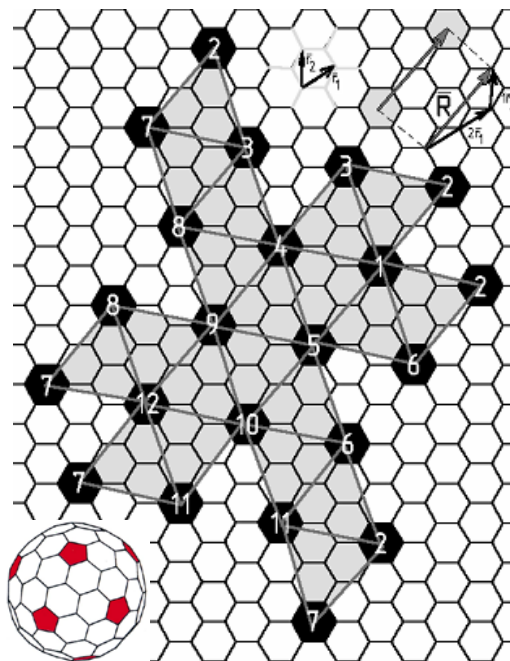


Рис. 1. Пример развертки икосаэдрического фуллерена  $C_{140}$  на графеновой плоскости ( $n = 2$ ,  $m = 1$ ); если склеить вершины треугольников с одинаковыми номерами, получится фуллерен. На графеновой плоскости отмечены единичные векторы  $r_1$  и  $r_2$  и показан задающий развертку вектор

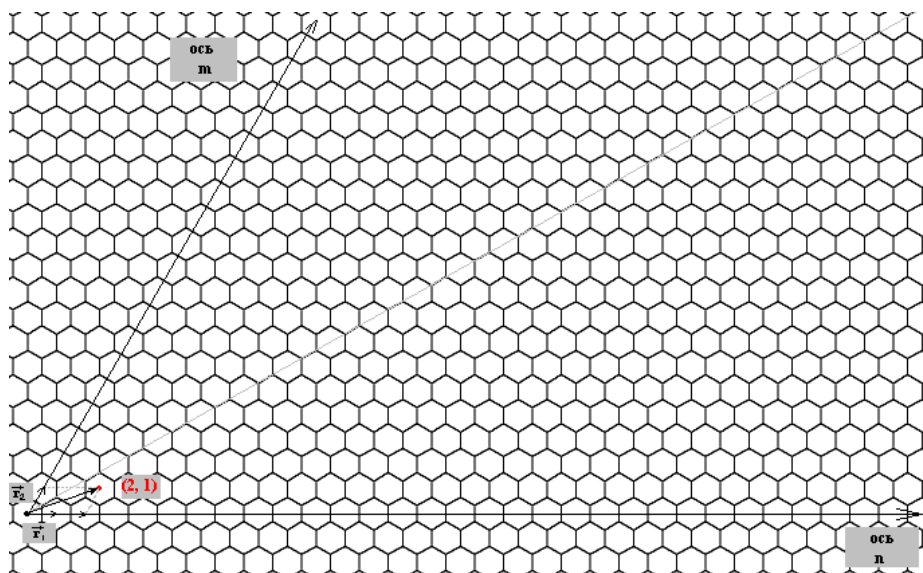


Рис. 2. Сетка шестиугольников. Показаны единичные векторы и вектор, задаваемый  $(n, m) = (2, 1)$ .

в) Есть ли хиральные изомеры у фуллерена  $C_{7220}$ , и если да – перечислите их. (5 баллов)

2. Докажите верность утверждения: если у икосаэдрического фуллерена есть изомер с  $m = 0$ , то среди всех изомеров данного фуллерена он обладает минимальной суммой индексов хиральности  $n + m$ . (2 балла)


3. Примерно оцените число всех икосаэдрических фуллеренов, чьи формулы лежат в диапазоне от  $C_{7220}$  до  $C_{18000}$ . (7 баллов)

**Вспомогательные данные к задачам по математике:**

Приближенные значения квадратных корней:

$$\sqrt{2} \approx 1,4, \sqrt{3} \approx 1,7, \sqrt{5} \approx 2,2, \sqrt{7} \approx 2,6, \sqrt{11} \approx 3,3, \sqrt{13} \approx 3,6$$

Отношение диагонали правильного пятиугольника к его стороне равно золотому сечению  $(1 + \sqrt{5})/2$ .



**Решение:**

1.

а) Подставляя в формулу фуллерена  $n = m$ , получаем, что  $60n^2 = 7220$  и  $n^2 = 120,333(3)$ . Поскольку  $n$  – натуральное число, то вариант  $n = m$  для состава  $C_{7220}$  не подходит. Ближайший квадрат натурального числа  $11^2 = 121$  отвечает индексам хиральности  $(11,11)$  и соответствует составу  $C_{7260}$ .

Подставляя  $m = 0$ , получаем:  $20n^2 = 7220$ ,  $n^2 = 361$  и  $n = 19$ .

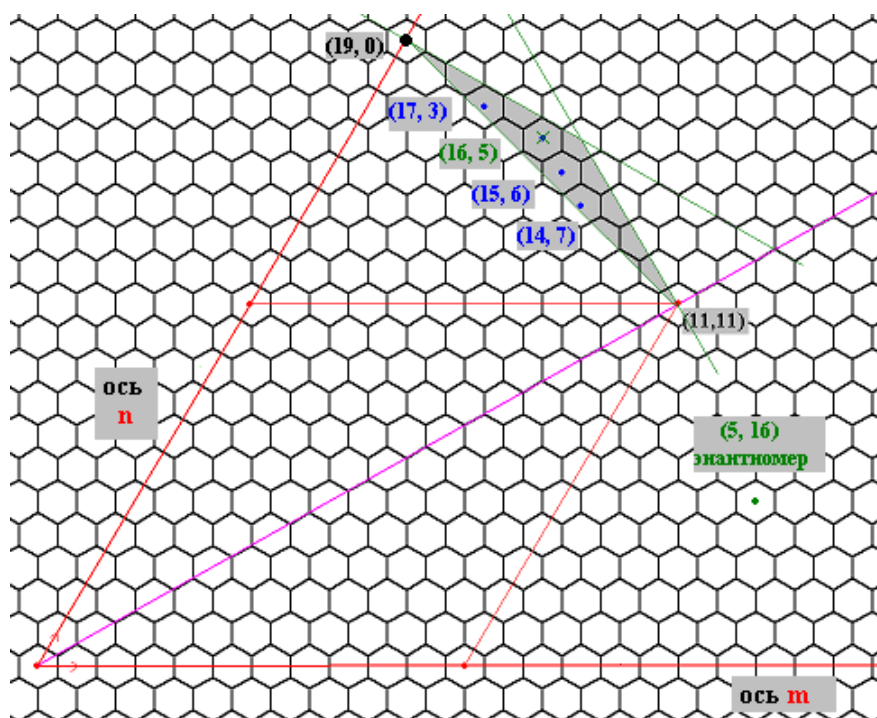
Таким образом, первый найденный изомер  $C_{7220}$  –  $(19, 0)$ .

б, в) Поскольку для всех изомеров длина радиус-вектора  $R$  неизменна, то все изомеры будут лежать на окружности, проходящей через точку  $(19, 0)$ . Эта окружность пересекает биссектрису чуть ближе к началу координат, чем точка  $(11, 11)$ .

Из обеих точек построим перпендикуляры, тем самым, сузив область поиска сверху. Немного отступив от точки  $(11, 11)$  в сторону начала координат, проведем отрезок к точке



(19, 0) (хорда рассматриваемой окружности). Искомый хиральный изомер должен лежать внутри закрашенной области, внутрь которой попало всего 4 центра шестиугольников (соответствующие им индексы хиральности подписаны на рисунке). Рассчитывая формулы фуллеренов для этих 4-х пар ( $\mathbf{m}$ ,  $\mathbf{n}$ ), находим, что формуле  $C_{7220}$  соответствует только пара индексов (16, 5). Симметрично биссектрисы расположен его энантиомер (5, 16).

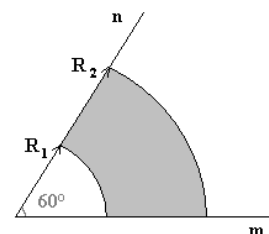


2. По условию, фуллерены ( $\mathbf{n}$ , 0) и ( $\mathbf{n}_2$ ,  $\mathbf{m}_2$ ) изомеры. Значит:  $20\mathbf{n}^2 = 20(\mathbf{n}_2^2 + \mathbf{n}_2\mathbf{m}_2 + \mathbf{m}_2^2)$  или  $\mathbf{n}^2 = (\mathbf{n}_2 + \mathbf{m}_2)^2 - \mathbf{n}_2\mathbf{m}_2$

Поскольку индексы хиральности – натуральные числа, то слагаемое  $\mathbf{n}_2\mathbf{m}_2 > 0$ , следовательно,  $\mathbf{n}^2 < (\mathbf{n}_2 + \mathbf{m}_2)^2$  и  $\mathbf{n} < \mathbf{n}_2 + \mathbf{m}_2$

Также возможно геометрическое доказательство: поскольку  $\vec{\mathbf{R}} = \mathbf{n}\vec{\mathbf{r}}_1 = \mathbf{n}_2\vec{\mathbf{r}}_1 + \mathbf{m}_2\vec{\mathbf{r}}_2$ , то можно составить треугольник, одна из сторон которого будет иметь длину, равную  $\mathbf{n}|\vec{\mathbf{r}}_1|$ , а две другие -  $\mathbf{n}_2|\vec{\mathbf{r}}_1|$  и  $\mathbf{m}_2|\vec{\mathbf{r}}_2|$ , для которого, по неравенству треугольника, сумма двух сторон ( $\mathbf{n}_2|\vec{\mathbf{r}}_1| + \mathbf{m}_2|\vec{\mathbf{r}}_2|$ ) будет больше третьей стороны ( $\mathbf{n}|\vec{\mathbf{r}}_1|$ ). Поскольку длины единичных векторов равны, то  $\mathbf{n}_2 + \mathbf{m}_2 > \mathbf{n}$ , что и требовалось доказать.

3. Для ответа на вопрос необходимо понять, где на рис.2 расположены точки, отвечающие искомым фуллеренам. Они лежат в центрах шестиугольников, расположенных в области, ограниченной двумя концентрическими окружностями (с радиусами, равными длинам радиус векторов, задающих фуллерены  $C_{7220}$  и  $C_{18000}$ ) и осями  $\mathbf{n}$  и  $\mathbf{m}$ .



Обозначим  $r = |\vec{\mathbf{r}}_1| = |\vec{\mathbf{r}}_2|$ , тогда для  $C_{7220}$  (19,0):

$$R_1 = \left| \vec{\mathbf{R}}_{C_{7200}} \right| = \left| 19\vec{\mathbf{r}}_1 + 0\vec{\mathbf{r}}_2 \right| = 19r$$



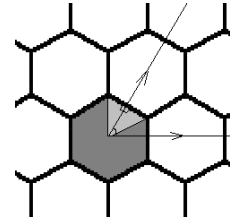
Для фуллерена  $C_{18000}$ :  $18000 = 20(n^2 + nm + m^2)$  или  $n^2 + nm + m^2 = 30^2$ , что соответствует возможным индексам хиральности (30,0).

Тогда:  $R_2 = \left| \vec{R}_{C_{18000}} \right| = 30r$ .

Примерно можно считать, что в закрашенную фигуру площадью  $S$  попадает примерно  $S/S_6$  центров шестиугольников.

Площадь  $S = 360^\circ/60^\circ \cdot (\pi R_2^2 - \pi R_1^2) = 539/6 \cdot \pi r^2$

В то же время, площадь одного шестиугольника сетки (выраженная через  $r$ ) равна  $S_6 = 6 \cdot 0,5 \left( r/\sqrt{3} \right)^2 \sin(60) = r^2 \sqrt{3}/2$



Значит,  $S/S_6 = 539/6 \cdot \pi r^2 / (r^2 \sqrt{3}/2) = 539\pi / (3\sqrt{3}) \approx 326$  шестиугольников. То есть, число всех возможных **икосаэдрических фуллеренов**, чьи формулы лежат в диапазоне от  $C_{7220}$  до  $C_{18000}$ , составляет примерно **326** (точное число, получаемое моделированием на компьютере – 329).