

## 10 класс

### 10 класс. Задача 1: “Нелинейная резинка”

Растяжение стержней описывается обобщенным законом Гука

$$\sigma = E\varepsilon,$$

где  $\sigma = F/S$  – механическое напряжение,  $\varepsilon = \Delta l/l$  – относительное удлинение,  $E$  – модуль Юнга. При растяжении тела наряду с изменениями продольных размеров происходит также изменение его поперечных размеров, которые характеризуются коэффициентом Пуассона. Коэффициент Пуассона  $\nu$  представляет собой отношение относительного уменьшения поперечных размеров тела к относительному увеличению его продольных

размеров: 
$$\nu = -\frac{\Delta d/d}{\Delta l/l}.$$

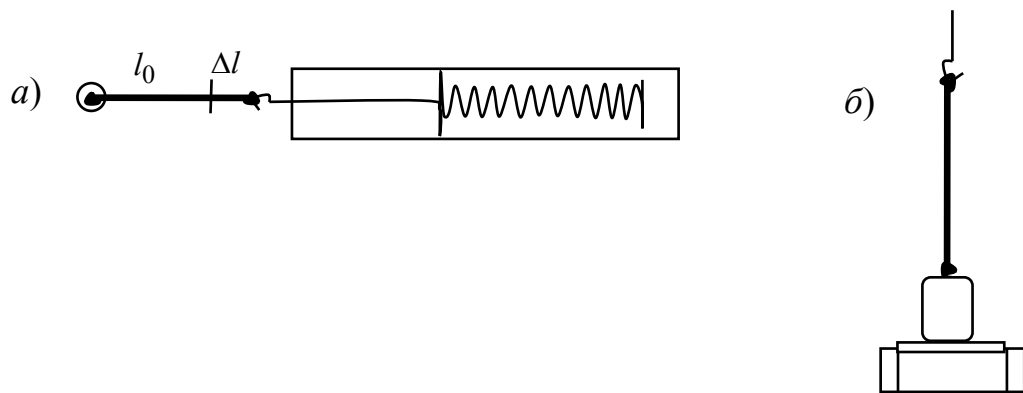
#### Задание

1. Исследуйте зависимость продольного растяжения резинки  $x$  от приложенной к ней силы  $F$ .
2. Зависимость силы от смещения имеет вид  $F(x) = ax^b$ . Определите параметры  $a$  и  $b$  этой зависимости.
3. Определите модуль Юнга и коэффициент Пуассона резинки.

**Оборудование:** резинка, груз 150-200 г, электронные весы, канцелярский зажим, линейка, микрометр по требованию, миллиметровая бумага, пластиковый стакан, вода, нитки и ножницы по требованию.

#### Решение

Измерения продольного растяжения резинки могут быть проведены в наиболее простой конфигурации опыта с использованием пружинного динамометра, рис. 1а, причем другой конец резинки крепится с помощью длинной кнопки к столу или дощечке. С целью достижения более высокой точности результатов, эксперимент может быть проведен с использованием электронных весов с точностью 0.01 г и груза, не превышающего предела измерений этих весов (в эксперименте были использованы весы с пределом измерения 200 г), рис. 1б.



1. Исследование зависимости продольного растяжения резинки от приложенной к ней продольной силы.

На рис. 2а приведены результаты измерений для тестового эксперимента (точки) с наложенной эмпирической функциональной зависимостью (пунктир) вида

$$F = a(\Delta l)^b, \text{ где } a = 0.1239, \quad b = 0.611.$$

Длина нерастянутой резинки составила  $l_0 = 16.5$  мм, толщина  $d_0 = 2$  мм.

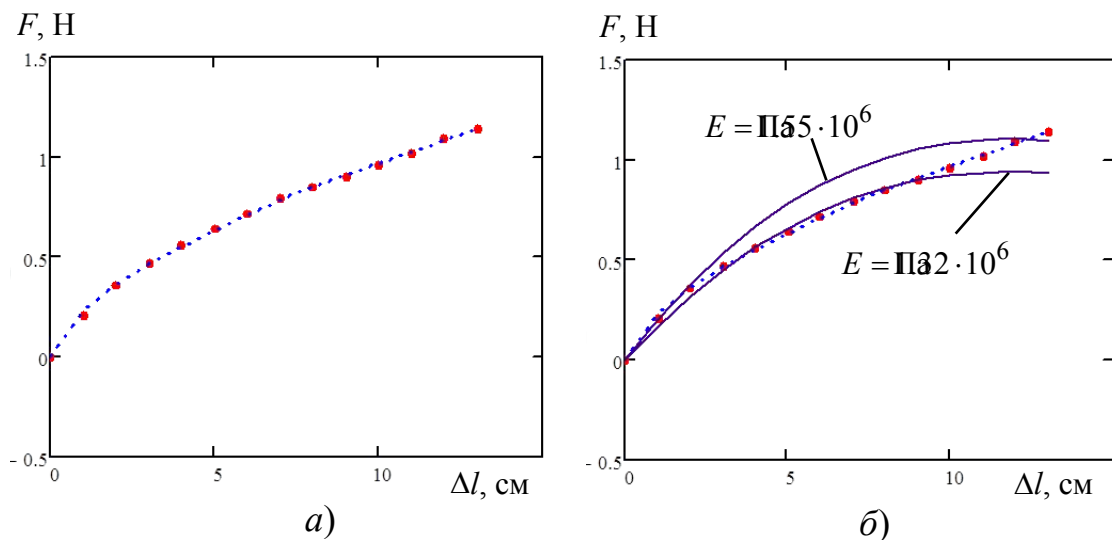


Рис. 2. Зависимости силы упругости от продольного удлинения

Для объяснения наблюдаемой нелинейности проведем следующее рассмотрение. Растяжение и сжатие стержней и нитей, как правило, описывают линейным обобщенным законом Гука, который в терминах механического напряжения  $\sigma = F/S$  и относительного удлинения  $\varepsilon = \Delta l/l$  имеет вид

$$\sigma = E\varepsilon,$$

где  $E$  – модуль Юнга резины. При растяжении тела наряду с изменениями продольных размеров происходит также изменение его поперечных размеров, которые характеризуются коэффициентом Пуассона. Коэффициент Пуассона  $\nu$  представляет собой отношение относительного уменьшения поперечных размеров тела к относительному увеличению его продольных размеров:

$$\nu = -\frac{\Delta d/d_0}{\Delta l/l_0}.$$

Учтем изменение толщины резинки при ее удлинении. Из следует выражение для изменения размера поперечного сечения резинки

$$\Delta d = -\frac{\nu d_0 \Delta l}{l_0}.$$

В экспериментах использовалась резинка квадратного сечения, поэтому площадь поперечного сечения резинки будет

$$S = (d_0 + \Delta d)^2 = \left( d_0 - \frac{\nu \Delta l d_0}{l_0} \right)^2 = d_0^2 \left( 1 - \frac{\nu \Delta l}{l_0} \right)^2.$$

Подставляя в , получим

$$F = E d_0^2 \frac{\Delta l}{l_0} \left( 1 - \nu \frac{\Delta l}{l_0} \right)^2.$$

На основе экспериментальной зависимости силы  $F$  от  $\Delta l$  или  $F$  от  $\Delta l/l_0$  можно определить модуль Юнга резины  $E$  и коэффициент Пуассона  $\nu$ . Для определения модуля Юнга необходимо брать область малых значений  $\Delta l$ , в которой поправка за счет коэффициента Пуассона сказывается слабо.

$$E = \frac{F_0 l_0}{\Delta l d_0^2}.$$

Полученные согласно теоретические кривые представлены на рис. 1б сплошными линиями при значениях модуля Юнга  $E_{12} = 155 \cdot 10^6$ , определенному по первой и второй точкам зависимости, и при  $E_{13} = 132 \cdot 10^6$ , определенному по первой и третьей точкам зависимости. Найденные значения модуля Юнга близки к справочному табличному значению модуля Юнга резины  $E = 15 \cdot 10^6$ . Несколько различающийся характер теоретических и экспериментальных зависимостей позволяет

сделать вывод о наличии неучтенного механизма, влияющего на силу упругости резинки, например, нарастание жесткости при больших удлинениях, связанную с нарушением линейного закона Гука при больших деформациях.

Для определения коэффициента Пуассона уравнение можно преобразовать к виду

$$\sqrt{\frac{Fl_0}{Ed_0^2\Delta l}} = 1 - \nu \frac{\Delta l}{l_0}.$$

Определение углового коэффициента в полученной линейризованной зависимости позволяет найти коэффициент Пуассона  $\nu = 0.426$ , рис. 3. Нелинейность в экспериментальной зависимости также позволяет сделать вывод о наличии нарастания жесткости при больших удлинениях.

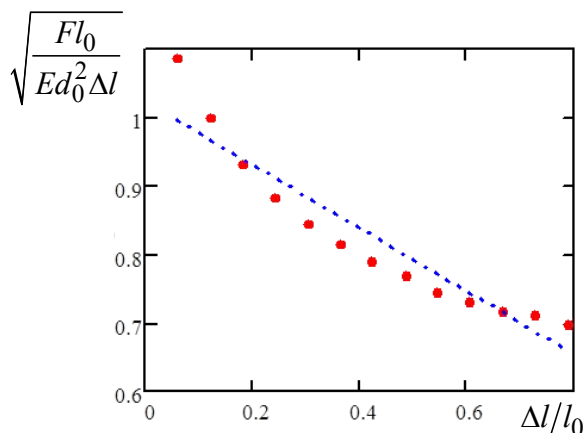


Рис. 3. К определению коэффициента Пуассона

Для проверки полученного значения коэффициента Пуассона было проведено измерение объема исследуемой резинки в нерастянутом и растянутом состояниях методом гидростатического взвешивания.

Поскольку

$$V = V_0 (1 + \varepsilon)(1 - \nu\varepsilon)^2,$$

коэффициент Пуассона может быть найден как

$$\nu = \frac{1}{\varepsilon} \left( 1 - \sqrt{\frac{V}{V_0(1 - \varepsilon)}} \right).$$

Полученное в эксперименте при относительном удлинении  $\varepsilon = 0.35$  по формуле значение  $\nu = 0.52 \pm 0.03$ . Справочное значение коэффициента Пуассона для резины  $\nu = 0.5$  попадает в доверительный интервал результата эксперимента на основе гидростатического взвешивания, но отличается на

15 % от значения, полученного на основе зависимости силы упругости от относительного удлинения.

### Критерии оценивания

1.	Описана установка	1 балл
2.	Проведены измерения п. 1 в диапазоне от 0 до веса груза, результаты сведены в таблицу.	1 балл
3.	Построен график $\ln F$ от $\ln \Delta l$ . (0,5 балла), правильно указаны физические величины на осях и единицы их измерения (0,5 балла), шкала (значения целые, четные или делящиеся на 5) (0,5 балла), правильно выбран масштаб по осям (кривая занимает не менее 75 % от поля графика) (0,5 балла)	2 балла
4.	Найдены значения показателя $a$	1 балл
5.	Найдены значения показателя $b$ .	1 балл
6.	Выведена формула для $E$	1 балл
7.	Определен модуль Юнга резинки. Значение попало в интервал $E = (\text{Па} \dots 1.7) \cdot 10^6$	2 балла
8.	Определен коэффициент Пуассона методом 1 Выведена формула	2 балла
9.	Определен коэффициент Пуассона резинки по графику на основе . Значение попало в интервал 0.4...0.6	1 балл
10.	Или определен коэффициент Пуассона методом 2 Выведена формула для $\nu$	2 балла
11.	Определен коэффициент Пуассона резинки на основе . Значение попало в интервал 0.45...0.55	1 балл
12.	Или определен коэффициент Пуассона методом 3 (по непосредственному измерению толщины резинки)	3 балла

Оцениваются 2 метода определения коэффициента Пуассона из трех описанных в авторском решении.

## 10 класс. Задача 2: “Тепловые свойства свечи”

В задачах на теплообмен обычно предполагается, что количество теплоты, отдаваемое горячим телом в единицу времени прямо пропорционально разности температур между горячим и холодным телом. Следовательно, можно записать следующее выражение:

$$C\Delta T = \alpha(T_{\text{в}} - T_{\text{к}}) \Delta t,$$

где  $C$  – теплоемкость воды,  $\Delta T$  – изменение температуры воды за малое время  $\Delta t$ ,  $T_{\text{в}}$  – температура воды,  $T_{\text{к}}$  – температура окружающей среды,  $\alpha$  – коэффициент пропорциональности, зависящий от свойств отдающего тепло вещества, площади и формы поверхности, через которую передается тепло. Коэффициент теплопередачи  $\alpha$  для воды остается почти постоянным примерно до  $80^{\circ}\text{C}$ . При больших температурах он начинает расти из-за интенсификации испарения.

Путем обработки полученных экспериментальных данных определите удельную теплоту плавления парафина. Удельная теплоемкость воды  $C_{\text{в}} = 4200 \text{ Дж}/(\text{кг}\cdot^{\circ}\text{C})$ , парафина  $C_{\text{п}} = 2200 \text{ Дж}/(\text{кг}\cdot^{\circ}\text{C})$ . Теплоемкостью кофейной чашки и алюминиевой чашечки свечи в условиях эксперимента можно пренебречь.

Внимание!!! При работе с горячей водой соблюдать предельную осторожность и проявить максимальное внимание с целью избежать опрокидывания стакана с водой!

Парафин из фольгового стаканчика свечи в воду не выливать!

**Оборудование:** плавающая свеча, латунная проволока, кофейная чашка, бумажный или пластиковый стакан, крышка для стакана, мультиметр с термопарой, секундомер, электронные весы по требованию, комнатный термометр (общий на аудиторию), горячая и холодная вода по требованию.

### Задание:

1. Определите температуру плавления парафина.
2. Определите коэффициент теплоотдачи  $\alpha$  чашки с водой с плавающей в ней свечой.
3. Определите удельную теплоту плавления парафина.

## Решение

Основная сложность при проведении этого эксперимента, заключается в том, что парафин плохо проводит тепло, и плавление и застывание идут неравномерно по объему. Для нейтрализации этого эффекта в опыте целесообразно использовать латунную спираль, перераспределяющую тепло по парафину.

Взвесим свечу и измерим ее начальную температуру  $T_{n0}=T_k$ . Вставим кофейную чашку в бумажный стакан для уменьшения теплопотерь. Нальем кипящую воду в кофейную чашку, взвесим ее. Пустим плавать в нее парафиновую свечу, предварительно уложив на парафин сверху спираль из латуни для равномерности распределения тепла по парафину. Будем измерять зависимость температуры воды вблизи свечи и парафина от времени.

Обозначим начальную температуру воды  $T_{e0}$ , комнатную температуру  $T_k$ , температуру плавления парафина  $T_{nl}$ , температуру воды при которой начал плавиться парафин  $T_{e1}$ , температуру воды, при которой расплавился парафин  $T_{e2}$ , температуру воды, при которой начал застывать парафин  $T_{e3}$ , температуру воды, при которой парафин застыл  $T_{e4}$ . Тогда уравнение теплового баланса на этапе нагрева парафина до температуры плавления будет

$$c_e m_e (T_{e0} - T_{e1}) = c_n m_n (T_{nl} - T_k) + \sum_{i=1}^{n_1} \alpha (T_{ei} - T_k) \Delta t_i$$

Уравнение позволяет найти коэффициент теплопотерь  $\alpha$

$$\alpha = \frac{c_e m_e (T_{e0} - T_{e1}) - c_n m_n (T_{nl} - T_k)}{\sum_{i=1}^{n_1} (T_{ei} - T_k) \Delta t_i}$$

Уравнение теплового баланса на этапе плавления парафина будет

$$c_e m_e (T_{e1} - T_{e2}) = \lambda m_n + \sum_{i=n_1+1}^{n_2} \alpha (T_{ei} - T_k) \Delta t_i$$

Уравнение теплового баланса между полным расплавлением парафина и началом отвердевания (начальная и конечная температуры парафина одинаковы и равны  $T_{nl}$ ) будет

$$c_{\text{в}} m_{\text{в}} (T_{\text{в}2} - T_{\text{в}3}) = \sum_{i=n_2+1}^{n_3} \alpha (T_{\text{в}i} - T_{\text{к}}) \Delta t_i$$

Тогда коэффициент теплопотерь

$$\alpha = \frac{c_{\text{в}} m_{\text{в}} (T_{\text{в}2} - T_{\text{в}3})}{\sum_{i=n_2+1}^{n_3} (T_{\text{в}i} - T_{\text{к}}) \Delta t_i}$$

Уравнение теплового баланса на этапе отвердевания парафина будет

$$\lambda m_n + c_{\text{в}} m_{\text{в}} (T_{\text{в}3} - T_{\text{в}4}) = \sum_{i=n_3+1}^{n_4} \alpha (T_{\text{в}i} - T_{\text{к}}) \Delta t_i$$

Уравнение теплового баланса на этапе охлаждения застывшего парафина будет

$$c_{\text{в}} m_{\text{в}} (T_{\text{в}4} - T_{\text{в}5}) + c_n m_n (T_{nl} - T_{n5}) = \sum_{i=n_2+1}^{n_3} \alpha (T_{\text{в}i} - T_{\text{к}}) \Delta t_i$$

Уравнение также позволяет найти коэффициент теплопотерь  $\alpha$ :

$$\alpha = \frac{c_{\text{в}} m_{\text{в}} (T_{\text{в}4} - T_{\text{в}5}) + c_n m_n (T_{nl} - T_{n5})}{\sum_{i=n_2+1}^{n_3} (T_{\text{в}i} - T_{\text{к}}) \Delta t_i}$$

Учитывая, что при высоких температурах  $\alpha$  возрастает, большей надежностью обладают расчеты на основе и .

Коэффициент  $\alpha$  может быть найден также путем графического дифференцирования зависимости температуры от времени (построение касательной и определение ее углового коэффициента).

Уравнения и позволяют найти удельную теплоту плавления  $\lambda$ :

$$\lambda = \frac{c_{\text{в}} m_{\text{в}} (T_{\text{в}1} - T_{\text{в}2}) - \alpha \sum_{i=n_1+1}^{n_2} (T_{\text{в}i} - T_{\text{к}}) \Delta t_i}{m_n}$$



$$\lambda = \frac{\alpha \sum_{i=n_3+1}^{n_4} (T_{vi} - T_k) \Delta t_i - c_{\text{в}} m_{\text{в}} (T_{\text{в}3} - T_{\text{в}4})}{m_n} .$$

Альтернативным методом нахождения  $\lambda$  является расплавление парафина свечи в горячей воде и перекалывание свечи в воду комнатной температуры. При этом, поскольку изменение температуры воды относительно комнатной при застывании парафина мало, теплотерями можно пренебречь.

$$\lambda = \frac{1}{m_n} (c_{\text{в}} m_{\text{в}} \Delta T_{\text{хв}}) = \frac{c_{\text{в}} m_{\text{в}}}{m_n} (T_{\text{хв}1} - T_k) .$$

Однако, поскольку в этом методе свеча с парафином имеет более высокую температуру, чем вода, и свеча находится сверху, конвективный теплообмен в воде будет затруднен. Поэтому для обеспечения равномерности температуры по объему воды нужно ее принудительное перемешивание. Застывание парафина также трудно зафиксировать из-за образующейся непрозрачной корочки на поверхности свечи.

Для уменьшения относительной погрешности, связанной с округлением при измерении температуры необходимо увеличение перепада температуры воды, что достигается, когда количество воды не слишком велико.

### Критерии оценивания

1.	Описана методика эксперимента. Указано использование латунной спирали для улучшения теплопередачи	1 балл
2.	Таблица измерений $T_в(t)$ и $T_n(t)$	1 балл
3.	Грамотно оформленный график $T_в(t)$ (0,5 балла), правильно указаны физические величины на осях и единицы их измерения (0,5 балла), шкала (значения целые, четные или делящиеся на 5) (0,5 балла), правильно выбран масштаб по осям (кривая занимает не менее 75 % от поля графика) (0,5 балла)	2 балла
4.	Получены выражения для $\alpha$ , по 1 баллу за любую из формул , , , или метод интегрирования по графику, или метод касательных по графику	3 балла
5.	Получена формула для $\lambda$ , любая из формул , по 1 баллу за каждую	2 балла
6.	Описана методика определения $\lambda$ в воде комнатной температуры. Указано, что теплопотерями можно пренебречь при малых изменениях температуры.	1 балл
7.	Указано про слабость конвективного теплообмена, когда разогретая свеча сверху, и про необходимость принудительного перемешивания воды	1 балл
8.	Записана формула для $\lambda$ .	1 балл
9.	Значения $\alpha$ , правильная величина и размерность	1 балл
10.	Значения $\lambda$ , попадает в диапазон 150...200 кДж/кг и размерность	1 балл
11.	Проведено обоснованное сопоставление полученных значений $\alpha$ и $\lambda$	1 балл