

Размер шрифта

A-

A

A+

Цвет сайта

R

A

A

A

Вопрос 1

Балл: 3,00



Укажите, какие из перечисленных ниже положений входили в текст Франкфуртского мира, завершившего Франко-прусскую войну 1870–1871 гг.

Выберите один или несколько ответов:

1.

Частичная оккупация территории Франции в качестве гарантии исполнения возложенных на нее мирным договором обязательств

2.

Передача Германии Эльзаса и Лотарингии

3.

Признание нейтрального статуса Бельгии

4.

Уступка Францией своих колониальных владений в Африке

5.

Выдача германским войскам руководителей Парижской коммуны

Правильные ответы:

Частичная оккупация территории Франции в качестве гарантии исполнения возложенных на нее мирным договором обязательств,

Передача Германии Эльзаса и Лотарингии

Вопрос 2

Балл: 3,00



Укажите территории, которые входили в состав Японской империи накануне Первой мировой войны

Выберите один или несколько ответов:

- 1. Филиппины
- 2. Маньчжурия
- 3. Корея
- 4. Курильские острова
- 5. Тайвань

Правильные ответы:

Корея,
Тайвань,
Курильские острова

Вопрос 3

Балл: 3,00



Укажите направления внешней и внутренней политики США, которые относятся ко времени президентства Теодора Рузвельта:

Выберите один или несколько ответов:

-
- 1.
Война с Испанией
-
- 2.
Увеличение числа Национальных парков и создание Лесной службы США
-
- 3.
Ограничение влияния монополий
-
- 4.
Реконструкция Юга
-
- 5.
Начало строительства Панамского канала

Правильные ответы:

Ограничение влияния монополий,

Увеличение числа Национальных парков и создание Лесной службы США ,

Начало строительства Панамского канала

Вопрос 4

Балл: 3,00



Определите сражения, которые произошли в правление короля франков Хлодвига (481-511):

Выберите один или несколько ответов:

-
- 1.
Сражение при Андернахе
-
- 2.
Битва под Вогастисбургом
-
- 3.
Битва при Вуйе
-
- 4.
Битва при Суассоне
-
- 5.
Битва при Цюльпихе (Толбиаке)

Правильные ответы: Битва при Суассоне, Битва при Цюльпихе (Толбиаке), Битва при Вуйе

Вопрос **5**

Балл: 3,00



Какие из названных литературных произведений принадлежат к классике древнеегипетской литературы?

Выберите один или несколько ответов:

-
- 1.
«Энума элиш...» («Когда вверху...»)
-
- 2.
«Сказка о двух братьях»
-
- 3.
«Рассказ Синухета»
-
- 4.
«Ниппурский бедняк»
-
- 5.
«Книга Экклесиаст»

Правильные ответы:

- «Рассказ Синухета»,
- «Сказка о двух братьях»

Вопрос 6

Балл: 3,00



Выберите верные утверждения о свв. Кирилле и Мефодии:

Выберите один или несколько ответов:

-
- 1.
Мефодий получил сан епископа в Риме
-
- 2.
Кирилл был диаконом
-
- 3.
Ни Кирилл, ни Мефодий не дожили до крещения Руси
-
- 4.
Мефодий преподавал в университете
-
- 5.
Кирилл и Мефодия направили в Болгарию по просьбе царя Бориса

Правильные ответы:

Мефодий получил сан епископа в Риме,

Ни Кирилл, ни Мефодий не дожили до крещения Руси

Вопрос 7

Балл: 3,00



Укажите, членом каких международных организаций и форумов являлась Югославия в 1980–е гг.:

Выберите один или несколько ответов:

-
- 1.
Движение неприсоединения
-
- 2.
Совещание по безопасности и сотрудничеству в Европе
-
- 3.

НАТО



4.

Европейское экономическое сообщество



5.

Организация Варшавского договора


Правильные ответы:

Движение неприсоединения,

Совещание по безопасности и сотрудничеству в Европе

Вопрос 8

Балл: 3,00



Какие из нижеперечисленных событий в культурной жизни Европы произошли в первое десятилетие XX в. (1900-е гг.):

Выберите один или несколько ответов:



1.

присуждение первых Нобелевских премий



2.

создание ЮНЕСКО



3.

возникновение Товарищества передвижных художественных выставок



4.

сложение художественного направления кубизм



5.

сложение художественного направления конструктивизм

Правильные ответы:
присуждение первых Нобелевских премий,
сложение художественного направления кубизм

Вопрос 9

Балл: 3,00



В 1999 г. несколько государств бывшего социалистического лагеря вошли в НАТО.
Укажите эти стран:

Выберите один или несколько ответов:

-
- 1.
Польша
-
- 2.
Болгария
-
- 3.
Словакия
-
- 4.
Румыния
-
- 5.
Венгрия

Правильные ответы:
Венгрия,
Польша

Вопрос 10

Балл: 3,00



Какую роль, согласно религиозным представлениям египтян, играли боги Осирис и Анубис?

Выберите один или несколько ответов:

1.

Осирис и Анубис были богами, упоминавшимися в т.н. жертвенной формуле, предназначенной для того, чтобы люди могли получать пропитание от заупокойных жертв после смерти

2.

Осирис был богом, олицетворявшим плодородную силу почвы Нильской долины, а Анубис – богом-покровителем особой области, лежавшей между этой долиной и пустыней

3.

Осирис был богом солнца, а Анубис – луны

4.

Осирис был правителем загробного мира, вершившим посмертный суд и определявшим, заслуживает ли усопший продолжения существования после смерти, а Анубис – богом, обеспечивавшим сохранность мумии

5.

Осирис был богом письменности и навыков чтения, а Анубис – богом счета, исчисления площади полей и размеров собираемых с них налогов

Правильные ответы: Осирис был правителем загробного мира, вершившим посмертный суд и определявшим, заслуживает ли усопший продолжения существования после смерти, а Анубис – богом, обеспечивавшим сохранность мумии, Осирис и Анубис были богами, упоминавшимися в т.н. жертвенной формуле, предназначенной для того, чтобы люди могли получать пропитание от заупокойных жертв после смерти

Вопрос 11

Баллов: 4,20 из 7,00

Расположите события в хронологическом порядке от самого раннего к более

позднему (сверху вниз)

✓ Вторжение вандалов в северную Африку

✓ Разгром Рима вандалами

✓ Свержение императора Ромула Августа

Создание остготского королевства в Италии

Взятие Рима вестготами Алариха

Для этих элементов правильный порядок выглядит так:

1. Взятие Рима вестготами Алариха
2. Вторжение вандалов в северную Африку
3. Разгром Рима вандалами
4. Свержение императора Ромула Августа
5. Создание остготского королевства в Италии

Вопрос 12

Баллов: 3,20 из 8,00



Расположите следующие события истории древнего Египта второй половины I тыс. до н.э. в хронологическом порядке от самого раннего к более позднему (сверху вниз):

Плавание финикийских мореплавателей на службе египетского царя вокруг Африки

Завоевание Египта персидским царем Артаксерксом III

✓ Посещение Египта Геродотом Галикарнасским

Восстание египтян под руководством Амиртея и освобождение Египта от владычества персов

✓ Основание Александрии Египетской

Для этих элементов правильный порядок выглядит так:

1. Плавание финикийских мореплавателей на службе египетского царя вокруг Африки
2. Посещение Египта Геродотом Галикарнасским
3. Восстание египтян под руководством Амиртея и освобождение Египта от владычества персов
4. Завоевание Египта персидским царем Артаксерксом III
5. Основание Александрии Египетской

Вопрос 13

Балл: 4,00



Установите соответствие между датами и событиями истории Индии:

Шестидневная забастовка в Бомбее	1905 г.; 1908 г.; 1885 г.; 1886 г.; 1876 г.;
Провозглашение королевы Виктории императрицей Индии	1905 г.; 1908 г.; 1885 г.; 1886 г.; 1876 г.;
Включение Бирмы в состав Британской Индии	1905 г.; 1908 г.; 1885 г.; 1886 г.; 1876 г.;
Образование Индийского национального конгресса	1905 г.; 1908 г.; 1885 г.; 1886 г.; 1876 г.;
Раздел Бенгалии	1905 г.; 1908 г.; 1885 г.; 1886 г.; 1876 г.;

Правильный ответ:

Шестидневная забастовка в Бомбее → 1908 г.,

Провозглашение королевы Виктории императрицей Индии → 1876 г.,

Включение Бирмы в состав Британской Индии → 1886 г.,

Образование Индийского национального конгресса → 1885 г.,

Раздел Бенгалии → 1905 г.

Вопрос 14

Балл: 4,00

Установите соответствия между датами и событиями, связанными со смещением просоветских коммунистических режимов в странах Центральной и Восточной Европы и его последствиями:

Первые свободные парламентские выборы в Польше	9 ноября 1989 г.; 27 октября 1991 г.; 12 сентября 1990 г.; 22 марта 1992 г.; 19 ноября 1989 г.;
Создание в Чехословакии Гражданского форума	9 ноября 1989 г.; 27 октября 1991 г.; 12 сентября 1990 г.; 22 марта 1992 г.; 19 ноября 1989 г.;
Подписание Договора об окончательном урегулировании в отношении Германии	9 ноября 1989 г.; 27 октября 1991 г.; 12 сентября 1990 г.; 22 марта 1992 г.; 19 ноября 1989 г.;
Победа в Албании на парламентских выборах оппозиционной Демократической партии	9 ноября 1989 г.; 27 октября 1991 г.; 12 сентября 1990 г.; 22 марта 1992 г.; 19 ноября 1989 г.;
Падение Берлинской стены	9 ноября 1989 г.; 27 октября 1991 г.; 12 сентября 1990 г.; 22 марта 1992 г.; 19 ноября 1989 г.;

Правильный ответ: Первые свободные парламентские выборы в Польше → 27 октября 1991 г., Создание в Чехословакии Гражданского форума → 19 ноября 1989 г., Подписание Договора об окончательном урегулировании в отношении Германии → 12 сентября 1990 г., Победа в Албании на парламентских выборах оппозиционной Демократической партии → 22 марта 1992 г., Падение Берлинской стены → 9 ноября 1989 г.

Вопрос **15**

Балл: 4,00

1870-1890-е гг. дали мировой культуре много шедевров оперного искусства. Установите соответствия между названиями известных произведений и их авторами:



Жорж Бизе

«Иоланта»; «Демон»; «Кармен»; «Отелло»; «Гибель богов»;



Рихард

Вагнер

«Иоланта»; «Демон»; «Кармен»; «Отелло»;
«Гибель богов»;



Антон

Рубинштейн

«Иоланта»; «Демон»; «Кармен»; «Отелло»;
«Гибель богов»;



Джузеппе

Верди

«Иоланта»; «Демон»; «Кармен»; «Отелло»;
«Гибель богов»;



Пётр

Чайковский


«Иоланта»; «Демон»; «Кармен»; «Отелло»;
«Гибель богов»;

Правильный ответ:



Жорж Бизе

→ «Кармен»,



Рихард Вагнер

→ «Гибель богов»,



Антон Рубинштейн

→ «Демон»,



Джузеппе Верди

→ «Отелло»,



Пётр Чайковский

→ «Иоланта»

Вопрос 16

Балл: 4,00

Сопоставьте индустриальные центры Российской империи и их промышленную специализацию:

Донбасс	Нефтедобыча; Цветная металлургия; Машиностроение; Угледобыча; Текстильная;
Баку	Нефтедобыча; Цветная металлургия; Машиностроение; Угледобыча; Текстильная;
Санкт-Петербург	Нефтедобыча; Цветная металлургия; Машиностроение; Угледобыча; Текстильная;
Московский промышленный регион	Нефтедобыча; Цветная металлургия; Машиностроение; Угледобыча; Текстильная;
Урал	Нефтедобыча; Цветная металлургия; Машиностроение; Угледобыча; Текстильная;

Правильный ответ:

Донбасс → Угледобыча,

Баку → Нефтедобыча,

Санкт-Петербург → Машиностроение,

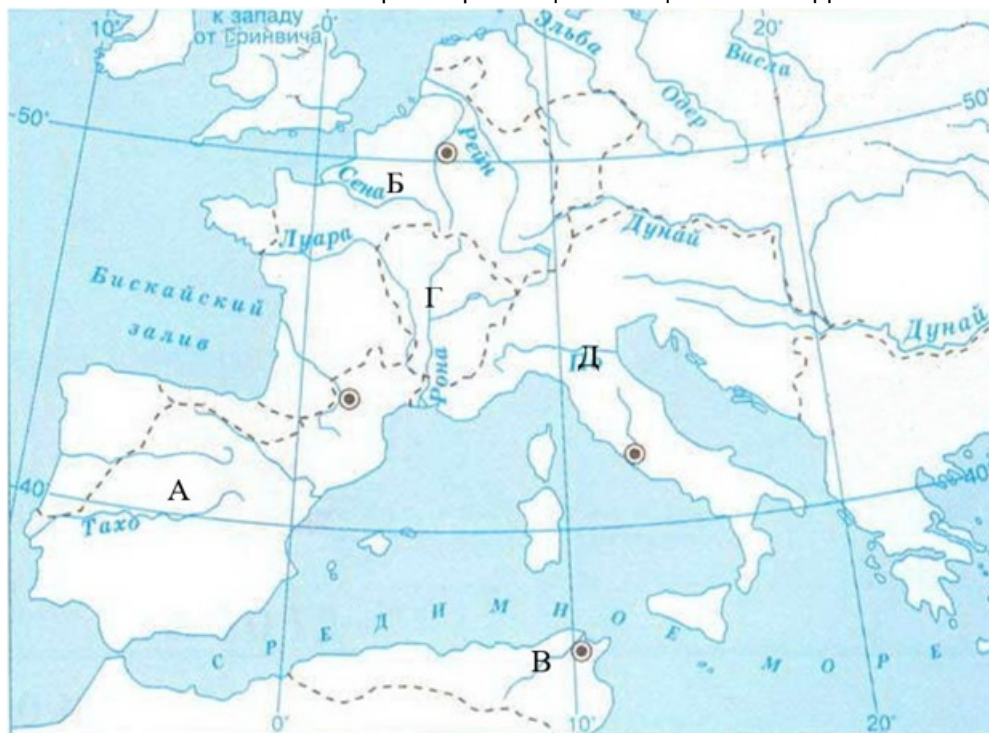
Московский промышленный регион → Текстильная,

Урал → Цветная металлургия

Вопрос 17

Балл: 4,00

Соотнесите территории государств, обозначенные на контурной карте, с названиями варварских королевств:



- | | |
|---|---|
| А | Королевство вестготов; Королевство бургундов; Королевство остготовов;
Королевство франков; Королевство вандалов; |
| Б | Королевство вестготовов; Королевство бургундов; Королевство остготовов;
Королевство франков; Королевство вандалов; |
| В | Королевство вестготовов; Королевство бургундов; Королевство остготовов;
Королевство франков; Королевство вандалов; |
| Д | Королевство вестготовов; Королевство бургундов; Королевство остготовов;
Королевство франков; Королевство вандалов; |
| Г | Королевство вестготовов; Королевство бургундов; Королевство остготовов;
Королевство франков; Королевство вандалов; |

Правильный ответ:

А → Королевство вестготовов,

Б → Королевство франков,

В → Королевство вандалов,

Д → Королевство остготовов,

Г → Королевство бургундов

Вопрос 18

Балл: 5,00

Ответы (название категорий граждан) впишите отдельно в каждую ячейку в именительном падеже во множественном числе, например: дворяне, крестьяне, горожане.



Среди многочисленных реформ Солона важное значение имеет так называемая тимократическая реформа, то есть установление имущественного ценза для определения политических прав афинских граждан. Плутарх так описывает это: «... желая оставить все высшие должности за богатыми, как было и прежде, а к прочим должностям, в исполнении которых простой народ раньше не участвовал, допустить и его, Солон ввел оценку имущества граждан. Так, тех, кто производил в совокупности пятьсот мер продуктов, как сухих, так и жидких, он поставил первыми и назвал их «пентакосиомедимны», вторыми поставил тех, кто мог содержать лошадь или производить триста мер; этих называли «принадлежащими к

были названы люди третьего ценза, у которых было двести мер и тех и других продуктов вместе. Все остальные назывались

; им он не позволил исполнять никакой должности; они участвовали в управлении лишь тем, что могли присутствовать в народном собрании и быть судьями.


Правильный ответ: гиппеи, зевгиты, метеки

Вопрос 19

Балл: 5,00

Прочитайте отрывки из гимна солнечному богу. Подставьте пропущенные в нем имена этого бога, царя и царицы.

Ответы (имя бога (цифра [1], царя (цифра [2] и царицы (цифра [3]) впишите в отдельные ячейки в именительном падеже, например: Перун, Владимир, Ольга.



Ты сияешь прекрасно на небосклоне неба, живой [1]

, положивший начало жизни!

Ты восходишь на восточном небосклоне и ты наполняешь всю землю своей красотой!

Ты прекрасен, велик, светозарен и высок над всей землёй!

Твои лучи объемяют страны вплоть до предела всего того, что ты создал!

[...]

Ты заходишь на западном небосклоне и земля [находится] во мраке, наподобие мёртвого.

Спят они [египтяне] в помещениях, причём головы их закутаны, и они не видят другого. Тащат их все вещи, что под их головами, и не знают они [об этом].

Каждый лев выходит из своего логова. Все гады кусаются [во] мраке, [когда] уходят (?) свет и жар. Земля молчит, так как тот, кто создал их, зашёл на своем небосклоне.

Светает, [когда] ты восходишь на небосклоне. Ты сияешь в виде солнечного диска днём. Ты гонишь мрак, [когда] ты даёшь лучи. Обе Земли торжествуют.

Просыпаются и встают на ноги, подымаются они [люди] из-за тебя. Омывают свои тела и берут одежду. Руки их славят твоё воссияние, [и затем] они совершают работу свою.

[...]

Когда (ты) восходишь, (ты?) даёшь расти (?) ... для царя. Спешат (?) со всех ног (?) с тех пор, как ты основал землю. Ты поднимаешь их для сына твоего, вышедшего из твоей плоти, царя Верхнего и Нижнего Египта, живущего правдой, владыки Обеих Земель... [2]

, большого по веку своему, [и для] великой жены царёвой, возлюбленной им, владычицы Обеих Земель ... [3]


, да будет она жива и молода вечно, вековечно!

Правильный ответ: Антон, Эхнатон, Нефертити

Вопрос 20

Балл: 5,00

Ответы (имя и фамилию театрального деятеля (цифра 1), название антрепризы (цифра 2) впишите в отдельные ячейки в именительном падеже, например: Владимир Маяковский, "Золотая маска".



В 1908 г. в Париже начались гастрольные выступления артистов Императорских театров г. Санкт-Петербурга и г. Москвы, организованные русским театральным и художественным деятелем, антрепренёром (1)

для пропаганды русского музыкального искусства за рубежом. Получившие впоследствии название (2)

, они быстро стали невероятно популярны у зрителей и театральной критики.

Правильный ответ: Сергей Дягилев, "Русские сезоны"

Вопрос 21

Балл: 5,00

Прочтите отрывок из обращения военного правительства провинции Хубэй времен Синьхайской революции и заполните пропуски в тексте. Ответы (имя народа (цифра 1), предлагаемую законодательную реформу (цифра 2)) впишите в отдельные ячейки в именительном падеже, например: французы, Декларация прав человека.



"О соотечественники! Разве у вас нет сердца? Если вам ничего не говорят предания ваших дедов, то оглянитесь вокруг себя, посмотрите, кто стоит гарнизонами во всех провинциях, в чьих руках важные государственные посты, и тогда вы прозреете. Невозможно описать все коварство и жестокость

(1)

за эти 260 лет, а в последние годы они поступают еще бесчеловечнее. Наши отношения с иностранцами сложились таким образом, что мы терпим от них оскорбления, которые с каждым днем делаются все невыносимее, у каждого из нас есть еще дом и семья, но существовать нам нечем. А (1) не интересуется, к чему приведет тот или иной их шаг, они готовы поступить вопреки здравому смыслу, лишь бы во вред нам. Поэтому они и утверждают, что распространение просвещения подрывает законы, а поощрение развития техники может привести к нарушению общественного спокойствия. И они изобретают всяческие уловки, чтобы обмануть нас, думая только о сохранении своего господства над нами.

Прикрываясь красивыми фразами о введении

(2)

, они усиливают центральную власть, разглагольствуя о реформах, считают это неплохим поводом ввести очередные поборы. Сами же они, как и прежде, заняты сооружением новых парков и гробниц, одаривают своих приближенных, награждают преступников, и разве все это не за счет народа?"

Правильный ответ: маньчжуров, свободы слова

Вопрос 22

Балл: 5,00



Эйнхард, историк времени Карла Великого, оставил свидетельства, связанные с формированием известной королевской императорской династии: «может

показаться, что род (1)

пришёл к своему концу во время правления Хильдерика, однако уже давно в роду том не было никакой жизненной силы и ничего замечательного, кроме пустого царского звания. <...> А руководство царством и всем, что надо было провести дома или вне его, осуществлял

(2)

. (3)

, отец Карла [Великого] уже исполнял эти дела словно наследственные в то время, когда Хильдерик сложил с себя полномочия»

Ответы (имя рода (цифра 1), название должности (цифра 2) и имя отца Карла Великого, при необходимости с прозвищем, (цифра 3)) впишите в отдельные ячейки в именительном падеже, например: Плантагенеты, канцлер, Карл Смелый.

Правильный ответ: Меровингов, майордом, Пипин Короткий

Вопрос 23

Балл: 5,00

Ответы (город, где произошёл съезд (цифра 1), название профсоюза (цифра 2), название страны, где происходили эти события (цифра 3)) впишите в отдельные ячейки в именительном падеже, например: Берлин, Союз сталеваров, Германия.



Перед вами отрывок из обращения к делегатам съезда профсоюзов:

"Делегаты, собравшиеся в (1)

на I съезд независимого самоуправляющегося профсоюза (2)

, приветствуют рабочих Албании, Болгарии, Венгрии, Германской Демократической Республики, Румынии, Чехословакии и всех народов Советского Союза и выражают им свою поддержку. Как первый независимый профсоюз в нашей истории, мы глубоко ощущаем единство наших судеб. Заверяем вас, что вопреки лжи, распространяемой в ваших странах, мы являемся подлинным 10 миллионным

представительством трудящихся, возникшим в результате рабочих забастовок. Наша цель – борьба за улучшение существования всех трудящихся. Мы поддерживаем тех из вас, кто решился вступить на трудный путь борьбы за свободное профсоюзное движение. Мы верим, что уже скоро ваши и наши представители смогут встретиться, чтобы обменяться опытом". Последние фразы о поддержке тех, кто выбрал «путь борьбы за свободное профсоюзное движение», были явным ответом на послание съезду ... от Учредительного комитета свободных профсоюзов в СССР, где, в частности, говорилось:

«Ваша борьба за права простых людей в (3)

- это и наша борьба. Все, чем вы способствуете гибели лжи и лицемерия, осуществлению фундаментальных нужд трудящихся, ослабляет и наш режим...»

Правильный ответ: Гданьске, "Солидарность", Польше

Вопрос 24

Балл: 5,00

Ответы (название проводившейся политики (цифра 1), название события (цифра 2) и название страны (цифра 3)) впишите в отдельные ячейки в именительном падеже, например: секуляризация, Первая мировая война, Югославия.



Прочтите отрывок из Нобелевской лекции М.С. Горбачева и заполните пропуски:

"Мне представляется очевидным: будет успех (1)

в СССР – будет и реальная возможность строить новый мировой порядок. Сорвется (1) – исчезнет и перспектива выхода к мирному периоду в истории, по крайней мере – в обозримом будущем.

Считаю, что движение, которое уже началось в этом направлении, имеет неплохие шансы. Человечество ведь уже много получило за последние годы. И это создало определенную позитивную инерцию.

Прекращена (2)

. Фактически снята угроза мировой ядерной войны. Исчез «железный занавес».

Объединилась (3)

- событие поворотного значения в истории Европы. На континенте нет ни одной страны, которая не считала бы себя полностью суверенной и независимой".

Правильный ответ: перестройки, Холодная война, Германия