

Размер шрифта

A-

A

A+

Цвет сайта

R

A

A

A

Вопрос 1

Балл: 3,00



Какие из перечисленных далее государств Переднего Востока были важнейшими внешнеполитическими противниками Египта во второй половине II тыс. до н.э. (в т.н. Позднебронзовый век)?

Выберите один или несколько ответов:

- 1. Ассирия
- 2. Митанни
- 3. Иудейское царство
- 4. Лидия
- 5. Хеттское царство

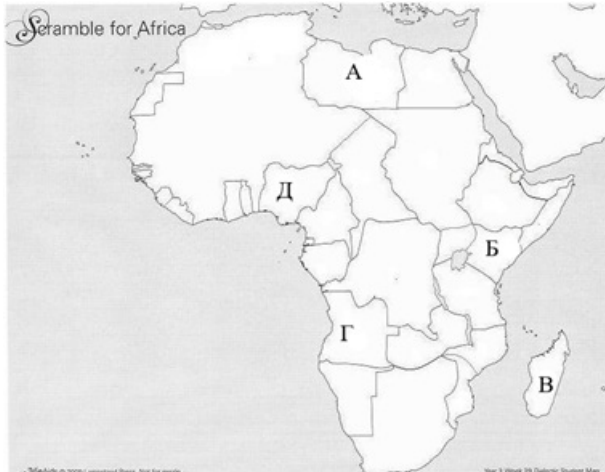
Правильные ответы:

Митанни,

Хеттское царство

Вопрос 2

Балл: 3,00



Укажите колониальные владения в Африке, которые принадлежали Великобритании в начале XX века.

Выберите один или несколько ответов:

-
- 1. Д
-
- 2. Б
-
- 3. А
-
- 4. Г
-
- 5. В

Правильные ответы: Б, Д

Вопрос 3

Балл: 3,00

Укажите события, произошедшие в 1885 г.

Выберите один или несколько ответов:

-
- 1. Фашодский кризис
-

2.

Первая англо-бурская война

3.

Итало-эфиопская война

4.

Принятие Генерального акта Берлинской конференции

5.

Франко-китайская война

Правильные ответы: Принятие Генерального акта Берлинской конференции,
Франко-китайская война

Вопрос 4

Балл: 3,00



Перечислите страны, **НЕ** входившие в состав Югославии

Выберите один или несколько ответов:

1.

Албания

2.

Черногория

3.

Словения

4.

Словакия

5.

Республика Северная Македония

Правильные ответы: Албания, Словакия

Вопрос 5

Балл: 3,00



Укажите события, связанные с 1989 г.:

Выберите один или несколько ответов:

- 1. Первые выборы с участием оппозиционных политических организаций в Польше
- 2. "Бархатная революция" в Чехословакии
- 3. Объявление независимости Боснии и Герцеговины
- 4. Ликвидация коммунистического режима в Албании
- 5. Смерть Иосипа Броза Тито

Правильные ответы:

Первые выборы с участием оппозиционных политических организаций в Польше ,
"Бархатная революция" в Чехословакии

Вопрос 6

Балл: 3,00



В профсоюз «Солидарность» в 1980-е гг. входили:

Выберите один или несколько ответов:

- 1. Лех Валенса
- 2. Эдвард Герек
- 3. Войцех Ярузельский
- 4. Адам Михник
- 5. Кароль Войтыла

Правильные ответы:

Лех Валенса,

Адам Михник

Вопрос 7

Балл: 3,00



Кто из римских государственных деятелей II-I вв. до н.э. поддерживал союзнические отношения с правителями Египта из дома Птолемеев?

Выберите один или несколько ответов:

-
- 1.
Помпей
-
- 2.
Сципион Африканский
-
- 3.
Сулла
-
- 4.
Марк Антоний
-
- 5.
Октавиан Август

Правильные ответы:

Помпей,
Марк Антоний

Вопрос 8

Балл: 3,00



В творчестве кого из нижеперечисленных писателей отражена тема франко-прусской войны 1870–1871 гг.:

Выберите один или несколько ответов:

-
- 1.
Марсель Пруст
-
- 2.
Ги де Мопассан
-
- 3.
Мари-Анри Бейль (Стендаль)
-
- 4.

Оноре де Бальзак

5.

Эмиль Золя

Правильные ответы:

Эмиль Золя,

Ги де Мопассан

Вопрос 9

Балл: 3,00



Какие из нижеперечисленных исторических событий произошли в период, когда президентом США был Теодор Рузвельт?

Выберите один или несколько ответов:

1.

Первая Балканская война

2.

Убийство эрцгерцога Фердинанда

3.

Русско-японская война

4.

Первый марокканский (Танжерский) кризис

5.

Рейд Джеймсона

Правильные ответы:

Русско-японская война,

Первый марокканский (Танжерский) кризис

Вопрос 10

Балл: 3,00



Какие из нижеперечисленных построек **НЕ** входят в состав дошедшего до наших дней ансамбля Афинского агоры:

Выберите один или несколько ответов:

-
- 1.
храм Ники Аптерос
-
- 2.
Расписная стоя (Пёстрая, Пойкиле)
-
- 3.
храм Гефеста (Гефестейон)
-
- 4.
Эрехтейон
-
- 5.
Дикастерий (Гелиэйя)


Правильные ответы:

храм Ники Аптерос,

Эрехтейон

Вопрос 11

Балл: 3,00



Какие из нижеперечисленных примеров иллюстрируют активную строительную деятельность в период правления женщины-фараона Хатшепсут?

Выберите один или несколько ответов:

-
- 1.
закладка г. Ахетатон
-
- 2.
храмовый комплекс в Карнаке
-
- 3.
заупокойный храм в Дэйр-эль-Бахри
-
- 4.
комплекс пирамид в Гизе
-
- 5.
закладка г. Александрия

Правильные ответы:
заупокойный храм в Дэйр-эль-Бахри,
храмовый комплекс в Карнаке

Вопрос 12

Балл: 5,00



Установите соответствие между государственными деятелями Великобритании и событиями, которые связаны с их деятельностью:

| | |
|---------------------------------------|--------------------------------------------------------------------------------------------------------------------------------------------------------------------------------------------------------------------------------|
| Бенджамин Дизраэли | Провозглашение королевы Виктории императрицей Индии; Англо-бурская война 1899–1902 гг.; принятие Закона о государственном страховании по безработице; Фашодский кризис; Внесение первого законопроекта о гомруле для Ирландии; |
| Дэвид Ллойд Джордж | Провозглашение королевы Виктории императрицей Индии; Англо-бурская война 1899–1902 гг.; принятие Закона о государственном страховании по безработице; Фашодский кризис; Внесение первого законопроекта о гомруле для Ирландии; |
| Уильям Гладстон | Провозглашение королевы Виктории императрицей Индии; Англо-бурская война 1899–1902 гг.; принятие Закона о государственном страховании по безработице; Фашодский кризис; Внесение первого законопроекта о гомруле для Ирландии; |
| Роберт Гаскойн-Сесил, маркиз Солсбери | Провозглашение королевы Виктории императрицей Индии; Англо-бурская война 1899–1902 гг.; принятие Закона о государственном страховании по безработице; Фашодский кризис; Внесение первого законопроекта о гомруле для Ирландии; |
| Джозеф Чемберлен | Провозглашение королевы Виктории императрицей Индии; Англо-бурская война 1899–1902 гг.; принятие Закона о государственном страховании по безработице; Фашодский кризис; Внесение первого законопроекта о гомруле для Ирландии; |

Правильный ответ:

Бенджамин Дизраэли → Провозглашение королевы Виктории императрицей Индии,

Дэвид Ллойд Джордж → принятие Закона о государственном страховании по безработице,

Уильям Гладстон → Внесение первого законопроекта о гомруле для Ирландии,

Роберт Гаскойн-Сесил, маркиз Солсбери → Фашодский кризис,

Джозеф Чемберлен → Англо-бурская война 1899–1902 гг.

Вопрос **13**

Балл: 5,00

Сопоставьте изображение объекта и правителя, с которым он связан:



Карл Великий; Теодорих Великий; Перикл;
Реккесвинт;



Карл Великий; Теодорих Великий; Перикл;
Реккесвинт;



Карл Великий; Теодорих Великий; Перикл;
Реккесвинт;



Карл Великий; Теодорих Великий; Перикл;
Реккесвинт;

Правильный ответ:



→ Реккесвинт,



→ Перикл,



→ Карл Великий,



→ Теодорих Великий

Вопрос 14

Балл: 5,00

Установите соответствие между государствами и военно-политическими блоками, сложившимися накануне Первой мировой войны:

| | |
|----------------|-----------------------------|
| Великобритания | Тройственный союз; Антанта; |
| Италия | Тройственный союз; Антанта; |
| Франция | Тройственный союз; Антанта; |
| Австро-Венгрия | Тройственный союз; Антанта; |

Правильный ответ:

Великобритания → Антанта,

Италия → Тройственный союз,

Франция → Антанта,

Австро-Венгрия → Тройственный союз

Вопрос 15


Балл: 5,00

Сопоставьте город и архитектурный объект:



Длинные стены

Афины; Равенна; Москва; София;
Берлин;



Памятник Царю-освободителю

Памятник Царю-

Афины; Равенна; Москва; София;
Берлин;



Мавзолей Теодориха

Мавзолей

Афины; Равенна; Москва; София;
Берлин;



Рейхстаг

Афины; Равенна; Москва; София;
Берлин;



Плевны

Памятник героям

Афины; Равенна; Москва; София;
Берлин;

Правильный ответ:




Длинные стены → Афины,



Памятник Царю-освободителю → София,



Мавзолей Теодориха → Равенна,



Рейхстаг → Берлин,



Памятник героям Плевны → Москва

Вопрос 16

Балл: 5,00

Соотнесите между собой произведения древнегреческой литературы, написанных или поставленных в Афинах, и их авторов:

| | |
|--------------|------------------------------------|
| «Орестея» | Софокл; Эсхил; Еврипид; Аристофан; |
| «Медея» | Софокл; Эсхил; Еврипид; Аристофан; |
| «Антигона» | Софокл; Эсхил; Еврипид; Аристофан; |
| «Лисистрата» | Софокл; Эсхил; Еврипид; Аристофан; |

Правильный ответ:

«Орестея» → Эсхил,

«Медея» → Еврипид,

«Антигона» → Софокл,

«Лисистрата» → Аристофан

Вопрос 17

Балл: 6,00

Установите соответствие между государством Центральной и Юго-Восточной Европы и событием, связанным с этой страной.

| | |
|-----------------------------------|-----------------------------------------------------------------------------|
| "Европейский пикник" | Румыния; Республика Босния и Герцеговина; Польша; Венгрия; Чехословакия; |
| Расстрел Николае и Елены Чаушеску | Румыния; Республика Босния и Герцеговина; Польша; Венгрия; Чехословакия; |
| Операция НАТО "Обдуманная сила" | Румыния; Республика Босния и Герцеговина; Польша; Венгрия; Чехословакия; |

| | |
|------------------------|-----------------------------------------------------------------------------|
| "Бархатная революция" | Румыния; Республика Босния и Герцеговина; Польша; Венгрия; Чехословакия; |
| Усмирение шахты "Вуек" | Румыния; Республика Босния и Герцеговина; Польша; Венгрия; Чехословакия; |

Правильный ответ:

"Европейский пикник" → Венгрия,

Расстрел Николае и Елены Чаушеску → Румыния,

Операция НАТО "Обдуманная сила" → Республика Босния и Герцеговина,

"Бархатная революция" → Чехословакия,

Усмирение шахты "Вуек" → Польша

Вопрос **18**

Балл: 6,00

Ответы (страны (цифра 1) и территории (цифра 2)) впишите в отдельные ячейки в именительном падеже единственном числе, например: Австрия, Трансильвания.

"Правительство его британского вел-ва объявляет, что оно не имеет намерения изменять политическое положение (1)

Правительство его британского вел-ва обязуется, кроме того, осуществлять свое влияние в (1) только в миролюбивом смысле, и оно не примет само в (1) и не будет поощрять (1) принимать меры, угрожающие России.

Со своей стороны российское императорское правительство объявляет, что оно признает (1) находящимся вне сферы русского влияния; и оно обязуется пользоваться для всех своих политических сношений с (1) посредничеством правительства его британского вел-ва; оно обязуется также не посылать никаких агентов в (1)".

[...]

Правительства России и Великобритании, признавая сюзеренные права Китая над (2)

и принимая во внимание, что вследствие своего географического положения Великобритания имеет специальный интерес в том, чтобы видеть существующий порядок внешних сношений (2) сохраненным полностью, условились о нижеследующем соглашении:

СТАТЬЯ I. Обе высокие договаривающиеся стороны обязуются уважать территориальную целость (2) и воздерживаться от всякого вмешательства в его внутреннее управление.

Вопрос 19

Балл: 6,00



Патриарх Константинопольский Фотий I (857–867) писал: «Ибо еще и двух лет не чтит этот народ истинную христианскую веру, как мужи нечестивые и мерзкие <...>, ибо были они порождением края западного <...>, напав на народ новоутвержденный в благочестии и новоустроенный словно молния или землетрясение, или обильный град <...> разорили, истребив, лозу Господа возлюбленную и новонасаженную <...> И сперва переучили их неблагочестиво на субботний пост <...>. А затем, оторвав от Великого Поста первую постную седмицу, совлекли к молочному питию и сырной пище и тому подобному объедению, распростерши отсюда для них путь преступлений и совратив со стези прямой и царской».

О каком «новоутвержденном в благочестии и новоустроенном народе» идет речь?

Ответ впишите **в именительном падеже множественного числа, например: французы.**

Ответ:

Вопрос 20

Балл: 6,00



Впишите пропущенное название страны **в именительном падеже.**

Перед Вами отрывок из сочинения русского офицера и путешественника А.К. Булатовича:

«В половине XIX столетия Эфиопия возрождается к новой жизни. Императоры Феодор, Иоанн и, наконец, Менелик II вновь объединяют Абиссинию. Император Менелик вступает с в отчаянную борьбу за существование

своего государства, его свободу и самостоятельность, одерживает над своим врагом ряд блестящих побед и этим самым доказывает неопровержимым образом, что в Африке есть черная раса, могущая постоять за себя и имеющая все данные на независимое существование.

Конечно, и в начале 1898 года император Менелик не мог остаться безучастным зрителем всего происходившего в Африке. Обладая в своей армии громадной живой силой, упорядочив внутренние и внешние дела государства, он не остался бездеятельным в эту решительную минуту и двинул войска в западные и южные области, на которые и заявил притязания».

Правильный ответ: Италия

Вопрос 21

Балл: 6,00



Определите, какое из германских племён пропущено в этом фрагменте произведения Исидора Севильского.

Ответ укажите в именительном падеже множественного числа (например: дреговичи):

«...На четырнадцатом году императора Валента , те самые, что прежде изгнали христиан с родной земли, были сами, вместе с королем Атанарихом, изгнаны гуннами. Пересекши Дунай, они сдались – хотя и без сложения оружия, – поскольку не могли противостоять могуществу императора Валента, и получили Фракию для поселения. Однако, когда их свободы, к которым они привыкли, были стеснены римлянами, они восстали. Они опустошили Фракию огнём и мечом, уничтожили римскую армию, сожгли до смерти самого Валента, который, будучи ранен копьем, бежал на одну из окрестных вилл».

Правильный ответ: готы

Вопрос 22

Балл: 6,00



Напишите имя этого афинского политика в именительном падеже, например: Фемистокл.

Плутарх в биографии этого афинского политика так описывает, за что ему было дано подобное прозвище: , настраивая свою речь, как музыкальный инструмент, в тон этому укладу жизни и высокому образу мыслей, во многих случаях пользовался Анаксагором, примешивая понемногу, как бы в подкрепление, к своему красноречию науку о природе. ... Благодаря этому он далеко превзошел всех ораторов. По этой причине, говорят, ему и было дано его известное прозвище. Впрочем, некоторые думают, что он был прозван «Олимпиец» за те сооружения, которыми украсил город, другие – что за его успехи в государственной деятельности и в командовании войском; и нет ничего невероятного, что его славе способствовало сочетание многих качеств, ему присущих. Однако из комедий того времени, авторы которых часто поминают его имя как серьезно, так и со смехом, видно, что это прозвище было дано ему главным образом за его дар слова: как они говорят, он гремел и метал молнии, когда говорил перед народом, и носил страшный перун на языке".

Правильный ответ: Перикл

Вопрос 23

Балл: 6,00

Прокопий Кесарийский оставил нам в «Тайной истории» крайне негативный портрет одного из правителей Византии. Назовите его имя.

Ответ (имя собственное, при необходимости – порядковый номер или прозвище) укажите в именительном падеже (например: Филипп IV Красивый):

«Получив императорскую власть, тотчас же сумел всё привести в расстройство. Всё то, что прежде было запрещено законом, он ввёл в государственную жизнь; все то, что существовало раньше и было обычным, он уничтожил, как

История мировых цивилизаций 10 класс День 1

будто для того он был облечён и украшен императорской порфирой, чтобы все изменилось и пришло в другой вид. Бывшие прежде государственные должности он уничтожил, установил новые для ведения государственных дел под новыми названиями; то же самое он сделал с законами и с регулярной армией, не в силу законной необходимости, руководясь не понятием полезности, но для того, чтобы всё было по-новому и носило его имя. А чего в данный момент он не мог переменить, на это он всё-таки накладывал печать своего имени. Никогда не мог он насытиться и почувствовать пресыщение от грабежа богатств или от избиения людей. Завладев состоянием очень многих богатых людей, он устремлялся к новым грабежам, тотчас же раздав прежнее тем или другим из варваров или истратив богатства прежней своей добычи на безумное строительство. Предав смерти без всякого основания десятки тысяч, он тотчас начинал злоумышлять против большего ещё числа. Без всякого основания вызывая к себе вождей гуннов, он раздавал им с безумной расточительностью большие суммы денег, конечно, заявляя на словах, что он делает эти подарки для укрепления дружбы...»

Правильный ответ: Юстиниан I