

## 1. Задача 1



Какой библейский сюжет представлен на картине Микеланджело Меризи да Караваджо:

1	<input type="radio"/>	Призвание апостола Матфея
2	<input type="radio"/>	Отречение апостола Петра
3	<input type="radio"/>	Ужин в Эммаусе
4	<input checked="" type="radio"/>	Отдых на пути в Египет

## 2. Задача 2



Столетняя война 1337–1453 гг. проходила во время правления английской династии

1	<input type="radio"/>	Тюдоров
2	<input checked="" type="radio"/>	Ланкастеров
3	<input type="radio"/>	Виндзоров
4	<input type="radio"/>	Ганноверов
5	<input type="radio"/>	Стюартов

### 3. Задача 3



С каким из государств воевал в период своего правления Сулейман I Великолепный

1	<input type="radio"/>	Византийская империя
2	<input type="radio"/>	сегунат Токугава
3	<input type="radio"/>	Третье Болгарское царство
4	<input type="radio"/>	империя Цинь
5	<input checked="" type="radio"/>	Венгрия

#### 4. Задача 4



На портрете работы Ганса Гольбейна (Младшего) изображена его современница Джейн Сеймур. При дворе какого из английских королей сложилась карьера этого мастера как придворного живописца:

1	<input checked="" type="radio"/>	Генрих VIII
2	<input type="radio"/>	Ричард I Львиное Сердце
3	<input type="radio"/>	Карл I
4	<input type="radio"/>	Генрих VII


#### 5. Задача 5



Участником битвы с османским флотом при Лепанто был

1	<input type="radio"/>	Рене Декарт
2	<input type="radio"/>	Луиш де Камоэнс
3	<input type="radio"/>	Кристофер Марло
4	<input checked="" type="radio"/>	Мигель Сервантес

## 6. Задача 6



В «Истории в девяти книгах» Геродот Галикарнасский вкладывает в уста персидского царя Дария I следующее суждение, посвященное известным древним грекам формам правления: «Напротив, в олигархии, если даже немногие [лучшие] и стараются приносить пользу обществу, то обычно между отдельными людьми возникают ожесточенные распри. Ведь каждый желает первенствовать и проводить [в жизнь] свои замыслы. Так у них начинается яростная вражда между собой, отчего проистекают смуты, а от смут — кровопролития. От кровопролитий же дело доходит до \_\_\_\_\_, из чего совершенно ясно, что этот последний образ правления — наилучший».

Какая форма правления упомянута в месте пропуска?

1	<input type="radio"/>	тирания
2	<input type="radio"/>	демократия
3	<input type="radio"/>	олигархия
4	<input checked="" type="radio"/>	монархия



## 7. Задача 7



Один из персонажей трагедии Еврипида «Вакханки» так говорит о двух основных продуктах греков – хлебе и вине. Дарами каких богов они являлись?

Послушай, сын мой: два начала в мире

Суть главные...

(Она ж Земля; как хочешь называй),

Она сухой лишь пищею нас кормит;

Её дары дополнил сын Семелы:

Он влажную нам пищу изобрел –

Тот дивный сок, усладу всех скорбей.

В нем он и сон нам даровал, забвенье

Дневных забот, - иного не найти

Им исцеленья ...

1	<input checked="" type="radio"/>	Деметра и Дионис
2	<input type="radio"/>	Персефона и Аид
3	<input type="radio"/>	Гера и Зевс
4	<input type="radio"/>	Гяя и Уран

**8. Задача 8**

Укажите понятия, относящиеся к периоду Великой французской революции 1789 г.

1	<input checked="" type="checkbox"/>	санкюлоты
2	<input type="checkbox"/>	кавалеры
3	<input type="checkbox"/>	круглоголовые
4	<input checked="" type="checkbox"/>	жирондисты
5	<input type="checkbox"/>	левеллеры
6	<input checked="" type="checkbox"/>	фельяны

**9. Задача 9**

Какие из нижеперечисленных исторических событий произошли в правление ассирийского царя Ашшурбанапала

1	<input type="checkbox"/>	Правление Нумы Помпилия, царя Древнего Рима
2	<input checked="" type="checkbox"/>	Правление в Древнем Египте Псамметиха I, основателя XXVI династии
3	<input type="checkbox"/>	Падение Ниневии, столицы Ассирийского государства
4	<input type="checkbox"/>	Правление Кира Великого
5	<input checked="" type="checkbox"/>	Основание библиотеки, в которой была обнаружена наиболее полная версия "Эпоса о Гильгамеше"

## 10. Задача 10




В состав Германской империи входили

1	<input checked="" type="checkbox"/>	Бавария
2	<input type="checkbox"/>	Богемия
3	<input type="checkbox"/>	Галиция и Лодомерия
4	<input type="checkbox"/>	Далмация
5	<input checked="" type="checkbox"/>	Саксония

## 11. Задача 11

Что из перечисленного ниже характеризует эпоху Просвещения?



1	<input checked="" type="checkbox"/>	Движущая сила исторического развития – распространение передовых идей и знаний, посредством которых улучшается нравственное состояние общества.
2	<input type="checkbox"/>	Направление в литературе и изобразительном искусстве, представители которого стремились раскрыть индивидуальное и национальное своеобразие человеческой личности.
3	<input checked="" type="checkbox"/>	Общественные отношения должны быть перестроены на основе идей прогресса, разума и свободы воли.
4	<input type="checkbox"/>	Разочарование в идее цивилизации и научно-техническом прогрессе, потому что они привели к духовному опустошению личности.
5	<input type="checkbox"/>	Миссия человека не сводится к решению общественных проблем. Разгадать тайну человеческого бытия можно только посредством обращения к религии, природе и поэтическому чувству.

## 12. Задача 12

Перечислите страны, ставшие после I мировой войны подмандатными территориями Великобритании:



1	<input checked="" type="checkbox"/>	Месопотамия
2	<input type="checkbox"/>	Сирия
3	<input checked="" type="checkbox"/>	Танганьика
4	<input type="checkbox"/>	Руанда-Урунди
5	<input checked="" type="checkbox"/>	Палестина

## 13. Задача 13

Установите соответствия между датами и событиями XVII века.

1	Отмена Нантского эдикта	<input type="text"/>
2	Казнь Карла I	<input type="text"/>
3	Убийство Генриха IV	<input type="text"/>
4	Начало маньчжурского завоевания Китая	<input type="text"/>



Возможные ответы

1	1644 г.
2	1610 г.
3	1685 г.
4	1649 г.

### 14. Задача 14

Установите соответствия между событиями и государственными деятелями второй половины XX века.


1	Бандунгская конференция 1955 г.	<input type="text"/>
2	Карибский кризис 1961 г.	<input type="text"/>
3	Завершение Войны в Алжире.	<input type="text"/>
4	Подписание Заключительного акта Совещания по безопасности и сотрудничеству в Европе	<input type="text"/>


Возможные ответы

1	Ш. де Голль
2	Л.И. Брежнев
3	Дж. Кеннеди
4	Сукарно

### 15. Задача 15

Соотнесите имена западноевропейских авторов XV–XVI вв. и названия написанных ими художественных произведений:

1.		<input type="text"/>
	Франсуа Рабле	




2.	 <p>Джованни Боккаччо</p>	<input data-bbox="689 353 1067 398" type="text"/>
3.	 <p>Джефри Чосер</p>	<input data-bbox="689 853 1067 898" type="text"/>
4.	 <p>Себастьян Брант</p>	<input data-bbox="689 1391 1067 1435" type="text"/>

Возможные ответы

1	Кентерберийские рассказы
2	Корабль дураков
3	Декамерон
4	Гаргантюа и Пантагрюэль

## 16. Задача 16

Расположите книги в последовательности появления их первых изданий на языке оригинала:

1	<p>О. Конт. «Курс позитивной философии»</p> 	<input type="text"/>
2	<p>Т. Мальтус. «Очерк о законе народонаселения»</p> 	<input type="text"/>
3	<p>К. Маркс. «Капитал».</p> 	<input type="text"/>

А. Смит. «Исследование о природе и причине богатства народов».

4



## 17. Задача 17

Расположите события, предшествовавшие Первой мировой войне, в хронологической последовательности

1	Балканские войны	<input type="text"/>
2	Русско-японская война	<input type="text"/>
3	Синьхайская революция в Китае	<input type="text"/>
4	Боснийский кризис	<input type="text"/>
5	Альхесирасская конференция по Марокко	<input type="text"/>

## 18. Задача 18



О какой царице писал римский поэт Гораций?



*Напишите имя в именительном падеже, например: Анний Клавдий*

«О римский воин, - дети, не поверите! –

Порабощен царицею,

Оружье, колья носит: служит женщине

И евнухам морщинистым;

В военном стане солнце зрит постыдную

Палатку в виде полога!»

**Ответ:** Клеопатра

### **19. Задача 19\***



Эта фотография изображает диктатора Чили «» с супругой. Он пришел к власти после государственного переворота в 1973 г. В результате переворота погиб избранный президент Чили «».

*Ответы запишите в именительном падеже, например: Карл Маркс.*

Система оценивания

<b>Ответ</b>
Аугусто Пиночета; Сальвадор Альенде

## 20. Задача 20



Почитайте отрывок из выступления известного британского государственного деятеля и впишите термин, который в нем упоминается и который получил затем широкое употребление:

«На картину мира, столь недавно озаренную победой союзников, пала тень. ... я считаю своим долгом изложить вам некоторые факты - уверен, что вы желаете, чтобы я изложил вам факты такими, какими они мне представляются, - о нынешнем положении в Европе. От Штеттина на Балтике до Триеста на Адриатике на континент опустился »

*Ответ (термин) запишите в именительном падеже, например: холодная война*

Система оценивания

<b>Ответ</b>
--------------

железный занавес
------------------

## 21. Задача 21\*



2 мая 1808 в Мадриде произошло восстание против оккупации города войсками императора

«» (имя запишите **в именительном падеже**, например: Пётр I).

Жестокое подавление этого восстания, репрессии и последовавшие затем

военные конфликты подтолкнули великого испанского художника «

» (имя запишите **в именительном падеже**) на создание серии офортов

«Бедствия войны». Важную часть этой серии составили листы на

аллегорические темы, связанные с критикой инквизиции, политических и социальных порядков, царивших при династии Бурбонов и названные «

» (название запишите **в именительном падеже**)

<b>Ответ</b>
--------------

1- Наполеон I Бонапарт; 2- Ф. Гойя; 3- «Капричос»
---