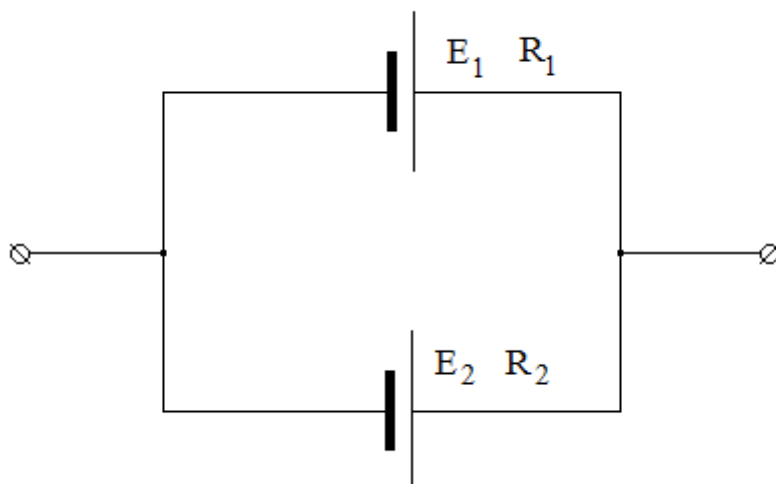


1. Задача 1



Батарея составлена из двух параллельно соединённых источников с внутренними э. д. с. и сопротивлениями, соответственно, $E_1=5\text{ В}$, $R_1=2\text{ Ом}$ и $E_2=2\text{ В}$, $R_2=5\text{ Ом}$. Эквивалентные э. д. с. и сопротивление равны:

1	<input type="radio"/>	$R=7\text{ Ом}$, $U=7\text{ В}$;
2	<input type="radio"/>	$R=1,43\text{ Ом}$ $U=3\text{ В}$;
3	<input type="radio"/>	$R=7\text{ Ом}$, $U=4,14\text{ В}$;
4	<input checked="" type="radio"/>	$R=1,43\text{ Ом}$, $U=4,14\text{ В}$

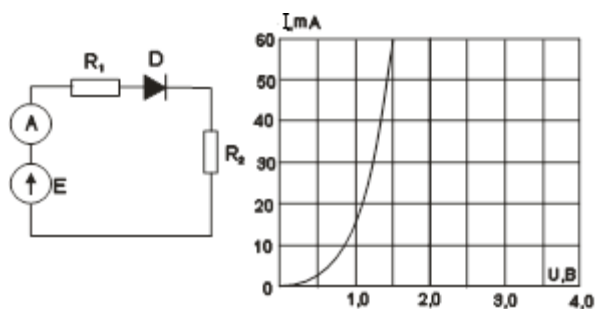
2. Задача 2

Полный балл 7

Конденсатор емкостью $C_1 = 10\text{ мкФ}$, заряженный до разности потенциалов $V_1 = 100\text{ В}$, соединили с конденсатором емкостью $C_2 = 5\text{ мкФ}$ разноименно заряженными обкладками, разность потенциалов на обкладках которого V_2 неизвестна. Разность потенциалов между обкладками после соединения равна $V_{\text{общ.}} = 200\text{ В}$. Неизвестная разность потенциалов V_2 равна: ___ В.

1	<input type="radio"/>	400
2	<input checked="" type="radio"/>	800
3	<input type="radio"/>	300
4	<input type="radio"/>	100

3. Задача 3




Номиналы элементов схемы: $E = 4$ В; $R_1 = 20$ Ом; $R_2 = 60$ Ом; вольт-амперная характеристика диода задана графически. Показание амперметра равно: _____ мА

1	<input type="radio"/>	50
2	<input checked="" type="radio"/>	34
3	<input type="radio"/>	1.3
4	<input type="radio"/>	21

4. Задача 4

Выполняются измерения напряжения мультиметром



В инструкции к прибору предел погрешности указан следующим образом:

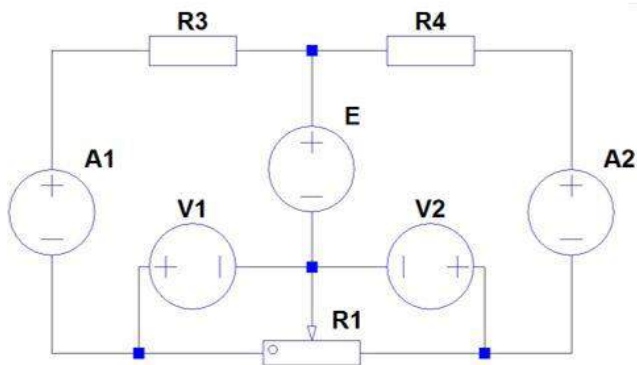
$\pm (0,3\% \text{ от } U + 5 \text{ ед.мл.разряда})$

Запишите показания вольтметра с учётом погрешности. При необходимости в качестве десятичного разделителя используйте запятую.

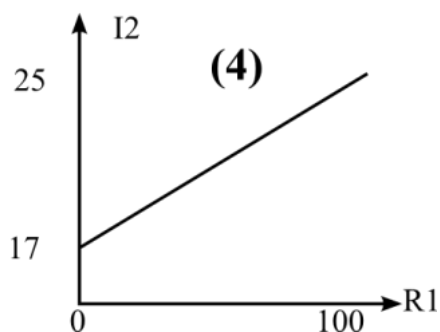
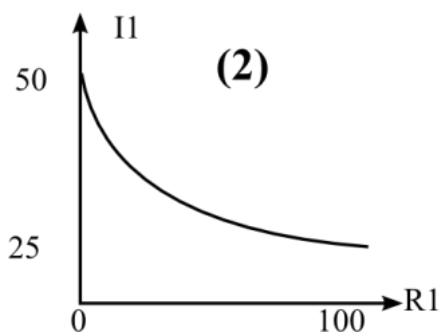
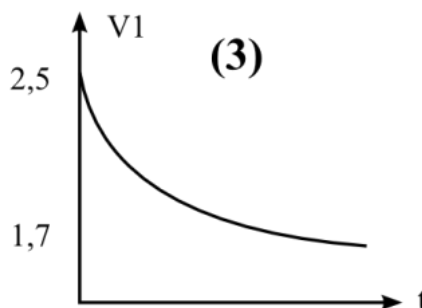
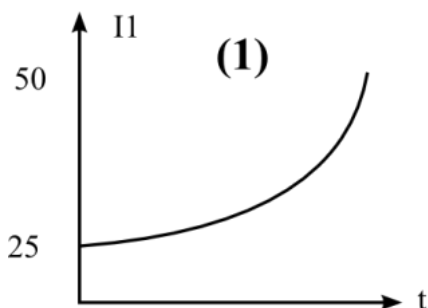
Показания вольтметра, мВ: \pm .

Ответ
100,4; 0,801

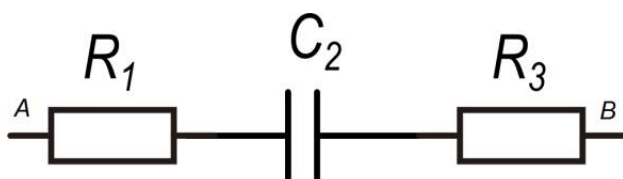
5. Задача 5



В заданной цепи $E=5\text{ В}$, $R_3=R_4=100\text{ Ом}$, полное сопротивление реостата $R_1=200\text{ Ом}$, ручка реостата перемещается равномерно от среднего к крайнему левому положению. По результатам измерений получены графики зависимостей различных величин в этой цепи. Какие рисунки изображают верные графики?



Ответ: 12

6. Задача 6

На рисунке $C_2=3,18 \text{ мкФ}$, $R_1 = 300 \text{ Ом}$ и $R_3 = 200 \text{ Ом}$. На точках A и B падает переменное напряжение $u_{AB}=1,41 \cdot \sin(314t-30^\circ) \text{ В}$. Разность действующих значений напряжений U_{C_2} и U_{R_3} равна: ___ мВ

1	<input type="radio"/>	270
2	<input checked="" type="radio"/>	715
3	<input type="radio"/>	1118
4	<input type="radio"/>	874

7. Задача 7

Полный балл 6

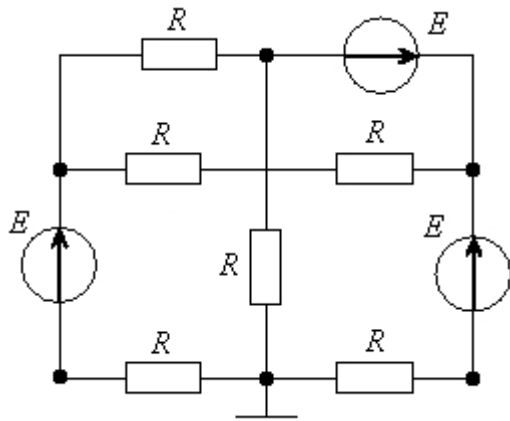
Электромонтёр размещает на новогодней ёлочке гирлянду, подключая к электрическому щитку 220 В готовые отрезки, в каждом из которых по 15 лампочек накаливания мощностью 60 Вт каждая. Автоматический выключатель в щитке рассчитан на ток 20 А. Какое самое большое количество отрезков гирлянды он сможет подключить без риска сорвать праздник?

1	<input checked="" type="radio"/>	4
2	<input type="radio"/>	5
3	<input type="radio"/>	3
4	<input type="radio"/>	0

8. Задача 8

Полный балл 6

Для заданной схемы можно составить ... независимых уравнений по 2му правилу Кирхгофа.



1	<input type="radio"/>	1
2	<input type="radio"/>	2
3	<input checked="" type="radio"/>	3
4	<input type="radio"/>	4
5	<input type="radio"/>	5
6	<input type="radio"/>	6

9. Задача 9

Вычислите выражение.

$$11_{11} + 12_{12} + 13_{13} + 14_{14}$$

Числа в ответе указаны в десятичной системе счисления.

1	<input checked="" type="radio"/>	60
2	<input type="radio"/>	64
3	<input type="radio"/>	32
4	<input type="radio"/>	120
5	<input type="radio"/>	128

10. Задача 10

Дано логическое выражение:

$$y = (a + \bar{c})(\bar{a} + \bar{c})(\bar{a} \cdot b + b) + \bar{a} \cdot \bar{c}$$

Найти эквивалентное логическое выражение

1	<input type="checkbox"/>	$y = b \cdot (\bar{a} + \bar{c})$
2	<input checked="" type="checkbox"/>	$y = \bar{c} \cdot (\bar{a} + b)$
3	<input checked="" type="checkbox"/>	$y = \bar{a} \cdot \bar{c} + b \cdot \bar{c}$
4	<input type="checkbox"/>	$y = \bar{a} \cdot (b + \bar{c})$
5	<input checked="" type="checkbox"/>	$y = (a + c) + b \cdot \bar{c}$
6	<input type="checkbox"/>	$y = \bar{a} \cdot b + \bar{a} \cdot \bar{c}$

11. Задача 11

Сколько значащих единиц в двоичной записи числа $16^{60} - 4^{50} + 8^{10} + 2^{10}$?

1	<input type="radio"/>	135
2	<input type="radio"/>	137
3	<input type="radio"/>	140
4	<input checked="" type="radio"/>	142
5	<input type="radio"/>	144

12. Задача 12

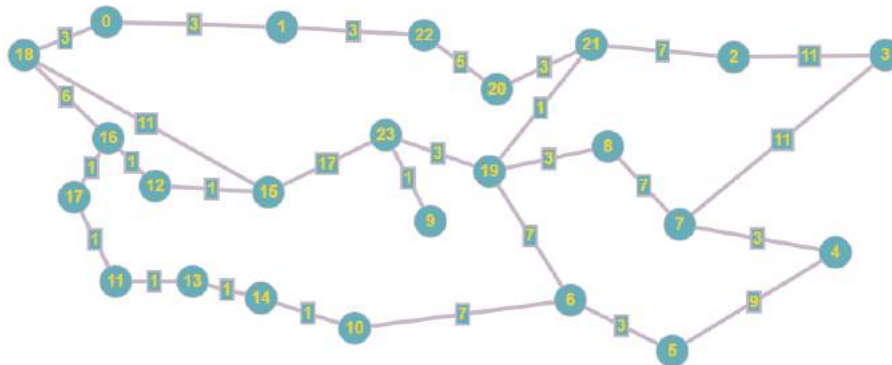
Для проверки правильности хранения данных в микросхеме памяти к каждому 4 байтам записи информации записывается четыре бита контроля чётности в формате: байт числа А, байт числа В, байт числа С, байт числа D, бит чётности А, бит чётности В, бит чётности С, бит чётности D. Бит чётности показывает наличие чётного числа единиц в хранимом байте числа по правилу: чётное число – бит чётности равен 1, нечётное число – бит чётности равен 0. В строке памяти последовательно хранятся 4 байта со значениями: FF, 20, 7F, 0C записанные в 16-ичной системе счисления.

Определите какими должны быть дополнительные биты чётности указанной строки, если все числа в ней записаны без ошибок чётности. Дополнительная цифра записана также в 16-ичной системе счисления.

1	<input type="radio"/>	3
2	<input checked="" type="radio"/>	9
3	<input type="radio"/>	C
4	<input type="radio"/>	5

13. Задача 13

Чему равен кратчайший путь из начального пункта (0) в конечный (23)?



Ответ в виде целого числа запишите без пробелов, без единиц измерения и каких-либо знаков.

Ответ: 18

14. Задача 14

В таблице представлено описание девяти процессов. Процессы используют метод приоритетного планирования: процесс с меньшим индексом приоритета означает более высокий приоритет. Если два процесса имеют одинаковый приоритет, то первым выполняется процесс с меньшим порядковым номером. Начальная точка 0 мс. Определите среднее время ожидания для всех процессов в мс (округленное до 2 знака после запятой).

Процесс	Длительность, мс	Индекс приоритета
P1	20	4
P2	4	2
P3	15	6
P4	12	2
P5	10	3
P6	7	1
P7	7	2
P8	1	5
P9	6	4

1	<input type="radio"/>	6,31
2	<input type="radio"/>	35,11
3	<input type="radio"/>	30,33
4	<input type="radio"/>	7,44
5	<input checked="" type="radio"/>	33,77

15. Задача 15

За сколько перестановок выполнится алгоритм сортировки?

Код на Pascal

```
1  program z14_11_v1;
2  CONST
3      N=10;
4  VAR
5      mas: array [1..10] of integer=(9, 8, 1, 7, 4, 6, 7, 9, 2, 2);
6      i, j, tmp: integer;
7      f: boolean;
8      c: integer;
9  BEGIN
10     for j:=1 to N-1 do
11     begin
12         f:=true;
13         for i:=1 to N-1 do
14         begin
15             if (mas[i]<mas[i+1]) then
16             begin
17                 tmp:=mas[i];
18                 mas[i]:=mas[i+1];
19                 mas[i+1]:=tmp;
20                 f:=false;
21             end;
22         end;
23         if(f) then break;
24     end;
25 END.
```


Код на C

```
1 #include <stdio.h>
2 #include <stdbool.h>
3 // z14_11_v1
4 int main(void) {
5     const int N = 9;
6     int mas [10] = { 9, 8, 1, 7, 4, 6, 7, 9, 2, 2 };
7     int i, j, tmp;
8     bool f;
9     int c = 0;
10    for (j = 0; j < N; j++)
11    {
12        f = true;
13        for (i = 0; i < N; i++)
14        {
15            if (mas[i] < mas[i + 1])
16            {
17                tmp = mas[i];
18                mas[i] = mas[i+1];
19                mas[i+1] = tmp;
20                f = false;
21            }
22        }
23        if ( f == true )
24        {
25            break;
26        }
27    }
28
29    return 0;
30 }
31 }
```

Ответ: 15

16. Задача 16

Что будет выведено на экран после выполнения следующего кода?

```
#python 3.5
def f2(a):
    return 2*a-2
def f(x):
    k1 = 0
    for i in range(10,15):
        k1+=i%2+f2(i)
    return k1+(x // 2)
s=2
p=12
for k in range(1,7):
    s += f(k+1)
print(s)
```

```
//c++ (gcc)
#include <iostream>
int f2(int a){
    return 2*a-2;
}
int f(int x){
    int k1,i;
    k1=0;
    for(i=10;i<15;i++){
        k1+=i % 2+f2(i);
    }
    return k1+(x / 2);
}
int main(){
    int s,k,p;
    s=2;
    p=12;
    for(k=1;k<7;k++){
        s+=f(k+1);
    }
    std::cout << s;
}
```

```
//Pascal
Program z16;
Var s,k,p: integer;
function f2(a:integer):integer;
begin
    f2:=2*a-2;
end;
function f(x:integer):integer;
var k1,i: integer;
begin
    k1 := 0;
    for i := 10 to 14 do
    begin
        k1:=k1+(i mod 2)+f2(i);
    end;
    f := k1+(x div 2);
end;
Begin
    s := 2;
    p := 12;
    for k := 1 to 6 do
        s := s + f(k+1);
    writeln(s);
End.
```

Ответ: 686