

По благословению Святейшего Патриарха Московского и всея Руси Кирилла

*при поддержке Министерства просвещения РФ,
Российского Союза ректоров, Российского совета олимпиад школьников,
Синодального отдела религиозного образования и катехизации РПЦ*

Православный Свято-Тихоновский Гуманитарный Университет
Олимпиада «Основы православной культуры».
«Русь Святая, храни веру Православную!»

Муниципальный тур, X-XI классы, 2019-2020 учебный год



Фамилия Имя Отчество

КЛАСС _____ ШКОЛА _____

ЗАДАНИЕ 1. Выберите правильный ответ:

1. Как звали родителей князя Александра Невского?

- А. Владимир и Мария
- Б. Иоанн и Александра
- В. Исидор и Агафья
- Г. Ярослав и Феодосия

2. Во время Великой Отечественной войны ситуация в СССР привела к необходимости изменения отношения государства к Русской Церкви, руководство страны позволило после перерыва вновь избрать Патриарха Московского и всея Руси. В каком году произошло данное событие?

- А. 1941
- Б. 1942
- В. 1943
- Г. 1944

3. Кто из русских религиозных философов являлся узником Соловецкого лагеря особого назначения?

- А. Бердяев Н. А.
- Б. Ильин И. А.
- В. Соловьев В. С.
- Г. Флоренский П. А.

4. Преподобному Зосиме Соловецкому в чудесном видении явилась прекрасная церковь в небесном сиянии на востоке. На месте видения был сооружен деревянный храм в честь летнего Господского двенадцатого праздника. Что это за праздник?

- А. Вознесение Господне
- Б. Пасха Христова
- В. Преображение Господне
- Г. Рождество Пресвятой Богородицы

5. В 1547 году на Церковном Соборе были прославлены в лике святых преподобные Зосима и Савватий Соловецкие. При каком митрополите Московском произошло это прославление?

- А. Митрополит Алексей
- Б. Митрополит Киприан
- В. Митрополит Макарий
- Г. Митрополит Филипп

6. Назовите святого, миссионерские труды которого в Америке в течение более четверти века принесли ему прозвание «апостола Аляски».

- А. Священномученик Ювеналий (Говорухин)
- Б. Святитель Иннокентий Московский
- В. Святитель Тихон, Патриарх Всероссийский
- Г. Святитель Тихон Задонский

7. В следующем столетии после смерти Александра Невского произошла победоносная битва одного из его потомков с ордынцами. Укажите название этой битвы.

- А. Бородинская битва
- Б. Куликовская битва
- В. Курская битва
- Г. Раковорская битва

8. Какой из перечисленных титулов никогда не принадлежал князю Александру Невскому?

- А. Великий князь Владимирский
- Б. Великий князь Киевский
- В. Князь Новгородский
- Г. Князь Галицкий


9. В эпоху ордынского ига русский митрополит должен был получать от ордынского хана специальную грамоту, подтверждавшую имущественные права Православной Церкви и освобождавшую её от ордынских поборов. Как назывались эта грамота?

- А. Купа
- Б. Ряд
- В. Тамга
- Г. Ярлык

10. Кто из перечисленных исторических деятелей был современником князя Александра Невского?

- А. Боярин Даниил Дмитриевич Холмский
- Б. Боярин Степан Иванович Кучка
- В. Князь Михаил Ярославич Хоробрит
- Г. Князь Святополк Владимирович Окаянный

ЗАДАНИЕ 2.



По горизонтали:

1. Литовский князь, современник Александра Невского, принявший католичество
3. Название скита Соловецкого монастыря, основанного иноком Елеазаром в начале XVII в.
7. Город, где преставился князь Александр Невский
8. Община монахов, живущих вместе и имеющих единый устав
11. Девиз ордена святого Андрея Первозванного Российской Федерации: «За веру и ...»
13. Лицо, готовящееся к принятию монашества
14. Святые благоверные Фёдор, Евпраксия и их сын Иоанн были князьями в этом городе
15. Человек, посвятивший себя Богу через принятие особых обетов
16. Инок-воин из обители преподобного Сергия, погибший на Куликовом поле

18. Имя патриарха, который являлся постриженником Спасо-Преображенского Соловецкого монастыря
19. Название иконы Пресвятой Богородицы, которой принадлежит важная роль в отражении нашествия Тимура на русские земли

По вертикали:

2. Имя патриарха, призывавшего в 1611 году к борьбе против польско-литовских интервентов
4. Имя боярина, который принял мученическую смерть вместе с князем Михаилом Черниговским
5. На этой реке в 1480 году произошло окончательное освобождение русских земель от ордынского ига
6. Название иконы Пресвятой Богородицы, которой принадлежит важная роль в освобождении Москвы от интервентов в 1612 году


9. Монашеский чин, в настоящее время дающийся как высшая награда монашествующему духовенству, а также наименование начальника монастыря
10. Древнерусское название недели
12. Сборник, содержащий постановления церковного собора 1551 г.
13. Все церковнослужители одного храма
17. Имя деда святого князя Александра Невского

ЗАДАНИЕ 3.

Банкнота номиналом в 500 российских рублей посвящена живописному северному краю – Поморью. Реверс, то есть обратная сторона банкноты, посвящен очень известной достопримечательности с богатой и интересной историей – Соловецкому монастырю, который считается одной из крупнейших православных обителей. Купюра имеет несколько модификаций.

Так, на банкнотах образца 1997 года в изображении святыни есть несколько достаточно интересных деталей.

Рассмотрите изображение и ответьте на вопросы.



3.1. В какой период истории нашей страны была сделана фотография, использованная для создания рисунка на банкноте? По каким деталям изображения это можно определить? На какие исторические условия указывают эти детали?

3.2. В период, когда была сделана фотография, послужившая образцом для изображения на банкноте, колокольню венчал атрибут своего времени, однако на банкноте он был заменен крестом. Как вы думаете, какой символ венчал колокольню в то время?

3.3. Соловецкий монастырь был не только духовным центром: долгое время он был крепостью, которая защищала северные рубежи России. Приведите один пример, когда Соловецкий монастырь подвергался нападению неприятельских войск. В ответе укажите название войны или дату с точностью до десятилетия и страну, чье войско напало.

Война _____ / Дата _____

Страна-противник _____

ЗАДАНИЕ 4.


Рассмотрите картины триптиха «За землю русскую!» художника Ю. П. Пантюхина и выполните задания.



4.1. Какие два исторических деятеля изображены на переднем плане картины, обозначенной буквой «А»?

4.2. Назовите исторического деятеля, изображенного на переднем плане картины, обозначенной буквой «Б»:

4.3. Какие два исторических деятеля изображены на переднем плане картины, обозначенной буквой «В»?



4.4. Расположите картины по хронологии изображённых исторических событий. Ответ запишите в таблицу:

1	2	3

4.5. Назовите храмы, изображенные на картинах, обозначенных буквами «А» и «Б» и города, в которых они находятся.

4.6. На картине, обозначенной буквой «Б», изображены знамена. Какие иконы расположены на этих знаменах?

4.7. На картине, обозначенной буквой «В», изображен образ Пресвятой Богородицы.

Напишите его название. _____

4.8. Найдите ошибку, которую художник допустил в изображении благословляющего священника на картине, обозначенной буквой «В». Объясните, в чем она состоит.

ЗАДАНИЕ 5. Прочитайте отрывок из статьи очевидца Великой Отечественной войны - митрополита Ленинградского Алексия. Текст был написан 9 апреля 1942 года - через несколько дней после описанных событий.

I. «В этом году в осажденном Ленинграде молящиеся собрались в храмах под грохот канонады, чтобы излить всю глубину своих чувств. И хотя война наложила на церковь свой суровый отпечаток, горели только свечи и тусклые лампы, но это скромное освещение гармонировало с общим настроением народа, решившегося на все жертвы, лишь бы выполнить подвиг борьбы до конца.



II. За _____
_____ следует _____
_____. В _____

_____ состоялась **вечерня** с выносом **плащаницы**. Когда духовенство вынесло плащаницу из **алтаря**, то народ земным поклоном встретил и проводил это шествие. Личные скорби в это время как бы уходят вдаль. Верующие души переносятся в далекие времена, в Иерусалим, на Голгофу... Они не только вспоминают, но и переживают страдания Христовы. Но как забыть личные душевные страдания? У многих возникают дорогие образы братьев, мужей, отцов, которые в эти самые минуты полагают жизнь свою за нас.

III. Высшим выражением радости является служба в _____. В эту ночь Ленинград не был оставлен в покое врагом: он произвел жесточайший налет на город. Нет слов, чтобы выразить всю мерзость и гнусность этого покушения.

IV. Замечательно, что в этом году, как раз в самую Пасху, исполнилось 700 лет со дня знаменитого (А) _____, когда под руководством князя (Б) _____ русские разгромили (В) _____ на (Г) _____. Знаменательная годовщина, дающая не только нам, но и врагам нашим немало материала для размышления и для выводов! Как тогда их сила была сломлена упорством русского воинства, так и теперь не за горами день, когда их сила будет сокрушена. За нас, как видим, история и наша нравственная сила, которая все так же велика у русского народа и у русского воина, как и 700 лет назад».

5.1. Вставьте, пользуясь подсказкой, пропущенные словосочетания во втором (II) и третьем (III) абзацах текста.

Подсказка: Страстная неделя, Вербное воскресенье, Великая Пятница, пасхальная ночь.

5.2. Вставьте в четвертом (IV) абзаце на место пропусков: (А) – название сражения, (Б) - имя князя, (В) - наименование неприятеля, (Г) - место сражения.

5.3. Каким термином принято называть положение Ленинграда в этот исторический момент? Назовите хронологические рамки (годы) этого периода.

5.4. Объясните значение употребленных в тексте слов и выражений:

вечерня - _____

алтарь - _____

плащаница - _____

5.5. Вспомните и запишите фразу из Евангелия, которую Иисус Христос сказал о тех, кто «полагает жизнь свою за нас».

ЗАДАНИЕ 6. Некоторые слова в церковнославянском языке пишутся сокращённо. Такая форма написания слова называется «под титлом».

6.1. Заполните таблицу: разделите слова на две тематические группы и распределите на две колонки, записав русскими буквами в полной форме.

БЛГОВѢРНЫЙ

МѢНИКЪ

РАВНОПЛЪНЫЙ

БЛГОУЧИЕ

ПРЕМРОСТЬ

СТЕЛЬ

ВОЗДРЖАНІЕ

ПРРКЪ

МРОСТЬ

МЛРДІЕ

ПРПБНЫЙ

6.2. Дайте краткое основание, по какому принципу были разделены слова на две группы:

1 колонка: _____

2 колонка: _____

6.3. Самостоятельно дополните каждую колонку еще одним словом на русском языке, следуя тому же логическому принципу.

Задание 1	Задание 2	Задание 3	Задание 4	Задание 5	Задание 6	Сумма баллов