

**1. Задача 1**

Полный балл — 1

Первый буддийский храм в Пекине был основан:

1	при династии Хань
2	при династии Цзинь
3	при династии Тан
4	при киданьской династии Ляо

**2. Задача 2**

Полный балл — 1

С какой из перечисленных стран у КНР нет территориальных споров?

1	Япония
2	КНДР
3	Вьетнам
4	Монголия

**3. Задача 3**

Полный балл — 1

Что японском языке обозначают термином *синокосё*?

1	сословная система в эпоху Токугава
2	система заложничества в эпоху Токугава
3	комический жанр городской поэзии
4	концепция государственного буддизма

**4. Задача 4**

Полный балл — 1

Кем был господин *Сэн-но Рикю* в средневековой Японии:

1	чайный мастер
2	военачальник
3	советник Токугава Иэясу
4	глава посольства в Китай

**5. Задача 5**

Полный балл — 1

В какой из перечисленных стран на Ближнем Востоке на момент распада Османской империи сохранилась (и сохраняется по сей день) *миллетная* система?

1	<input type="checkbox"/>	Анатолия
2	<input type="checkbox"/>	Сирия
3	<input type="checkbox"/>	Иордания
4	<input type="checkbox"/>	Ливан
5	<input type="checkbox"/>	Египет

**6. Задача 6**

Полный балл — 1

В какой из подмандатных территорий Британии проходили самые сильные протесты населения в 1919-1922 гг.?

1	<input type="checkbox"/>	Ирак
2	<input type="checkbox"/>	Трансиордания
3	<input type="checkbox"/>	Египет
4	<input type="checkbox"/>	Палестина

**7. Задача 7**

Полный балл — 1

Причиной перехода к «культурной политике» японской колониальной администрации в Корее было:

1	<input type="checkbox"/>	смерть вана Коджона
2	<input type="checkbox"/>	Первомартовское восстание, охватившее всю территорию Кореи
3	<input type="checkbox"/>	Смена кабинета министров в Японии
4	<input type="checkbox"/>	Давление со стороны корейских националистов

**8. Задача 8**

Полный балл — 1

Первая встреча на высшем уровне между президентом Республики Корея и лидером КНДР состоялась в:

1	<input type="checkbox"/>	1972 г.
2	<input type="checkbox"/>	2000 г.
3	<input type="checkbox"/>	1991 г.
4	<input type="checkbox"/>	2017 г.

**9. Задача 9**

Полный балл — 2

Укажите три города, которые были столицами Ирана в XVI-XIX вв.

1	Тегеран
2	Истахр
3	Исфахан
4	Кашан
5	Рей
6	Шираз

**10. Задача 10**

Полный балл — 2

Из каких указанных регионов намеревался составить своё королевство в начале XX века шериф Хусейн - «король всех арабов»?

1	Египет
2	Иордания
3	Сирия
4	Ирак
5	Магриб
6	Хиджаз

**11. Задача 11**

Полный балл — 2

Южная столица Китая, город Нанкин, в прошлом имел много названий. Какие из перечисленных ниже названий не относились к этому городу?

1	Цзянь
2	Цзянькан
3	Фэнтянь
4	Шуньтянь
5	Интянь
6	Цзиньлин

**12. Задача 12**

Полный балл — 2

На первом этапе Северного похода в 1926 - 1927 гг. Народной революционной армии Гоминьдана пришлось столкнуться со следующими милитаристами:

1		У Пэйфу
2		Дуань Цижуй
3		Сунь Чуаньфан
4		Бай Чунси
5		Фэн Юйсян
6		Чжан Цзолинь

**13. Задача 13**

Полный балл — 2

Какие два государства являются главными военно-политическими партнерами Республики Корея в настоящее время?

1		Япония
2		Россия
3		Китай
4		США
5		Вьетнам

**14. Задача 14**

Полный балл — 2

Какие президенты Южной Кореи лично посещали КНДР с визитом? Выберите два верных ответа:

1		Пак Чжонхи
2		Ким Ёнсам
3		Чон Духван
4		Ким Дэчжун
5		Но Мухён

**15. Задача 15**

Полный балл — 2

Выберите верные утверждения, описывающие феномен «японского экономического чуда»

1		этим термином принято называть стремительный экономический рост
2		среди причин — низкие налоги и освоение новых технологий
3		этим термином принято называть стремительный экономический рост, наблюдавшийся в Японии с 1950-х до начала 1960-х
4		контроль над внешней торговлей

**16. Задача 16**

Полный балл — 2

Выберите из списка географические области Японии, где располагаются американские военные базы:

1		Хонсю
2		Курильские острова
3		Рюкю
4		Хоккайдо

**17. Задача 17**

Полный балл — 3

Расставьте в хронологическом порядке следующие события истории Ирана:

	▼
	▼
	▼
	▼
	▼
	▼
	▼
	▼

Возможные ответы

1	Правление Аббаса Великого Сефевидов
2	Конституционная революция
3	Формирование Казачьей бригады
4	Чалдыранская битва
5	Приход к власти Исмаила Сефевидов
6	Правление Карим-хана Зенда
7	Свержение династии Каджаров
8	Афганское нашествие

**18. Задача 18**

Полный балл — 3

Расположите в хронологической последовательности следующие политические события в истории Кореи.

1.	<input type="text"/>	▼
2.	<input type="text"/>	▼
3.	<input type="text"/>	▼
4.	<input type="text"/>	▼
5.	<input type="text"/>	▼

Возможные ответы

1	аннексия Кореи Японией
2	Корейская война
3	Оккупация американцами территории к югу от 38-й параллели
4	восстание в Кванджу
5	Апрельская революция

**19. Задача 19**

Полный балл — 3

Расположите литературные произведения в хронологической последовательности

<input type="checkbox"/>	<input type="text"/>	▼
<input type="checkbox"/>	<input type="text"/>	▼
<input type="checkbox"/>	<input type="text"/>	▼
<input type="checkbox"/>	<input type="text"/>	▼
<input type="checkbox"/>	<input type="text"/>	▼
<input type="checkbox"/>	<input type="text"/>	▼
<input type="checkbox"/>	<input type="text"/>	▼
<input type="checkbox"/>	<input type="text"/>	▼

Возможные ответы

1	Ши-цзин
2	Ши-цзи
3	Хань-шу
4	Люй-ши чунь-цю
5	Чунь-цю цзо-чжуань
6	Лунь-юй
7	Лунь-хэн
8	Синь-юй

**20. Задача 20**

Полный балл — 3

Расположите в хронологическом порядке события Второй Мировой войны, в которых принимала участие Япония:

1. 2. 3. 4. 5. 

Возможные ответы

1	Японское вторжение в Индию
2	Битва за Окинаву
3	захват Японией голландской Ост-Индии
4	Атомная бомбардировка Японии
5	битва у атолла Мидуэй

**21. Задача 21**

Полный балл — 4

Соотнесите имя и должность государственных деятелей Японии:

1	Токугава Ёсимунэ	<input type="text"/>
2	Танака Гиити	<input type="text"/>
3	Таро Коно	<input type="text"/>
4	Фудзивара-но Мотоцунэ	<input type="text"/>

Возможные ответы

1	министр иностранных дел
2	министр иностранных дел, премьер-министр
3	сёгун
4	кампаку

**22. Задача 22**

Полный балл — 4

Соотнесите фамилии корейских общественных деятелей с направлениями в развитии общественно-политической мысли.

1	Ким Ир Сен	<input type="text"/>
2	Со Джэпхиль	<input type="text"/>
3	Пак Чжонхи	<input type="text"/>
4	Чон Ягён	<input type="text"/>

Возможные ответы




1	чучхе
2	реформаторство
3	авторитарная демократия
4	сирхак




23. Задача 23

Полный балл — 4

Соотнесите архитектурные сооружения, запечатленные на фотографиях и государственные учреждения Китайской республики.

1		
2		
3		



Возможные ответы

1	Всеитайское собрание народных представителей
2	Госсовет КНР
3	Национальное правительство Китайской республики
4	Офис президента Китайской республики (Тайвань)

#### 24. Задача 24

Полный балл — 4

Сопоставьте восточных правителей и связанные с их правлением события.

- реформирование ряда сфер жизни Египта по европейскому образцу
- завершение строительства Суэцкого канала и закабаление Египта
- образование Египетского королевства и получение формальной независимости
- свержение Каджаров и приход к власти династии Пехлеви
- ликвидация султаната и халифата, формирование светской Турции
- образование и ликвидация Сирийского королевства

Король Фейсал	<input type="text"/>
Мустафа Кемаль Ататюрк	<input type="text"/>
Хедив Исмаил	<input type="text"/>
Мухаммад Али	<input type="text"/>
Реза-шах	<input type="text"/>

Король Фуад	<input type="text"/>
-------------	----------------------

**25. Задача 25**

Полный балл — 4

Соотнесите исторические процессы и эпохи в истории Японии:

1	распространение буддизма	<input type="text"/>
2	стремительная урбанизация	<input type="text"/>
3	переход власти от императорской семьи воинского сословию	<input type="text"/>
4	появление и распространения культуры рисоводства	<input type="text"/>

Возможные ответы

1	Нара
2	Токугава
3	Камакура
4	Яёй

**26. Задача 26**

Полный балл — 4

Соотнесите значимые исторические события из политической истории Китая с их датами.

1	1898	<input type="text"/>
2	1911	<input type="text"/>
3	1917	<input type="text"/>
4	1919	<input type="text"/>
5	1921	<input type="text"/>

Возможные ответы

1	Движение “4 мая”
2	Попытка реставрации монархии
3	“Сто дней реформ”
4	Основание КПК
5	Синьхайская революция

**27. Задача 27**

Полный балл — 5

Падение какого государства крестоносцев на Ближнем Востоке описывает фрагмент из этого средневекового документа?

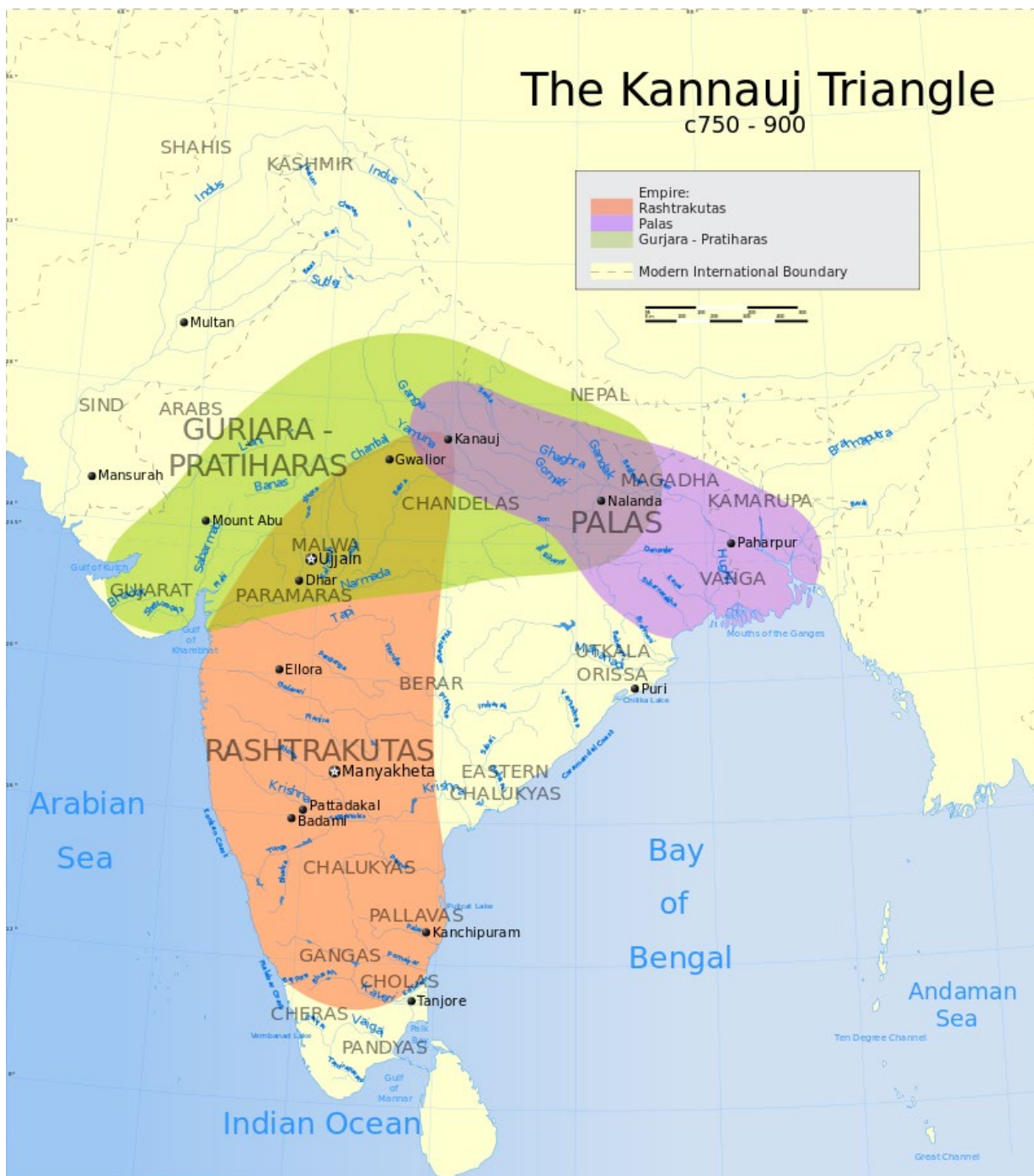
«Когда все христиане, имевшие право уйти, вышли, мусульмане изумлялись, не понимая, откуда могло взяться столько народу, и говорили Саладину, что из города выходит такое множество христиан, что они не могут вместе идти. Саладин разделил их на три части: Тамплиеры должны были вести одну часть; другую – Госпиталиты; и Балиан с патриархом – третью. Когда они были разделены таким образом, он дал каждому отделу по 50 рыцарей (мусульман), чтобы охранять их до самой христианской земли....»

« Саладин приказал конвоировать христиан таким образом, пока они шли по его стране, до владений Триполя; когда же они прибыли в Триполь, то граф Триполя приказал запереть ворота и не впускать никого..»

**Ответ:****28. Задача 28**

Полный балл — 5

О каком периоде развития Древней Индии рассказывает эта карта?



Ответ:

29. Задача 29

Полный балл — 5

На этой картине изображено одно из известных сражений цинских войск эпохи императора Цяньлуна. Назовите это место - современный город, - около которого произошло это сражение.



Ответ:

30. Задача 30

Полный балл — 5

На этой фотографии - памятник Герою в центре Сеула напротив дворца Кёнбоккун.

Героем какой войны был этот человек?



Ответ:

31. Задача 31

Полный балл — 5

Почётный титул “наставника государства” 20-*ии* 國師 в империи Цин носил ...

Ответ:

**32. Задача 32**

Полный балл — 5

В честь кого или чего был воздвигнут данный монумент в КНДР?



Ответ:

**33. Задача 33**

Полный балл — 5

К какой школе буддизма относится изображенный на фотографии храм (одно слово)?



**Ответ:**

**34. Задача 34**

Полный балл — 5

Назовите мирный договор, по которому Японии полностью переходит половина о. Сахалин (только прилагательное).

**Ответ:**