

## 1. Задача 1

Какое средневековое корейское государство боролось с монголами?

1	Чосон
2	Корё
3	Тэхан чегук
4	Силла

## 2. Задача 2

Как называется горный хребет, который тянется вдоль восточного побережья Корейского полуострова?

1	Халласан
2	Тхэбэк
3	Пэктусан
4	Чирисан

## 3. Задача 3

Распад какого протогосударства на территории Корейского полуострова способствовал образованию Трёх ранних государств (Самхан): Махан, Чинхан, Пёнхан?

1	Кочосон
2	Тонъе
3	Когурё
4	Чингук

## 4. Задача 4

При какой династии Сеул стал столицей Кореи?

1	династии Ван
2	династии Ли
3	династии Пак
4	династии Ким

**5. Задача 5**

Какое событие стало поводом для окончательного прекращения военного похода японцев в Корею в годы Имджинской войны?

1	<input type="checkbox"/>	истощение продовольственных запасов японской армии
2	<input type="checkbox"/>	смерть Тоётоми Хидёёси
3	<input type="checkbox"/>	решительные действия корейского флота под командованием адмирала Ли Сунсина
4	<input type="checkbox"/>	вступление китайской армии в войну на стороне Кореи

**6. Задача 6**

Самые ранние памятники древнекитайской письменности относятся к:

1	<input type="checkbox"/>	XXVI в. до н.э.
2	<input type="checkbox"/>	XVIII в. до н.э.
3	<input type="checkbox"/>	XIV в. до н.э.
4	<input type="checkbox"/>	IX в. до н.э.

**7. Задача 7**

Представителем какого социального слоя Древнего Китая был Конфуций?

1	<input type="checkbox"/>	Родовой аристократии
2	<input type="checkbox"/>	безземельного дворянства
3	<input type="checkbox"/>	жречества
4	<input type="checkbox"/>	ремесленников

**8. Задача 8**

Впервые титул «наставника государства» (го ши 国师) был дарован в:

1	<input type="checkbox"/>	II в.
2	<input type="checkbox"/>	IV в.
3	<input type="checkbox"/>	VI в.
4	<input type="checkbox"/>	IX в.

## 9. Задача 9

Кто из перечисленных военных правителей не оставил известного законодательства:

1	<input type="checkbox"/>	Асикага Такаудзи
2	<input type="checkbox"/>	Ходзё Ясутоки
3	<input type="checkbox"/>	Имагава Ёсимото
4	<input type="checkbox"/>	Сайто Досан

## 10. Задача 10

Какой из замков не является реконструкцией и сохранился с эпохи Токугава?

1	<input type="checkbox"/>	Химэдзи
2	<input type="checkbox"/>	Мацумото
3	<input type="checkbox"/>	Нагоя
4	<input type="checkbox"/>	Осака

## 11. Задача 11

К причинам переноса столицы из Нара в Нагаока, а затем - Хэйан не относится:

1	<input checked="" type="radio"/>	Попытка избежать влияния буддийских храмов
2	<input type="checkbox"/>	Выбор более выгодного расположения с точки зрения геомантии
3	<input type="checkbox"/>	Смена линии наследования в императорском доме
4	<input type="checkbox"/>	Стремление быть ближе к морю

**12. Задача 12**

Данный тип жилой постройки был характерен для:

1	<input type="checkbox"/>	Домов аристократии эпохи Хэйан
2	<input type="checkbox"/>	Усадеб самураев в эпоху Токугава
3	<input type="checkbox"/>	Городских купеческих усадеб
4	<input type="checkbox"/>	Всех перечисленных

**13. Задача 13\***

В каком году турецкие войска взяли Константинополь?

1	<input type="checkbox"/>	1453
2	<input type="checkbox"/>	1571
3	<input type="checkbox"/>	1529
4	<input type="checkbox"/>	1683

**14. Задача 14\***

Как назывались шесть принципов, на которых строилась молодая Турецкая республика с 1920-х гг.?

1	<input type="checkbox"/>	Шесть путей Ататюрка
2	<input type="checkbox"/>	Шесть коней Ататюрка
3	<input type="checkbox"/>	Шесть мечей Ататюрка
4	<input type="checkbox"/>	Шесть стрел Ататюрка

## 15. Задача 15

Кто такие кшатрии в индийской варновой системе?

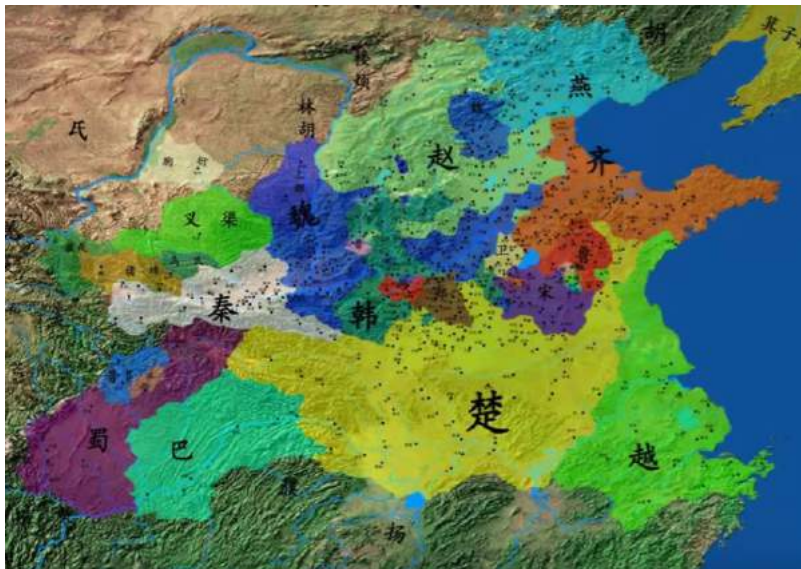
1	<input type="text"/>	Жрецы
2	<input type="text"/>	Воины
3	<input type="text"/>	Земледельцы
4	<input type="text"/>	Уборщики

## 16. Задача 16

Какой город захватили крестоносцы в результате IV Крестового похода?

1	<input type="text"/>	Константинополь
2	<input type="text"/>	Иерусалим
3	<input type="text"/>	Антиохия
4	<input type="text"/>	Дамаск

## 17. Задача 17\*



К «Срединным царствам» (Чжун го 中国) в эпоху Чжань го (V - III вв. до н.э.) не относились:

1	Чжао 赵
2	Ци 齐
3	Юэ 越
4	Чу 楚
5	Цинь 秦
6	Вэй 魏

### 18. Задача 18

Какие два из перечисленных ниже фактов относятся к истории Кореи кон. XIX в.?

1	<input type="checkbox"/>	возникновение идейного течения сирхак
2	<input type="checkbox"/>	заключение неравноправных договоров
3	<input type="checkbox"/>	заключение договора о слиянии Кореи с Японией
4	<input type="checkbox"/>	первомартовское восстание
5	<input type="checkbox"/>	убийство королевы Мин Мёнсон

### 19. Задача 19

Кто из перечисленных персоналий принадлежал к партии реформ в Корее в кон. XIX в.? Выберите два верных ответа.

1	<input type="checkbox"/>	Со Джэпхиль
2	<input type="checkbox"/>	Ким Кидук
3	<input type="checkbox"/>	Хон Гильдон
4	<input type="checkbox"/>	Юн Чхихо
5	<input type="checkbox"/>	Ким Дэчжун

**20. Задача 20**

Кто из перечисленных военных деятелей никогда не носил титул сёгуна:

1	<input type="checkbox"/>	Токугава Иэясу
2	<input type="checkbox"/>	Гоётоми Хидэёси
3	<input type="checkbox"/>	Ода Нобунага
4	<input type="checkbox"/>	Акэти Мицухидэ
5	<input type="checkbox"/>	Асикага Ёсиаки

**21. Задача 21**

Кого из лидеров нового Китая (КНР) неофициально называли тайшанхуан («император на покое»)?

1	<input type="checkbox"/>	Мао Цзэдуна
2	<input type="checkbox"/>	Лю Шаоци
3	<input type="checkbox"/>	Дэн Сяопина
4	<input type="checkbox"/>	Чжу Дэ
5	<input type="checkbox"/>	Пэн Дэхуая
6	<input type="checkbox"/>	Чэнь Юня

**22. Задача 22**

Укажите причины упадка Омейядского халифата и прихода к власти Аббасидов.

1	<input type="checkbox"/>	Быстрая сменяемость халифов – кризис власти
2	<input type="checkbox"/>	Постоянные поражения от византийских войск
3	<input type="checkbox"/>	Формирование в Иране коалиции из шиитов и персов
4	<input type="checkbox"/>	Нападение на Халифат тюркских племён
5	<input type="checkbox"/>	Междоусобные войны Омейядов

**23. Задача 23**

Расставьте в хронологическом порядке правления Праведных халифов:

1	Усман
2	Умар
3	Али
4	Абу Бакр

**24. Задача 24\***

Восстановите последовательность, в которой следует производить упорядочение, согласно классическому тексту «Великое учение» («Да сюэ»).

1	знания
2	сердце
3	семья
4	помыслы
5	царство

**25. Задача 25**

Соотнесите течения общественно-политической мысли Кореи с именами деятелей, имевших к ним непосредственное отношение.

1	Тасан (Чон Ягён)	<input type="text"/>
2	Чхве Джеу	<input type="text"/>
3	Сон Сёнхи	<input type="text"/>
4	Со Джэпхиль	<input type="text"/>

Возможные ответы

1	Тонхак
2	Чхондогё
3	Реформаторство
4	Сирхак
5	Вонбульгё



**26. Задача 26**

Сопоставьте исторических противников.

1) Рим	<input type="text"/>
2) Греческие полисы	<input type="text"/>
3) Византия	<input type="text"/>
4) Города Шумера	<input type="text"/>

Возможные ответы

1	Элам
2	Держава Ахеменидов
3	Парфянское царство
4	Сасанидское государство

**27. Задача 27**

Соотнесите стороны света с традиционно символизирующими их в Китае цветами:

1) север	<input type="text"/>
2) запад	<input type="text"/>
3) юг	<input type="text"/>
4) восток	<input type="text"/>

Возможные ответы

1	зеленый
2	красный
3	чёрный
4	белый

**28. Задача 28**

Соотнесите священные горы и покровительствующих им бодхисатв.

1) Утайшань	<input type="text"/>
2) Путошань	<input type="text"/>
3) Цзюхуашань	<input type="text"/>
4) Эмэйшань	<input type="text"/>

Возможные ответы

1	Авалокитешвара
2	Кшитигарбха
3	Самантабhadра
4	Маньджушри


**29. Задача 29**

Предписания какого средневекового института воинов Кореи представлено ниже?


- верностью служи правителю;
- сыновней почтительностью служи родителям;
- доверием обретай друзей;
- во время боя нет отступлений;
- в убиении или оставлении живым есть выбор

### 30. Задача 30

Как называется традиционный тип жилища корейцев?




### 31. Задача 31



Этот каллиграфический свиток выполнен сунским императором Хуэйцзуном (годы жизни 1082 - 1135). Для какой цели он использовался?

### 32. Задача 32

Определите какое событие иллюстрирует эта картина.



### 33. Задача 33\*

Как называется это архитектурное сооружение в Испании?



### 34. Задача 34

Монета какого государства представлена на рисунке?



### 35. Задача 35\*

Укажите, в каком веке был создан памятник, отрывок из которого приведен ниже.

Итак, императорская династия нашей страны ведет свое происхождение от богини Амаэрасу, которая освещает этот мир, и, как сказано в божественном эдикте Амаэрасу, императорская династия во веки веков будет непоколебима и будет существовать, пока существуют небо и земля. В этом и состоит главная суть, основа Пути. Поскольку сказанное в божественном эдикте соответствует ныне существующему положению вещей [в нашей стране], то отсюда ясно, что старинные предания и легенды отнюдь не вымысел, что сказанное в них не относится к чужеземному государству, ясно также, что именно составляет исключительные особенности нашей страны. Хотя в чужеземном государстве с умным видом толкуют то об одном Пути, то о другом, и считают, что только эта страна достойна уважения, однако там нет основной императорской династии, там часто происходила смена династий, возникали сильные беспорядки. Отсюда можно предположить, что все [китайские] теории ложны и ничего истинного в них нет.

Таким образом, поскольку наша страна является родиной богини Амаэрасу, божественной, где правит императорская династия, главной и основной среди других держав, то все они должны почитать божественную страну и подчиняться ей, все в мире должны следовать ее истинному Пути. Однако в иностранных государствах до сих пор не знают об изложенных выше особенностях нашей родины, совершенно необоснованно считают, что Япония - лишь небольшой островок где-то далеко за морями. [Жители иностранных

государств] даже не могут предположить, что истинный Путь существует только в божественной стране, и болтают всякий вздор. Все это достойно большого сожаления!

**Ответ запишите только цифрами.**

### 36. Задача 36

---



Для какого древнего китайского государства длиннохвостая птица феникс являлась тотемом?