

**1. Задача**

Полный балл — 3

Берестяные грамоты были обнаружены на территории:

1	Старой Руссы
2	Чернигова
3	Пскова
4	Суздали
5	Владимира

**2. Задача**

Полный балл — 3

Какие события относятся ко времени великого княжения Владимира Всеволодовича Мономаха в Киеве?


1	Съезд князей в Уветичах
2	Победа над полоцким князем Глебом Всеславичем
3	Поход Юрия Владимировича против волжских болгар
4	Начало княжения Юрия Долгорукого в Ростово-Суздальской земле
5	Изгнание Ярослава Святославича Рязанского из Чернигова

**3. Задача**

Полный балл — 3

Какие памятники архитектуры были сооружены в Новгородской земле в домонгольский период?





1	<input type="checkbox"/>	А
2	<input type="checkbox"/>	Б
3	<input type="checkbox"/>	В
4	<input type="checkbox"/>	Г
5	<input type="checkbox"/>	Д

#### 4. Задача

Полный балл — 3

Какие события относятся ко времени великого княжения Всеволода Юрьевича III во Владимире?

1		Битва на р. Липице
2		Первое летописное упоминание Твери
3		Захват Киева войсками Андрея Юрьевича Боголюбского
4		Создание ордена Меченосцев
5		Начало великого княжения Глеба Юрьевича в Киеве

**5. Задача**

Полный балл — 3

Какие исторические деятели связаны с царствованием Ивана Васильевича IV?

1		М.И. Воротынский
2		И.М. Заруцкий
3		В.А. Старицкий
4		П.Т. Мстиславец
5		Ф.И. Пашков

**6. Задача**

Полный балл — 3

Какие периодические издания издавались Н.И. Новиковым?

1		«Молва»
2		«Трутень»
3		«Утренний свет»
4		«И то, и сё»
5		«Живописец»

**7. Задача**

Полный балл — 3

Данный памятник архитектуры:



1		являлся местом размещения закрытого женского учебного заведения
2		проектировался А.Н. Ворониным
3		был построен по проекту Дж. Кваренги
4		был местом встречи Александра I и членов Негласного комитета
5		служил резиденцией Екатерине II

### 8. Задача

Полный балл — 3

Какие государственные учреждения были ликвидированы в России в 1770-е гг.?

1		Адмиралтейская коллегия
2		Штатс-контора
3		Военная коллегия
4		Ревизион-коллегия
5		Коллегия иностранных дел

### 9. Задача

Полный балл — 3

Какие события и явления связаны с изображенным на портрете историческим лицом?



1	создание Государственного совета
2	переговоры о присоединении Младшего жуза к России
3	начало издания журнала «Телескоп»
4	Польское восстание 1830 г.
5	деятельность Негласного комитета

### 10. Задача

Полный балл — 3

Заключительный акт Венского конгресса...

1	Санционировал передачу Пруссии части Саксонии
2	Подтвердил право российских подданных вести свободную торговлю по все территории Турции
3	Создавал Германский союз
4	Закрепил передачу России Валашского княжества
5	Санционировал передачу России Ингерманландии

### 11. Задача

Полный балл — 3


В соответствии с «Положением о губернских и уездных земских учреждениях» 1864 г. в гласные могли быть избраны:


1	Лица, имеющие купеческое свидетельство
2	Владельцы находящихся на городской земле фабрик и других промышленных или торговых заведений с годовым оборотом не менее 6000 рублей.
3	Члены губернских правлений
4	Уездные прокуроры
5	Стряпчие

## 12. Задача

Полный балл — 3

Какие произведения искусства созданы участниками «Санкт-Петербургской артели художников»?





1		А
2		Б
3		В
4		Г
5		Д

### 13. Задача

Полный балл — 3

Этот государственный деятель...





1	Руководил военным ведомством
2	Занимал пост министра финансов
3	Был председателем Комитета министров
4	Участвовал в Крымской войне
5	Добился согласия Китая на строительство КВЖД

#### 14. Задача

Полный балл — 3

Какие события относятся к первым двум годам деятельности IV Государственной думы?


1	Проведение судебного процесса по делу М. Бейлиса
2	Покушение К.Д. Богрова на П.А. Столыпина
3	Убийство Г.Е. Распутина
4	Расстрел бастующих на Ленских приисках
5	Вторая Балканская война



## 15. Задача

Полный балл — 5

Расположите произведения искусства в порядке их создания:





**16. Задача**

Полный балл — 5

Расположите события в хронологической последовательности:

Начало великого княжения Семеона Бекбулатовича	<input type="text"/>
Люблинская уния	<input type="text"/>
Созыв церковного собора, осудившего ересь Феодосия Косого	<input type="text"/>
Набег Девлет-гирея на Москву	<input type="text"/>

**17. Задача**

Полный балл — 5

Расположите явления в порядке их возникновения:

Боярская дума	<input type="text"/>
Синод	<input type="text"/>
Сенат	<input type="text"/>
Ближняя канцелярия	<input type="text"/>

**18. Задача**

Полный балл — 5

Расположите события в хронологической последовательности:

Заключение Ункяр-Искелесийского союзного договора между Россией и Турцией	<input type="text"/>
Сан-Стефанский мирный договор	<input type="text"/>
Бахчисарайский мирный договор	<input type="text"/>
Заключение Адрианопольского мира	<input type="text"/>

**19. Задача**

Полный балл — 5

Расположите нормативно-правовые акты в хронологической последовательности:

«Положение Совета министров о военно-полевых судах»	<input type="text"/>
«Свод узаконений и распоряжений правительства об устройстве сельского состояния»	<input type="text"/>
«Высочайший манифест об усовершенствовании государственного порядка»	<input type="text"/>
«О сокращении гимназического образования»	<input type="text"/>

**20. Задача**

Полный балл — 5

Соотнесите событие и имя исторического деятеля, с ним связанного:

Битва на р. Шелони	<input type="text"/>
Созыв в Москве первого Земского собора	<input type="text"/>
Присоединение Пскова к Москве	<input type="text"/>
Избрание Ионы митрополитом Киевским и Всея Руси	<input type="text"/>

**21. Задача**

Полный балл — 5

Соотнесите событие и дату:

1595 г.	<input type="text"/>
1618 г.	<input type="text"/>
1634 г.	<input type="text"/>
1661 г.	<input type="text"/>

## 22. Задача

Полный балл — 5


Соотнесите художественное произведение и имя государственного деятеля, в годы правления которого оно было создано:

Недоросль	<input type="text"/>
Большая государева книга, или Корень российских государей	<input type="text"/>
Слово похвальное о флоте российском	<input type="text"/>
Езда в остров любви	<input type="text"/>




## 23. Задача

Полный балл — 5

Соотнесите изображенное на портрете историческое лицо и связанное с ним явление:

	<input type="text"/>
--	----------------------



	<input data-bbox="715 421 847 465" type="text"/>
	<input data-bbox="715 1003 847 1048" type="text"/>
	<input data-bbox="715 1641 847 1686" type="text"/>

1 — «Государственность и анархия. Борьба двух партий в Интернациональном обществе рабочих»  
2 — «Материализм и эмпириокритицизм. Критические заметки об одной реакционной философии»

3 — «Наши разногласия»

4 — «Исторические письма»

5 — «Катехизис революционера»

#### 24. Задача

Полный балл — 5

Соотнесите событие и дату:

Первый съезд Всероссийского крестьянского союза в Москве	<input type="text"/>
Первый съезд Союза освобождения	<input type="text"/>
Второй съезд РСДРП	<input type="text"/>
Первый съезд «Союза 17 октября»	<input type="text"/>

#### 25. Задача

Полный балл — 8

Заполните пропуски в приведенном ниже отрывке из исторического источника. Запишите ответ(ы) в ИМЕНИТЕЛЬНОМ падеже.

«Хвалит же гласом хваления Римская страна Петра и Павла, коими приведена к вере в Иисуса Христа, Сына Божия ... Все страны, грады и народы чтут и славят каждого своего учителя, коим научены православной вере. Восхвалим же и мы ... свершившего великие и чудные деяния учителя и наставника нашего, великого князя земли нашей , внука древнего , сына же славного , которые, во дни свои властвуя, мужеством и храбростью известны были во многих странах, победы и могущество их воспоминаются и прославляются поныне. Ведь владычествовали они не в безвестной и худой земле, но в <земле> Русской, что ведома во всех наслышанных о ней четырех концах земли».