

1. Задача 1

Датируйте описанное в летописном источнике событие:

«И послав людей начал забирать у детей у знатных людей и отдавать на книжное учение. А матери плакали по своим детям, поскольку не утвердились в вере, и плакали об отданных в книжное учение, как о мертвых.»

1	<input type="radio"/>	945 г.
2	<input checked="" type="radio"/>	988 г.
3	<input type="radio"/>	1100 г.
4	<input type="radio"/>	1147 г.

2. Задача 2

Какие события и явления относятся ко времени правления Алексея Михайловича:

1	<input type="radio"/>	взятие крепости Азов донскими казаками
2	<input type="radio"/>	строительство Теремного дворца в Кремле
3	<input checked="" type="radio"/>	патриаршество Иосафа II
4	<input type="radio"/>	создание «Сказания об осаде Троице-Сергиева монастыря»

3. Задача 3

Кто из перечисленных государственных деятелей входил в состав Кабинета министров при Иване VI:

1	<input type="radio"/>	Э.И. Бирон
2	<input type="radio"/>	кн. В.Л. Долгоруков
3	<input checked="" type="radio"/>	гр. М.Г. Головкин
4	<input type="radio"/>	кн. Д.М. Голицын

4. Задача 4

Шекинское и Талышское ханства отошли к России по:

1	<input type="radio"/>	Туркманчайскому мирному договору
2	<input checked="" type="radio"/>	Гюлистанскому мирному договору
3	<input type="radio"/>	Рештскому договору
4	<input type="radio"/>	Георгиевскому трактату

5. Задача 5

В каком году был учрежден Крестьянский поземельный банк?

1	<input type="radio"/>	1754 г.
2	<input type="radio"/>	1786 г.
3	<input type="radio"/>	1860 г.
4	<input checked="" type="radio"/>	1882 г.

6. Задача 6

Кто из приведенных ниже деятелей культуры и искусства принадлежал к творческому объединению «Бубновый валет»?

1	<input type="radio"/>	Д.С. Мережковский
2	<input type="radio"/>	Н.А. Тэффи
3	<input checked="" type="radio"/>	П.П. Кончаловский
4	<input type="radio"/>	К.А. Сомов

7. Задача 7

На каком съезде был принят «Морального кодекса строителя коммунизма»?

1	<input type="radio"/>	XXVIII съезд КПСС
2	<input checked="" type="radio"/>	XXII съезд КПСС
3	<input type="radio"/>	XV съезд ВКП (б)
4	<input type="radio"/>	XX съезд КПСС

8. Задача 8

Какие события относятся ко времени великого княжения Михаила Ярославича Тверского?

1	<input checked="" type="checkbox"/>	поход на Новгород
2	<input checked="" type="checkbox"/>	битва на р. Шоше
3	<input checked="" type="checkbox"/>	женитьба Юрия Даниловича на Кончаке
4	<input type="checkbox"/>	присоединение Можайска к Москве
5	<input checked="" type="checkbox"/>	начало правления хана Узбека в Орде

9. Задача 9

Какие события относятся ко времени правления изображенного на портрете государя?



1	<input checked="" type="checkbox"/>	Принятие «Уложения о холопах»
2	<input checked="" type="checkbox"/>	Подписание Тявзинского мира
3	<input type="checkbox"/>	издание указа о запрете земельных вкладов в монастыри
4	<input checked="" type="checkbox"/>	Учреждение патриаршества в России
5	<input type="checkbox"/>	Подписание Ям-Запольского мира

10. Задача 10

Какие из нижеперечисленных договоров были заключены Россией со Швецией?

1	<input checked="" type="checkbox"/>	Кардисский
2	<input type="checkbox"/>	Андрусовский
3	<input checked="" type="checkbox"/>	Столбовский
4	<input type="checkbox"/>	Деулинский
5	<input type="checkbox"/>	Поляновский

11. Задача 11

Данный памятник архитектуры:



1	<input checked="" type="checkbox"/>	Был построен по проекту архитектора Д.М. Фонтаны
2	<input type="checkbox"/>	Являлся первым каменным зданием Санкт-Петербурга
3	<input checked="" type="checkbox"/>	Служил резиденцией великого князя Петра Федоровича
4	<input type="checkbox"/>	Служил местом размещения двенадцати коллегий
5	<input type="checkbox"/>	Служил зимней резиденцией Екатерины II

12. Задача 12*

Кто из ниже перечисленных литераторов изображен на картине Г.Г. Черницова:



1	<input type="checkbox"/>	Н.В. Гоголь
2	<input checked="" type="checkbox"/>	А.С. Пушкин
3	<input type="checkbox"/>	М.Ю. Лермонтов
4	<input checked="" type="checkbox"/>	И.А. Крылов
5	<input checked="" type="checkbox"/>	В.А. Жуковский


13. Задача 13

Органический статут 1832 г.:

1	<input type="checkbox"/>	даровал Царству Польскому конституцию
2	<input checked="" type="checkbox"/>	ликвидировал сейм Царству Польского
3	<input type="checkbox"/>	даровал Царству Польскому независимость
4	<input checked="" type="checkbox"/>	ликвидировал отдельную армию Царству Польского
5	<input checked="" type="checkbox"/>	сохранял в силе польское уголовное и гражданское законодательство

14. Задача 14

Какие лозунги были провозглашены при политическом лидере, представленном на фотографии?



1	<input type="checkbox"/>	«Враг не пройдет!»
2	<input checked="" type="checkbox"/>	«Догнать и перегнать Америку...»
3	<input type="checkbox"/>	«Гласность – перестройка - ускорение»
4	<input checked="" type="checkbox"/>	«...нынешнее поколение советских людей будет жить при коммунизме!»
5	<input type="checkbox"/>	«Пролетарии всех стран, соединяйтесь»

15. Задача 15

Расположите следующие исторические понятия и явления в порядке их возникновения

Уроки и погосты	<input type="text"/>
Тамга	<input type="text"/>
Владимирское великое княжение	<input type="text"/>
«Устав» Владимира Мономаха	<input type="text"/>

16. Задача 16*

Расположите события эпохи церковного раскола в хронологическом порядке.

Начало осады Соловецкого монастыря	<input type="text"/>
Церковный собор, осудивший двоеперстие	<input type="text"/>
Низложение патриарха Никона	<input type="text"/>
Отъезд патриарха Никона в Воскресенский Новоиерусалимский монастырь	<input type="text"/>

17. Задача 17

Расположите должности в порядке их возникновения:

частный пристав	<input type="text"/>
обер-прокурор	<input type="text"/>
капитан-исправник	<input type="text"/>
Фискал	<input type="text"/>

18. Задача 18

Расположите события в хронологическом порядке

Земская реформа	<input type="text"/>
Крымская война	<input type="text"/>
Строительство первой железной дороги в России	<input type="text"/>
«Распоряжение о мерах к сохранению государственного порядка и общественного спокойствия»	<input type="text"/>

19. Задача 19

Расположите законодательные акты в хронологическом порядке

указ «О приостановлении деятельности Коммунистической партии РСФСР	<input type="text"/>
закон «О государственном предприятии (объединении)	<input type="text"/>
указ Президиума Верховного Совета « Об амнистии»	<input type="text"/>
постановление «Об утверждении Положения об Управлении контрразведки НКВМФ „Смерш“ и его органах на местах».	<input type="text"/>

20. Задача 20*

Соотнесите изображения князей с их именами





Возможные ответы

1	Святослав
2	Владимир
3	Глеб
4	Борис
5	Андрей

21. Задача 21

Соотнесите автора и произведение:



Иван Пересветов	<input type="text"/>
Иосиф Волоцкий	<input type="text"/>
Федор Карпов	<input type="text"/>
Ермолай Еразм	<input type="text"/>

Возможные ответы

1	Моление к царю
2	Послание Максиму Греку
3	Послание Василию III
4	Большая челобитная
5	О божественном провидении

22. Задача 22*

Установите соответствия между произведениями искусства и их авторами:

	<input type="text"/>
	<input type="text"/>



Возможные ответы

1	Ф.С. Рокотов
2	Д.Г. Левицкий
3	И.Я. Вишняков
4	В.Л. Боровиковский
5	А.П. Антропов

23. Задача 23

Соотнесите событие и дату:

Сан-Стефанский мир	<input type="text"/>
Синопское сражение	<input type="text"/>
Парижский мир	<input type="text"/>
Сражение на Альме	<input type="text"/>

Возможные ответы

1	1812
2	1853
3	1854
4	1856
5	1878

24. Задача 24

Соотнесите действие и историческую личность:

Покинул Россию на «философском пароходе»	<input type="text"/>
Написал открытое письмо Сталину	<input type="text"/>
Написал «Письмо к съезду»	<input type="text"/>
Служил в рядах чехословацкого корпуса	<input type="text"/>

Возможные ответы

1	Ф.Э. Дзержинский
2	Н.А. Бердяев
3	Я. Гашек
4	В.И. Ленин
5	Ф.Ф. Раскольников

25. Задача 25

Прочтите отрывок из исторического источника и ответьте на вопросы:

«Для успешного исполнения своих функций партии в высшей степени важно прочное положение в различных слоях населения. По отношению к перевороту особенно важны администрация и войско. Не менее серьезное внимание партия должна обратить на народ. Главная задача партии в народе – подготовить его содействие перевороту и возможность успешной борьбы на выборах после переворота, борьбы, имеющей целью проведение чисто народных депутатов».

- 1) Программа какого тайного революционного общества содержала данное положение?
- 2) В каком году возникло данное революционное общество?