

## 1. Задача 1

Кто из названных ниже князей сражался с Болеславом Храбрым:

1	<input type="radio"/>	Святослав Игоревич
2	<input type="radio"/>	Олег Святославич
3	<input checked="" type="radio"/>	Ярослав Мудрый
4	<input type="radio"/>	Всеволод Ярославич

## 2. Задача 2

Фраза: «Ступай прочь, смерд, не надобен ты мне», - принадлежит:

1	<input type="radio"/>	Василию II
2	<input checked="" type="radio"/>	Василию III
3	<input type="radio"/>	Борису Годунову
4	<input type="radio"/>	Ивану IV

## 3. Задача 3

Укажите, какие учебные заведения были основаны по предложению Ивана Ивановича Шувалова:

1	<input checked="" type="radio"/>	Императорская Академия художеств
2	<input type="radio"/>	Российская академия наук
3	<input type="radio"/>	Пажеский корпус
4	<input type="radio"/>	Сухопутный шляхетный корпус

## 4. Задача 4

Когда был образован Секретный комитет «для обсуждения мер по устройству быта помещичьих крестьян»?

1	<input type="radio"/>	1813 г.
2	<input type="radio"/>	1856 г.
3	<input checked="" type="radio"/>	1857 г.
4	<input type="radio"/>	1861 г.

## 5. Задача 5

Деятельность «Собрания (клуба) русских фабрично-заводских рабочих» связана с именем:

1	<input type="radio"/>	В.И. Ульянова
2	<input checked="" type="radio"/>	Г.А. Гапона
3	<input type="radio"/>	Г.В. Плеханова
4	<input type="radio"/>	В.М. Чернова

## 6. Задача 6

В каком году был выпущен плакат, фрагмент которого представлен ниже:



1	<input type="radio"/>	1917 г.
2	<input type="radio"/>	1918 г.
3	<input checked="" type="radio"/>	1919 г.
4	<input type="radio"/>	1920 г.

## 7. Задача 7

Госприемка была введена в СССР в период руководства:

1	<input type="radio"/>	Н.С. Хрущева
---	-----------------------	--------------

2	<input type="radio"/>	Л.И. Брежнева
3	<input type="radio"/>	Ю.В. Андропова
4	<input checked="" type="radio"/>	М.С. Горбачева

## 8. Задача 8

Что из перечисленного являлось в домонгольской Руси должностью?

1	<input type="checkbox"/>	закуп
2	<input checked="" type="checkbox"/>	мечник
3	<input checked="" type="checkbox"/>	посадник
4	<input checked="" type="checkbox"/>	тысяцкий
5	<input type="checkbox"/>	холоп

## 9. Задача 9\*



Какие события произошли после того, как была написана эта икона?

1	<input type="checkbox"/>	битва на Куликовом поле
2	<input checked="" type="checkbox"/>	взятие Константинополя османами
3	<input checked="" type="checkbox"/>	образование Касимовского ханства
4	<input checked="" type="checkbox"/>	ослепление Василия II
5	<input type="checkbox"/>	смерть Сергия Радонежского

## 10. Задача 10

Какие события относятся ко времени правления московского государя изображенного на этой парсуне:



1	<input type="checkbox"/>	присоединение левобережной Украины
2	<input checked="" type="checkbox"/>	урочные годы
3	<input type="checkbox"/>	Соборное Уложение
4	<input type="checkbox"/>	отмена местничества
5	<input checked="" type="checkbox"/>	гибель царевича Дмитрия

## 11. Задача 11

Какие губернии были созданы в результате губернской реформы в 1708–1710 гг.:

1	<input checked="" type="checkbox"/>	Казанская
2	<input type="checkbox"/>	Ревельская
3	<input checked="" type="checkbox"/>	Азовская
4	<input checked="" type="checkbox"/>	Сибирская
5	<input type="checkbox"/>	Симбирская

## 12. Задача 12




В годы правления изображенного на портрете императора





1	<input checked="" type="checkbox"/>	открыт Дерптский университет
2	<input type="checkbox"/>	в России была проведена первая подушная перепись населения
3	<input type="checkbox"/>	в состав России вошла Кабарда и Кубань
4	<input checked="" type="checkbox"/>	был создан Государственный совет
5	<input checked="" type="checkbox"/>	был издан указ «О вольных хлебопашцах»

### 13. Задача 13\*

Кто из изображенных на портретах писателей и публицистов посещал «пятницы Петрашевского»?





1	<input checked="" type="checkbox"/>	1
2	<input type="checkbox"/>	2
3	<input checked="" type="checkbox"/>	3
4	<input type="checkbox"/>	4
5	<input type="checkbox"/>	5

## 14. Задача 14

Конституция 1936 г.:

1	<input checked="" type="checkbox"/>	провозглашала победу социализма в СССР
2	<input checked="" type="checkbox"/>	отменяла ограничения избирательных прав
3	<input type="checkbox"/>	декларировала принцип развитого социализма
4	<input checked="" type="checkbox"/>	санкционировала союзный статус Казахской и Киргизской автономных республик

5	<input type="checkbox"/>	закрепляла руководящую и направляющую роль КПСС
---	--------------------------	---

### 15. Задача 15\*

Расположите в хронологическом порядке события княжения Ивана III:

битва на Шелони	<input type="text"/>
смерть Ивана Ивановича Молодого	<input type="text"/>
освящение Успенского собора в Кремле	<input type="text"/>
составление Судебника	<input type="text"/>

Возможные ответы

1	1
2	2
3	3
4	4

### 16. Задача 16

Расположите исторических деятелей в хронологическом порядке

протопоп Аввакум	<input type="text"/>
патриарх Гермоген	<input type="text"/>
протопоп Сильвестр	<input type="text"/>
митрополит Филипп (Колычев)	<input type="text"/>

Возможные ответы

1	1
2	2
3	3
4	4

### 17. Задача 17\*

Расположите заключенные в XVIII веке мирные договоры в хронологическом порядке:



Верельский мирный договор со Швецией	<input type="text"/>
Кючук-Кайнарджийский мирный договор с Османской империей	<input type="text"/>
Абоский мирный договор со Швецией	<input type="text"/>
Андрианопольский мирный договор с Османской империей	<input type="text"/>

Возможные ответы

1	1
2	2
3	3
4	4

### 18. Задача 18\*

Перед Вами фрагменты законодательных актов, опубликованных в Полном собрании законов Российской империи. Расположите их в верной хронологической последовательности:

1) Если кто изъ помещиковъ пожелаетъ отпустить благопріобретенныхъ или родовыхъ крестьянъ своихъ по одиначкѣ, или и цѣлымъ селеніемъ на волю, и вмѣстѣ съ тѣмъ утвердить имъ участки земан или и цѣлую дачу; то сдѣлавъ съ ними условія, какія по обоюдному согласію признаются лучшими, имѣеть представить ихъ при прошеніи своемъ чрезъ Губернскаго Дворянскаго Предводителя къ

скомъ Престола Нашемъ вѣнчаніе, почитаемъ долгомъ Нашимъ предъ Творцемъ и всѣхъ благъ Подателемъ подтвердить во всей Имперіи Нашей о точномъ и непремѣнномъ сего закона исполненіи, повелѣвая всѣмъ и каждому наблюдать, дабы никто и ни подъ какимъ видомъ не дерзалъ въ воскресные дни принуждать крестьянъ къ работамъ, тѣмъ болѣе, что для сельскихъ издѣльевъ остающіеся въ недѣлѣ шесть дней, по равному числу оныхъ вообще раздѣляемые, какъ для крестьянъ собственно, такъ и для работъ ихъ въ пользу помѣщиковъ

1. Повинности крестьянъ, въ пользу помѣщиковъ, могутъ быть опредѣлены въ договорахъ денежнымъ оброкомъ, произведеніями, обработываніемъ помѣщичьей земли, или другою работою.

2. Въ случаѣ неисполненія крестьянами пріемлемыхъ ими на себя по договору обязанностей, они понуждаются къ тому земскою полиціею, подъ руководствомъ Уѣздныхъ Предводителей Дворянства и подъ высшимъ наблюдениемъ Губернскаго Правленія.

3. Крестьяне, по надлежащемъ утвержденіи заключенныхъ между ими и помѣщиками договоровъ, принимаютъ названіе обязанныхъ крестьянъ.

#### Гл. I.—*Положенія общія.*

1. Для завѣдыванія дѣлами, относящимися къ мѣстнымъ хозяйственнымъ пользамъ и нуждамъ каждой губерніи и cadaго уѣзда, образуются губерскія и уѣздныя земскія учрежденія, составъ и порядокъ дѣйствія коихъ опредѣляются настоящимъ Положеніемъ.

Возможные ответы

1	1
2	2
3	3
4	4

**19. Задача 19**

Расположите территории по времени окончательного освобождения от фашистских войск

Киев	<input type="text"/>
Новгород	<input type="text"/>
Белгород	<input type="text"/>
Псков	<input type="text"/>

Возможные ответы

1	1
2	2
3	3
4	4

**20. Задача 20**

Сопоставьте действие и митрополита

переехал во Владимир-на-Клязьме	<input type="text"/>
поддерживал несовершеннолетнего Дмитрия Донского	<input type="text"/>
противостоял Михаилу-Митяю	<input type="text"/>
участвовал в Ферраро-Флорентийском соборе	<input type="text"/>

Возможные ответы

1	Алексий
2	Исидор
3	Киприан
4	Максим
5	Петр

**21. Задача 21**

Соотнесите событие и дату:

Присоединение Астрахани	<input type="text"/>
-------------------------	----------------------

Введение опричнины	<input type="text"/>
Взятие Казани	<input type="text"/>
Плюсское перемирие	<input type="text"/>

Возможные ответы

1	1550
2	1552
3	1556
4	1565
5	1583

## 22. Задача 22\*

Соотнесите произведения русской живописи и их авторов:





Возможные ответы

1	А.А. Иванов
2	В.И. Суриков
3	И.К. Айвазовский
4	А.Г. Венецианов
5	И.И. Левитан

## 23 Задача 23

Соотнесите событие и дату:

Открытие I Всероссийской конференции профсоюзов	<input type="text"/>
Создание первого общегородского Совета рабочих депутатов	<input type="text"/>
Открытие учредительного съезда Союза союзов в Москве	<input type="text"/>
Начало банкетной кампании	<input type="text"/>

Возможные ответы

1	20 ноября 1904 г.
2	8 мая 1905 г.
3	15 мая 1905 г.
4	24 сентября 1905 г.
5	12 октября 1905 г.

## 24. Задача 24

Опираясь на знания об экономическом развитии нашей страны в XX веке, соотнесите год и данные о темпах прироста / убыли промышленного производства в РСФСР / РФ за этот год (в процентах по сравнению с предыдущим годом):

1929	<input type="text"/>
1966	<input type="text"/>
1990	<input type="text"/>
1992	<input type="text"/>

Возможные ответы

1	-16%
2	+8,4%
3	-0,1%
4	+20%
5	+50%

## 25. Задача 25

Заполните пропуски в приведенном ниже отрывке из исторического источника в виде слова или сочетания слов в именительном падеже:

Общей установкой в нашей работе служили всем известные методологические указания , Кирова и Жданова по вопросам изучения истории... Эти указания нашли свое блестящее подтверждение в «Кратком »