

## Олимпиада школьников «Покори Воробьёвы горы!»

### Решения и ответы к задачам варианта 171, ответы к вариантам 172 – 174

1. Брюки дешевле куртки, куртка дешевле пальто, пальто дешевле шубы, а шуба дешевле бриллиантового кольца на один и тот же процент. На сколько процентов шуба дороже брюк, если бриллиантовое кольцо дороже пальто в 6,25 раз?

**Ответ:** на 1462,5%.

**Решение.** По условию  $\frac{BK}{Ш} = \frac{Ш}{П} = \frac{П}{К} = \frac{К}{Б} = \alpha$ . При этом стоимость бриллиантового кольца

(BK) связана со стоимостью пальто (П) соотношением  $BK = П \cdot \alpha^2$ . Тогда  $\alpha = \sqrt{6,25} = \sqrt{\frac{25}{4}} = \frac{5}{2}$ .

Связь между стоимостью шубы (Ш) и брюк (Б) определяется соотношением  $Ш = Б \cdot \alpha^3 = Б \cdot \frac{125}{8}$ .

Отсюда  $\frac{Ш}{Б} = \frac{125}{8}$ , и искомая величина определяется как  $\left(\frac{125}{8} - 1\right) \cdot 100 = 1462,5$ .

**Ответ к варианту 172:** на 78,4%.

**Ответ к варианту 173:** на 93,6%.

**Ответ к варианту 174:** на 309,6%.

2. В кошельке у купца Ганса лежат 20 серебряных монет по 2 кроны, 15 серебряных монет по 3 кроны и 3 золотых дуката (1 дукат равен 5 крон). Сколькими способами Ганс может уплатить сумму в 10 дукатов? Монеты одного достоинства неразличимы.

**Ответ:** 26.

**Решение.** Если купец заплатил  $x$  монет по 2 кроны,  $y$  монет по 3 кроны и  $z$  дукатов (то есть  $z$  раз по 5 крон), то получается система:  $2x + 3y + 5z = 50$ ,  $x \in [0; 20]$ ,  $y \in [0; 15]$ ,  $z \in [0; 3]$ .

а) При  $z = 0$  получаем уравнение  $2x + 3y = 50$ , имеющее подходящие по условию решения при  $y = 4, 6, 8, 10, 12, 14$  – всего 6 решений.

б) При  $z = 1$  получаем уравнение  $2x + 3y = 45$ , имеющее подходящие по условию решения при  $x = 0, 3, 6, 9, 12, 15, 18$  – всего 7 решений.

При  $z = 2$  получается 7 решений, при  $z = 3$  – 6 решений. Эти два случая можно было разобрать аналогично предыдущему. Но можно этого не делать, используя тот факт, что оплачиваемая

сумма равна ровно половине всех денег купца. Поэтому количество способов, использующих 2 дуката, равно количеству способов, использующих 1 дукат (так как 2 дуката останется в кошельке); аналогично количество способов, использующих 3 дуката, равно количеству способов без дукатов.

Таким образом, всего способов:  $6+7+7+6=26$ .

**Ответ к варианту 172:** 17 способов.

**Ответ к варианту 173:** 26 способов.

**Ответ к варианту 174:** 22 способа.

3. Определите, при каких значениях  $n$  и  $k$  уравнение  $\sin x + \sin y = \frac{\pi k}{2017}$  является следстви-

ем уравнения  $x + y = \frac{\pi n}{48}$ .

**Ответ:**  $k=0$ ,  $n=96m$ ,  $m \in Z$ .

**Решение.** Пара  $\left(0, \frac{\pi n}{48}\right)$  является решением второго уравнения, следовательно,  $\sin \frac{\pi n}{48} = \frac{\pi k}{2017}$ . Пара  $\left(\pi; \frac{\pi n}{48} - \pi\right)$  также есть решение второго уравнения, следовательно,  $-\sin \frac{\pi n}{48} = \frac{\pi k}{2017}$ . С необходимостью должны выполняться условия:  $k=0$ ,  $\sin \frac{\pi n}{48} = 0$ , то есть  $n=48l$ ,  $l \in Z$ .

Проверим достаточность полученных значений. Подставим пару  $(x; \pi l - x)$  в первое уравнение, получим:  $\sin x + \sin(\pi l - x) = \sin x + (-1)^{l-1} \sin x$ , что равно 0 только для чётных  $l$ , то есть  $l=2m$ .

**Ответ к варианту 172:**  $k=0$ ,  $n=108m$ ,  $m \in Z$ .

**Ответ к варианту 173:**  $k=0$ ,  $n=88m$ ,  $m \in Z$ .

**Ответ к варианту 174:**  $k=0$ ,  $n=112m$ ,  $m \in Z$ .

4. В равнобедренном треугольнике  $ABC$  с основанием  $AC$  и  $\angle ABC = \frac{\pi}{9}$  на стороне  $AB$  выбрана точка  $D$  так, что  $BD = AC$ . Найдите величину угла  $\angle DCB$  (в радианах) и сравните её с 0,18.

**Ответ:**  $\angle DCB = \frac{\pi}{18}$ ;  $\frac{\pi}{18} < 0,18$ .

**Решение.** Выбрать внутри  $\triangle ABC$  на его высоте точку  $O$ , так чтобы  $\triangle AOC$  был равнобедренным. Далее из равенства треугольников  $DBC$  и  $OCB$  вытекает  $\angle DCB = \angle OCB$ . Поэтому

$$\angle DCB = \frac{\pi}{18}. \text{ При этом } \frac{\pi}{18} < 0,18 \Leftrightarrow \pi < 3,24.$$

2 способ решения (подобные ему способы будут встречаться чаще). Пусть  $AB = BC = a$ ,  $\angle DCB = \varphi$ . Тогда  $AC = BD = 2a \sin 10^\circ$ , и применяя теорему синусов для треугольника  $BDC$ , получаем  $\frac{a}{\sin(160^\circ - \varphi)} = \frac{2a \sin 10^\circ}{\sin \varphi}$ .

$$\text{Уравнение } \frac{a}{\sin(160^\circ - \varphi)} = \frac{2a \sin 10^\circ}{\sin \varphi} \text{ равносильно } \sin \varphi = 2 \sin 10^\circ \cdot \sin(160^\circ - \varphi) \Leftrightarrow$$

$$\sin \varphi = 2 \sin 10^\circ \cdot (\sin 20^\circ \cos \varphi + \cos 20^\circ \sin \varphi) \Leftrightarrow$$

$$\sin \varphi = (\cos 10^\circ - \cos 30^\circ) \cos \varphi + (\sin 30^\circ - \sin 10^\circ) \sin \varphi \Leftrightarrow$$

$$(\sin 30^\circ + \sin 10^\circ) \sin \varphi = (\cos 10^\circ - \cos 30^\circ) \cos \varphi \Leftrightarrow \operatorname{tg} \varphi = \frac{\cos 10^\circ - \cos 30^\circ}{\sin 30^\circ + \sin 10^\circ} \Leftrightarrow$$

$$\operatorname{tg} \varphi = \frac{2 \sin 20^\circ \cdot \sin 10^\circ}{2 \sin 20^\circ \cdot \cos 10^\circ} = \operatorname{tg} 10^\circ. \text{ Так как угол } \varphi \text{ острый, то } \varphi = 10^\circ = \frac{\pi}{18}.$$

**Ответ к варианту 172:**  $\angle PKL = \frac{\pi}{18}; \frac{\pi}{18} > 0,17.$

**Ответ к варианту 173:**  $\angle DBA = \frac{\pi}{18}; \frac{\pi}{18} < 0,18.$

**Ответ к варианту 174:**  $\angle PMK = \frac{\pi}{18}; \frac{\pi}{18} > 0,17.$

5. Решите неравенство  $x + \sqrt{x^2 + 4} \geq (2x + 1 + \sqrt{4x^2 + 4x + 2}) \cdot 8^{x+1}.$

**Ответ:**  $x \in \left(-\infty; -\frac{2}{3}\right].$

**Решение.** Исходное неравенство равносильно неравенству:

$$2 \left( \frac{x}{2} + \sqrt{\left(\frac{x}{2}\right)^2 + 1} \right) \geq (2x + 1 + \sqrt{(2x + 1)^2 + 1}) \cdot 8^{x+1} \Leftrightarrow \frac{x}{2} + \sqrt{\left(\frac{x}{2}\right)^2 + 1} \geq (2x + 1 + \sqrt{(2x + 1)^2 + 1}) \cdot 2^{3x+2}.$$

Функция  $f(t) = t + \sqrt{t^2 + 1}$  всюду положительна и монотонно возрастает. При  $t \geq 0$  это очевидно, при  $t < 0$  это тоже верно, так как тогда  $\frac{1}{f(t)} = \sqrt{t^2 + 1} - t$  – положительна и убывает. Факт

возрастания можно доказать и с помощью производной.

Если  $\frac{x}{2} = 2x + 1$ , то  $x = -\frac{2}{3}$ . Тогда  $f\left(\frac{x}{2}\right) = f(2x + 1)$ ,  $2^{3x+2} = 1$ , и левая часть неравенства

равна правой.

Если  $x > -\frac{2}{3}$ , то  $\frac{x}{2} < 2x + 1$ ,  $0 < f\left(\frac{x}{2}\right) < f(2x + 1)$ ,  $2^{3x+2} > 1$ ,

$\frac{x}{2} + \sqrt{\left(\frac{x}{2}\right)^2 + 1} < \left(2x + 1 + \sqrt{(2x + 1)^2 + 1}\right) \cdot 2^{3x+2}$  – неравенство не выполняется.

Если  $x < -\frac{2}{3}$ , то  $\frac{x}{2} > 2x + 1$ ,  $f\left(\frac{x}{2}\right) > f(2x + 1) > 0$ ,  $2^{3x+2} < 1$

$\frac{x}{2} + \sqrt{\left(\frac{x}{2}\right)^2 + 1} > \left(2x + 1 + \sqrt{(2x + 1)^2 + 1}\right) \cdot 2^{3x+2}$  – неравенство выполняется.

Таким образом,  $x \leq -\frac{2}{3}$ .

**Ответ к варианту 172:**  $x \in \left[-\frac{3}{8}; +\infty\right)$ .

**Ответ к варианту 173:**  $x \in \left(-\infty; \frac{2}{3}\right]$ .

**Ответ к варианту 174:**  $x \in \left[\frac{3}{8}; +\infty\right)$ .

Ответы и решения к варианту 1-1 (2)

1. По условию, эти числа записываются только цифрами 0, 1, 2, 6, 8. Тогда трехзначные числа, кратные 4, могут иметь на конце в точности 10 вариантов: 00, 08, 12, 16, 20, 28, 60, 68, 80, 88. При этом на первом месте в каждом из этих 10 вариантов может стоять любая из 4 цифр 1, 2, 6, 8. Кроме того, последние 8 вариантов дают двузначные числа, а второй — однозначное. Значит, всего таких чисел:  $10 \cdot 4 + 8 + 1 = 49$ .

**Ответ:** 49.

Ответ к варианту: 1-2: 53.

Решения варианта 1-2.

По условию, эти числа записываются только цифрами 0, 2, 3, 4, 5, 7. Тогда трехзначные числа, кратные 4, могут иметь на конце в точности 9 вариантов: 00, 04, 20, 24, 32, 40, 44, 52, 72. При этом на первом месте в каждом из этих 9 вариантов может стоять любая из 5 цифр 2, 3, 4, 5, 7. Кроме того, последние 7 вариантов дают двузначные числа, а второй — однозначное. Значит, всего таких чисел:  $9 \cdot 5 + 7 + 1 = 53$ .

2. См. рис. 1.

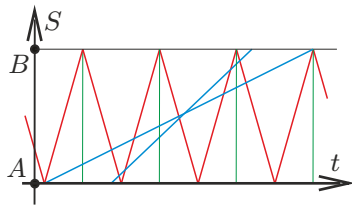


Рис. 1:

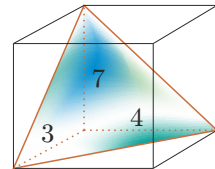


Рис. 2:

Из рисунка видно, что скорость  $v$  км/ч автобуса может быть больше скорости велосипедиста в  $k$  раз, где  $k \in (3; 7]$ .

**Ответ:**  $33 < v \leq 77$ .

Ответ к варианту: 1-2:  $5 \leq v < 9$ .

Решения варианта 1-2.

Из рисунка 1 видно, что скорость  $v$  км/ч курьера может быть меньше скорости автобуса в  $k$  раз, где  $k \in (5; 9]$ .

3. С одной стороны,  $V = \frac{1}{3}h_1S_1 = \frac{1}{3}h_2S_2 = \frac{1}{3}h_3S_3$ . Поэтому

$$r = \frac{3V}{S_{\text{полн}}} = \frac{3V}{S_1 + S_2 + S_3 + S_4} = \frac{1}{\frac{1}{h_1} + \frac{1}{h_2} + \frac{1}{h_3} + \frac{1}{h_4}} = \frac{1}{\frac{1}{3} + \frac{1}{4} + \frac{1}{7} + \frac{37}{84}} = \frac{6}{7}.$$

*Замечание.* Существование пирамиды показано на рис. 2, здесь на прямоугольном параллелепипеде построена пирамида. Три высоты совпадают со сторонами, а четвертая высота будет равна  $84/37$ .

**Ответ:**  $\frac{6}{7}$ .

Ответ к варианту: 1-2:  $\frac{10}{9}$ .

4. Переписав неравенство, получаем:  $\log_3 x \cdot (a - \log_2 3) > 1$ . Если  $a = \log_2 3$ , то решений нет. Если  $a > \log_2 3$ , то  $x > 3^{\frac{1}{a - \log_2 3}} > 1$ . Если  $a < \log_2 3$ , то  $0 < x < 3^{\frac{1}{a - \log_2 3}} < 1$ .

**Ответ:**  $a < \log_2 3$ .

Ответ к варианту: 1-2:  $a > \log_3 5$ .

5. 1 способ решения.

$$\begin{aligned} (\operatorname{tg} 9^\circ - \operatorname{tg} 63^\circ) + (\operatorname{tg} 81^\circ - \operatorname{tg} 27^\circ) &= -\frac{\sin 54^\circ}{\cos 9^\circ \cos 63^\circ} + \frac{\sin 54^\circ}{\cos 81^\circ \cos 27^\circ} = \\ &= \frac{\sin 54^\circ \cdot (\cos 9^\circ \cos 63^\circ - \sin 9^\circ \sin 63^\circ)}{\cos 9^\circ \cos 63^\circ \cos 81^\circ \cos 27^\circ} = \\ &= \frac{2 \sin 27^\circ \cos 27^\circ \cdot \cos 72^\circ}{\cos 9^\circ \sin 27^\circ \sin 9^\circ \cos 27^\circ} = \frac{4 \cos 72^\circ}{2 \cos 9^\circ \sin 9^\circ} = \frac{4 \sin 18^\circ}{\sin 18^\circ} = 4. \end{aligned}$$

2 способ решения.

$$(\operatorname{tg} 9^\circ + \operatorname{tg} 81^\circ) - (\operatorname{tg} 63^\circ + \operatorname{tg} 27^\circ) = 2 \left( \frac{1}{\sin 18^\circ} - \frac{1}{\cos 36^\circ} \right).$$

Используя равенства  $\sin 18^\circ = (\sqrt{5} - 1)/4$ ,  $\cos 36^\circ = (\sqrt{5} + 1)/4$ , получаем

$$2 \left( \frac{4}{\sqrt{5} - 1} - \frac{4}{\sqrt{5} + 1} \right) = 4.$$

Заметим, что

$$\frac{200}{157}\pi = 4 \cdot \frac{100}{314}\pi > 4.$$

**Ответ:** Второе число больше.

Ответ к варианту: 1-2: Первое число больше.

Ответы и решения к варианту 3-1 (2)

1. Положим  $t = \pi/4 - x/3$ . Тогда исходное неравенство равносильно:

$$\begin{aligned} 3 \cos 2t + 2 \cos t - 5 \geq 0 &\iff 3(2 \cos^2 t - 1) + 2 \cos t - 5 \geq 0 \iff \\ &\iff 6(\cos t - 1) \left( \cos t + \frac{4}{3} \right) \geq 0. \end{aligned}$$

Получаем  $\cos t \in (-\infty; -4/3] \cup [1; +\infty)$ . С учётом множества значения косинуса  $\cos t = 1$  или  $\pi/4 - x/3 = 2\pi k, k \in \mathbb{Z}$ .

**Ответ:**  $x = \frac{3\pi}{4} + 6\pi k, k \in \mathbb{Z}$ .

Ответ к варианту: 3-2:  $x = -\frac{3\pi}{4} + 6\pi k, k \in \mathbb{Z}$ .

2. Биссектриса треугольника  $ABM$  служит его высотой, поэтому  $AB = BM = MC \equiv x$ , а также  $AL : LC = AB : BC = 1 : 2$ , откуда  $AL \equiv y$  и  $CL = 2y$ . Далее, имеем

$$\frac{S_{ABM}}{S_{ABL}} = \frac{S_{ACM}}{S_{BCL}/2} = \frac{x \cdot 3y}{2x \cdot 2y/2} = \frac{3}{2} \Rightarrow S_{ABM} = \frac{3}{2} \cdot 10 = 15.$$

**Ответ:** 15.

Ответ к варианту: 7-2: 8.

3. На О.Д.З. неравенство равносильно  $(\pi - 3)^{\ln(x^2 - 2x)} \leq (\pi - 3)^{\ln(2 - x)}$  или  $x^2 - 2x \geq 2 - x$ . Решение неравенства  $x^2 - x - 2 \geq 0$  — множество  $(-\infty; -1] \cup [2; +\infty)$  с учётом О.Д.З. получаем  $x \in (-\infty; -1]$ .

**Ответ:**  $x \in (-\infty; -1]$ .

Ответ к варианту: 3-2:  $x \in (-\infty; -2]$ .

4. Условие означает, что полином  $x^4 + 5x^3 + ax^2 + bx + c$  делится на полином третьей степени  $x^3 + (8+b)x^2 + (b+4)x + (c+3)$  без остатка. Данное условие равносильно системе

$$\begin{cases} a - b - 4 = (8 + b)(-3 - b), \\ b - (c + 3) = (4 + b)(-3 - b), \\ c = (c + 3)(-3 - b). \end{cases}$$

Из второго уравнения выражаем  $c + 3$  и подставляем в правую часть третьего:  $c = (b^2 + 8b + 12)(-3 - b)$ . Теперь полученное уравнение складываем

со вторым и получаем уравнение на  $b$ :  $b^3 + 12b^2 + 44b + 45 = 0$ . Откуда единственным целочисленным решением будет  $b = -5$ . Следовательно  $a = 5, c = -6$ . Как легко убедиться уравнение  $x^3 + 3x^2 - x - 3 = 0$  имеет три решения  $\pm 1, -3$ .

**Ответ:**  $a = 5, b = -5, c = -6$ .

Ответ к варианту: 3-2:  $a = 5, b = -6, c = -5$ .

5. Обозначим через  $a$  сторону основания. В правильный шестиугольник можно вписать окружность радиуса  $R = \frac{\sqrt{3}a}{2}$ , расстояние между плоскостями основания равно  $2R$ . Поэтому в призму можно вписать шар радиуса  $R$  (у нас  $R = 1$ ).

Введём систему координат, как указано на рис. 3. Тогда уравнение плоскости принимает вид  $\frac{x}{a} + \frac{y}{a\sqrt{3}} + \frac{z}{a\sqrt{3}} = 1$ , а координаты точки центра вписанного шара  $\left(\frac{a}{2}; \frac{a\sqrt{3}}{2}; \frac{a\sqrt{3}}{2}\right)$ . Следовательно расстояние от точки до плоскости равно

$$\rho = \frac{\frac{1}{2} + \frac{1}{2} + \frac{1}{2} - 1}{\frac{1}{a}\sqrt{1 + \frac{1}{3} + \frac{1}{3}}} = \frac{a\sqrt{3}}{2\sqrt{5}}.$$

Откуда  $h = R - \rho = \frac{a\sqrt{3}}{2} \left(1 - \frac{1}{\sqrt{5}}\right)$  (см. рис. 4) и  $V = \pi h^2 \left(R - \frac{h}{3}\right) = \pi \left(\frac{a\sqrt{3}}{2}\right)^3 \frac{10\sqrt{5}-14}{15\sqrt{5}}$ .

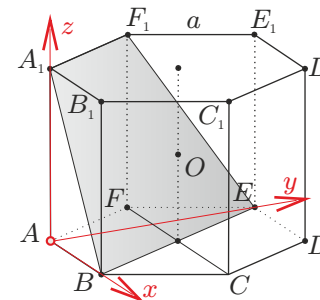


Рис. 3:

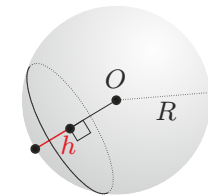


Рис. 4:

**Ответ:**  $\pi \frac{10\sqrt{5}-14}{15\sqrt{5}}$ .

Ответ к варианту: 3-2:  $\pi \frac{10\sqrt{5}+14}{15\sqrt{5}}$ .

Ответы и решения к варианту 4-1 (2)

1. Выделяя полные квадраты и переходя в логарифмах к другим основаниям, получаем

$$\log_3(27 + 2(x + 1)^2) + \log_5(3(x + 1)^2 + 25) = \log_2(32 - (1 + x)^2).$$

Левая часть не меньше 5, а правая не больше 5.

**Ответ:**  $x = -1$ . Ответ к варианту: 4-2:  $x = 1$ .

2. На периоде левая часть определена при  $x \in [0; \pi/2]$ . Поскольку при  $x = 0$  и  $x = \pi/2$  неравенство не выполняется, то достаточно рассмотреть случай  $x \in (0; \pi/2)$  для которого выполнены неравенства:

$$\sqrt{\sin x} > \sin^2 x, \quad \sqrt{\cos x} > \cos^2 x.$$

Значит

$$\left(\sqrt{\sin x} + \sqrt{\cos x}\right)^7 > (\sin^2 x + \cos^2 x)^7 = 1.$$

**Ответ:**  $2\pi n < x < \frac{\pi}{2} + 2\pi n, n \in \mathbb{Z}$ . Ответ к варианту: 4-2:  $-\frac{\pi}{2} + 2\pi n < x < 2\pi n, n \in \mathbb{Z}$ .

3. Пусть  $n$  и  $m$  число землекопов в первой и второй бригадах, производительность каждого землекопа 1,  $t$  — время работы первой бригады. Тогда

$$\begin{cases} nt = m\left(t + \frac{1}{2}\right), \\ nt = (n + 5)(t - 2), \\ n, m \in \mathbb{N}. \end{cases}$$

Исключая переменную  $t$ , получаем  $4n^2 - 4nm + 20n - 25m = 0$ . Откуда

$$m = n - \frac{5}{4} + \frac{125}{4(4n + 25)} \iff 4m = 4n - 5 + \frac{125}{4n + 25}$$

Так как  $n$  — натуральное, то  $4n + 25 = 125$ .

**Ответ:** в первой 25, во второй — 24.

4. Пусть  $AH$  высота треугольника  $ABC$ ,  $\varphi = \angle DAN$ , тогда  $AH = AD \cos \varphi$  и площадь треугольника  $ABC$  равна  $\frac{1}{2}BC \cdot AH = \frac{1}{2}BC \cdot AD \cos \varphi$  (см. рис. 5).

1. Найдём  $AD$ . Пусть,  $O$  — центр описанной окружности радиуса  $R$ ,  $EF = 2R$  — диаметр этой окружности. По тереме синусов для треугольника  $ABC$ :  $2R = \frac{a}{\sin \alpha}$ . Из подобия треугольников  $DBE$  и  $ABE$  (так как имеют общий угол с вершиной в точке  $E$ , а углы  $\angle CBE$  и  $\angle CAB$  равны как опирающиеся на одну дугу  $CE$ ) следует  $AE : BE = BE : DE$ . Откуда  $DE = BE^2 : AE$ . По тереме синусов для треугольника  $ABE$ , получаем  $BE = 2R \sin \frac{\alpha}{2}$ . Значит  $DE = \frac{4R^2 \sin^2 \frac{\alpha}{2}}{d}$  и

$$AD = AE - DE = d - \frac{4R^2 \sin^2 \frac{\alpha}{2}}{d} = \frac{d^2 - 4R^2 \sin^2 \frac{\alpha}{2}}{d}.$$

2. Найдём  $\cos \varphi$ . Так как  $EF$  и  $AH$  перпендикулярны  $BC$ , то  $\varphi = \angle DAN = \angle AEF$ , а так как угол  $\angle EAF$  опирается на диаметр, то  $\cos \varphi = AE : EF = d/(2R)$ .

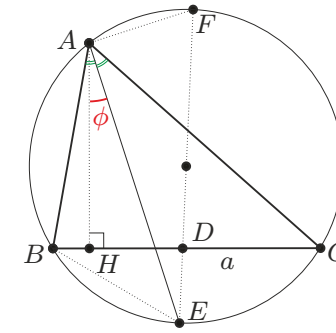


Рис. 5:

Значит

$$AH = AD \cos \varphi = \frac{d}{2R} \cdot \frac{d^2 - 4R^2 \sin^2 \frac{\alpha}{2}}{d} = \frac{d^2 - 4R^2 \sin^2 \frac{\alpha}{2}}{2R}.$$

Поэтому площадь треугольника  $ABC$  равна

$$\begin{aligned} \frac{1}{2}BC \cdot AH &= \frac{a(d^2 - 4R^2 \sin^2 \frac{\alpha}{2})}{2R} = \frac{a\left(d^2 - \frac{a^2}{\sin^2 \alpha} \sin^2 \frac{\alpha}{2}\right)}{\frac{2a}{\sin \alpha}} = \\ &= \frac{1}{4} \operatorname{tg} \frac{\alpha}{2} \left(4d^2 \cos^2 \frac{\alpha}{2} - a^2\right). \end{aligned}$$

**Ответ:**  $\frac{1}{4} \operatorname{tg} \frac{\alpha}{2} (4d^2 \cos^2 \frac{\alpha}{2} - a^2)$ .

Ответ к варианту: 4-2:  $\frac{a^2}{2e^2} (a^2 - e^2) \sin \frac{\alpha}{2}$ .

5. После замены переменных  $X = \sqrt{|x-1|}$ ,  $\sqrt{3|y|}$  получаем систему:

$$\begin{cases} X + Y = 1, \\ X^4 + Y^4 = -a, \\ X \geq 0, Y \geq 0. \end{cases}$$

Каждое решение  $(X_0, Y_0)$  этой системы такое, что  $0 < X_0 < 1$ ,  $0 < Y_0 < 1$ ,  $X_0 \neq Y_0$  порождает ровно четыре различных решения исходной системы. Поэтому или  $X_0 = Y_0 = \frac{1}{2}$ , тогда  $-a = \frac{1}{2^4} + \frac{1}{2^4} = \frac{1}{8}$ , или  $X_0 = 1$ ,  $Y_0 = 0$  и  $X_0 = 0$ ,  $Y_0 = 1$ , тогда  $-a = 1 + 0 = 0 + 1$ .

*Проверка.* Рассмотрим функцию  $f(t) = t^4 + (1-t)^4$ . Поскольку производная равная  $f'(t) = 4(t^3 - (1-t)^3)$  обращается в ноль только в точке  $t = 1/2$ , то для  $t \in [0; 1]$  получаем оценку  $\frac{1}{8} = f\left(\frac{1}{2}\right) \leq f(t) \leq f(1) = f(0) = 1$ . Следовательно, при  $a = -\frac{1}{8}$ , возможно только одно решение системы, удовлетворяющее  $(X, Y)$ ,  $X \geq 0, Y \geq 0$ , а именно  $(X_0, Y_0) = \left(\frac{1}{2}, \frac{1}{2}\right)$ , которое порождает четыре решения исходной системы. При  $a = -1$ , возможно только два решения системы, удовлетворяющее  $(X, Y)$ ,  $X \geq 0, Y \geq 0$ , а именно  $(X_0, Y_0) = (0, 1), (1, 0)$  которые также порождает четыре решения исходной системы.

**Ответ:**  $a = -1, a = -1/8$ . Ответ к варианту: 4-2:  $a = 1/2, a = 1/16$ .

Ответы и решения к варианту 5-1 (2)

1. Ответ:  $x = \pm \frac{\pi}{12} + \frac{\pi n}{2}$ . Так как  $\operatorname{ctg}^2 x - \operatorname{tg}^2 x = \frac{4 \cos 2x}{\sin^2 2x}$ , то исходное уравнение равносильно уравнению

$$\frac{4 \cos 2x}{\sin^2 2x} = \frac{12}{\cos 2x} \Leftrightarrow \begin{cases} \cos^2 2x = 3 \sin^2 2x \\ \sin x \neq 0, \cos x \neq 0, \cos 2x \neq 0. \end{cases}$$

Решая уравнение системы, получаем  $\operatorname{tg}^2 2x = \frac{1}{3} \Leftrightarrow \operatorname{tg} 2x = \pm \frac{1}{\sqrt{3}}$ , откуда  $x = \pm \frac{\pi}{12} + \frac{\pi n}{2}$ . Все найденные значения  $x$  удовлетворяют остальным условиям системы.

2. Ответ:  $\frac{27}{2}$ . Из уравнений  $b_1 q = 3$ ,  $b_1 + b_1 q + b_1 q^2 = 13$ , выразив  $b_1$ , получим уравнение на  $q$ :  $3q^2 - 10q + 3 = 0$ . Его решения есть  $q_1 = \frac{1}{3}$ ,  $q_2 = 3$ , из которых подходит только  $q = \frac{1}{3}$ , откуда  $b_1 = 3/q = 9$ . Следовательно,  $S = \frac{b_1}{1 - q} = \frac{9}{1 - 1/3} = \frac{27}{2}$ .

3. Ответ: 12. Треугольники  $ABC$ ,  $ACK$  и  $CBK$  подобны. Периметры подобных треугольников относятся так же, как соответствующие стороны. Поэтому  $\frac{P_{ACK}}{P_{ABC}} = \frac{AC}{AB}$ ,  $\frac{P_{CBK}}{P_{ABC}} = \frac{CB}{AB}$ . По теореме Пифагора получаем  $\frac{(AC)^2}{(AB)^2} + \frac{(CB)^2}{(AB)^2} = 1$ , откуда  $P_{CBK}^2 + P_{ACK}^2 = P_{ABC}^2$ . Поэтому  $P_{ACK} = 12$ .

4. Ответ:  $\frac{16}{3}$  км/час. Пусть  $v(x) = kx + b$  — скорость паромов в километрах в час,  $x$  — вес перевозимого груза в тоннах. Из системы  $\begin{cases} k \cdot 50 + b = 1, \\ 1(k \cdot 60 + b), \\ 6 = k \cdot 70 + b \end{cases}$  находим, что  $k = -\frac{1}{15}$ ,  $b = \frac{32}{3}$ . Грузооборот равен  $g(x) = x \cdot \left(-\frac{1}{15} \cdot x + \frac{32}{3}\right)$ . Он максимален при  $x = 80$ . Скорость в этом случае равна  $\frac{16}{3}$ .

5. Область определения функции задаётся условиями  $\frac{x - a - b}{x + a + b} > 0$ ,  $\frac{2a - b - x}{2a - b + x} > 0$ ,  $\frac{2a - b - x}{2a - b + x} \neq 1$ , которые равносильны следующим  $(x - a - b)(x + a + b) > 0$ ,  $(2a - b - x)(2a - b + x) > 0$ ,  $x \neq 0$ . Условие задачи выполнено тогда и

только тогда, когда промежуток  $x^2 \in ((a + b)^2, (2a - b)^2)$  не пересекается с отрезком  $[1, 4]$ . Для этого необходимо и достаточно выполнения одного из трёх условий: 1)  $(a + b)^2 \geq 4$ ; 2)  $(2a - b)^2 \leq 1$ ; 3) область определения пуста, т.е.  $(a + b)^2 \geq (2a - b)^2$ .

Таким образом, ответом является множество точек  $(a, b)$ , для которых либо  $\begin{cases} a + b \geq 2, \\ a + b \leq -2 \end{cases}$  (первое условие); либо  $-1 \leq 2a - b \leq 1$  (второе условие); либо  $a(2b - a) \geq 0$  (третье условие). (Всё вне полосы  $|a + b| < 2$  и две пары

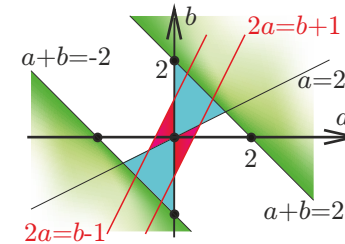


Рис. 6:

центрально-симметричных треугольников с внутренностью: пара  $AOB$  и  $A'O'B'$ ,  $A(0, 2)$ ,  $O(0, 0)$ ,  $B(4/3, 2/3)$ ,  $A'(0, -2)$ ,  $B'(-4/3, -2/3)$ , и пара  $COD$  и  $C'OD'$ ,  $C(0, -1)$ ,  $D(2/3, 1/3)$ ,  $C'(0, 1)$ ,  $D'(-2/3, -1/3)$  см. рис. 6).

Ответы к варианту 5-2

1. Ответ:  $x = (-1)^n \frac{\pi}{8} + \frac{\pi m}{2}$ ,  $x = \frac{\pi}{4} + \frac{\pi n}{2}$ ,  $m, n \in \mathbb{Z}$ .
2. Ответ:  $\frac{32}{3}$ . Уравнение  $2q^2 - q - 1 = 0$ . Корни  $q = -\frac{1}{2}$  (подходит),  $q = 1$  (не подходит).  $b_1 = 4/q^2 = 16$ .
3. Ответ:  $P_{ABC} = 5$ .
4. Ответ:  $\frac{10000}{99}\%$ . Здесь  $k = -4/99$ ,  $b = 400/99$ , если единицу измерения работы взять равной 100.
5. Ответ: Объединение двух внутренностей полос, т.е. множество  $\{(a, b) \in \mathbb{R}^2 : |b - a| \leq 4, \text{ либо } |2a + b| \leq 4\}$ .