



## Межрегиональная экономическая олимпиада школьников имени Н.Д. Кондратьева

5–9 класс

### ВАРИАНТ 1

#### *Инструкция для участника олимпиады*

Олимпиадная работа состоит из **трех разделов**. Участник олимпиады сам определяет последовательность выполнения заданий. Ответы на задания должны быть приведены на **бланках ответов**.

**Раздел А** (задания №А1–А20) содержит 20 вопросов. Каждый полностью правильный ответ на задание раздела А оценивается максимально в **2 балла**; отсутствие ответа / неправильный ответ — 0 баллов.

**Раздел В** содержит шесть экономических задачи (задания №В1–В6). Каждая **полностью правильно решенная экономическая задача** раздела В оценивается в **5 баллов**; отсутствие ответа / неполный или неправильный ответ — 0 баллов. **На бланке ответов должно быть приведено решение задачи. Ответы без решения не засчитываются. Решение проверяется только при наличии правильного ответа.**

**Раздел С** содержит три задания. Участнику нужно выполнить только одно из заданий раздела С (в противном случае будет проверено первое выполненное задание). Количество баллов, выставляемых за ответ на задание раздела С, зависит от полноты и правильности вашего ответа.

Оцениваться будет и полностью правильный, и частично правильный ответ. При оценке ответа учитываются: а) знание терминологии и конкретного материала соответствующей области экономической теории; б) полнота раскрытия проблемы; в) умение связать теоретический материал с практическими примерами; г) аргументированность, четкость и структурированность ответа. **Выбранное задание раздела С выполняется участником на листе-вкладыше. Полностью правильный ответ на задание раздела С оценивается в 30 баллов.**

*Продолжительность олимпиады — 120 минут*

РАЗДЕЛ А

**Задание А1.**

В 2019 году исполняется 50 лет одной из самых престижных международных наград за достижение в области экономической науки — *Нобелевской премии по экономике* (премии Шведского государственного банка по экономическим наукам памяти Альфреда Нобеля).

Перед вами информация об одном из лауреатов данной премии:

*Этот ученый родился в 1901 году в России. В 1922 году эмигрировал в США, где окончил Колумбийский университет. Премия памяти Альфреда Нобеля была присуждена ему в 1971 году «за эмпирически обоснованное истолкование экономического роста, которое привело к новому, более глубокому пониманию как экономической и социальной структуры, так и процесса развития».*

**Приведите ответы на следующие вопросы:**

**О каком экономисте идет речь? В бланк ответов запишите фамилию.**

**Задание А2.**

Из предложенного перечня государств выберите те, которые в 1960-е годы руководствовались принципами плановой (командной) экономической системы:

1. Германская Демократическая Республика;
2. Китайская Народная Республика;
3. Корейская Народная Демократическая Республика.
4. Португальская Республика;
5. Республика Куба;
6. Союз Советских Социалистических Республик;
7. Южно-Африканская Республика.

**Выполните следующее задание:**

**Запишите в бланк ответа цифры, под которыми обозначены государства с плановой (командной) экономической системой.**

**Задание А3.**

Расположите ниже перечисленные понятия в порядке, соответствующем времени их первого появления в российском экономическом лексиконе.

- (1) ассигнация;
- (2) вексель;
- (3) облигация;
- (4) приватизационный чек (ваучер);
- (5) сберегательная книжка.

**Выполните следующее задание:**

**В бланк ответов запишите цифры, которыми обозначены соответствующие экономические понятия, в правильной последовательности.**

**Задание А4.**

Функция суммарных расходов потребителей на приобретение электрических чайников имеет вид  $Z(Q) = -2Q^2 + 56Q$  ( $Z$  — расходы потребителей, денежных единиц,  $Q$  — количество электрических чайников, штук).

**Выполните следующее задание:**

**Определите, при какой цене потребители готовы приобрести 10 электрических чайников.**

**Задание А5.**

В Свияжске постоянно проживает 243 человека.

Среди жителей Свияжска был проведен опрос, в ходе которого был задан вопрос: «Какую максимальную цену они готовы заплатить за единицу товара Альфа?».

Результаты опроса представлены в следующей таблице:

цена, руб.	число ответов, чел.
100	76
120	55
140	49
160	34
180	22
200	7

**Выполните следующее задание:**

**Определите величину рыночного спроса в Свияжске на товар Альфа при цене, равной 160 рублей.**

**Задание А6.**

Цена товара  $W$  изменяется ежегодно два раза в год: в марте она снижается на 25%, а в октябре повышается на 25%.

Известно, если в январе 2018 г. цена единицы товара  $W$  составляла 5120 рублей.

**Выполните следующее задание:**

**Определите, какова будет цена товара  $W$  в декабре 2019 г.**

**Задание А7.**

В результате эффективной маркетинговой политики выручка компании «Юность» за 2016–2018 годы выросла на 700%.

**Выполните следующее задание:**

**Определите, на сколько в среднем ежегодно увеличивалась выручка компании в течение указанного периода.**

**Задание А8.**

Изучите фрагмент из работы американского экономиста Эдварда Чемберлина:

*«Мы находим в экономической литературе любопытное смешение, путаницу и разобщение понятий конкуренции и монополии...*

*Мы можем иметь дело с продавцами, предлагающими к продаже идентичные, слегка различные или очень различные продукты. Если продукты идентичны, то мы имеем условия чистой конкуренции (предполагая также, что число продавцов очень велико).*

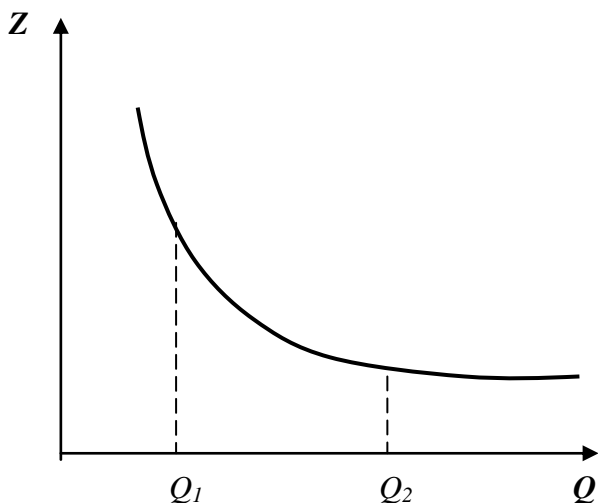
*Вместе с дифференциацией появляется монополия, и по мере усиления дифференциации элементы монополии становятся все значительнее. Везде, где в какой-либо степени существует дифференциация, каждый продавец обладает абсолютной монополией на свой собственный продукт, но вместе с тем подвергается конкуренции со стороны более или менее несовершенных заменителей. Поскольку каждый является монополистом и все-таки имеет конкурентов, то мы вправе говорить... о силах, действующих в подобной ситуации, как о силах <наименование рыночной структуры>».*

**Приведите ответ на следующий вопрос:**

**О каком типе рыночной структуры идет речь?**

**Задание А9.**

На рисунке изображен график зависимости средних постоянных издержек фирмы  $Z(Q)$  от объема производимой продукции  $Q$ .



Изучите ниже приведенные утверждения, характеризующие функцию общих постоянных издержек фирмы ( $FC$ ):

- 1)  $FC(Q_1) > FC(Q_2)$ ;
- 2)  $FC(Q_1) < FC(Q_2)$ ;
- 3)  $FC(Q_1) = FC(Q_2)$ ;
- 4)  $FC(Q)$  убывают на отрезке  $[Q_1, Q_2]$ ;
- 5)  $FC(Q)$  не меняются на отрезке  $[Q_1, Q_2]$ ;
- 6)  $FC(Q)$  возрастают на отрезке  $[Q_1, Q_2]$ ;
- 7) на отрезке  $[Q_1, Q_2]$   $FC(Q)$  сначала возрастают, затем убывают.

**Выполните следующее задание:**

**Запишите в бланк ответа цифры, под которыми указаны верные утверждения.**

**Задание А10.**

Изучите фрагмент из работы российского экономиста начала XX века:

*«Две характерные черты отличают новейшую фазу экономической эволюции от предыдущих эпох. Первой является неслыханное до сих пор увеличение числа крупных предприятий вообще и громадных акционерных компаний в частности, второй — быстро участвовавший со второй половины 70-х гг. XIX столетия параллельно с этим обезличиванием капитала и обезличиванием его процесс, при помощи которого... остальные объединялись в целях создания для себя по возможности монопольного положения на рынке.*

*Высшая форма этой новой экономической организации — <экономический термин> получила особенно широкое применение в Северо-Американских Соединенных Штатах, где в ее руках находится от 1/3 до 1/2 производства».*

**Выполните следующее задание:**

**О какой форме монополистического объединения идет речь?**

**Задание А11.**

Величина депозитов банка равна 1200 млн рублей, из которых 75% — вклады до востребования, а 25% — срочные вклады.

Норма обязательного резервирования по срочным вкладам составляет 10%, по вкладам до востребования — 20%. Избыточных резервов банк не имеет.

**Выполните следующее задание:**

**Определите, на какую сумму увеличатся кредитные возможности банка, если треть вкладов до востребования будет переоформлена в срочные вклады.**

**Задание А12.**

**Какие из перечисленных видов государственных расходов, осуществленные в 2018 году, будут учтены при расчете ВВП России за 2018 год?**

1. расходы на закупку новых вооружений и техники для органов охраны правопорядка;
2. расходы на выплату пособий в связи с рождением ребенка;
3. приобретение транспортных услуг для нужд органов государственной власти
4. выплаты стипендий студентам государственных вузов;
5. расходы на возведение новых спортивных сооружений;
6. приобретение иностранной валюты для пополнения валютных резервов страны;
7. расходы на заработную плату работникам системы образования.

**Выполните следующее задание:**

**Запишите в ответ цифры, под которыми указаны верные утверждения.**

**Задание А13.**

Изучите фрагмент из выступления премьера Госсовета КНР Ли Кэцзяна 19 марта 2019 г.:

*«В ходе реализации <вид> политики следует, с одной стороны, эффективно управлять главным «иллюзом» денежного предложения, воздерживаясь от резких мер в виде «полива большой водой», а с другой стороны, проявлять гибкость и применительно к условиям использовать разнообразные инструменты, совершенствовать ее трансмиссионный механизм, поддерживать рациональный и достаточный уровень ликвидности...»*

*Необходимо реформировать и совершенствовать механизмы денежной эмиссии и кредитования, своевременно использовать количественные и ценовые инструменты, такие как нормы обязательных резервов, процентные ставки и т.д., поощрять финансовые учреждения в расширении масштабов кредитования и снижении себестоимости кредитов».*

**Приведите ответ на следующий вопрос:**

**О какой разновидности государственной макроэкономической политики идет речь?**

**Задание А14.**

Изучите имеющиеся сведения о событиях, происходивших в 2010-е годы на рынке труда страны *Мечтании*:

1. В 2019 году только что получивший диплом выпускник вуза Макаров обратился в службу занятости с целью найти работу по специальности.
2. В 2018 году сотрудник министерства финансов Иванов отсутствовал на работе в течение трех дней по причине болезни.
3. В 2017 году в течение двух недель работники шахты «Воркутинская» не работали в связи с участием в забастовке.
4. В 2016 году квалифицированный аудитор Петров уволился по собственному желанию с целью поиска более высокооплачиваемой работы.
5. В 2015 году кондуктор Симонов потерял работу вследствие внедрения автоматической системы контроля проезда пассажиров.
6. В 2014 году стоматолог Соколов уволился в связи с планируемым переездом в другой город, где он в течение двух недель нашел работу и приступил к ней.
7. В 2013 году рабочий металлургического завода Орлов был уволен в связи с сокращением объемов производства вследствие экономического спада.
8. В 2012 году рабочий автомобильного завода Степанов был уволен в связи с внедрением промышленных роботов на производстве.
9. В 2011 году из-за конфликта с директором магазина кассир Иванова уволилась, через десять дней она приступила к работе в другом магазине на той же должности.
10. В 2010 году трубочист Стариков потерял работу в связи с завершением перевода жилого сектора на центральное отопление.

**Выполните следующее задание:**

**Выделите ситуации, соответствующие фрикционной безработице. Запишите в бланк ответа соответствующие цифры.**

**Задание А15.**

Блага, обладающие двумя свойствами — несоперничеством (потребление единицы блага одним индивидом не препятствует использованию этой же единицы другим индивидом) и неисключаемостью (не допускать кого-нибудь к пользованию благом невозможно или нецелесообразно).

**Приведите ответ на следующий вопрос:**

**О каком экономическом термине идет речь?**

**Задание А16.**

Прочитайте фрагмент из произведения И. Ильфа и Е. Петрова:

*«Александр Иванович с беспокойством видел, как деньги, которые он наживал с великими ухищрениями, превращаются в ничто.*

*Тиф валил людей тысячами, Саша торговал краденными из склада медикаментами. Он заработал на тифе пятьсот миллионов, но денежный курс за месяц превратил их в пять миллионов. На сахаре он заработал миллиард. Курс превратил эти деньги в порошок».*

**Приведите ответ на следующий вопрос:**

**О каком экономическом явлении идет речь?**

**Задание А17.**

Изучите сведения о динамике некоторых показателей внешней торговли Российской Федерации в 2013–2017 годах (по методологии платежного баланса):

показатель (в процентах к предыдущему году)	2013 г.	2014 г.	2015 г.	2016 г.	2017 г.
экспорт	98,9	95,2	68,7	82,6	125,2
импорт	101,6	90,2	62,7	99,3	124,2

**Приведите ответы на следующие вопросы:**

**В каком году из рассматриваемого периода величина экспорта России (в абсолютном измерении) была максимальной?**

**Задание А18.**

Изучите фрагмент из заметки в СМИ:

*«ВВП Турции в четвертом квартале 2018 года сократился на 3% в годовом эквиваленте. Учитывая, что третий квартал завершился падением объема экономики страны на 1,6%, Турция официально вошла в зону <экономический термин> — состояния, когда экономика сокращается два квартала подряд...*

*Турецкая экономика продемонстрировала уверенный рост на протяжении последних нескольких лет, который завершился в середине 2018 года на фоне валютного кризиса».*

**Выполните следующие задания:**

**Запишите пропущенный экономический термин.**

**Задание А19.**

Прочитайте фрагмент из Соглашения о создании международной организации:

*«Функции <Организации>:*

*Организация способствует выполнению, применению и действию настоящего Соглашения и Многосторонних торговых соглашений, содействует осуществлению их целей, а также обеспечивает рамки для выполнения, применения и действия Торговых соглашений с ограниченным кругом участников.*

*Организация является форумом для переговоров между ее членами по вопросам их многосторонних торговых отношений...*

*Организация выполняет административные функции в отношении Механизма обзора торговой политики».*

*Приведите ответ на следующий вопрос:*

**О какой международной организации идет речь?**

**Задание А20.**

Изучите приведенную характеристику интеграционного объединения:

*Договор о создании данного регионального интеграционного объединения был подписан в 2014 году, вступил в силу с 1 января 2015 года. Объединяет 5 государств, численность населения которых превышает 180 млн. человек. Суммарный ВВП государств-членов объединения превышает 1,8 трлн долл. США.*

**Приведите ответ на следующий вопрос:**

**О каком интеграционном объединении идет речь в каждом фрагменте?**

РАЗДЕЛ В

**Задание В1.**

В колледже работает две категории сотрудников: преподавательский персонал (ПП) и административный персонал (АП).

Средняя заработная плата преподавательского персонала составляет 58 000 рублей в месяц, а среднемесячная заработная плата сотрудников административного персонала — 158 000 рублей в месяц.

Известно также, что среднемесячная заработная плата в колледже составляет 116 000 рублей.

*Приведите ответ на следующий вопрос:*

**Какая часть сотрудников колледжа является преподавателями?**

**Задание В2.**

Известно, что на конкурентном рынке картофеля Нилии функция спроса характеризуется зависимостью  $Q_d = a - bp$ , а предложение — зависимостью  $Q_s = c + dp$  ( $Q$  — количество, тонн в день,  $p$  — цена, рублей за кг,  $a, b, c, d$  — параметры,  $a > 0, b > 0, c > 0, d > 0$ ).

Известно, что при цене 30 рублей за кг избыток на рынке картофеля Нилии составляет 10 тонн, а равновесная цена на рынке картофеля Нилии составляет 28 рублей за кг.

*Выполните следующее задание:*

**Определите величину избыточного спроса (дефицита) на рынке картофеля Нилии при цене 26 рублей за килограмм.**

**Задание В3.**

Фирма «Ампир», занимающаяся выпуском стульев, использует труд четырех работников, производительность каждого из которых равна 12 стульям в сутки.

Известно, что заработная плата каждого работника составляет 1 500 рублей в сутки, стоимость сырья для производства одного стула — 2 400 рублей, а арендная плата за производственное помещение составляет 18 000 рублей в сутки. Других издержек (кроме указанных) компания не имеет.

*Выполните следующее задание:*

**Определите себестоимость производства одного стула (средние издержки фирмы «Ампир» в расчете на единицу продукции).**

**Задание В4.**

На начало 2018 года резервный фонд Правительства составлял 1400 млрд. рублей.

В первом полугодии 2018 года было израсходовано  $7/12$  средств резервного фонда, в третьем квартале 2018 года —  $4/7$  от оставшегося объема, а в четвертом квартале 2018 года —  $1/5$  остатка средств. В 2018 году поступлений в резервный фонд Правительства не было.

*Выполните следующее задание:*

**Определите размер резервного фонда Правительства на конец 2018 года.**



**Задание В5.**

Предположим, что доходная часть государственного бюджета Булонии формируется за счет налоговых поступлений с предприятий и граждан Булонии и ежегодных отчислений иностранных авиакомпаний за полеты над территорией этой страны.

В 2017 году доходы бюджета составили 120 млн. дукатов, в т.ч. 25 млн. дукатов — отчисления иностранных авиакомпаний, а расходы государственного бюджета были равны 125 млн. дукатов, в т.ч. социальные трансферты — 20 млн. дукатов.

В 2018 году был введен мораторий на полеты иностранных авиакомпаний над территорией Булонии, а выплаты по программам социальных трансфертов из-за ухудшения экономической конъюнктуры увеличились в 2 раза. Других изменений в доходной и расходной частях бюджета не было.

*Выполните следующее задание:*

**Определите сальдо государственного бюджета Булонии в 2018 году.**

**Задание В6.**

В 2018 году в Аквитании применялась прогрессивная шкала взимания налога на доходы физических лиц (далее — подоходного налога): *первые 100 тыс. гульденов ежегодного дохода не облагались подоходным налогом; доходы от 100 тыс. до 200 тыс. гульденов облагались подоходным налогом по ставке 20%; для всех доходов свыше 200 тыс. гульденов ставка подоходного налога составляла 30%.*

Известно, что в 2018 году гражданин *N*, являясь честным налогоплательщиком и налоговым резидентом Аквитании, выплатил в качестве подоходного налога 25% от размера своего годового дохода. (Каких-либо налоговых льгот гражданин *N* не имеет.)

*Приведите ответ на следующий вопрос:*

**Определите величину суммарного дохода гражданина *N* за 2018 год.**

РАЗДЕЛ С

(участнику нужно выполнить только одно задание на выбор: С1, С2, С3)

**С1. Изучите проблемную ситуацию «Охотники за суперскидками» (задание на выбор):**

«Производители и ритейлеры бьют тревогу: сегодня почти половина всех товаров повседневного спроса продается с помощью промоакций, в стоимостном выражении это треть рынка. Растет и зависимость потребительского спроса от промоакций: в настоящее время 72% россиян больше обращают внимания на скидки, нежели на такие характеристики товаров, как их необходимость, полезность, натуральность...

Сегодня промоакции едва ли не ключевой инструмент привлечения потребителей в рознице. Толчок в развитии они получили примерно десять лет назад, когда активный рост экономики в нашей стране закончился, потребительский спрос начал сжиматься, а торговые сети хотели расти дальше. Первоначально ритейлеры пытались привлечь потребителей разумным соотношением цены и качества. Но в последние три – четыре года многие компании стали активно применять модель промоактивности, в результате чего теперь потребители выбирают магазины не со справедливыми ценами, а те, где они могут получить максимальную скидку.

Большинству участников рынка нынешняя ситуация с промоакциями кажется тупиковой. Конечно, с одной стороны, скидки помогают стимулировать продажи в условиях низкого спроса, с другой — желающих покупать товары только по акциям становится слишком много. *«Промо — это институциональная ловушка, из которой компаниям необходимо выходить вместе»*, — говорит Дмитрий Швецов («Nielsen Россия»).

Многие производители уверены, что растущий тренд увеличения количества ценовых акций и глубины скидок представляет для них серьезную угрозу: это недополученная прибыль акционеров, невозможность инвестировать в развитие компании, приобретение нового оборудования, внедрение новых технологий и т. д. Если не остановить нынешнюю промогонку, вскоре может произойти общее снижение качества продукции, еще большее сокращение спроса, закрытие производств и, наконец, целая череда банкротств...

Но самое печальное для производителей, что с обилием промоакций им стало труднее удерживать лояльность своим брендам.

Выбор промоакций для потребителей сейчас настолько велик, что страдают даже сами торговые сети. Более того, их собственные торговые марки напрямую конкурируют с промоакциями разных производителей...

Эксперты уверены, что эффективность промоакций низкая. 67% промо не приносят ожидаемой прибыли — в основном они увеличивают продажи, но не окупаются.

Сами же производители уверены: эффективность промоакций должна подкрепляться дополнительными маркетинговыми инструментами. Действительно, как считают аналитики, некоторые участники рынка недооценивают другие инструменты стимулирования роста».

*(по материалам журнала Эксперт, Январь 2019)*

**Выполните задания №1–3:**

**№1.** Сформулируйте определение понятия «потребительский спрос». Какие факторы оказывают влияние на поведение потребителей при принятии решения о покупке товаров?

**№2.** Что представляют собой промоакции? Чем вы можете объяснить тот факт, что ценовые промоакции стали одним из ключевых инструментов привлечения потребителей в рознице?

**№3.** Какие другие инструменты маркетинга, направленные на стимулирования спроса, могут быть эффективным дополнением к промоакциям? Свой ответ аргументируйте.

**С2. Прочитайте нижеприведенный отрывок из работы выдающегося российского экономиста А.И. Чупрова «Протекционизм и меркантилизм» (задание на выбор):**

«Таможенный протекционизм совершает ныне триумфальное шествие по всей Европе. Правительства наперерыв одно перед другим стремятся вводить новые пошлины и поднимать старые. Принцип промышленной свободы, за который с конца прошлого века боролось столько лучших умов, отбрасывается как негодная ветошь. Нельзя сказать, чтобы это движение представляло нечто новое в истории. Напротив, оно есть возвращение к прошлому, понятный шаг в ходе человеческой культуры. Ещё с конца средних веков, с того момента, как стало развиваться в обществе разделение занятий, государственная власть считала своею обязанностью обеспечивать обособившимся предприятиям верный сбыт их изделий при помощи таможенных пошлин. В эпоху так называемого меркантилизма таможенное охранение национальных промыслов сделалось одною из важнейших забот государственной власти и достигало поистине грандиозных размеров.

Современный протекционизм — лишь бледная копия с величественного оригинала, в некоторых важных отношениях стоящая далеко позади своего прототипа. Представители старого меркантилизма, в отличие от их современных эпигонов, оказывали таможенное покровительство не всем, а лишь некоторым отраслям промышленности, выбранным по строго обдуманному плану. Общее направление состояло в поощрении обрабатывающей промышленности, которая доставляла товары, особенно пригодны для вывоза за границу и требовавшие для своего производства значительного количества национального труда. Твердо стремясь к поставленной цели, политика меркантилизма старалась всячески удешевить сырье и вспомогательные материалы для промышленности. В этих видах заграничное сырье не только пропускалось внутрь страны беспошлинно, но даже искусственно привлекалось при помощи ввозных премий. — Не то теперь. Приверженцы покровительственной теории в своем усердии об охране национального производства готовы обложить пошлинами всё, что только переходит пограничную черту...

Современный протекционизм, конечно, прикрывает происшедшую перемену разными теоретическими и практическими соображениями. Так, например, обыкновенно выставляется на вид, что соперничество внутренних производителей совершенно достаточно для того, чтобы обеспечить надлежащую высоту промышленной техники и хорошее качество изделий в покровительствуемых отраслях. Но каждый по опыту может судить, насколько призрачно подобное ожидание. Есть отрасли промышленности, в которых при отсутствии подвоза товаров из-за границы не существует соперничества вследствие малочисленности производителей. Далее, во многих отраслях предпринимателям нетрудно устроить стачки. Но даже в тех случаях, когда обоих приведенных условий не налицо, обыкновенно успеет пройти немало времени, прежде нежели внутреннее соперничество окажет свое действие. В большинстве случаев между предпринимателями устанавливается как бы молчаливое соглашение, обобщающее во всех однородных заведениях один и тот же тип технического устройства, который и держится без перемен долгие годы».

**Выполните задания №1–3:**

**№1.** Сформулируйте определение понятия «внешнеторговая политика». Назовите разновидности внешнеторговой политики. С помощью каких инструментов внешнеторговой политики государство может ограничивать внешнюю торговлю?

**№2.** Какими соображениями обосновывались ограничительные меры внешнеторговой политики Российской империи на рубеже XIX-XX веков? Приведите примеры использования ограничительных инструментов внешнеторговой политики из экономической истории России.

**№3.** Обосновано ли применение защитных мер во внешней торговле России в настоящее время? Свой ответ аргументируйте.

**С3. Изучите нижеприведенный кейс «Об эксперименте по введению специального налогового режима для самозанятых» (задание на выбор):**

Постепенно государство создает все больше стимулов для граждан, работающих на себя, выйти из тени и легализоваться в качестве предпринимателя.

По разным оценкам, в России от 12 до 25 млн. человек, которые относятся к самозанятым. Неудивительно, что государство заинтересовано в том, чтобы вывести из тени в легальное поле как можно больше таких людей. В то же время есть понимание, что делать это нужно максимально осторожно, а переход в статус официального самозанятого должен быть для людей выгодным и в то же время простым и комфортным.

С 1 января 2019 года в Москве, Московской и Калужской областях и Республике Татарстан начался эксперимент по введению специального налогового режима «Налог на профессиональный доход». Налоговый режим администрируется в автоматическом режиме с помощью мобильного приложения или Личного кабинета «Мой налог». При этом самозанятому не нужно сдавать отчетность и платить фиксированные страховые взносы.

Применять специальный налоговый режим вправе физические лица, в том числе ИП и получающие доходы от деятельности, при которой они не имеют работодателя и не привлекают наемных работников. Законом определен ряд ограничений для применения данного спецрежима. Это, в том числе: реализация подакцизных товаров и товаров, подлежащих обязательной маркировке; добыча и (или) реализация полезных ископаемых; получение доходов, превышающих в текущем календарном году 2,4 миллиона рублей.

Новый режим предусматривает две налоговые ставки: 4% — при оказании услуг и продаже физическим лицам и 6% — юридическим лицам и индивидуальным предпринимателям. При этом в эти ставки уже включены отчисления в Фонд обязательного медицинского страхования. Участники этого налогового режима освобождаются от подачи налоговой декларации, применения касс, а за операции, облагаемые налогом на профессиональный доход, не нужно платить НДС и НДФЛ. Общение с налоговыми органами происходит дистанционно. Приложение автоматически сформирует чеки для клиентов, а информация о продажах в режиме онлайн поступит в налоговый орган. По итогам месяца налогоплательщику на его мобильное приложение придет информация о сумме налога, которую при его согласии спишут с банковского счета или самозанятый оплатит самостоятельно. Участники эксперимента имеют право на налоговый вычет 10 тысяч рублей, который можно использовать для уменьшения налога.

По данным Федеральной налоговой службы, за первые два месяца 2019 г. в качестве самозанятых зарегистрировалось более 33 000 человек.

По итогам первых месяцев эксперимента Минэкономразвития и Минфин предлагают распространить с 2020 года этот режим на все регионы нашей страны.

*(По материалам СМИ и сайта ФНС России)*

**Выполните задания №1–3:**

**№1.** Кто относится к категории «самозанятых»? Назовите условия, при соблюдении которых гражданин России может применять новый специальный налоговый режим. В чем выгоды специального налогового режима для самозанятых?

**№2.** Сформулируйте определение понятия «налог». С какой целью проводится данный налоговый эксперимент? Свой ответ поясните.

**№3.** Существует мнение, что уже в настоящее время целесообразно распространение специального налогового режима на всю территорию РФ. Обоснована ли данная точка зрения? Аргументируйте свой ответ.



## **Межрегиональная экономическая олимпиада школьников имени Н.Д. Кондратьева**

*5–9 класс*

### **ВАРИАНТ 2**

#### ***Инструкция для участника олимпиады***

Олимпиадная работа состоит из **трех разделов**. Участник олимпиады сам определяет последовательность выполнения заданий. Ответы на задания должны быть приведены на **бланках ответов**.

**Раздел А** (задания №А1–А20) содержит 20 вопросов. Каждый полностью правильный ответ на задание раздела А оценивается максимально в **2 балла**; отсутствие ответа / неправильный ответ — 0 баллов.

**Раздел В** содержит шесть экономических задачи (задания №В1–В6). Каждая **полностью правильно решенная экономическая задача** раздела В оценивается в **5 баллов**; отсутствие ответа / неполный или неправильный ответ — **0 баллов**. **На бланке ответов должно быть приведено решение задачи. Ответы без решения не засчитываются. Решение проверяется только при наличии правильного ответа.**

**Раздел С** содержит три задания. Участнику нужно выполнить только одно из заданий раздела С (в противном случае будет проверено первое выполненное задание). Количество баллов, выставляемых за ответ на задание раздела С, зависит от полноты и правильности вашего ответа.

Оцениваться будет и полностью правильный, и частично правильный ответ. При оценке ответа учитываются: а) знание терминологии и конкретного материала соответствующей области экономической теории; б) полнота раскрытия проблемы; в) умение связать теоретический материал с практическими примерами; г) аргументированность, четкость и структурированность ответа. **Выбранное задание раздела С выполняется участником на листе-вкладыше. Полностью правильный ответ на задание раздела С оценивается в 30 баллов.**

***Продолжительность олимпиады — 120 минут***

РАЗДЕЛ А

**Задание А1.**

В 2019 году исполняется 50 лет одной из самых престижных международных наград за достижение в области экономической науки — *Нобелевской премии по экономике* (премии Шведского государственного банка по экономическим наукам памяти Альфреда Нобеля).

Перед вами информация об одном из лауреатов данной премии:

*Этот ученый родился в 1901 году в России. В 1922 году эмигрировал в США, где окончил Колумбийский университет. Премия памяти Альфреда Нобеля была присуждена ему в 1971 году «за эмпирически обоснованное истолкование экономического роста, которое привело к новому, более глубокому пониманию как экономической и социальной структуры, так и процесса развития».*

**Приведите ответы на следующие вопросы:**

**О каком экономисте идет речь? В бланк ответов запишите фамилию.**

**Задание А2.**

Из предложенного перечня государств выберите те, которые в 1960-е годы руководствовались принципами плановой (командной) экономической системы:

1. Германская Демократическая Республика;
2. Китайская Народная Республика;
3. Корейская Народная Демократическая Республика.
4. Португальская Республика;
5. Республика Куба;
6. Союз Советских Социалистических Республик;
7. Южно-Африканская Республика.

**Выполните следующее задание:**

**Запишите в бланк ответа цифры, под которыми обозначены государства с плановой (командной) экономической системой.**

**Задание А3.**

Расположите ниже перечисленные понятия в порядке, соответствующем времени их первого появления в российском экономическом лексиконе.

- (1) ассигнация;
- (2) вексель;
- (3) облигация;
- (4) приватизационный чек (ваучер);
- (5) сберегательная книжка.

**Выполните следующее задание:**

**В бланк ответов запишите цифры, которыми обозначены соответствующие экономические понятия, в правильной последовательности.**

**Задание А4.**

Функция суммарных расходов потребителей на приобретение электрических чайников имеет вид  $TE(Q) = -2Q^2 + 56Q$  ( $Z$  — расходы потребителей, денежных единиц,  $Q$  — количество электрических чайников, штук).

**Выполните следующее задание:**

**Определите, при какой цене потребители готовы приобрести 10 электрических чайников.**

**БЛАНК ВАРИАНТА ОЛИМПИАДНЫХ ЗАДАНИЙ НЕ ПРОВЕРЯЕТСЯ**

**Задание А5.**

В Свияжске постоянно проживает 243 человека.

Среди жителей Свияжска был проведен опрос, в ходе которого был задан вопрос: «Какую максимальную цену они готовы заплатить за единицу товара Альфа?».

Результаты опроса представлены в следующей таблице:

цена, руб.	число ответов, чел.
100	76
120	55
140	49
160	34
180	22
200	7

**Выполните следующее задание:**

**Определите величину рыночного спроса в Свияжске на товар Альфа при цене, равной 160 рублей.**

**Задание А6.**

Цена товара  $W$  изменяется ежегодно два раза в год: в марте она снижается на 25%, а в октябре повышается на 25%.

Известно, если в январе 2018 г. цена единицы товара  $W$  составляла 5120 рублей.

**Выполните следующее задание:**

**Определите, какова будет цена товара  $W$  в декабре 2019 г.**

**Задание А7.**

В результате эффективной маркетинговой политики выручка компании «Юность» за 2016–2018 годы выросла на 700%.

**Выполните следующее задание:**

**Определите, на сколько в среднем ежегодно увеличивалась выручка компании в течение указанного периода.**

**Задание А8.**

Изучите фрагмент из работы американского экономиста Эдварда Чемберлина:

*«Мы находим в экономической литературе любопытное смешение, путаницу и разобщение понятий конкуренции и монополии...*

*Мы можем иметь дело с продавцами, предлагающими к продаже идентичные, слегка различные или очень различные продукты. Если продукты идентичны, то мы имеем условия чистой конкуренции (предполагая также, что число продавцов очень велико).*

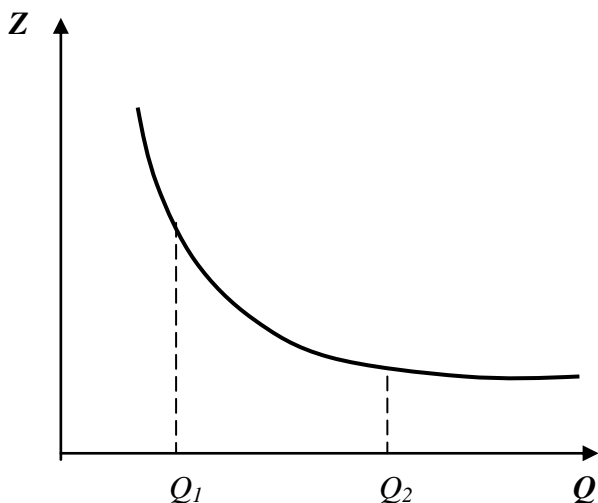
*Вместе с дифференциацией появляется монополия, и по мере усиления дифференциации элементы монополии становятся все значительнее. Везде, где в какой-либо степени существует дифференциация, каждый продавец обладает абсолютной монополией на свой собственный продукт, но вместе с тем подвергается конкуренции со стороны более или менее несовершенных заменителей. Поскольку каждый является монополистом и все-таки имеет конкурентов, то мы вправе говорить... о силах, действующих в подобной ситуации, как о силах <наименование рыночной структуры>».*

**Приведите ответ на следующий вопрос:**

**О каком типе рыночной структуры идет речь?**

**Задание А9.**

На рисунке изображен график зависимости средних постоянных издержек фирмы  $Z(Q)$  от объема производимой продукции  $Q$ .



Изучите ниже приведенные утверждения, характеризующие функцию общих постоянных издержек фирмы ( $FC$ ):

- 1)  $FC(Q_1) > FC(Q_2)$ ;
- 2)  $FC(Q_1) < FC(Q_2)$ ;
- 3)  $FC(Q_1) = FC(Q_2)$ ;
- 4)  $FC(Q)$  убывают на отрезке  $[Q_1, Q_2]$ ;
- 5)  $FC(Q)$  не меняются на отрезке  $[Q_1, Q_2]$ ;
- 6)  $FC(Q)$  возрастают на отрезке  $[Q_1, Q_2]$ ;
- 7) на отрезке  $[Q_1, Q_2]$   $FC(Q)$  сначала возрастают, затем убывают.

**Выполните следующее задание:**

**Запишите в бланк ответа цифры, под которыми указаны верные утверждения.**

**Задание А10.**

Изучите фрагмент из работы российского экономиста начала XX века:

*«Две характерные черты отличают новейшую фазу экономической эволюции от предыдущих эпох. Первой является неслыханное до сих пор увеличение числа крупных предприятий вообще и громадных акционерных компаний в частности, второй — быстро участвовавший со второй половины 70-х гг. XIX столетия параллельно с этим обезличиванием капитала и обезличиванием его процесс, при помощи которого... остальные объединялись в целях создания для себя по возможности монопольного положения на рынке.*

*Высшая форма этой новой экономической организации — <экономический термин> получила особенно широкое применение в Северо-Американских Соединенных Штатах, где в ее руках находится от 1/3 до 1/2 производства».*

**Выполните следующее задание:**

**О какой форме монополистического объединения идет речь?**



**Задание А11.**

Величина депозитов банка равна 1200 млн рублей, из которых 75% — вклады до востребования, а 25% — срочные вклады.

Норма обязательного резервирования по срочным вкладам составляет 10%, по вкладам до востребования — 20%. Избыточных резервов банк не имеет.

**Выполните следующее задание:**

**Определите, на какую сумму увеличатся кредитные возможности банка, если треть вкладов до востребования будет переоформлена в срочные вклады.**

**Задание А12.**

**Какие из перечисленных видов государственных расходов, осуществленные в 2018 году, будут учтены при расчете ВВП России за 2018 год?**

1. расходы на закупку новых вооружений и техники для органов охраны правопорядка;
2. расходы на выплату пособий в связи с рождением ребенка;
3. приобретение транспортных услуг для нужд органов государственной власти
4. выплаты стипендий студентам государственных вузов;
5. расходы на возведение новых спортивных сооружений;
6. приобретение иностранной валюты для пополнения валютных резервов страны;
7. расходы на заработную плату работникам системы образования.

**Выполните следующее задание:**

**Запишите в ответ цифры, под которыми указаны верные утверждения.**

**Задание А13.**

Изучите фрагмент из выступления премьера Госсовета КНР Ли Кэцзяна 19 марта 2019 г.:

*«В ходе реализации <вид> политики следует, с одной стороны, эффективно управлять главным «шлюзом» денежного предложения, воздерживаясь от резких мер в виде «полива большой водой», а с другой стороны, проявлять гибкость и применительно к условиям использовать разнообразные инструменты, совершенствовать ее трансмиссионный механизм, поддерживать рациональный и достаточный уровень ликвидности...»*

*Необходимо реформировать и совершенствовать механизмы денежной эмиссии и кредитования, своевременно использовать количественные и ценовые инструменты, такие как нормы обязательных резервов, процентные ставки и т.д., поощрять финансовые учреждения в расширении масштабов кредитования и снижении себестоимости кредитов».*

**Приведите ответ на следующий вопрос:**

**О какой разновидности государственной макроэкономической политики идет речь?**

**Задание А14.**

Изучите имеющиеся сведения о событиях, происходивших в 2010-е годы на рынке труда страны *Мечтании*:

1. В 2019 году только что получивший диплом выпускник вуза Макаров обратился в службу занятости с целью найти работу по специальности.

2. В 2018 году сотрудник министерства финансов Иванов отсутствовал на работе в течение трех дней по причине болезни.

3. В 2017 году в течение двух недель работники шахты «Воркутинская» не работали в связи с участием в забастовке.

4. В 2016 году квалифицированный аудитор Петров уволился по собственному желанию с целью поиска более высокооплачиваемой работы.

5. В 2015 году кондуктор Симонов потерял работу вследствие внедрения автоматической системы контроля проезда пассажиров.

6. В 2014 году стоматолог Соколов уволился в связи с планируемым переездом в другой город, где он в течение двух недель нашел работу и приступил к ней.

7. В 2013 году рабочий металлургического завода Орлов был уволен в связи с сокращением объемов производства вследствие экономического спада.

8. В 2012 году рабочий автомобильного завода Степанов был уволен в связи с внедрением промышленных роботов на производстве.

9. В 2011 году из-за конфликта с директором магазина кассир Иванова уволилась, через десять дней она приступила к работе в другом магазине на той же должности.

10. В 2010 году трубочист Стариков потерял работу в связи с завершением перевода жилого сектора на центральное отопление.

**Выполните следующее задание:**

**Выделите ситуации, соответствующие фрикционной безработице. Запишите в бланк ответа соответствующие цифры.**

**Задание А15.**

Блага, обладающие двумя свойствами — несоперничеством (потребление единицы блага одним индивидом не препятствует использованию этой же единицы другим индивидом) и неисключаемостью (не допускать кого-нибудь к пользованию благом невозможно или нецелесообразно).

**Приведите ответ на следующий вопрос:**

**О каком экономическом термине идет речь?**

**Задание А16.**

Прочитайте фрагмент из произведения И. Ильфа и Е. Петрова:

*«Александр Иванович с беспокойством видел, как деньги, которые он наживал с великими ухищрениями, превращаются в ничто.*

*Тиф валил людей тысячами, Саша торговал краденными из склада медикаментами. Он заработал на тифе пятьсот миллионов, но денежный курс за месяц превратил их в пять миллионов. На сахаре он заработал миллиард. Курс превратил эти деньги в порошок».*

**Приведите ответ на следующий вопрос:**

**О каком экономическом явлении идет речь?**

**Задание А17.**

Изучите сведения о динамике некоторых показателей внешней торговли Российской Федерации в 2013–2017 годах (по методологии платежного баланса):

показатель (в процентах к предыдущему году)	2013 г.	2014 г.	2015 г.	2016 г.	2017 г.
экспорт	98,9	95,2	68,7	82,6	125,2
импорт	101,6	90,2	62,7	99,3	124,2

**Приведите ответы на следующие вопросы:**

**В каком году из рассматриваемого периода величина экспорта России (в абсолютном измерении) была максимальной?**

**Задание А18.**

Изучите фрагмент из заметки в СМИ:

*«ВВП Турции в четвертом квартале 2018 года сократился на 3% в годовом эквиваленте. Учитывая, что третий квартал завершился падением объема экономики страны на 1,6%, Турция официально вошла в зону <экономический термин> — состояния, когда экономика сокращается два квартала подряд...*

*Турецкая экономика продемонстрировала уверенный рост на протяжении последних нескольких лет, который завершился в середине 2018 года на фоне валютного кризиса».*

**Выполните следующие задания:**

**Запишите пропущенный экономический термин.**

**Задание А19.**

Прочитайте фрагмент из Соглашения о создании международной организации:

*«Функции <Организации>:*

*Организация способствует выполнению, применению и действию настоящего Соглашения и Многосторонних торговых соглашений, содействует осуществлению их целей, а также обеспечивает рамки для выполнения, применения и действия Торговых соглашений с ограниченным кругом участников.*

*Организация является форумом для переговоров между ее членами по вопросам их многосторонних торговых отношений...*

*Организация выполняет административные функции в отношении Механизма обзора торговой политики».*

*Приведите ответ на следующий вопрос:*

**О какой международной организации идет речь?**

**Задание А20.**

Изучите приведенную характеристику интеграционного объединения:

*Договор о создании данного регионального интеграционного объединения был подписан в 2014 году, вступил в силу с 1 января 2015 года. Объединяет 5 государств, численность населения которых превышает 180 млн. человек. Суммарный ВВП государств-членов объединения превышает 1,8 трлн долл. США.*

**Приведите ответ на следующий вопрос:**

**О каком интеграционном объединении идет речь в каждом фрагменте?**

РАЗДЕЛ В

**Задание В1.**

В колледже работает две категории сотрудников: преподавательский персонал (ПП) и административный персонал (АП).

Средняя заработная плата преподавательского персонала составляет 58 000 рублей в месяц, а среднемесячная заработная плата сотрудников административного персонала — 158 000 рублей в месяц.

Известно также, что среднемесячная заработная плата в колледже составляет 116 000 рублей.

*Приведите ответ на следующий вопрос:*

**Какая часть сотрудников колледжа является преподавателями?**

**Задание В2.**

Известно, что на конкурентном рынке картофеля Нилии функция спроса характеризуется зависимостью  $Q_d = a - bp$ , а предложение — зависимостью  $Q_s = c + dp$  ( $Q$  — количество, тонн в день,  $p$  — цена, рублей за кг,  $a, b, c, d$  — параметры,  $a > 0, b > 0, c > 0, d > 0$ ).

Известно, что при цене 30 рублей за кг избыток на рынке картофеля Нилии составляет 10 тонн, а равновесная цена на рынке картофеля Нилии составляет 28 рублей за кг.

*Выполните следующее задание:*

**Определите величину избыточного спроса (дефицита) на рынке картофеля Нилии при цене 27 рублей за килограмм.**

**Задание В3.**

Фирма «Ампир», занимающаяся выпуском стульев, использует труд четырех работников, производительность каждого из которых равна 12 стульям в сутки.

Известно, что заработная плата каждого работника составляет 1 500 рублей в сутки, стоимость сырья для производства одного стула — 2 400 рублей, а арендная плата за производственное помещение составляет 18 000 рублей в сутки. Других издержек (кроме указанных) компания не имеет.

*Выполните следующее задание:*

**Определите себестоимость производства одного стула (средние издержки фирмы «Ампир» в расчете на единицу продукции).**

**Задание В4.**

На начало 2018 года резервный фонд Правительства составлял 1400 млрд. рублей.

В первом полугодии 2018 года было израсходовано  $7/12$  средств резервного фонда, в третьем квартале 2018 года —  $4/7$  от оставшегося объема, а в четвертом квартале 2018 года —  $1/5$  остатка средств. В 2018 году поступлений в резервный фонд Правительства не было.

*Выполните следующее задание:*

**Определите размер резервного фонда Правительства на конец 2018 года.**

**Задание В5.**

Предположим, что доходная часть государственного бюджета Булонии формируется за счет налоговых поступлений с предприятий и граждан Булонии и ежегодных отчислений иностранных авиакомпаний за полеты над территорией этой страны.

В 2017 году доходы бюджета составили 120 млн. дукатов, в т.ч. 25 млн. дукатов — отчисления иностранных авиакомпаний, а расходы государственного бюджета были равны 125 млн. дукатов, в т.ч. социальные трансферты — 20 млн. дукатов.

В 2018 году был введен мораторий на полеты иностранных авиакомпаний над территорией Булонии, а выплаты по программам социальных трансфертов из-за ухудшения экономической конъюнктуры увеличились в 2 раза. Других изменений в доходной и расходной частях бюджета не было.

*Выполните следующее задание:*

**Определите сальдо государственного бюджета Булонии в 2018 году.**

**Задание В6.**

В 2018 году в Аквитании применялась прогрессивная шкала взимания налога на доходы физических лиц (далее — подоходного налога): *первые 100 тыс. гюльденов ежегодного дохода не облагались подоходным налогом; доходы от 100 тыс. до 200 тыс. гюльденов облагались подоходным налогом по ставке 20%; для всех доходов свыше 200 тыс. гюльденов ставка подоходного налога составляла 30%.*

Известно, что в 2018 году гражданин *N*, являясь честным налогоплательщиком и налоговым резидентом Аквитании, выплатил в качестве подоходного налога 25% от размера своего годового дохода. (Каких-либо налоговых льгот гражданин *N* не имеет.)

*Приведите ответ на следующий вопрос:*

**Определите величину суммарного дохода гражданина *N* за 2018 год.**

РАЗДЕЛ С

(участнику нужно выполнить только одно задание на выбор: С1, С2, С3)

**С1. Изучите проблемную ситуацию «Охотники за суперскидками» (задание на выбор):**

«Производители и ритейлеры бьют тревогу: сегодня почти половина всех товаров повседневного спроса продается с помощью промоакций, в стоимостном выражении это треть рынка. Растет и зависимость потребительского спроса от промоакций: в настоящее время 72% россиян больше обращают внимания на скидки, нежели на такие характеристики товаров, как их необходимость, полезность, натуральность...

Сегодня промоакции едва ли не ключевой инструмент привлечения потребителей в рознице. Толчок в развитии они получили примерно десять лет назад, когда активный рост экономики в нашей стране закончился, потребительский спрос начал сжиматься, а торговые сети хотели расти дальше. Первоначально ритейлеры пытались привлечь потребителей разумным соотношением цены и качества. Но в последние три – четыре года многие компании стали активно применять модель промоактивности, в результате чего теперь потребители выбирают магазины не со справедливыми ценами, а те, где они могут получить максимальную скидку.

Большинству участников рынка нынешняя ситуация с промоакциями кажется тупиковой. Конечно, с одной стороны, скидки помогают стимулировать продажи в условиях низкого спроса, с другой — желающих покупать товары только по акциям становится слишком много. *«Промо — это институциональная ловушка, из которой компаниям необходимо выходить вместе»*, — говорит Дмитрий Швецов («Nielsen Россия»).

Многие производители уверены, что растущий тренд увеличения количества ценовых акций и глубины скидок представляет для них серьезную угрозу: это недополученная прибыль акционеров, невозможность инвестировать в развитие компании, приобретение нового оборудования, внедрение новых технологий и т. д. Если не остановить нынешнюю промогонку, вскоре может произойти общее снижение качества продукции, еще большее сокращение спроса, закрытие производств и, наконец, целая череда банкротств...

Но самое печальное для производителей, что с обилием промоакций им стало труднее удерживать лояльность своим брендам.

Выбор промоакций для потребителей сейчас настолько велик, что страдают даже сами торговые сети. Более того, их собственные торговые марки напрямую конкурируют с промоакциями разных производителей...

Эксперты уверены, что эффективность промоакций низкая. 67% промо не приносят ожидаемой прибыли — в основном они увеличивают продажи, но не окупаются.

Сами же производители уверены: эффективность промоакций должна подкрепляться дополнительными маркетинговыми инструментами. Действительно, как считают аналитики, некоторые участники рынка недооценивают другие инструменты стимулирования роста».

*(по материалам журнала Эксперт, Январь 2019)*

**Выполните задания №1–3:**

**№1.** Сформулируйте определение понятия «потребительский спрос». Какие факторы оказывают влияние на поведение потребителей при принятии решения о покупке товаров?

**№2.** Что представляют собой промоакции? Чем вы можете объяснить тот факт, что ценовые промоакции стали одним из ключевых инструментов привлечения потребителей в рознице?

**№3.** Какие другие инструменты маркетинга, направленные на стимулирования спроса, могут быть эффективным дополнением к промоакциям? Свой ответ аргументируйте.

**С2. Прочитайте нижеприведенный отрывок из работы выдающегося российского экономиста А.И. Чупрова «Протекционизм и меркантилизм» (задание на выбор):**

«Таможенный протекционизм совершает ныне триумфальное шествие по всей Европе. Правительства наперерыв одно перед другим стремятся вводить новые пошлины и поднимать старые. Принцип промышленной свободы, за который с конца прошлого века боролось столько лучших умов, отбрасывается как негодная ветошь. Нельзя сказать, чтобы это движение представляло нечто новое в истории. Напротив, оно есть возвращение к прошлому, понятный шаг в ходе человеческой культуры. Ещё с конца средних веков, с того момента, как стало развиваться в обществе разделение занятий, государственная власть считала своею обязанностью обеспечивать обособившимся предприятиям верный сбыт их изделий при помощи таможенных пошлин. В эпоху так называемого меркантилизма таможенное охранение национальных промыслов сделалось одною из важнейших забот государственной власти и достигало поистине грандиозных размеров.

Современный протекционизм — лишь бледная копия с величественного оригинала, в некоторых важных отношениях стоящая далеко позади своего прототипа. Представители старого меркантилизма, в отличие от их современных эпигонов, оказывали таможенное покровительство не всем, а лишь некоторым отраслям промышленности, выбранным по строго обдуманному плану. Общее направление состояло в поощрении обрабатывающей промышленности, которая доставляла товары, особенно пригодны для вывоза за границу и требовавшие для своего производства значительного количества национального труда. Твердо стремясь к поставленной цели, политика меркантилизма старалась всячески удешевить сырье и вспомогательные материалы для промышленности. В этих видах заграничное сырье не только пропускалось внутрь страны беспошлинно, но даже искусственно привлекалось при помощи ввозных премий. — Не то теперь. Приверженцы покровительственной теории в своем усердии об охране национального производства готовы обложить пошлинами всё, что только переходит пограничную черту...

Современный протекционизм, конечно, прикрывает происшедшую перемену разными теоретическими и практическими соображениями. Так, например, обыкновенно выставляется на вид, что соперничество внутренних производителей совершенно достаточно для того, чтобы обеспечить надлежащую высоту промышленной техники и хорошее качество изделий в покровительствуемых отраслях. Но каждый по опыту может судить, насколько призрачно подобное ожидание. Есть отрасли промышленности, в которых при отсутствии подвоза товаров из-за границы не существует соперничества вследствие малочисленности производителей. Далее, во многих отраслях предпринимателям нетрудно устроить стачки. Но даже в тех случаях, когда обоих приведенных условий не налицо, обыкновенно успеет пройти немало времени, прежде нежели внутреннее соперничество окажет свое действие. В большинстве случаев между предпринимателями устанавливается как бы молчаливое соглашение, обобщающее во всех однородных заведениях один и тот же тип технического устройства, который и держится без перемен долгие годы».

**Выполните задания №1–3:**

**№1.** Сформулируйте определение понятия «внешнеторговая политика». Назовите разновидности внешнеторговой политики. С помощью каких инструментов внешнеторговой политики государство может ограничивать внешнюю торговлю?

**№2.** Какими соображениями обосновывались ограничительные меры внешнеторговой политики Российской империи на рубеже XIX-XX веков? Приведите примеры использования ограничительных инструментов внешнеторговой политики из экономической истории России.

**№3.** Обосновано ли применение защитных мер во внешней торговле России в настоящее время? Свой ответ аргументируйте.

**С3. Изучите нижеприведенный кейс «Об эксперименте по введению специального налогового режима для самозанятых» (задание на выбор):**

Постепенно государство создает все больше стимулов для граждан, работающих на себя, выйти из тени и легализоваться в качестве предпринимателя.

По разным оценкам, в России от 12 до 25 млн. человек, которые относятся к самозанятым. Неудивительно, что государство заинтересовано в том, чтобы вывести из тени в легальное поле как можно больше таких людей. В то же время есть понимание, что делать это нужно максимально осторожно, а переход в статус официального самозанятого должен быть для людей выгодным и в то же время простым и комфортным.

С 1 января 2019 года в Москве, Московской и Калужской областях и Республике Татарстан начался эксперимент по введению специального налогового режима «Налог на профессиональный доход». Налоговый режим администрируется в автоматическом режиме с помощью мобильного приложения или Личного кабинета «Мой налог». При этом самозанятому не нужно сдавать отчетность и платить фиксированные страховые взносы.

Применять специальный налоговый режим вправе физические лица, в том числе ИП и получающие доходы от деятельности, при которой они не имеют работодателя и не привлекают наемных работников. Законом определен ряд ограничений для применения данного спецрежима. Это, в том числе: реализация подакцизных товаров и товаров, подлежащих обязательной маркировке; добыча и (или) реализация полезных ископаемых; получение доходов, превышающих в текущем календарном году 2,4 миллиона рублей.

Новый режим предусматривает две налоговые ставки: 4% — при оказании услуг и продаже физическим лицам и 6% — юридическим лицам и индивидуальным предпринимателям. При этом в эти ставки уже включены отчисления в Фонд обязательного медицинского страхования. Участники этого налогового режима освобождаются от подачи налоговой декларации, применения касс, а за операции, облагаемые налогом на профессиональный доход, не нужно платить НДС и НДФЛ. Общение с налоговыми органами происходит дистанционно. Приложение автоматически сформирует чеки для клиентов, а информация о продажах в режиме онлайн поступит в налоговый орган. По итогам месяца налогоплательщику на его мобильное приложение придет информация о сумме налога, которую при его согласии спишут с банковского счета или самозанятый оплатит самостоятельно. Участники эксперимента имеют право на налоговый вычет 10 тысяч рублей, который можно использовать для уменьшения налога.

По данным Федеральной налоговой службы, за первые два месяца 2019 г. в качестве самозанятых зарегистрировалось более 33 000 человек.

По итогам первых месяцев эксперимента Минэкономразвития и Минфин предлагают распространить с 2020 года этот режим на все регионы нашей страны.

*(По материалам СМИ и сайта ФНС России)*

**Выполните задания №1–3:**

**№1.** Кто относится к категории «самозанятых»? Назовите условия, при соблюдении которых гражданин России может применять новый специальный налоговый режим. В чем выгоды специального налогового режима для самозанятых?

**№2.** Сформулируйте определение понятия «налог». С какой целью проводится данный налоговый эксперимент? Свой ответ поясните.

**№3.** Существует мнение, что уже в настоящее время целесообразно распространение специального налогового режима на всю территорию РФ. Обоснована ли данная точка зрения? Аргументируйте свой ответ.





## Межрегиональная экономическая олимпиада школьников имени Н.Д. Кондратьева

5–9 класс

### ВАРИАНТ 3

#### *Инструкция для участника олимпиады*

Олимпиадная работа состоит из **трех разделов**. Участник олимпиады сам определяет последовательность выполнения заданий. Ответы на задания должны быть приведены на **бланках ответов**.

**Раздел А** (задания №А1–А20) содержит 20 вопросов. Каждый полностью правильный ответ на задание раздела А оценивается максимально в **2 балла**; отсутствие ответа / неправильный ответ — 0 баллов.

**Раздел В** содержит шесть экономических задачи (задания №В1–В6). Каждая **полностью правильно решенная экономическая задача** раздела В оценивается в **5 баллов**; отсутствие ответа / неполный или неправильный ответ — 0 баллов. **На бланке ответов должно быть приведено решение задачи. Ответы без решения не засчитываются. Решение проверяется только при наличии правильного ответа.**

**Раздел С** содержит три задания. Участнику нужно выполнить только одно из заданий раздела С (в противном случае будет проверено первое выполненное задание). Количество баллов, выставляемых за ответ на задание раздела С, зависит от полноты и правильности вашего ответа.

Оцениваться будет и полностью правильный, и частично правильный ответ. При оценке ответа учитываются: а) знание терминологии и конкретного материала соответствующей области экономической теории; б) полнота раскрытия проблемы; в) умение связать теоретический материал с практическими примерами; г) аргументированность, четкость и структурированность ответа. **Выбранное задание раздела С выполняется участником на листе-вкладыше. Полностью правильный ответ на задание раздела С оценивается в 30 баллов.**

*Продолжительность олимпиады — 120 минут*

РАЗДЕЛ А

**Задание А1.**

В 2019 году исполняется 50 лет одной из самых престижных международных наград за достижение в области экономической науки — *Нобелевской премии по экономике* (премии Шведского государственного банка по экономическим наукам памяти Альфреда Нобеля).

Перед вами информация об одном из лауреатов данной премии:

*Этот ученый родился в 1901 году в России. В 1922 году эмигрировал в США, где окончил Колумбийский университет. Премия памяти Альфреда Нобеля была присуждена ему в 1971 году «за эмпирически обоснованное истолкование экономического роста, которое привело к новому, более глубокому пониманию как экономической и социальной структуры, так и процесса развития».*

**Приведите ответы на следующие вопросы:**

**О каком экономисте идет речь? В бланк ответов запишите фамилию.**

**Задание А2.**

Из предложенного перечня государств выберите те, которые в 1960-е годы руководствовались принципами плановой (командной) экономической системы:

1. Демократическая республика Вьетнам.
2. Германская Демократическая Республика;
3. Китайская Народная Республика;
4. Португальская Республика;
5. Республика Куба;
6. Союз Советских Социалистических Республик;
7. Южно-Африканская Республика.

**Выполните следующее задание:**

**Запишите в бланк ответа цифры, под которыми обозначены государства с плановой (командной) экономической системой.**

**Задание А3.**

Расположите ниже перечисленные понятия в порядке, соответствующем времени их первого появления в российском экономическом лексиконе.

- (1) ассигнация;
- (2) вексель;
- (3) облигация;
- (4) приватизационный чек (ваучер);
- (5) сберегательная книжка.

**Выполните следующее задание:**

**В бланк ответов запишите цифры, которыми обозначены соответствующие экономические понятия, в правильной последовательности.**

**Задание А4.**

Функция суммарных расходов потребителей на приобретение электрических чайников имеет вид  $TE(Q) = -2Q^2 + 54Q$  ( $Z$  — расходы потребителей, денежных единиц,  $Q$  — количество электрических чайников, штук).

**Выполните следующее задание:**

**Определите, при какой цене потребители готовы приобрести 12 электрических чайников.**

**Задание А5.**

В Свияжске постоянно проживает 243 человека.

Среди жителей Свияжска был проведен опрос, в ходе которого был задан вопрос: «Какую максимальную цену они готовы заплатить за единицу товара Альфа?».

Результаты опроса представлены в следующей таблице:

цена, руб.	число ответов, чел.
100	76
120	55
140	49
160	34
180	22
200	7

**Выполните следующее задание:**

**Определите величину рыночного спроса в Свияжске на товар Альфа при цене, равной 180 рублей.**

**Задание А6.**

Цена товара  $W$  изменяется ежегодно два раза в год: в марте она снижается на 25%, а в октябре повышается на 25%.

Известно, если в январе 2018 г. цена единицы товара  $W$  составляла 2560 рублей.

**Выполните следующее задание:**

**Определите, какова будет цена товара  $W$  в декабре 2019 г.**

**Задание А7.**

В результате эффективной маркетинговой политики выручка компании «Юность» за 2016–2018 годы выросла на 1500%.

**Выполните следующее задание:**

**Определите, на сколько в среднем ежегодно увеличивалась выручка компании в течение указанного периода.**

**Задание А8.**

Изучите фрагмент из работы американского экономиста Эдварда Чемберлина:

*«Мы находим в экономической литературе любопытное смешение, путаницу и разобщение понятий конкуренции и монополии...»*

*Мы можем иметь дело с продавцами, предлагающими к продаже идентичные, слегка различные или очень различные продукты. Если продукты идентичны, то мы имеем условия чистой конкуренции (предполагая также, что число продавцов очень велико).*

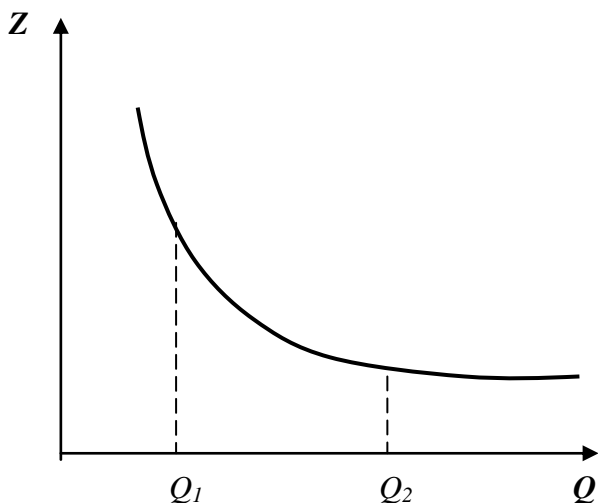
*Вместе с дифференциацией появляется монополия, и по мере усиления дифференциации элементы монополии становятся все значительнее. Везде, где в какой-либо степени существует дифференциация, каждый продавец обладает абсолютной монополией на свой собственный продукт, но вместе с тем подвергается конкуренции со стороны более или менее несовершенных заменителей. Поскольку каждый является монополистом и все-таки имеет конкурентов, то мы вправе говорить... о силах, действующих в подобной ситуации, как о силах <наименование рыночной структуры>».*

**Приведите ответ на следующий вопрос:**

**О каком типе рыночной структуры идет речь?**

**Задание А9.**

На рисунке изображен график зависимости средних постоянных издержек фирмы  $Z(Q)$  от объема производимой продукции  $Q$ .



Изучите ниже приведенные утверждения, характеризующие функцию общих постоянных издержек фирмы ( $FC$ ):

- 1)  $FC(Q_1) > FC(Q_2)$ ;
- 2)  $FC(Q_1) < FC(Q_2)$ ;
- 3)  $FC(Q_1) = FC(Q_2)$ ;
- 4)  $FC(Q)$  убывают на отрезке  $[Q_1, Q_2]$ ;
- 5)  $FC(Q)$  не меняются на отрезке  $[Q_1, Q_2]$ ;
- 6)  $FC(Q)$  возрастают на отрезке  $[Q_1, Q_2]$ ;
- 7) на отрезке  $[Q_1, Q_2]$   $FC(Q)$  сначала возрастают, затем убывают.

**Выполните следующее задание:**

**Запишите в бланк ответа цифры, под которыми указаны верные утверждения.**

**Задание А10.**

Изучите фрагмент из работы российского экономиста начала XX века:

*«Две характерные черты отличают новейшую фазу экономической эволюции от предыдущих эпох. Первой является неслыханное до сих пор увеличение числа крупных предприятий вообще и громадных акционерных компаний в частности, второй — быстро участвовавший со второй половины 70-х гг. XIX столетия параллельно с этим обезличиванием капитала и обезличиванием его процесс, при помощи которого... остальные объединялись в целях создания для себя по возможности монопольного положения на рынке.*

*Высшая форма этой новой экономической организации — <экономический термин> получила особенно широкое применение в Северо-Американских Соединенных Штатах, где в ее руках находится от 1/3 до 1/2 производства».*

**Выполните следующее задание:**

**О какой форме монополистического объединения идет речь?**

**Задание А11.**

Величина депозитов банка равна 1600 млн рублей, из которых 75% — вклады до востребования, а 25% — срочные вклады.

Норма обязательного резервирования по срочным вкладам составляет 10%, по вкладам до востребования — 20%. Избыточных резервов банк не имеет.

**Выполните следующее задание:**

**Определите, на какую сумму увеличатся кредитные возможности банка, если треть вкладов до востребования будет переоформлена в срочные вклады.**

**Задание А12.**

**Какие из перечисленных видов государственных расходов, осуществленные в 2018 году, будут учтены при расчете ВВП России за 2018 год?**

1. расходы на закупку новых вооружений и техники для органов охраны правопорядка;
2. расходы на выплату пособий в связи с рождением ребенка;
3. приобретение транспортных услуг для нужд органов государственной власти
4. выплаты стипендий студентам государственных вузов;
5. расходы на возведение новых спортивных сооружений;
6. приобретение иностранной валюты для пополнения валютных резервов страны;
7. расходы на заработную плату работникам системы образования.

**Выполните следующее задание:**

**Запишите в ответ цифры, под которыми указаны верные утверждения.**

**Задание А13.**

Изучите фрагмент из выступления премьера Госсовета КНР Ли Кэцзяна 19 марта 2019 г.:

*«В ходе реализации <вид> политики следует, с одной стороны, эффективно управлять главным «шлюзом» денежного предложения, воздерживаясь от резких мер в виде «полива большой водой», а с другой стороны, проявлять гибкость и применительно к условиям использовать разнообразные инструменты, совершенствовать ее трансмиссионный механизм, поддерживать рациональный и достаточный уровень ликвидности...»*

*Необходимо реформировать и совершенствовать механизмы денежной эмиссии и кредитования, своевременно использовать количественные и ценовые инструменты, такие как нормы обязательных резервов, процентные ставки и т.д., поощрять финансовые учреждения в расширении масштабов кредитования и снижении себестоимости кредитов».*

**Приведите ответ на следующий вопрос:**

**О какой разновидности государственной макроэкономической политики идет речь?**

**Задание А14.**

Изучите имеющиеся сведения о событиях, происходивших в 2010-е годы на рынке труда страны *Мечтании*:

1. В 2019 году только что получивший диплом выпускник вуза Макаров обратился в службу занятости с целью найти работу по специальности.
2. В 2018 году сотрудник министерства финансов Иванов отсутствовал на работе в течение трех дней по причине болезни.
3. В 2017 году в течение двух недель работники шахты «Воркутинская» не работали в связи с участием в забастовке.
4. В 2016 году квалифицированный аудитор Петров уволился по собственному желанию с целью поиска более высокооплачиваемой работы.
5. В 2015 году кондуктор Симонов потерял работу вследствие внедрения автоматической системы контроля проезда пассажиров.
6. В 2014 году стоматолог Соколов уволился в связи с планируемым переездом в другой город, где он в течение двух недель нашел работу и приступил к ней.
7. В 2013 году рабочий металлургического завода Орлов был уволен в связи с сокращением объемов производства вследствие экономического спада.
8. В 2012 году рабочий автомобильного завода Степанов был уволен в связи с внедрением промышленных роботов на производстве.
9. В 2011 году из-за конфликта с директором магазина кассир Иванова уволилась, через десять дней она приступила к работе в другом магазине на той же должности.
10. В 2010 году трубочист Стариков потерял работу в связи с завершением перевода жилого сектора на центральное отопление.

**Выполните следующее задание:**

**Выделите ситуации, соответствующие фрикционной безработице. Запишите в бланк ответа соответствующие цифры.**

**Задание А15.**

Блага, обладающие двумя свойствами — несоперничеством (потребление единицы блага одним индивидом не препятствует использованию этой же единицы другим индивидом) и неисключаемостью (не допускать кого-нибудь к пользованию благом невозможно или нецелесообразно).

**Приведите ответ на следующий вопрос:**

**О каком экономическом термине идет речь?**

**Задание А16.**

Прочитайте фрагмент из произведения И. Ильфа и Е. Петрова:

*«Александр Иванович с беспокойством видел, как деньги, которые он наживал с великими ухищрениями, превращаются в ничто.*

*Тиф валил людей тысячами, Саша торговал краденными из склада медикаментами. Он заработал на тифе пятьсот миллионов, но денежный курс за месяц превратил их в пять миллионов. На сахаре он заработал миллиард. Курс превратил эти деньги в порошок».*

**Приведите ответ на следующий вопрос:**

**О каком экономическом явлении идет речь?**

**Задание А17.**

Изучите сведения о динамике некоторых показателей внешней торговли Российской Федерации в 2013–2017 годах (по методологии платежного баланса):

показатель (в процентах к предыдущему году)	2013 г.	2014 г.	2015 г.	2016 г.	2017 г.
экспорт	98,9	95,2	68,7	82,6	125,2
импорт	101,6	90,2	62,7	99,3	124,2

**Приведите ответы на следующие вопросы:**

**В каком году из рассматриваемого периода величина импорта России (в абсолютном измерении) была максимальной?**

**Задание А18.**

Изучите фрагмент из заметки в СМИ:

*«ВВП Турции в четвертом квартале 2018 года сократился на 3% в годовом эквиваленте. Учитывая, что третий квартал завершился падением объема экономики страны на 1,6%, Турция официально вошла в зону <экономический термин> — состояния, когда экономика сокращается два квартала подряд...*

*Турецкая экономика продемонстрировала уверенный рост на протяжении последних нескольких лет, который завершился в середине 2018 года на фоне валютного кризиса».*

**Выполните следующие задания:**

**Запишите пропущенный экономический термин.**

**Задание А19.**

Прочитайте фрагмент из Соглашения о создании международной организации:

*«Функции <Организации>:*

*Организация способствует выполнению, применению и действию настоящего Соглашения и Многосторонних торговых соглашений, содействует осуществлению их целей, а также обеспечивает рамки для выполнения, применения и действия Торговых соглашений с ограниченным кругом участников.*

*Организация является форумом для переговоров между ее членами по вопросам их многосторонних торговых отношений...*

*Организация выполняет административные функции в отношении Механизма обзора торговой политики».*

*Приведите ответ на следующий вопрос:*

**О какой международной организации идет речь?**

**Задание А20.**

Изучите приведенную характеристику интеграционного объединения:

*Договор о создании данного регионального интеграционного объединения был подписан в 2014 году, вступил в силу с 1 января 2015 года. Объединяет 5 государств, численность населения которых превышает 180 млн. человек. Суммарный ВВП государств-членов объединения превышает 1,8 трлн долл. США.*

**Приведите ответ на следующий вопрос:**

**О каком интеграционном объединении идет речь в каждом фрагменте?**

РАЗДЕЛ В

**Задание В1.**

В колледже работает две категории сотрудников: преподавательский персонал (ПП) и административный персонал (АП).

Средняя заработная плата преподавательского персонала составляет 62 000 рублей в месяц, а среднемесячная заработная плата сотрудников административного персонала — 152 000 рублей в месяц.

Известно также, что среднемесячная заработная плата в колледже составляет 89 000 рублей.

*Приведите ответ на следующий вопрос:*

**Какая часть сотрудников колледжа является преподавателями?**

**Задание В2.**

Известно, что на конкурентном рынке картофеля Нилии функция спроса характеризуется зависимостью  $Q_d = a - bp$ , а предложение — зависимостью  $Q_s = c + dp$  ( $Q$  — количество, тонн в день,  $p$  — цена, рублей за кг,  $a, b, c, d$  — параметры,  $a > 0, b > 0, c > 0, d > 0$ ).

Известно, что при цене 40 рублей за кг избыток на рынке картофеля Нилии составляет 20 тонн, а равновесная цена на рынке картофеля Нилии составляет 36 рублей за кг.

*Выполните следующее задание:*

**Определите величину избыточного спроса (дефицита) на рынке картофеля Нилии при цене 30 рублей за килограмм.**

**Задание В3.**

Фирма «Ампир», занимающаяся выпуском стульев, использует труд четырех работников, производительность каждого из которых равна 12 стульям в сутки.

Известно, что заработная плата каждого работника составляет 1 500 рублей в сутки, стоимость сырья для производства одного стула — 2 400 рублей, а арендная плата за производственное помещение составляет 6 000 рублей в сутки. Других издержек (кроме указанных) компания не имеет.

*Выполните следующее задание:*

**Определите себестоимость производства одного стула (средние издержки фирмы «Ампир» в расчете на единицу продукции).**

**Задание В4.**

На начало 2018 года резервный фонд Правительства составлял 540 млрд. рублей.

В первом полугодии 2018 года было израсходовано 9/16 средств резервного фонда, в третьем квартале 2018 года — 5/9 от оставшегося объема, а в четвертом квартале 2018 года — 3/7 остатка средств. В 2018 году поступлений в резервный фонд Правительства не было.

*Выполните следующее задание:*

**Определите размер резервного фонда Правительства на конец 2018 года.**



**Задание В5.**

Предположим, что доходная часть государственного бюджета Булонии формируется за счет налоговых поступлений с предприятий и граждан Булонии и ежегодных отчислений иностранных авиакомпаний за полеты над территорией этой страны.

В 2017 году доходы бюджета составили 120 млн. дукатов, в т.ч. 20 млн. дукатов — отчисления иностранных авиакомпаний, а расходы государственного бюджета были равны 125 млн. дукатов, в т.ч. социальные трансферты — 25 млн. дукатов.

В 2018 году был введен мораторий на полеты иностранных авиакомпаний над территорией Булонии, а выплаты по программам социальных трансфертов из-за ухудшения экономической конъюнктуры увеличились в 2 раза. Других изменений в доходной и расходной частях бюджета не было.

**Выполните следующее задание:**

**Определите сальдо государственного бюджета Булонии в 2018 году.**

**Задание В6.**

В 2018 году в Зеландии применялась прогрессивная шкала взимания налога на доходы физических лиц (далее – подоходного налога): *первые 200 тыс. крон ежегодного дохода не облагались подоходным налогом; доходы от 200 тыс. до 300 тыс. крон облагались подоходным налогом по ставке 10%; для всех доходов свыше 300 тыс. крон ставка подоходного налога составляла 20%.*

Известно, что в 2018 году гражданин  $M$ , являясь честным налогоплательщиком и налоговым резидентом Зеландии, выплатил в качестве подоходного налога 15% от размера своего годового дохода. (Каких-либо налоговых льгот гражданин  $M$  не имеет.)

**Приведите ответ на следующий вопрос:**

**Определите величину суммарного дохода гражданина  $M$  за 2018 год.**

РАЗДЕЛ С

(участнику нужно выполнить только одно задание на выбор: С1, С2, С3)

**С1. Изучите проблемную ситуацию «Охотники за суперскидками» (задание на выбор):**

«Производители и ритейлеры бьют тревогу: сегодня почти половина всех товаров повседневного спроса продается с помощью промоакций, в стоимостном выражении это треть рынка. Растет и зависимость потребительского спроса от промоакций: в настоящее время 72% россиян больше обращают внимания на скидки, нежели на такие характеристики товаров, как их необходимость, полезность, натуральность...

Сегодня промоакции едва ли не ключевой инструмент привлечения потребителей в рознице. Толчок в развитии они получили примерно десять лет назад, когда активный рост экономики в нашей стране закончился, потребительский спрос начал сжиматься, а торговые сети хотели расти дальше. Первоначально ритейлеры пытались привлечь потребителей разумным соотношением цены и качества. Но в последние три – четыре года многие компании стали активно применять модель промоактивности, в результате чего теперь потребители выбирают магазины не со справедливыми ценами, а те, где они могут получить максимальную скидку.

Большинству участников рынка нынешняя ситуация с промоакциями кажется тупиковой. Конечно, с одной стороны, скидки помогают стимулировать продажи в условиях низкого спроса, с другой — желающих покупать товары только по акциям становится слишком много. *«Промо — это институциональная ловушка, из которой компаниям необходимо выходить вместе»*, — говорит Дмитрий Швецов («Nielsen Россия»).

Многие производители уверены, что растущий тренд увеличения количества ценовых акций и глубины скидок представляет для них серьезную угрозу: это недополученная прибыль акционеров, невозможность инвестировать в развитие компании, приобретение нового оборудования, внедрение новых технологий и т. д. Если не остановить нынешнюю промогонку, вскоре может произойти общее снижение качества продукции, еще большее сокращение спроса, закрытие производств и, наконец, целая череда банкротств...

Но самое печальное для производителей, что с обилием промоакций им стало труднее удерживать лояльность своим брендам.

Выбор промоакций для потребителей сейчас настолько велик, что страдают даже сами торговые сети. Более того, их собственные торговые марки напрямую конкурируют с промоакциями разных производителей...

Эксперты уверены, что эффективность промоакций низкая. 67% промо не приносят ожидаемой прибыли — в основном они увеличивают продажи, но не окупаются.

Сами же производители уверены: эффективность промоакций должна подкрепляться дополнительными маркетинговыми инструментами. Действительно, как считают аналитики, некоторые участники рынка недооценивают другие инструменты стимулирования роста».

*(по материалам журнала Эксперт, Январь 2019)*

**Выполните задания №1–3:**

**№1.** Сформулируйте определение понятия «потребительский спрос». Какие факторы оказывают влияние на поведение потребителей при принятии решения о покупке товаров?

**№2.** Что представляют собой промоакции? Чем вы можете объяснить тот факт, что ценовые промоакции стали одним из ключевых инструментов привлечения потребителей в рознице?

**№3.** Какие другие инструменты маркетинга, направленные на стимулирования спроса, могут быть эффективным дополнением к промоакциям? Свой ответ аргументируйте.

**С2. Прочитайте нижеприведенный отрывок из работы выдающегося российского экономиста А.И. Чупрова «Протекционизм и меркантилизм» (задание на выбор):**

«Таможенный протекционизм совершает ныне триумфальное шествие по всей Европе. Правительства наперерыв одно перед другим стремятся вводить новые пошлины и поднимать старые. Принцип промышленной свободы, за который с конца прошлого века боролось столько лучших умов, отбрасывается как негодная ветошь. Нельзя сказать, чтобы это движение представляло нечто новое в истории. Напротив, оно есть возвращение к прошлому, понятный шаг в ходе человеческой культуры. Ещё с конца средних веков, с того момента, как стало развиваться в обществе разделение занятий, государственная власть считала своею обязанностью обеспечивать обособившимся предприятиям верный сбыт их изделий при помощи таможенных пошлин. В эпоху так называемого меркантилизма таможенное охранение национальных промыслов сделалось одною из важнейших забот государственной власти и достигало поистине грандиозных размеров.

Современный протекционизм — лишь бледная копия с величественного оригинала, в некоторых важных отношениях стоящая далеко позади своего прототипа. Представители старого меркантилизма, в отличие от их современных эпигонов, оказывали таможенное покровительство не всем, а лишь некоторым отраслям промышленности, выбранным по строго обдуманному плану. Общее направление состояло в поощрении обрабатывающей промышленности, которая доставляла товары, особенно пригодны для вывоза за границу и требовавшие для своего производства значительного количества национального труда. Твердо стремясь к поставленной цели, политика меркантилизма старалась всячески удешевить сырье и вспомогательные материалы для промышленности. В этих видах заграничное сырье не только пропускалось внутрь страны беспошлинно, но даже искусственно привлекалось при помощи ввозных премий. — Не то теперь. Приверженцы покровительственной теории в своем усердии об охране национального производства готовы обложить пошлинами всё, что только переходит пограничную черту...

Современный протекционизм, конечно, прикрывает происшедшую перемену разными теоретическими и практическими соображениями. Так, например, обыкновенно выставляется на вид, что соперничество внутренних производителей совершенно достаточно для того, чтобы обеспечить надлежащую высоту промышленной техники и хорошее качество изделий в покровительствуемых отраслях. Но каждый по опыту может судить, насколько призрачно подобное ожидание. Есть отрасли промышленности, в которых при отсутствии подвоза товаров из-за границы не существует соперничества вследствие малочисленности производителей. Далее, во многих отраслях предпринимателям нетрудно устроить стачки. Но даже в тех случаях, когда обоих приведенных условий не налицо, обыкновенно успеет пройти немало времени, прежде нежели внутреннее соперничество окажет свое действие. В большинстве случаев между предпринимателями устанавливается как бы молчаливое соглашение, обобщающее во всех однородных заведениях один и тот же тип технического устройства, который и держится без перемен долгие годы».

**Выполните задания №1–3:**

**№1.** Сформулируйте определение понятия «внешнеторговая политика». Назовите разновидности внешнеторговой политики. С помощью каких инструментов внешнеторговой политики государство может ограничивать внешнюю торговлю?

**№2.** Какими соображениями обосновывались ограничительные меры внешнеторговой политики Российской империи на рубеже XIX-XX веков? Приведите примеры использования ограничительных инструментов внешнеторговой политики из экономической истории России.

**№3.** Обосновано ли применение защитных мер во внешней торговле России в настоящее время? Свой ответ аргументируйте.

**С3. Изучите нижеприведенный кейс «Об эксперименте по введению специального налогового режима для самозанятых» (задание на выбор):**

Постепенно государство создает все больше стимулов для граждан, работающих на себя, выйти из тени и легализоваться в качестве предпринимателя.

По разным оценкам, в России от 12 до 25 млн. человек, которые относятся к самозанятым. Неудивительно, что государство заинтересовано в том, чтобы вывести из тени в легальное поле как можно больше таких людей. В то же время есть понимание, что делать это нужно максимально осторожно, а переход в статус официального самозанятого должен быть для людей выгодным и в то же время простым и комфортным.

С 1 января 2019 года в Москве, Московской и Калужской областях и Республике Татарстан начался эксперимент по введению специального налогового режима «Налог на профессиональный доход». Налоговый режим администрируется в автоматическом режиме с помощью мобильного приложения или Личного кабинета «Мой налог». При этом самозанятому не нужно сдавать отчетность и платить фиксированные страховые взносы.

Применять специальный налоговый режим вправе физические лица, в том числе ИП и получающие доходы от деятельности, при которой они не имеют работодателя и не привлекают наемных работников. Законом определен ряд ограничений для применения данного спецрежима. Это, в том числе: реализация подакцизных товаров и товаров, подлежащих обязательной маркировке; добыча и (или) реализация полезных ископаемых; получение доходов, превышающих в текущем календарном году 2,4 миллиона рублей.

Новый режим предусматривает две налоговые ставки: 4% — при оказании услуг и продаже физическим лицам и 6% — юридическим лицам и индивидуальным предпринимателям. При этом в эти ставки уже включены отчисления в Фонд обязательного медицинского страхования. Участники этого налогового режима освобождаются от подачи налоговой декларации, применения касс, а за операции, облагаемые налогом на профессиональный доход, не нужно платить НДС и НДФЛ. Общение с налоговыми органами происходит дистанционно. Приложение автоматически сформирует чеки для клиентов, а информация о продажах в режиме онлайн поступит в налоговый орган. По итогам месяца налогоплательщику на его мобильное приложение придет информация о сумме налога, которую при его согласии спишут с банковского счета или самозанятый оплатит самостоятельно. Участники эксперимента имеют право на налоговый вычет 10 тысяч рублей, который можно использовать для уменьшения налога.

По данным Федеральной налоговой службы, за первые два месяца 2019 г. в качестве самозанятых зарегистрировалось более 33 000 человек.

По итогам первых месяцев эксперимента Минэкономразвития и Минфин предлагают распространить с 2020 года этот режим на все регионы нашей страны.

*(По материалам СМИ и сайта ФНС России)*

**Выполните задания №1–3:**

**№1.** Кто относится к категории «самозанятых»? Назовите условия, при соблюдении которых гражданин России может применять новый специальный налоговый режим. В чем выгоды специального налогового режима для самозанятых?

**№2.** Сформулируйте определение понятия «налог». С какой целью проводится данный налоговый эксперимент? Свой ответ поясните.

**№3.** Существует мнение, что уже в настоящее время целесообразно распространение специального налогового режима на всю территорию РФ. Обоснована ли данная точка зрения? Аргументируйте свой ответ.