



Innopolis Open

Олимпиада по математике
Университета Иннополис

Отборочный (заочный) этап по математике, 2 декабря 2018г.

11 класс, вариант 1.

- (5 баллов) Найдите наименьшее натуральное число n , для которого сумма остатков, при делении на 29, 41, 53 соответственно, равняется n .

Ответ: 76
- (5 баллов) Дан многочлен $P(x)$ с целыми коэффициентами. Известно, что $P(3) = 4$ и $P(4) = 3$. Какое наибольшее количество целочисленных решений может иметь уравнение $P(x) = x$?

Ответ: 0
- (7 баллов) Решите уравнение $(x+5)^{139} + (x+5)^{138}(x+16) + (x+5)^{137}(x+16)^2 + \dots + (x+16)^{139} = 0$

Ответ: -10.5
- (7 баллов) Группу с 5 юношами и 5 девушками разбили на пары случайным образом. Найдите вероятность того, что образовалась хотя бы одна пара с двумя девушками. Ответ округлите до сотых.

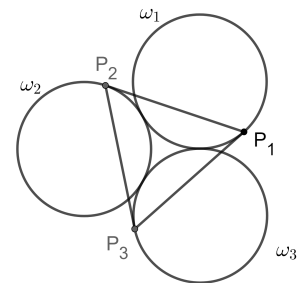
Ответ: 0.8700000000000000
- (8 баллов) Колода из 54 карт тасуется следующим образом: её делят пополам и карты первой половины располагают по одной между картами второй половины (в том же порядке). Карта на 28-ом месте становится первой, первая — второй, 29-я — третьей, вторая — четвертой и т. д. На каком месте окажется карта, первоначально находившаяся на 17-м месте, после 40 перетасовок?

Ответ: 17
- (8 баллов) В тетраэдре $ABCD$ известны: $\angle ACB = \angle ADB = 90^\circ$, $AB = 18$, $CD = \sqrt{192}$. Найдите длину отрезка DM , где M — точка пересечения медиан грани ABC .

Ответ: 10
- (10 баллов) Эники, беники или вареники. Каждый съел по 5. Известно, что беники могли бы разделить вареники между собой поровну. Эников меньше, но они тоже могли бы. Сколько в этом случае досталось бы каждому энику?

Ответ: 30
- (10 баллов) Окружности $\omega_1, \omega_2, \omega_3$ радиуса 28 касаются внешним образом друг друга. На каждой окружности выбрано по точке P_1, P_2, P_3 соответственно таким образом, что $P_1P_2 = P_2P_3 = P_3P_1$ и P_1P_2 касается ω_2 , P_2P_3 касается ω_3 , P_3P_1 касается ω_1 (см. рисунок). Площадь треугольника $P_1P_2P_3$ может быть записана в виде $\sqrt{a} + \sqrt{b}$, где a и b — натуральные числа. Найдите величину $a + b$.

Ответ: 1325352



Следующие задачи решите с обоснованием ответа

- (20 баллов) В прямоугольном параллелепипеде $ABCD A_1 B_1 C_1 D_1$ известны длины ребер $AB = 60$, $AD = 36$, $AA_1 = 40$. На середине ребра $A_1 B_1$ отмечена точка E , а на середине ребра $B_1 C_1$ — точка F . Найдите расстояние между прямыми AE и BF .

Ответ: 28.800000000000000

10. (20 баллов) Найдите все значения параметра a , при которых уравнение

$$5|x - 4a| + |x - a^2| + 4x - 3a = 0$$

не имеет решения.

Ответ: $(-\infty; -9) \cup (0; +\infty)$



Innopolis Open

Олимпиада по математике
Университета Иннополис

Отборочный (заочный) этап по математике, 2 декабря 2018г.

11 класс, вариант 2.

- (5 баллов) Найдите наименьшее натуральное число n , для которого сумма остатков, при делении на 59, 61, 67 соответственно, равняется n .

Ответ: 123
- (5 баллов) Дан многочлен $P(x)$ с целыми коэффициентами. Известно, что $P(4) = 5$ и $P(5) = 4$. Какое наибольшее количество целочисленных решений может иметь уравнение $P(x) = x$?

Ответ: 0
- (7 баллов) Решите уравнение $(x+6)^{159} + (x+6)^{158}(x+23) + (x+6)^{157}(x+23)^2 + \dots + (x+23)^{159} = 0$

Ответ: -14.5
- (7 баллов) Группу с 6 юношами и 6 девушками разбили на пары случайным образом. Найдите вероятность того, что образовалась хотя бы одна пара с двумя девушками. Ответ округлите до сотых.

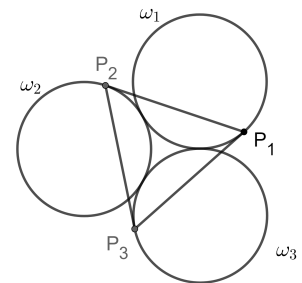
Ответ: 0.9300000000000000
- (8 баллов) Колода из 54 карт тасуется следующим образом: её делят пополам и карты первой половины располагают по одной между картами второй половины (в том же порядке). Карта на 28-ом месте становится первой, первая — второй, 29-я — третьей, вторая — четвертой и т. д. На каком месте окажется карта, первоначально находившаяся на 13-м месте, после 30 перетасовок?

Ответ: 2
- (8 баллов) В тетраэдре $ABCD$ известны: $\angle ACB = \angle ADB = 90^\circ$, $AB = 24$, $CD = \sqrt{171}$. Найдите длину отрезка DM , где M — точка пересечения медиан грани ABC .

Ответ: 11
- (10 баллов) Эники, беники ели вареники. Каждый съел по 17. Известно, что беники могли бы разделить вареники между собой поровну. Эников меньше, но они тоже могли бы. Сколько в этом случае досталось бы каждому энику?

Ответ: 306
- (10 баллов) Окружности $\omega_1, \omega_2, \omega_3$ радиуса 20 касаются внешним образом друг друга. На каждой окружности выбрано по точке P_1, P_2, P_3 соответственно таким образом, что $P_1P_2 = P_2P_3 = P_3P_1$ и P_1P_2 касается ω_2 , P_2P_3 касается ω_3 , P_3P_1 касается ω_1 (см. рисунок). Площадь треугольника $P_1P_2P_3$ может быть записана в виде $\sqrt{a} + \sqrt{b}$, где a и b — натуральные числа. Найдите величину $a + b$.

Ответ: 345000



Следующие задачи решите с обоснованием ответа

- (20 баллов) В прямоугольном параллелепипеде $ABCD A_1 B_1 C_1 D_1$ известны длины ребер $AB = 60$, $AD = 30$, $AA_1 = 15$. На середине ребра $A_1 B_1$ отмечена точка E , а на середине ребра $B_1 C_1$ — точка F . Найдите расстояние между прямыми AE и BF .

Ответ: 20.000000000000000

10. (20 баллов) Найдите все значения параметра a , при которых уравнение

$$7|x - 4a| + |x - a^2| + 6x - 2a = 0$$

не имеет решения.

Ответ: $(-\infty; -18) \cup (0; +\infty)$



Innopolis Open

Олимпиада по математике
Университета Иннополис

Отборочный (заочный) этап по математике, 2 декабря 2018г.

11 класс, вариант 3.

- (5 баллов) Найдите наименьшее натуральное число n , для которого сумма остатков, при делении на 43, 53, 61 соответственно, равняется n .

Ответ: 100
- (5 баллов) Дан многочлен $P(x)$ с целыми коэффициентами. Известно, что $P(5) = 6$ и $P(6) = 5$. Какое наибольшее количество целочисленных решений может иметь уравнение $P(x) = x$?

Ответ: 0
- (7 баллов) Решите уравнение $(x+7)^{179} + (x+7)^{178}(x+20) + (x+7)^{177}(x+20)^2 + \dots + (x+20)^{179} = 0$

Ответ: -13.5
- (7 баллов) Группу с 7 юношами и 7 девушками разбили на пары случайным образом. Найдите вероятность того, что образовалась хотя бы одна пара с двумя девушками. Ответ округлите до сотых.

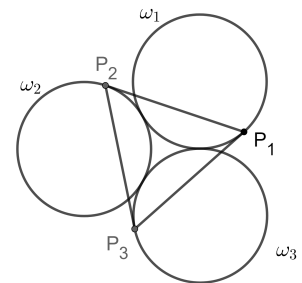
Ответ: 0.9600000000000000
- (8 баллов) Колода из 54 карт тасуется следующим образом: её делят пополам и карты первой половины располагают по одной между картами второй половины (в том же порядке). Карта на 28-ом месте становится первой, первая — второй, 29-я — третьей, вторая — четвертой и т. д. На каком месте окажется карта, первоначально находившаяся на 17-м месте, после 23 перетасовок?

Ответ: 26
- (8 баллов) В тетраэдре $ABCD$ известны: $\angle ACB = \angle ADB = 90^\circ$, $AB = 30$, $CD = \sqrt{132}$. Найдите длину отрезка DM , где M — точка пересечения медиан грани ABC .

Ответ: 12
- (10 баллов) Эники, беники ели вареники. Каждый съел по 19. Известно, что беники могли бы разделить вареники между собой поровну. Эников меньше, но они тоже могли бы. Сколько в этом случае досталось бы каждому энику?

Ответ: 380
- (10 баллов) Окружности $\omega_1, \omega_2, \omega_3$ радиуса 12 касаются внешним образом друг друга. На каждой окружности выбрано по точке P_1, P_2, P_3 соответственно таким образом, что $P_1P_2 = P_2P_3 = P_3P_1$ и P_1P_2 касается ω_2 , P_2P_3 касается ω_3 , P_3P_1 касается ω_1 (см. рисунок). Площадь треугольника $P_1P_2P_3$ может быть записана в виде $\sqrt{a} + \sqrt{b}$, где a и b — натуральные числа. Найдите величину $a + b$.

Ответ: 44712



Следующие задачи решите с обоснованием ответа

- (20 баллов) В прямоугольном параллелепипеде $ABCD A_1 B_1 C_1 D_1$ известны длины ребер $AB = 54$, $AD = 90$, $AA_1 = 60$. На середине ребра $A_1 B_1$ отмечена точка E , а на середине ребра $B_1 C_1$ — точка F . Найдите расстояние между прямыми AE и BF .

Ответ: 43.2000000000000000

10. (20 баллов) Найдите все значения параметра a , при которых уравнение

$$6|x - 4a| + |x - a^2| + 5x - 4a = 0$$

не имеет решения.

Ответ: $(-\infty; -12) \cup (0; +\infty)$



Innopolis Open

Олимпиада по математике
Университета Иннополис

Отборочный (заочный) этап по математике, 2 декабря 2018г.

11 класс, вариант 4.

- (5 баллов) Найдите наименьшее натуральное число n , для которого сумма остатков, при делении на 47, 59, 67 соответственно, равняется n .

Ответ: 110
- (5 баллов) Дан многочлен $P(x)$ с целыми коэффициентами. Известно, что $P(7) = 8$ и $P(8) = 7$. Какое наибольшее количество целочисленных решений может иметь уравнение $P(x) = x$?

Ответ: 0
- (7 баллов) Решите уравнение $(x+8)^{169} + (x+8)^{168}(x+23) + (x+8)^{167}(x+23)^2 + \dots + (x+23)^{169} = 0$

Ответ: -15.5
- (7 баллов) Группу с 8 юношами и 8 девушками разбили на пары случайным образом. Найдите вероятность того, что образовалась хотя бы одна пара с двумя девушками. Ответ округлите до сотых.

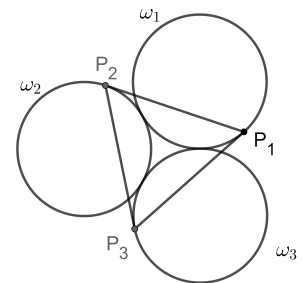
Ответ: 0.9800000000000000
- (8 баллов) Колода из 54 карт тасуется следующим образом: её делят пополам и карты первой половины располагают по одной между картами второй половины (в том же порядке). Карта на 28-ом месте становится первой, первая — второй, 29-я — третьей, вторая — четвертой и т. д. На каком месте окажется карта, первоначально находившаяся на 19-м месте, после 50 перетасовок?

Ответ: 41
- (8 баллов) В тетраэдре $ABCD$ известны: $\angle ACB = \angle ADB = 90^\circ$, $AB = 36$, $CD = \sqrt{75}$. Найдите длину отрезка DM , где M — точка пересечения медиан грани ABC .

Ответ: 13
- (10 баллов) Эники, беники ели вареники. Каждый съел по 29. Известно, что беники могли бы разделить вареники между собой поровну. Эников меньше, но они тоже могли бы. Сколько в этом случае досталось бы каждому энику?

Ответ: 870
- (10 баллов) Окружности $\omega_1, \omega_2, \omega_3$ радиуса 16 касаются внешним образом друг друга. На каждой окружности выбрано по точке P_1, P_2, P_3 соответственно таким образом, что $P_1P_2 = P_2P_3 = P_3P_1$ и P_1P_2 касается ω_2 , P_2P_3 касается ω_3 , P_3P_1 касается ω_1 (см. рисунок). Площадь треугольника $P_1P_2P_3$ может быть записана в виде $\sqrt{a} + \sqrt{b}$, где a и b — натуральные числа. Найдите величину $a + b$.

Ответ: 141312



Следующие задачи решите с обоснованием ответа

- (20 баллов) В прямоугольном параллелепипеде $ABCD A_1 B_1 C_1 D_1$ известны длины ребер $AB = 48$, $AD = 24$, $AA_1 = 12$. На середине ребра $A_1 B_1$ отмечена точка E , а на середине ребра $B_1 C_1$ — точка F . Найдите расстояние между прямыми AE и BF .

Ответ: 16.000000000000000

10. (20 баллов) Найдите все значения параметра a , при которых уравнение

$$8|x - 4a| + |x - a^2| + 7x - 3a = 0$$

не имеет решения.

Ответ: $(-\infty; -21) \cup (0; +\infty)$



Innopolis Open

Олимпиада по математике
Университета Иннополис

Отборочный (заочный) этап по математике, 2 декабря 2018г.

11 класс, вариант 5.

1. (5 баллов) Найдите наименьшее натуральное число n , для которого сумма остатков, при делении на 37, 41, 53 соответственно, равняется n .

Ответ: 84

2. (5 баллов) Дан многочлен $P(x)$ с целыми коэффициентами. Известно, что $P(9) = 10$ и $P(10) = 9$. Какое наибольшее количество целочисленных решений может иметь уравнение $P(x) = x$?

Ответ: 0

3. (7 баллов) Решите уравнение $(x+9)^{149} + (x+9)^{148}(x+11) + (x+9)^{147}(x+11)^2 + \dots + (x+11)^{149} = 0$

Ответ: -10

4. (7 баллов) Группу с 9 юношами и 9 девушками разбили на пары случайным образом. Найдите вероятность того, что образовалась хотя бы одна пара с двумя девушками. Ответ округлите до сотых.

Ответ: 0.9900000000000000

5. (8 баллов) Колода из 54 карт тасуется следующим образом: её делят пополам и карты первой половины располагают по одной между картами второй половины (в том же порядке). Карта на 28-ом месте становится первой, первая — второй, 29-я — третьей, вторая — четвертой и т. д. На каком месте окажется карта, первоначально находившаяся на 23-м месте, после 40 перетасовок?

Ответ: 23

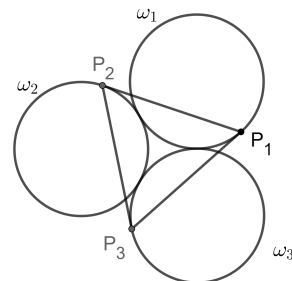
6. (8 баллов) В тетраэдре $ABCD$ известны: $\angle ACB = \angle ADB = 90^\circ$, $AB = 18$, $CD = \sqrt{84}$. Найдите длину отрезка DM , где M — точка пересечения медиан грани ABC .

Ответ: 8

7. (10 баллов) Эники, беники ели вареники. Каждый съел по 31. Известно, что беники могли бы разделить вареники между собой поровну. Эников меньше, но они тоже могли бы. Сколько в этом случае досталось бы каждому энику?

Ответ: 992

8. (10 баллов) Окружности $\omega_1, \omega_2, \omega_3$ радиуса 24 касаются внешним образом друг друга. На каждой окружности выбрано по точке P_1, P_2, P_3 соответственно таким образом, что $P_1P_2 = P_2P_3 = P_3P_1$ и P_1P_2 касается ω_2 , P_2P_3 касается ω_3 , P_3P_1 касается ω_1 (см. рисунок). Площадь треугольника $P_1P_2P_3$ может быть записана в виде $\sqrt{a} + \sqrt{b}$, где a и b — натуральные числа. Найдите величину $a + b$.



Ответ: 715392

Следующие задачи решите с обоснованием ответа

9. (20 баллов) В прямоугольном параллелепипеде $ABCD A_1 B_1 C_1 D_1$ известны длины ребер $AB = 42$, $AD = 126$, $AA_1 = 42$. На середине ребра $A_1 B_1$ отмечена точка E , а на середине ребра $B_1 C_1$ — точка F . Найдите расстояние между прямыми AE и BF .

Ответ: 36.000000000000000

10. (20 баллов) Найдите все значения параметра a , при которых уравнение

$$9|x - 4a| + |x - a^2| + 8x - 2a = 0$$

не имеет решения.

Ответ: $(-\infty; -26) \cup (0; +\infty)$



Innopolis Open

Олимпиада по математике
Университета Иннополис

Отборочный (заочный) этап по математике, 2 декабря 2018г.

11 класс, вариант 6.

- (5 баллов) Найдите наименьшее натуральное число n , для которого сумма остатков, при делении на 41, 53, 59 соответственно, равняется n .

Ответ: 97
- (5 баллов) Дан многочлен $P(x)$ с целыми коэффициентами. Известно, что $P(11) = 12$ и $P(12) = 11$. Какое наибольшее количество целочисленных решений может иметь уравнение $P(x) = x$?

Ответ: 0
- (7 баллов) Решите уравнение $(x+5)^{129} + (x+5)^{128}(x+14) + (x+5)^{127}(x+14)^2 + \dots + (x+14)^{129} = 0$

Ответ: -9.5
- (7 баллов) Группу с 7 юношами и 7 девушками разбили на пары случайным образом. Найдите вероятность того, что образовалась хотя бы одна пара с двумя девушками. Ответ округлите до сотых.

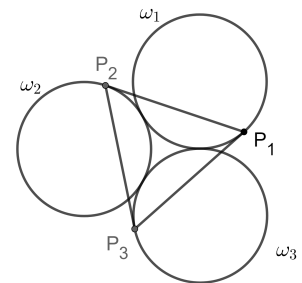
Ответ: 0.9600000000000000
- (8 баллов) Колода из 54 карт тасуется следующим образом: её делят пополам и карты первой половины располагают по одной между картами второй половины (в том же порядке). Карта на 28-ом месте становится первой, первая — второй, 29-я — третьей, вторая — четвертой и т. д. На каком месте окажется карта, первоначально находившаяся на 17-м месте, после 30 перетасовок?

Ответ: 28
- (8 баллов) В тетраэдре $ABCD$ известны: $\angle ACB = \angle ADB = 90^\circ$, $AB = 24$, $CD = \sqrt{51}$. Найдите длину отрезка DM , где M — точка пересечения медиан грани ABC .

Ответ: 9
- (10 баллов) Эники, беники или вареники. Каждый съел по 7. Известно, что беники могли бы разделить вареники между собой поровну. Эников меньше, но они тоже могли бы. Сколько в этом случае досталось бы каждому энику?

Ответ: 56
- (10 баллов) Окружности $\omega_1, \omega_2, \omega_3$ радиуса 36 касаются внешним образом друг друга. На каждой окружности выбрано по точке P_1, P_2, P_3 соответственно таким образом, что $P_1P_2 = P_2P_3 = P_3P_1$ и P_1P_2 касается ω_2 , P_2P_3 касается ω_3 , P_3P_1 касается ω_1 (см. рисунок). Площадь треугольника $P_1P_2P_3$ может быть записана в виде $\sqrt{a} + \sqrt{b}$, где a и b — натуральные числа. Найдите величину $a + b$.

Ответ: 3621672



Следующие задачи решите с обоснованием ответа

- (20 баллов) В прямоугольном параллелепипеде $ABCD A_1 B_1 C_1 D_1$ известны длины ребер $AB = 30$, $AD = 32$, $AA_1 = 20$. На середине ребра $A_1 B_1$ отмечена точка E , а на середине ребра $B_1 C_1$ — точка F . Найдите расстояние между прямыми AE и BF .

Ответ: 19.200000000000000

10. (20 баллов) Найдите все значения параметра a , при которых уравнение

$$8|x - 4a| + |x - a^2| + 7x - 2a = 0$$

не имеет решения.

Ответ: $(-\infty; -22) \cup (0; +\infty)$



Innopolis Open

Олимпиада по математике
Университета Иннополис

Отборочный (заочный) этап по математике, 2 декабря 2018г.

11 класс, вариант 7.

1. (5 баллов) Найдите наименьшее натуральное число n , для которого сумма остатков, при делении на 31, 41, 47 соответственно, равняется n .

Ответ: 75

2. (5 баллов) Дан многочлен $P(x)$ с целыми коэффициентами. Известно, что $P(6) = 7$ и $P(7) = 6$. Какое наибольшее количество целочисленных решений может иметь уравнение $P(x) = x$?

Ответ: 0

3. (7 баллов) Решите уравнение $(x+6)^{109} + (x+6)^{108}(x+11) + (x+6)^{107}(x+11)^2 + \dots + (x+11)^{109} = 0$

Ответ: -8.5

4. (7 баллов) Группу с 5 юношами и 5 девушками разбили на пары случайным образом. Найдите вероятность того, что образовалась хотя бы одна пара с двумя девушками. Ответ округлите до сотых.

Ответ: 0.8700000000000000

5. (8 баллов) Колода из 54 карт тасуется следующим образом: её делят пополам и карты первой половины располагают по одной между картами второй половины (в том же порядке). Карта на 28-ом месте становится первой, первая — второй, 29-я — третьей, вторая — четвертой и т. д. На каком месте окажется карта, первоначально находившаяся на 11-м месте, после 20 перетасовок?

Ответ: 11

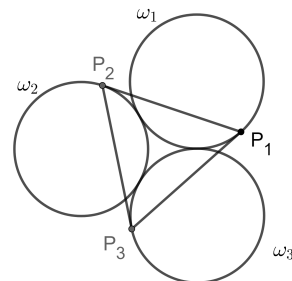
6. (8 баллов) В тетраэдре $ABCD$ известны: $\angle ACB = \angle ADB = 90^\circ$, $AB = 30$, $CD = \sqrt{207}$. Найдите длину отрезка DM , где M — точка пересечения медиан грани ABC .

Ответ: 13

7. (10 баллов) Эники, беники ели вареники. Каждый съел по 11. Известно, что беники могли бы разделить вареники между собой поровну. Эников меньше, но они тоже могли бы. Сколько в этом случае досталось бы каждому энику?

Ответ: 132

8. (10 баллов) Окружности $\omega_1, \omega_2, \omega_3$ радиуса 32 касаются внешним образом друг друга. На каждой окружности выбрано по точке P_1, P_2, P_3 соответственно таким образом, что $P_1P_2 = P_2P_3 = P_3P_1$ и P_1P_2 касается ω_2 , P_2P_3 касается ω_3 , P_3P_1 касается ω_1 (см. рисунок). Площадь треугольника $P_1P_2P_3$ может быть записана в виде $\sqrt{a} + \sqrt{b}$, где a и b — натуральные числа. Найдите величину $a + b$.



Ответ: 2260992

Следующие задачи решите с обоснованием ответа

9. (20 баллов) В прямоугольном параллелепипеде $ABCD A_1 B_1 C_1 D_1$ известны длины ребер $AB = 18$, $AD = 36$, $AA_1 = 9$. На середине ребра $A_1 B_1$ отмечена точка E , а на середине ребра $B_1 C_1$ — точка F . Найдите расстояние между прямыми AE и BF .

Ответ: 12.000000000000000

10. (20 баллов) Найдите все значения параметра a , при которых уравнение

$$7|x - 4a| + |x - a^2| + 6x - 3a = 0$$

не имеет решения.

Ответ: $(-\infty; -17) \cup (0; +\infty)$



Innopolis Open

Олимпиада по математике
Университета Иннополис

Отборочный (заочный) этап по математике, 2 декабря 2018г.

11 класс, вариант 8.

- (5 баллов) Найдите наименьшее натуральное число n , для которого сумма остатков, при делении на 47, 61, 71 соответственно, равняется n .

Ответ: 113
- (5 баллов) Дан многочлен $P(x)$ с целыми коэффициентами. Известно, что $P(8) = 9$ и $P(9) = 8$. Какое наибольшее количество целочисленных решений может иметь уравнение $P(x) = x$?

Ответ: 0
- (7 баллов) Решите уравнение $(x+7)^{89} + (x+7)^{88}(x+25) + (x+7)^{87}(x+25)^2 + \dots + (x+25)^{89} = 0$

Ответ: -16
- (7 баллов) Группу с 6 юношами и 6 девушками разбили на пары случайным образом. Найдите вероятность того, что образовалась хотя бы одна пара с двумя девушками. Ответ округлите до сотых.

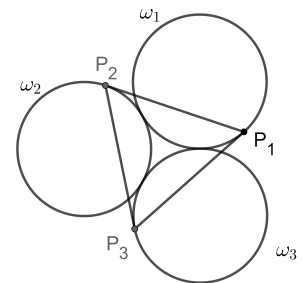
Ответ: 0.9300000000000000
- (8 баллов) Колода из 54 карт тасуется следующим образом: её делят пополам и карты первой половины располагают по одной между картами второй половины (в том же порядке). Карта на 28-ом месте становится первой, первая — второй, 29-я — третьей, вторая — четвертой и т. д. На каком месте окажется карта, первоначально находившаяся на 7-м месте, после 50 перетасовок?

Ответ: 18
- (8 баллов) В тетраэдре $ABCD$ известны: $\angle ACB = \angle ADB = 90^\circ$, $AB = 36$, $CD = \sqrt{435}$. Найдите длину отрезка DM , где M — точка пересечения медиан грани ABC .

Ответ: 17
- (10 баллов) Эники, беники ели вареники. Каждый съел по 13. Известно, что беники могли бы разделить вареники между собой поровну. Эников меньше, но они тоже могли бы. Сколько в этом случае досталось бы каждому энику?

Ответ: 182
- (10 баллов) Окружности $\omega_1, \omega_2, \omega_3$ радиуса 40 касаются внешним образом друг друга. На каждой окружности выбрано по точке P_1, P_2, P_3 соответственно таким образом, что $P_1P_2 = P_2P_3 = P_3P_1$ и P_1P_2 касается ω_2 , P_2P_3 касается ω_3 , P_3P_1 касается ω_1 (см. рисунок). Площадь треугольника $P_1P_2P_3$ может быть записана в виде $\sqrt{a} + \sqrt{b}$, где a и b — натуральные числа. Найдите величину $a + b$.

Ответ: 5520000



Следующие задачи решите с обоснованием ответа

- (20 баллов) В прямоугольном параллелепипеде $ABCD A_1 B_1 C_1 D_1$ известны длины ребер $AB = 18$, $AD = 30$, $AA_1 = 20$. На середине ребра $A_1 B_1$ отмечена точка E , а на середине ребра $B_1 C_1$ — точка F . Найдите расстояние между прямыми AE и BF .

Ответ: 14.400000000000000

10. (20 баллов) Найдите все значения параметра a , при которых уравнение

$$6|x - 4a| + |x - a^2| + 5x - 3a = 0$$

не имеет решения.

Ответ: $(-\infty; -13) \cup (0; +\infty)$



Innopolis Open

Олимпиада по математике
Университета Иннополис

Отборочный (заочный) этап по математике, 2 декабря 2018г.

11 класс, вариант 9.

1. (5 баллов) Найдите наименьшее натуральное число n , для которого сумма остатков, при делении на 41, 47, 53 соответственно, равняется n .

Ответ: 91

2. (5 баллов) Дан многочлен $P(x)$ с целыми коэффициентами. Известно, что $P(10) = 11$ и $P(11) = 10$. Какое наибольшее количество целочисленных решений может иметь уравнение $P(x) = x$?

Ответ: 0

3. (7 баллов) Решите уравнение $(x+8)^{99} + (x+8)^{98}(x+26) + (x+8)^{97}(x+26)^2 + \dots + (x+26)^{99} = 0$

Ответ: -17

4. (7 баллов) Группу с 8 юношами и 8 девушками разбили на пары случайным образом. Найдите вероятность того, что образовалась хотя бы одна пара с двумя девушками. Ответ округлите до сотых.

Ответ: 0.9800000000000000

5. (8 баллов) Колода из 54 карт тасуется следующим образом: её делят пополам и карты первой половины располагают по одной между картами второй половины (в том же порядке). Карта на 28-ом месте становится первой, первая — второй, 29-я — третьей, вторая — четвертой и т. д. На каком месте окажется карта, первоначально находившаяся на 27-м месте, после 40 перетасовок?

Ответ: 27

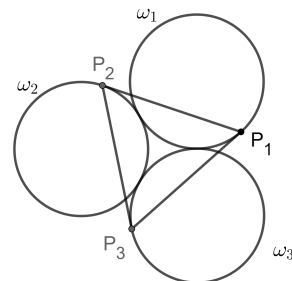
6. (8 баллов) В тетраэдре $ABCD$ известны: $\angle ACB = \angle ADB = 90^\circ$, $AB = 18$, $CD = \sqrt{39}$. Найдите длину отрезка DM , где M — точка пересечения медиан грани ABC .

Ответ: 7

7. (10 баллов) Эники, беники ели вареники. Каждый съел по 23. Известно, что беники могли бы разделить вареники между собой поровну. Эников меньше, но они тоже могли бы. Сколько в этом случае досталось бы каждому энику?

Ответ: 552

8. (10 баллов) Окружности $\omega_1, \omega_2, \omega_3$ радиуса 44 касаются внешним образом друг друга. На каждой окружности выбрано по точке P_1, P_2, P_3 соответственно таким образом, что $P_1P_2 = P_2P_3 = P_3P_1$ и P_1P_2 касается ω_2 , P_2P_3 касается ω_3 , P_3P_1 касается ω_1 (см. рисунок). Площадь треугольника $P_1P_2P_3$ может быть записана в виде $\sqrt{a} + \sqrt{b}$, где a и b — натуральные числа. Найдите величину $a + b$.



Ответ: 8081832

Следующие задачи решите с обоснованием ответа

9. (20 баллов) В прямоугольном параллелепипеде $ABCD A_1 B_1 C_1 D_1$ известны длины ребер $AB = 14$, $AD = 60$, $AA_1 = 40$. На середине ребра $A_1 B_1$ отмечена точка E , а на середине ребра $B_1 C_1$ — точка F . Найдите расстояние между прямыми AE и BF .

Ответ: 13.440000000000000

10. (20 баллов) Найдите все значения параметра a , при которых уравнение

$$5|x - 4a| + |x - a^2| + 4x - 4a = 0$$

не имеет решения.

Ответ: $(-\infty; -8) \cup (0; +\infty)$



Innopolis Open

Олимпиада по математике
Университета Иннополис

Отборочный (заочный) этап по математике, 2 декабря 2018г.

11 класс, вариант 10.

- (5 баллов) Найдите наименьшее натуральное число n , для которого сумма остатков, при делении на 43, 59, 71 соответственно, равняется n .

Ответ: 108
- (5 баллов) Дан многочлен $P(x)$ с целыми коэффициентами. Известно, что $P(2) = 3$ и $P(3) = 2$. Какое наибольшее количество целочисленных решений может иметь уравнение $P(x) = x$?

Ответ: 0
- (7 баллов) Решите уравнение $(x+9)^{119} + (x+9)^{118}(x+27) + (x+9)^{117}(x+27)^2 + \dots + (x+27)^{119} = 0$

Ответ: -18
- (7 баллов) Группу с 4 юношами и 4 девушками разбили на пары случайным образом. Найдите вероятность того, что образовалась хотя бы одна пара с двумя девушками. Ответ округлите до сотых.

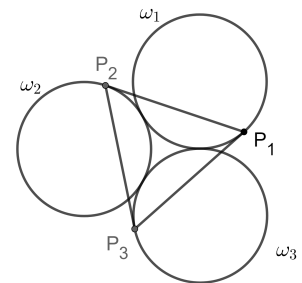
Ответ: 0.7700000000000000
- (8 баллов) Колода из 54 карт тасуется следующим образом: её делят пополам и карты первой половины располагают по одной между картами второй половины (в том же порядке). Карта на 28-ом месте становится первой, первая — второй, 29-я — третьей, вторая — четвертой и т. д. На каком месте окажется карта, первоначально находившаяся на 8-м месте, после 30 перетасовок?

Ответ: 52
- (8 баллов) В тетраэдре $ABCD$ известны: $\angle ACB = \angle ADB = 90^\circ$, $AB = 24$, $CD = \sqrt{396}$. Найдите длину отрезка DM , где M — точка пересечения медиан грани ABC .

Ответ: 14
- (10 баллов) Эники, беники ели вареники. Каждый съел по 37. Известно, что беники могли бы разделить вареники между собой поровну. Эников меньше, но они тоже могли бы. Сколько в этом случае досталось бы каждому энику?

Ответ: 1406
- (10 баллов) Окружности $\omega_1, \omega_2, \omega_3$ радиуса 8 касаются внешним образом друг друга. На каждой окружности выбрано по точке P_1, P_2, P_3 соответственно таким образом, что $P_1P_2 = P_2P_3 = P_3P_1$ и P_1P_2 касается ω_2 , P_2P_3 касается ω_3 , P_3P_1 касается ω_1 (см. рисунок). Площадь треугольника $P_1P_2P_3$ может быть записана в виде $\sqrt{a} + \sqrt{b}$, где a и b — натуральные числа. Найдите величину $a + b$.

Ответ: 8832



Следующие задачи решите с обоснованием ответа

- (20 баллов) В прямоугольном параллелепипеде $ABCD A_1 B_1 C_1 D_1$ известны длины ребер $AB = 12$, $AD = 24$, $AA_1 = 6$. На середине ребра $A_1 B_1$ отмечена точка E , а на середине ребра $B_1 C_1$ — точка F . Найдите расстояние между прямыми AE и BF .

Ответ: 8.0000000000000000

10. (20 баллов) Найдите все значения параметра a , при которых уравнение

$$9|x - 4a| + |x - a^2| + 8x - 4a = 0$$

не имеет решения.

Ответ: $(-\infty; -24) \cup (0; +\infty)$