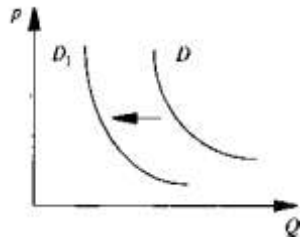


Задания Олимпиады по Обществознанию. Очный тур. 2013 год.

1. На рисунке отражена ситуация на рынке телевизоров:

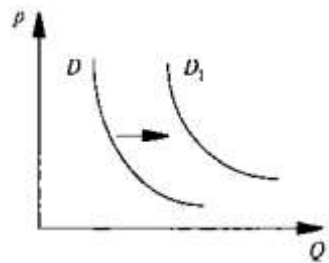


линия спроса D переместилась в новое положение D_1 (P — цена товара, Q — объем спроса товара).

Это перемещение может быть вызвано в первую очередь

- А) снижением доходов потребителей
- Б) увеличением налогов на производителей телевизоров
- В) удешевлением технологии производства телевизоров
- Г) увеличением количества магазинов, торгующих телевизорами

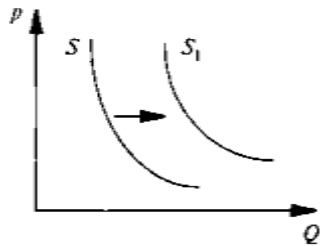
2. На рисунке отражена ситуация на рынке аудиотехники:



линия спроса D переместилась в новое положение D_1 (P — цена товара, Q — объем спроса товара). Это перемещение может быть связано в первую очередь с

- А) увеличением количества магазинов, торгующих аудиотехникой
- Б) удорожанием технологии производства аудиотехники
- В) увеличением налогов на производителей аудиотехники
- Г) увеличением доходов потребителей

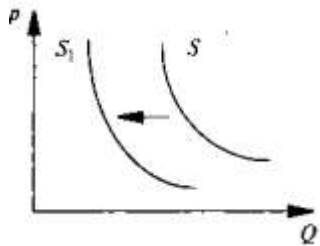
3. На рисунке отражена ситуация на рынке производителей косметики:



линия предложения S переместилась в новое положение S_1 (P — цена товара, Q — объем предложения товара). Это перемещение может быть связано в первую очередь с

- А) увеличением доходов потребителей
- Б) сокращением количества потребителей
- В) снижением налогов на производителей косметики
- Г) закрытием ряда косметических фирм

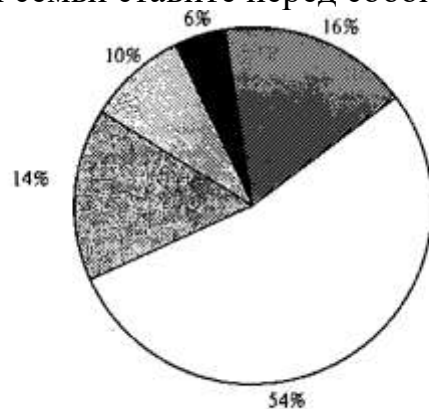
4. На рисунке отражена ситуация на рынке трикотажа:



линия предложения S переместилась в новое положение S_1 (P — цена товара, Q — объем предложения товара). Это перемещение может быть связано в первую очередь с

- А) увеличением доходов потребителей
- Б) уменьшением количества покупателей трикотажных изделий
- В) увеличением налогов на производителей трикотажа
- Г) изменением вкусов покупателей трикотажных изделий

5. В стране М. социологической службой был проведён опрос совершеннолетних граждан. Им задавали вопрос: «Какие цели вы как член семьи ставите перед собой?». Результаты опроса представлены в диаграмме.



- — выжить
- — жить не хуже других семей страны М.
- ▒ — жить лучше других семей страны М.
- ▓ — жить так, как живёт средняя семья в современной развитой стране
- — жить лучше, чем средняя семья в современной развитой стране

- А) Большинство опрошенных находится ниже черты бедности.
- Б) Более половины опрошенных сравнивает своё материальное положение с другими жителями страны М.
- В) Большинство опрошенных ориентировано на стандарты потребления современных развитых стран.
- Г) В стране М. увеличилась численность среднего класса.

6. В стране Д. социологической службой был проведён опрос 30-летних мужчин и женщин. Им задавали вопрос: «Кто должен быть главой семьи?». Результаты опроса представлены в гистограмме.

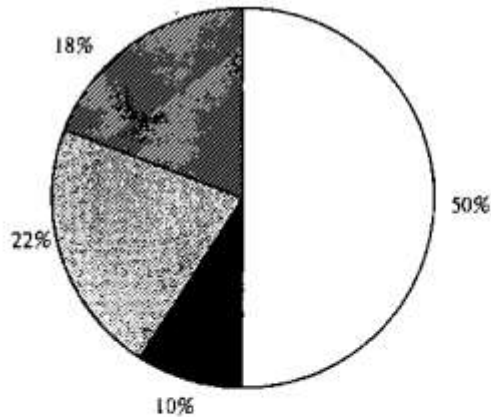


- — у всех членов семьи равные права
- — муж
- — жена
- ▒ — старшие родственники

В средствах массовой информации были представлены различные интерпретации данных опроса. Ниже приведены некоторые мнения. Какая из журналистских оценок реально (фактически) опирается на информацию, содержащуюся в гистограмме?

- А) Женщины в большей степени, чем мужчины, стремятся к партнёрским отношениям в семье.
- Б) Женщины предпочитают заниматься исключительно домашним хозяйством.
- В) Большинство опрошенных является сторонниками патриархальной семьи.
- Г) Среди опрошенных большинство сторонников главенствующей роли мужчины в семье.

7. В стране К. социологической службой был проведён опрос совершеннолетних граждан. Им задавали вопрос: «Какую функцию политической власти вы видите в качестве приоритетной?». Результаты опроса представлены в диаграмме.



- — поддержание целостности и единства общества
- ▨ — обеспечение социальных норм, правил деятельности людей в обществе
- ▤ — поддержание общественного порядка
- — обеспечение господства определённых социальных групп в обществе

Проанализируйте данные диаграммы и выберите верное утверждение.


А) Меньшее количество опрошенных видит обеспечение социальных норм, правил деятельности людей в обществе в качестве приоритетной функции политической власти.

Б) По результатам опроса второе место в качестве приоритетной функции политической власти заняло поддержание общественного порядка.

В) За поддержание общественного порядка в качестве приоритетной функции политической власти высказалось столько же опрошенных, сколько за обеспечение социальных норм, правил деятельности людей в обществе и обеспечение господства определённых социальных групп в обществе.

Г) Более половины опрошенных видит в качестве приоритетной функции политической власти поддержание целостности и единства общества.

8. В стране И. социологической службой был проведён в 1999 г. и 2009 г. опрос совершеннолетних граждан. Им задавали вопрос: «Какую внутреннюю функцию государства вы считаете наиболее значимой в современных условиях?».



Результаты опроса представлены в гистограмме.

Проанализируйте данные гистограммы и выберите верное утверждение.


А) Уменьшилось количество лиц, считающих консолидацию общества наиболее значимой внутренней функцией государства в современных условиях.

Б) Увеличилось число лиц, считающих обеспечение народоуластия наиболее значимой внутренней функцией государства в современных условиях.

В) Четверть опрошенных в 2009 г. отметила регулирование экономических отношений в качестве наиболее значимой внутренней функции государства в современных условиях.

Г) По результатам опроса 1999 г. консолидация общества как наиболее значимая функция государства в современных условиях заняла четвёртое по популярности место.

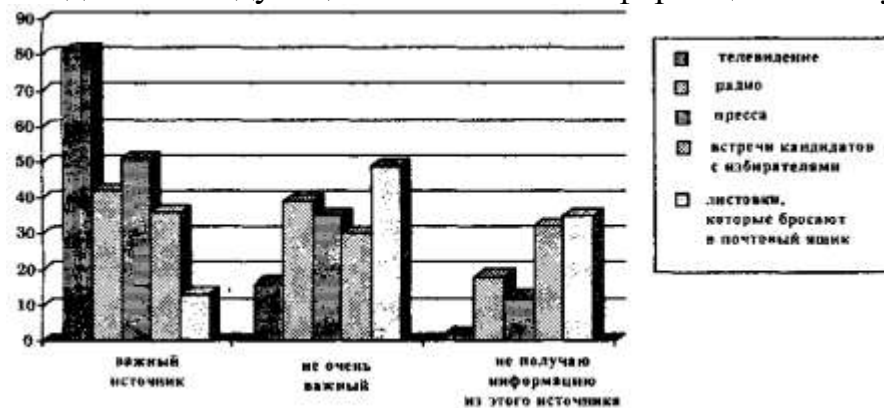
9. В стране Л. социологической службой был проведён опрос совершеннолетних граждан. Им задавали вопрос: «Какую функцию морали вы считаете определяющей в жизни общества?». Результаты опроса представлены в гистограмме.



Проанализируйте данные гистограммы и выберите верное утверждение.

- А) Четверть опрошенных видит определяющую функцию морали в жизни общества в мотивации поведения человека.
- Б) На третьем по популярности месте среди функций морали в жизни общества оказалось обеспечение единства и согласованности взаимодействия людей.
- В) Число опрошенных, которые назвали мотивацию поведения человека в качестве определяющей функции морали в жизни общества, больше, чем тех, кто выбрал утверждение человеческого в человеке.
- Г) Регулирование поведения человека в обществе в качестве определяющей функции морали отметило столько же опрошенных, сколько указали на утверждение человеческого в человеке и обеспечение единства и согласованности взаимодействия людей.

10. Ниже приведены данные опроса, проведенного Всероссийским центром изучения общественного мнения (ВЦИОМ). Респондентам был задан вопрос: «Является ли для Вас важным или не очень важным во время избирательных кампаний каждый из следующих источников информации?». Результаты опроса представлены в гистограмме (в %).



Какой вывод можно сделать на основании представленных данных?

- А) Основная масса респондентов получает информацию из телевизионных передач.
- Б) Более половины респондентов не читают прессу и не получают информацию из нее.
- В) Только десятая часть опрошенных по тем или иным причинам не смогла участвовать во встречах кандидатов с избирателями.
- Г) В качестве источника информации радио пользуется такой же популярностью у опрошенных, как и телевидение.

11. Сравните данные двух диаграмм, свидетельствующие о доле населения с минимальными доходами в последнее десятилетие XX века в России. Какие изменения в социально-экономическом развитии страны отражают эти данные?

1990 г. — 6%



2000 г. — 30%

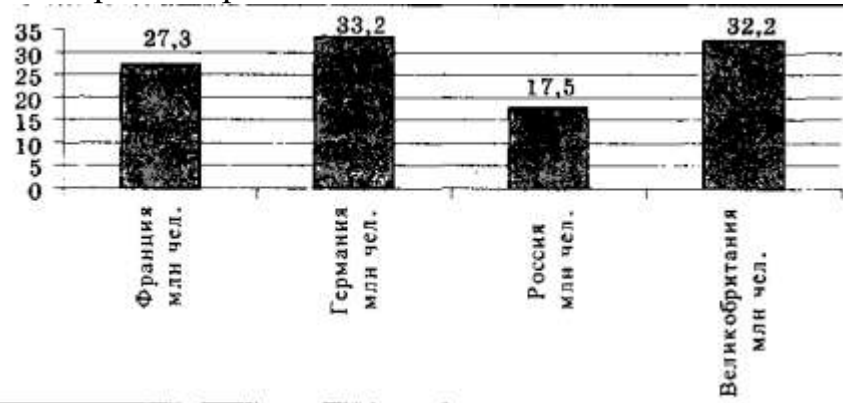


Общая численность населения

Беднейшая часть населения

- А) отставание роста заработной платы от роста цен
- Б) расширение государственной социальной поддержки населения
- В) рост неравенства в распределении доходов
- Г) снижение покупательной способности

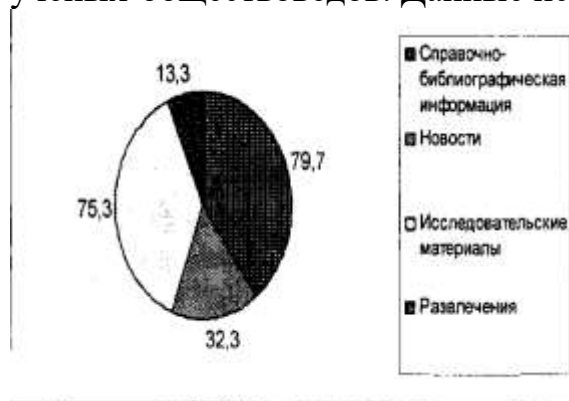
12. В диаграмме приведены данные о численности пользователей Интернетом в некоторых европейских странах.



Какой вывод можно сделать на основании этих данных?

- А) По числу пользователей Интернетом в Европе лидирует Германия.
- Б) Аудитория Интернет-пользователей в Великобритании больше, чем в России, но меньше, чем во Франции.
- В) Количество пользователей Интернетом в России меньше, чем в Германии, но больше, чем во Франции.
- Г) Количество пользователей Интернетом в Германии превышает совокупное количество пользователей в России и во Франции.

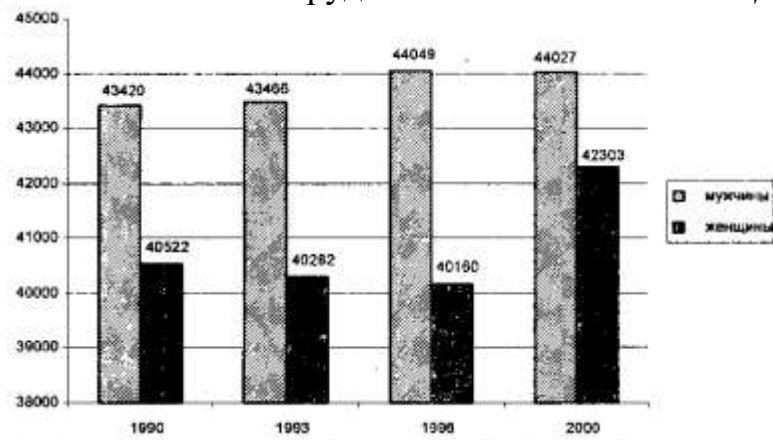
13. В последние годы резко возросло число пользователей Интернетом, что вызывает интерес у разработчиков сайтов, тематика которых должна отвечать запросам разных групп населения. В связи с этим в 2002 г. было проведено исследование запросов ученых-обществоведов. Данные исследования представлены в диаграмме.



Какой вывод можно сделать на основании данных диаграммы?

- А) Наибольший интерес у ученых-обществоведов вызывает справочно-библиографическая информация.
- Б) Наименьший интерес у ученых-обществоведов вызывает новостная информация.
- В) Максимальное количество обращений связано с исследовательскими сайтами.
- Г) Среди интересов ученых-обществоведов сайты, связанные с развлечениями, находятся на третьем месте.

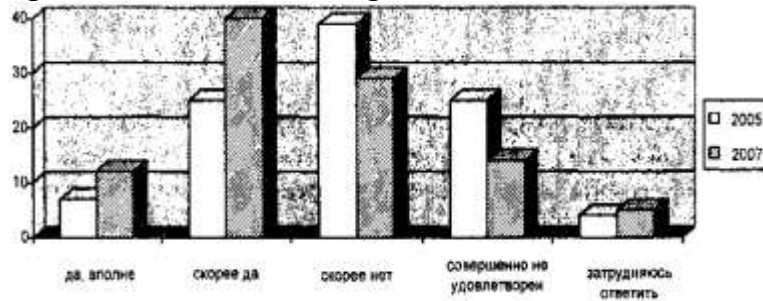
14. В последние десятилетия демографическая ситуация в России вызывает большую озабоченность органов власти РФ, поэтому регулярно проводятся статистические исследования различных демографических аспектов, в том числе и возрастно-полового состава трудоспособного населения. Данные одного из исследований представлены в диаграмме.



Какой вывод можно сделать на основании данных диаграммы?

- А) Число мужчин трудоспособного возраста в 2000 году больше, чем в 1990, 1993 и 1996 годах.
- Б) Число женщин трудоспособного возраста снижается из года в год.
- В) Количество мужчин трудоспособного возраста растет быстрее, чем женщин.
- Г) Количество мужчин трудоспособного возраста растет медленнее, чем женщин.

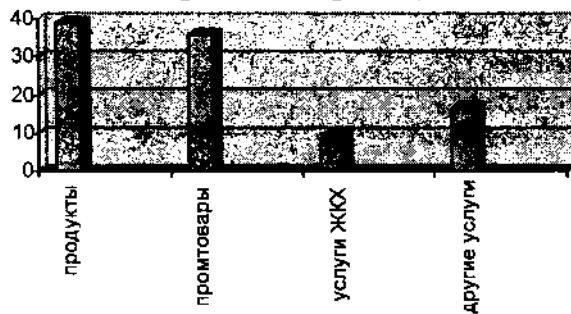
15. Ниже приведены данные опроса, проведенного Всероссийским центром изучения общественного мнения (ВЦИОМ). Респондентам был задан вопрос: «Удовлетворены ли вы качеством жилищно-коммунальных услуг?». Результаты опроса представлены в гистограмме.



Какой вывод можно сделать на основании представленных данных?

- А) Как в 2005, так и в 2007 году среди всех категорий опрошенных доминировали респонденты, удовлетворенные качеством жилищно-коммунальных услуг.
- Б) Число респондентов, не удовлетворенных качеством жилищно-коммунальных услуг, к 2007 году уменьшилось.
- В) Число респондентов, полностью удовлетворенных качеством жилищно-коммунальных услуг, в 2007 году составило треть опрошенных.
- Г) Число респондентов, удовлетворенных качеством жилищно-коммунальных услуг, в 2007 году меньше, чем в 2005.

16. Рассмотрите диаграмму «Расходы семейного бюджета в Российской Федерации в 2008 году (в %)».

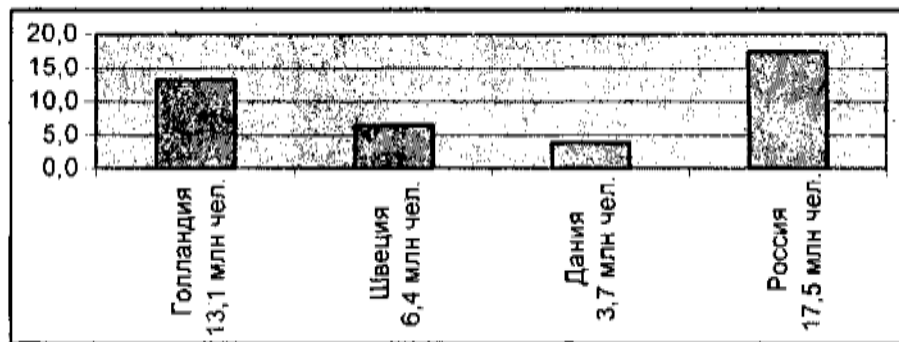


Какой вывод можно сделать на основании данных диаграммы?

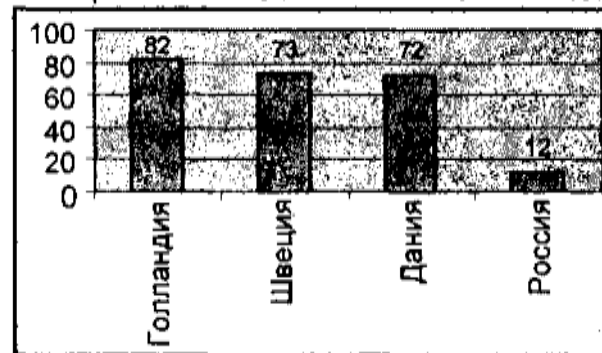
- А) Среди расходов семейного бюджета в Российской Федерации в 2008 году доминируют выплаты по счетам жилищно-коммунального хозяйства.
- Б) В 2008 году в Российской Федерации расходы потребителей на промышленные товары в структуре семейного бюджета выше, чем расходы на продукты.
- В) Процент расходов на продукты выше, чем значение любой другой категории расходов в структуре семейного бюджета в Российской Федерации в 2008 году.
- Г) Более половины расходов семейного бюджета в Российской Федерации в 2008 году составляет оплата услуг ЖКХ и других услуг.

17. В последние годы растет число пользователей Интернета, что подтверждают статистические данные. Вместе с тем процент населения, имеющего доступ к Интернет-ресурсам, отличается от общего количества пользователей в разных странах, что видно из представленной диаграммы.

КОЛИЧЕСТВО ЖИТЕЛЕЙ



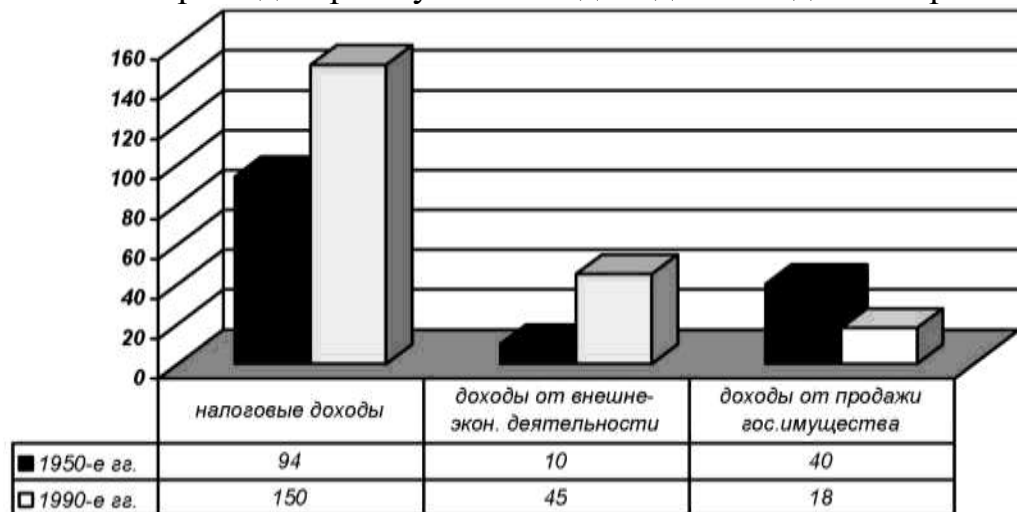
ПРОЦЕНТ ПОЛЬЗОВАТЕЛЕЙ ОТ ЧИСЛА ЖИТЕЛЕЙ



Какой вывод можно сделать на основании данных диаграмм?

- А) Первое место по количеству пользователей Интернетом принадлежит Голландии, но в процентном отношении она отстает от Швеции и Дании.
- Б) Швеция обгоняет Данию и Россию как по общей численности пользователей Интернетом, так и в процентном отношении.
- В) Среди представленных стран Россия занимает первое место по общему числу пользователей Интернетом и последнее место по проценту охвата населения страны.
- Г) Занимая третье место в процентном отношении от количества пользователей к общему количеству жителей, Дания опережает Голландию по общему числу пользователей Интернетом.

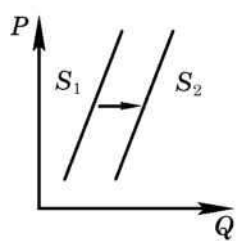
18. Рассмотрите диаграмму «Статьи доходов в бюджете страны Ф. в млрд. \$».



Какой вывод можно сделать на основании данных диаграммы?

- А) в 90-е годы XX в. в бюджете страны Ф. наименьшую долю составляли налоговые доходы
- Б) в стране Ф. во второй половине XX в. наибольшую долю составляли доходы от внешнеэкономической деятельности
- В) бюджет страны Ф. в 50-е гг. XX в. в основном пополнялся за счет доходов от продажи государственного имущества
- Г) в 50-е годы XX в. налоговые доходы составляли большую часть бюджета страны Ф.

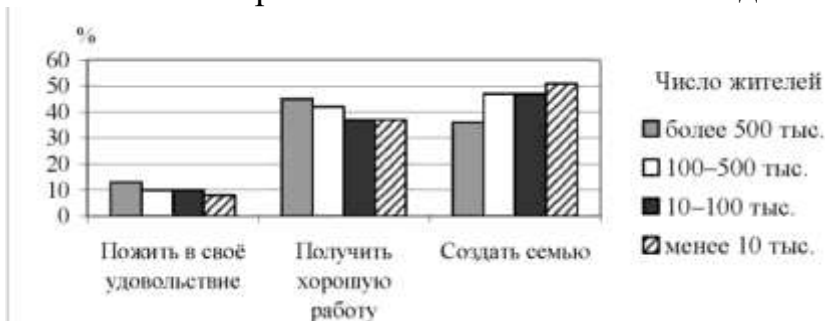
19. На графике изображено изменение предложения роликовых коньков на потребительском рынке.



Что из приведённого ниже могло вызвать сдвиг кривой предложения из положения S_1 в положение S_2 ? (На графике P - цена товара, Q - количество товара.)

- А) сокращение количества фирм, производящих роликовые коньки
- Б) внедрение новых технологий производства роликовых коньков
- В) рост цен на комплектующие изделия для роликовых коньков
- Г) рост тарифов на электроэнергию

20. В ходе социологического опроса 2006 г. респондентам, проживающим в населённых пунктах различного типа, предлагалось ответить на вопрос: «Что важнее всего в молодости?» Полученные результаты представлены в виде гистограммы.



Какой вывод можно сделать на основании гистограммы?

Среди тех, кто считает, что в молодости важнее всего

- А) пожить в своё удовольствие, преобладают респонденты из пунктов с населением менее 10 тыс. человек
- Б) получить хорошую работу, преобладают респонденты из пунктов с населением 100-500 тыс. человек
- В) создать семью, преобладают респонденты из пунктов с населением более 500 тыс. человек
- Г) создать семью, в равной мере представлены респонденты из пунктов с населением 10-100 тыс. и 100-500 тыс. человек

21. Верны ли следующие суждения о праве?

А. По мере того как развивалось человеческое общество и появлялось государство, регулировать поведение людей стали преимущественно правовые нормы.

Б. Одним из отличий правовой нормы является то, что она адресована только гражданам страны.

- 1) верно только А
- 2) верно только Б
- 3) оба суждения верны
- 4) оба суждения неверны

22. Верны ли следующие суждения о конституции?

А. Особое место среди законов занимает Конституция РФ, которую называют Основным законом государства.

Б. Основному закону государства может противоречить закон субъекта Федерации.

- 1) верно только А
- 2) верно только Б
- 3) оба суждения верны
- 4) оба суждения неверны

23. Верны ли следующие суждения о правонарушениях?

А. Преступления отличаются от проступков повышенной общественной опасностью.

Б. Ответственность за совершение проступков и преступлений регулируется различными правовыми нормами.

- 1) верно только А
- 2) верно только Б
- 3) оба суждения верны
- 4) оба суждения неверны

24. Верны ли следующие суждения о выборах?

А. Выборы депутатов Государственной Думы РФ проходят по смешанной избирательной системе.

Б. Альтернативные выборы не являются обязательным условием существования демократического политического режима.

- 1) верно только А
- 2) верно только Б
- 3) оба суждения верны
- 4) оба суждения неверны

25. Верны ли следующие суждения об органах государственной власти РФ?

А. В систему органов исполнительной власти входит Счётная палата РФ.

Б. Президент РФ является главой исполнительной власти.

- 1) верно только А
- 2) верно только Б
- 3) верны оба суждения
- 4) оба суждения неверны

26. Верны ли следующие суждения о демократии?

А. Только к середине XX в., после снятия сословных, имущественных и других ограничений, становятся реальностью равные для всех слоёв общества гражданские и политические права, в том числе всеобщие выборы в законодательные органы власти, и повсеместно начинают появляться демократические режимы.

Б. Современная демократия отличается от предшествующих исторических моделей таким существенным признаком, как либерализм, т.е. уважением и защитой прав человека, в том числе права оппозиции (тех, кто в данный момент остался в меньшинстве) отстаивать своё мнение и критиковать правительство.

- 1) верно только А
- 2) верно только Б
- 3) верны оба суждения
- 4) оба суждения неверны

27. Верны ли следующие суждения о политических партиях?

А. Принципиальной стороной деятельности партий является их идеологическое воздействие на население, они играют значительную роль в формировании политического сознания.

Б. Выявление, обоснование и формирование политических и идеологических интересов определённых групп и слоёв населения не относится к главным функциям политических партий.

- 1) верно только А
- 2) верно только Б
- 3) верны оба суждения
- 4) оба суждения неверны

28. Верны ли следующие суждения о предмете экономики как науки?

А. Экономика — наука о правилах экономии и накопления богатств.

Б. Экономика — наука о рациональном использовании ограниченных ресурсов.

- 1) верно только А
- 2) верно только Б
- 3) верны оба суждения
- 4) оба суждения неверны

29. Верны ли следующие суждения о сущности равновесного состояния рынка какого-либо товара?

А. Равновесное состояние рынка означает, что цены на товар целиком и полностью устраивают покупателей.

Б. Равновесное состояние рынка означает, что количество товара, которое продавцы готовы продать по конкретной цене, совпадает с количеством товара, которое покупатели готовы купить по этой цене.

1) верно только А 3) верны оба суждения

2) верно только Б 4) оба суждения неверны

30. Верны ли следующие суждения о налогах, уплачиваемых гражданами?

А. Налоги, уплачиваемые гражданами, включают в себя земельный налог, налог с владельцев транспортных средств, налог с имущества, переходящего в порядке наследования или дарения.

Б. Самый значительный налог, уплачиваемый гражданами, — это подоходный налог с физических лиц.

1) верно только А

2) верно только Б

3) верны оба суждения

4) оба суждения неверны