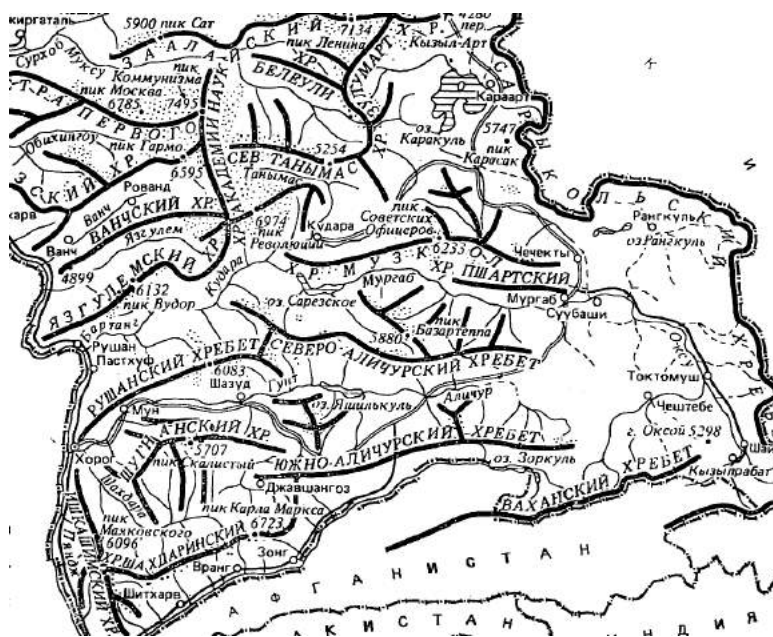


7) Коренные национальности этого региона в основном принадлежат к одной языковой семье и группе. Назовите их.

24 балла



МАКСИМАЛЬНО КОЛИЧЕСТВО БАЛЛОВ - 100

ЖЕЛАЕМ ВАМ УДАЧИ!

**МИНИСТЕРСТВО ОБРАЗОВАНИЯ И НАУКИ РФ**  
**ОТКРЫТАЯ РЕГИОНАЛЬНАЯ МЕЖВУЗОВСКАЯ ОЛИМПИАДА 2017-2018 7 (1 ТУР)**

**ГЕОГРАФИЯ**

**11 КЛАСС**

**2 ВАРИАНТ**

1. Найдите по одному лишнему слову в каждом варианте, характеризующем отдельную страну:

- А) Аргентина: субтропики, ледники, метрополитен, пампа, Парана, импортёр пшеницы;
- Б) Нидерланды: польдеры, Рейн, парламентская республика, сельдь, Гаага, фризы.

*2 балла*

2. Выберите показатели, которые характерны и для Австралии, и для России:

- А) члены ОПЕК
- Б) республики по форме правления
- В) слабоурбанизированные страны
- Г) входят в пятёрку стран-лидеров по производству электроэнергии
- Д) высокая грамотность населения
- Е) имеют неосвоенные и слабозаселённые территории
- Ж) привлекательны для мигрантов
- З) экспортёры железной руды

Запишите буквы, под которыми указаны все правильные варианты ответа.

*4 балла*

3. В начале 2017 Г. в мире действовало 194 АЭС с 449 реакторами. Выберите из предложенного списка страны-лидеры по количеству реакторов:

- А) Франция
- Б) Россия
- В) Китай
- Г) США
- Д) Германия
- Е) Бразилия
- Ж) Япония
- З) Швейцария

Запишите буквы, под которыми указаны все правильные варианты ответа.

*4 балла*

4. Впишите название пропущенного географического объекта:

- 1) Азербайджан – ..... – Ирак – Саудовская Аравия
- 2) озеро Альберта – ..... – Нил – Средиземное море

*4 балла*

5. Выберите из предложенного списка термины, обозначающие местные ветры.

- А) моряна
- Б) мистраль
- В) пассат
- Г) падун
- Д) экзарация
- Е) гало
- Ж) изморось
- З) шелоник
- И) сирокко
- К) рям

Запишите буквы, под которыми указаны правильные ответы.

*5 баллов*


6. По космическому снимку определите город по очертанию реки, протекающей по его территории:

- А) Париж
- Б) Москва
- В) Данди (Шотландия)
- Г) Мюнхен

*5 баллов*



7. Найдите соответствие между группой условных знаков, их названием и изображением: к каждому элементу первого столбца подберите соответствующий элемент из второго и третьего столбцов.

Группа условных знаков	Название	Изображение
I. Объекты, относящиеся к гидрографии	1. Горизонтали	А 
II. Грунты и микроформы рельефа	2. Рисовые поля	Б 
III. Культурная растительность	3. Оползни	В 
IV. Рельеф	4. Болота проходимые	Г 
		Д 

12 баллов

### 8. Определите страну по описанию. Ответьте на вопросы.

Археологические исследования подтвердили, что заселение этой территории началось примерно 26 500 лет назад. Но заселяться европейцами данный регион стал в 16 веке, когда за ним и закрепилось современное название. Три страны соперничали за овладение этой землёй. С тех пор и до середины XX века ему пришлось отстаивать свою независимость и «собирать» в единое целое территорию, формирование которой завершилось только в 1999 г. В настоящее время страна является федеративным государством, состоящим из 10 провинций и 3 территорий. Но генерал-губернатора назначает монарх другой страны. Как такое возможно? Одновременно — это парламентарная страна с демократической традицией.

Она — одна из самых богатых стран мира с высоким доходом на душу населения, с многоотраслевой постиндустриальной экономикой. При этом является необычной среди развитых стран из-за важности своего сырьевого сектора, в котором лесозаготовка и нефтяная промышленность являются самыми важными отраслями. В торгово-экономическом отношении на первом плане для этой страны находятся отношения с соседней страной, с которой она делит самую длинную неохраняемую границу в мире, сотрудничает на разных уровнях и для которой является важнейшим торговым партнёром согласно договору о торговле, подписанному тремя странами региона в 1992 г.

О какой соседней стране идёт речь? Членом какой общей экономической организации они являются? Кто третий их «компаньон» в этой организации? Почему национальный девиз этой страны «от моря до моря»?

15 баллов

9. Разнообразие живых организмов, обитающих на Земле, складывалось в течение длительного периода эволюции — более 4 миллиардов лет. Сейчас темпы исчезновения отдельных биологических видов в 50—100 раз превышают естественный показатель. В каталоги внесены 14 млн видов животных и растений, исчезнувших к настоящему времени. Примерно 25% всех биологических видов животных и растений планеты угрожает исчезновение в ближайшие 20—30 лет. Выберите из ниже перечисленных признаков, процессов и явлений те, которые непосредственно способствуют сокращению или исчезновению естественной фауны.

- |  |   |
|--|---|
| 1) озоновые дыры                                   | 8) смог                                     |
| 2) строительство гидроэлектростанций без рыбоходов | 9) использование угля на электростанциях    |
| 3) карьеры   | 10) браконьерство                           |
| 4) лесопосадки                                     | 11) образование оврагов                     |
| 5) интродукция                                     | 12) лесные пожары                           |
| 6) свалки промышленных и бытовых отходов           | 13) увеличение количества автотранспорта    |
| 7) избыточное внесение минеральных удобрений       | 14) сброс неочищенных сточных вод в водоёмы |
|  | 15) перевыпас скота                         |

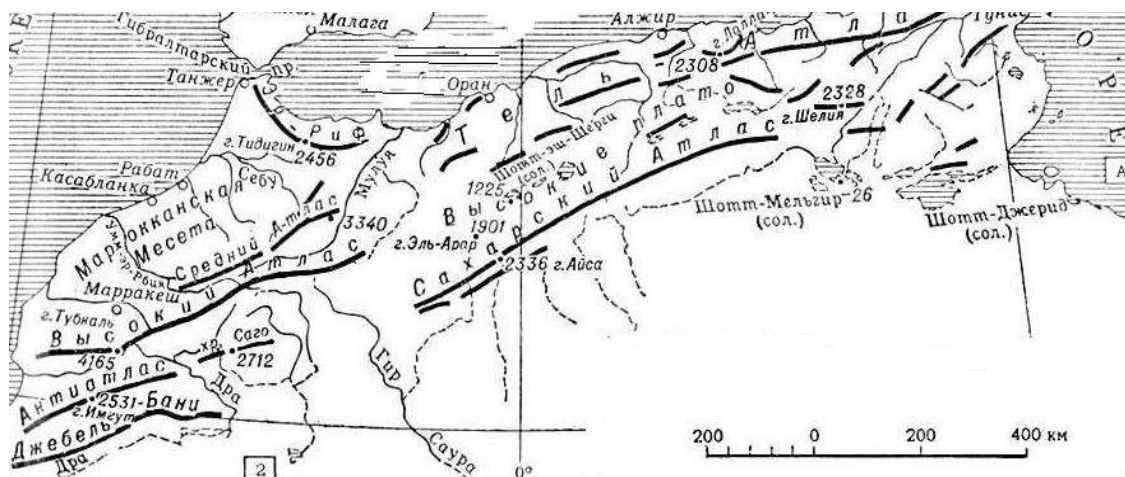
Запишите цифры, под которыми указаны верные ответы. Объясните суть термина под № 5 в представленном списке. Какие бывают разновидности интродукции? Зачем её проводили? Приведите по одному примеру каждой разновидности. Последствия интродукции могут быть положительные и отрицательные. Прокомментируйте этот тезис несколькими примерами.

23 баллов

### 10. Рассмотрите орографическую схему горной системы. Ответьте на вопросы:

- 1) Что это за горная система?

- 2) Во время какой складчатости, и в какую геологическую эру сформировались эти горы?
- 3) По территории каких стран протянулась эта горная система?
- 4) Назовите самую высокую вершину этой горной системы и её высоту. Есть ли здесь вулканы? Могут ли быть землетрясения? Бывает ли снег на ней?
- 5) Кто является коренным населением страны, на территории которой расположена большая часть этой горной системы? Кто пришёл на эту территорию позже, но их язык сейчас – государственный? На север этой страны распространён также язык бывшей метрополии. Какой? Какая религия здесь является государственной?
- 6) Перечислите виды деятельности, которыми занято проживающее здесь население. Как можно прокормиться в таких условиях?



26 баллов

**МАКСИМАЛЬНОЕ КОЛИЧЕСТВО БАЛЛОВ - 100  
ЖЕЛАЕМ ВАМ УДАЧИ!**

**МИНИСТЕРСТВО ОБРАЗОВАНИЯ И НАУКИ РФ**  
**ОТКРЫТАЯ РЕГИОНАЛЬНАЯ МЕЖВУЗОВСКАЯ ОЛИМПИАДА 2017-2018 (1 ТУР)**  
**ГЕОГРАФИЯ**  
**11 КЛАСС**  
**3 ВАРИАНТ**

1. Найдите по одному лишнему слову в каждом варианте, характеризующем отдельную страну:

- А) Португалия: оливы, НАТО, пробковый дуб, президентская республика, Тежу, тунец;  
Б) Бангладеш: ислам, Ганг, республика, наводнения, рыба, джут, Коломбо.

2 балла

2. Выберите показатели, которые характерны и для России, и для Китая:

- А) входят в десятку крупнейших стран по численности населения  
Б) слабоурбанизированные страны  
В) республики по форме правления  
Г) входят в пятёрку стран-импортёров угля  
Д) высокая грамотность населения  
Е) являются членами БРИКС  
Ж) крупнейшие экспортёры судов  
З) отраслью специализации является цветная металлургия

Запишите буквы, под которыми указаны все правильные варианты ответа.

4 балла

3. В настоящий момент более 159 стран мира используют ГЭС для генерации энергии. Выберите из предложенного списка страны, в которых доля выработки энергии на ГЭС составляет более 80 %:

- А) Кыргызстан  
Б) Россия  
В) Китай  
Г) Парагвай  
Д) Германия  
Е) Бразилия  
Ж) Таджикистан  
З) Армения

Запишите буквы, под которыми указаны верные ответы.

4 балла

4. Впишите название пропущенного географического объекта:

- 1) Венесуэла – Колумбия – ..... – Перу  
2) море Банда – Арафурское море – ..... – Коралловое море

4 балла

5. Выберите из предложенного списка термины, обозначающие местные ветры.

- А) борнан  
Б) мистраль  
В) буря  
Г) верховик  
Д) харахаиха  
Е) гало  
Ж) пассат  
З) мусюры  
И) шихан  
К) самум

Запишите буквы, под которыми указаны правильные ответы.

5 баллов

6. Определите город по очертанию реки, протекающей по его территории:

- А) Вашингтон  
Б) Москва  
В) Рим  
Г) Варшава

5 баллов



7. Найдите соответствие между группой условных знаков, их названием и изображением: к каждому элементу первого столбца подберите соответствующий элемент из второго и третьего столбцов.

Группа условных знаков	Название	Изображение
I. Культурная растительность	1. Плотина проезжая и ее характеристики	А 
II. Объекты гидротехнические	2. Осыпи твердых пород	Б 
III. Рельеф	3. Буреломы	В 
IV. Растительность	4. Виноградники	Г 
		Д 

12 баллов

8. Определите страну по описанию. Ответьте на вопросы.

Это одно из крупнейших и древнейших государств мира. По форме правления – парламентская республика, по государственному устройству – федеративное государство: подразделяется на 29 штатов и 7 союзных территорий, последние из которых управляются федеральным правительством. Но независимость она получила только в середине XX века. Чьей колонией была эта страна?

Это многонациональное и поликонфессиональное государство. Здесь зародились несколько местных и одна мировая религия. Назовите их. Страна уникальна тем, что в ней – самое большое количество государственных языков. Приведите в качестве примера 2-3 из них. Отличительной чертой расселения населения является низкий уровень урбанизации, но большое количество городов-миллионеров. Какой город самый крупный? Страна активно развивается, но для внешней торговли характерно постоянное преобладание импорта над экспортом.

15 баллов

9. Вода – наиболее распространенное неорганическое соединение на планете, основа всех жизненных процессов. Со второй половины XX века резко усилилось воздействие человека на гидросферу, создавая экологические проблемы. Выберите из ниже перечисленных признаков, процессов и явлений те, которые способствуют наибольшему загрязнению вод суши или имеют серьезные негативные последствия для экологического состояния водных объектов и качества воды.

- |  |   |
|--|---|
| 1) аварии на танкерах                    | 9) использование угля на электростанциях    |
| 2) каскад ГЭС на равнинных реках         | 10) браконьерство                           |
| 3) антропогенная эвтрофикация            | 11) образование оврагов                     |
| 4) интродукция                           | 12) смог                                    |
| 5) свалки промышленных и бытовых отходов | 13) увеличение количества автотранспорта    |
| 6) лесопосадки                           | 14) сброс неочищенных сточных вод в водоёмы |
| 7) текстильная промышленность            | 15) перевыпас скота                         |
| 8) озоновые дыры                         |   |

Запишите цифры, под которыми указаны верные ответы.

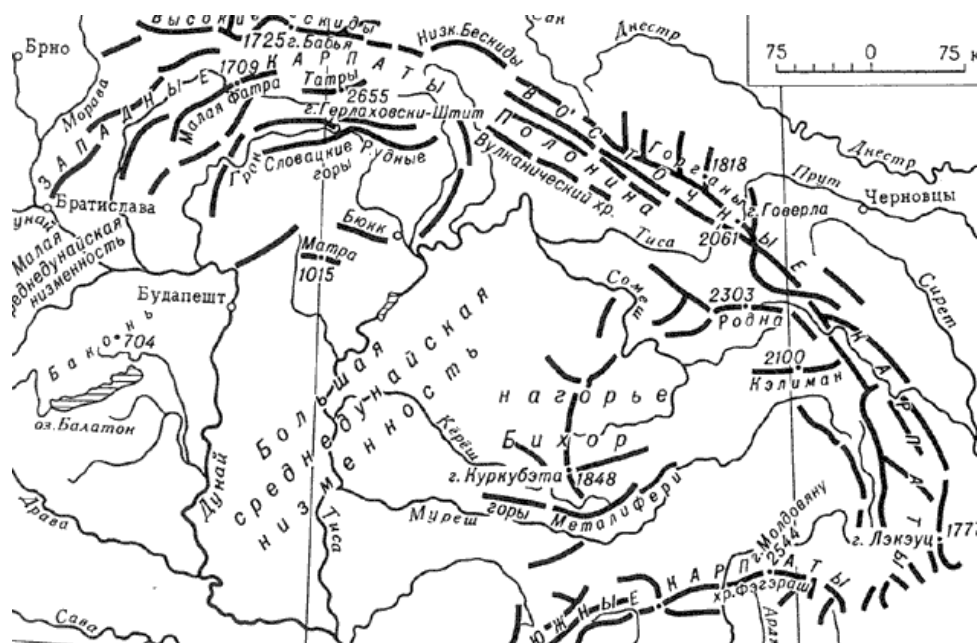
Объясните суть термина под № 3 в представленном списке. Расшифруйте аббревиатуру ПАВ, имеющую отношение к этой теме.

«Мёртвые» реки есть на каждом континенте. Согласно критериям окружающей среды, используемым ООН, вода пятого уровня является непригодной для питья, промышленного использования и даже сельского хозяйства. В какой части света больше всего таких рек? Перечислите три отрасли мирового хозяйства, которые являются основными потребителями пресной воды в мире. Назовите две реки, по которым осуществляется трансграничный перенос загрязняющих веществ в Россию.

23 балла

10. Рассмотрите орографическую схему горной системы. Ответьте на вопросы:

- 1) Что это за горная система?
- 2) Во время какой складчатости, и в какую геологическую эру сформировались эти горы?
- 3) Могут ли быть здесь землетрясения?
- 4) По территории каких стран протянулась эта горная система.
- 5) К бассейну какого моря принадлежат реки, берущие начало в этих горах и какие из них самые крупные? Эти и другие реки данной территории пользуются популярностью у туристов. Почему?
- 6) Перечислите три главные отрасли сельского хозяйства, получившие развитие в этой горной системе.



26 баллов

**МАКСИМАЛЬНОЕ КОЛИЧЕСТВО БАЛЛОВ - 100**

**ЖЕЛАЕМ ВАМ УДАЧИ!**

**МИНИСТЕРСТВО ОБРАЗОВАНИЯ И НАУКИ РФ**  
**ОТКРЫТАЯ РЕГИОНАЛЬНАЯ МЕЖВУЗОВСКАЯ ОЛИМПИАДА 2016-2017 (1 ТУР)**  
**ГЕОГРАФИЯ**  
**11 КЛАСС**  
**4 ВАРИАНТ**

1. Найдите по одному лишнему слову в каждом варианте, характеризующем отдельную страну:

- А) Греция: оливы, Ионическое море, карст, Эллада, Дунай, бокситы;  
Б) Индонезия: ислам, Суматра, пустыня, наводнения, рыба, вулканизм, олово.

*2 балла*

3. Выберите показатели, которые характерны и для Австралии, и для Индии:

- А) относятся к крупнейшим странам по площади  
Б) республики по форме правления  
В) слабоурбанизированные страны  
Г) входят в пятёрку стран-лидеров по добыче железной руды  
Д) высокая грамотность населения  
Е) имеют неосвоенные и слабозаселённые территории  
Ж) имеют пустынные территории  
З) богатство минерально-сырьевыми ресурсами

Запишите буквы, под которыми указаны все правильные варианты ответа.

*4 балла*

3. В настоящий момент более 159 стран мира используют ГЭС для генерации энергии. Выберите из предложенного списка страны, в которых доля выработки энергии на ГЭС составляет менее 80 %:

- А) Кыргызстан  
Б) Россия  
В) Китай  
Г) Парагвай  
Д) Германия  
Е) Бразилия  
Ж) Таджикистан  
З) Армения

Запишите буквы, под которыми указаны верные ответы.

*4 балла*

4. Впишите название пропущенного географического объекта:

- А) ЮАР – Намибия – ..... – Демократическая республика Конго  
Б) Суэцкий канал – ..... – Аденский залив – Аравийское море

*4 балла*

5. Выберите из предложенного списка термины, обозначающие местные ветры.

- А) близзard  
Б) мистраль  
В) буря  
Г) протуберанец  
Д) хабуб  
Е) гало  
Ж) сарма  
З) сюрин  
И) сирокко  
К) пассат

Запишите буквы, под которыми указаны правильные ответы.

*5 баллов*

6. По космическому снимку определите город по очертанию реки, протекающей по его территории:

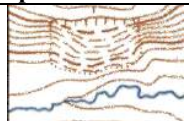
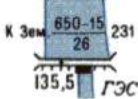



- А) Амстердам  
Б) Москва  
В) Монреаль  
Г) Монтевидео



*5 баллов*



7. Найдите соответствие между группой условных знаков, их названием и изображением: к каждому элементу первого столбца подберите соответствующий элемент из второго и третьего столбцов.

Группа условных знаков	Название	Изображение
I. Естественная растительность	1. Плотины подводная и ее характеристики	А 
II. Грунты и микроформы рельефа	2. Ширина и глубина реки, характер грунта дна	Б 
III. Объекты гидротехнические	3. Оползни	В 
IV. Объекты, относящиеся к гидрографии	4. Луг	Г 
		Д 

12 баллов

8. Определите страну по описанию. Ответьте на вопросы.

Это одна из небольших по площади стран мира, ставшая государством с таким названием ещё в VIII веке н.э. С тех пор главой государства является монарх, который в настоящее время осуществляет законодательную власть совместно с однопалатным парламентом.

Территория страны не очень компактная, т.к. в её состав входит архипелаг из 409 островов, а ещё два островных автономных региона, пользующихся самоуправлением, что делает их практически независимыми. Назовите их. Страна имеет одного сухопутного соседа – страну, являющуюся самой экономически развитой в этой части света. О каком «соседе» идёт речь?

Рельеф страны равнинный со следами оледенения. Территория суши бедна полезными ископаемыми в отличие от морской акватории. Какие богатства даёт море? Как оно называется? Там же на шельфе размещены крупные ветропарки, а страна является одним из мировых лидеров в использовании возобновляемых источников энергии, в частности энергии ветра. Это индустриально-аграрная страна с высоким уровнем развития и одним из самых высоких ВВП на душу населения. Из отраслей сельского хозяйства особенно выделяется свиноводство – по поголовью свиней (25 млн) она занимает 7 место в мире, экспортируя 87 % продукции..

С этой страной ассоциируется имя писателя XIX века, с творчеством которого мы знакомы с детства по сказкам, наполненным христианской моралью и глубоким философским содержанием. Статуя, посвящённая одной из героинь его всемирно известной сказки, установлена в порту столицы. Назовите писателя и персонаж.

15 баллов

9. Со второй половины XX века резко усилилось воздействие человека на природу, усилив экологические проблемы. Выберите из ниже перечисленных признаков, процессов и явлений те, которые способствуют загрязнению атмосферы или являются результатом такого загрязнения.

- |                                      |   |
|--------------------------------------|---|
| 1) строительство гидроэлектростанций | 9) использование угля на электростанциях    |
| 2) озоновые дыры                     | 10) браконьерство                           |
| 3) лесные пожары                     | 11) сели                                    |
| 4) мелиоративные работы              | 12) смог                                    |
| 5) интродукция                       | 13) сброс неочищенных сточных вод в водоёмы |
| 6) аварии на танкерах                | 14) перевыпас скота                         |
| 7) инверсия температур               | 15) увеличение количества автотранспорта    |
| 8) циклоны                           |   |

Запишите цифры, под которыми указаны верные ответы.

Объясните суть термина под № 12 в представленном списке. Расшифруйте аббревиатуру ИЗА, имеющую отношение к данной теме. Приведите 3 примера стран, лидирующих в списке с самым загрязнённым воздухом. Назовите отрасли – главные источники загрязнения воздуха этих стран.

23 балла

10. Рассмотрите орографическую схему горной системы. Ответьте на вопросы:

- 7) Что это за горная система?
- 8) Во время какой складчатости, и в какую геологическую эру сформировались эти горы? Могут ли быть здесь землетрясения?

- 9) На территории какой страны расположена эта горная система.
- 10) Чем объяснить огромную популярность у туристов этой территории?
- 11) К бассейну какого моря принадлежат реки, берущие начало в этих горах
- 12) Перечислите три главные отрасли сельского хозяйства, получившие развитие в этой горной системе.
- 13) Назовите народ, исторически сформировавшийся в этом регионе? Какая административно-территориальная единица для него создана? К какой семье и языковой группе он относится?



26 баллов

**МАКСИМАЛЬНОЕ КОЛИЧЕСТВО БАЛЛОВ - 100  
ЖЕЛАЕМ ВАМ УДАЧИ!**