

V. Назовите изображенные на снимках объекты. Что послужило причиной их возникновения?

1.



2.



3.



4.



Шифр:

**ПИСЬМЕННАЯ РАБОТА УЧАСТНИКА
ОЛИМПИАДЫ ШКОЛЬНИКОВ СПбГУ
2016–2017**

Заключительный этап

Предмет (комплекс предметов) Олимпиады ГЕОГРАФИЯ (9-11 класс)

Город, в котором проводится Олимпиада _____

Дата _____

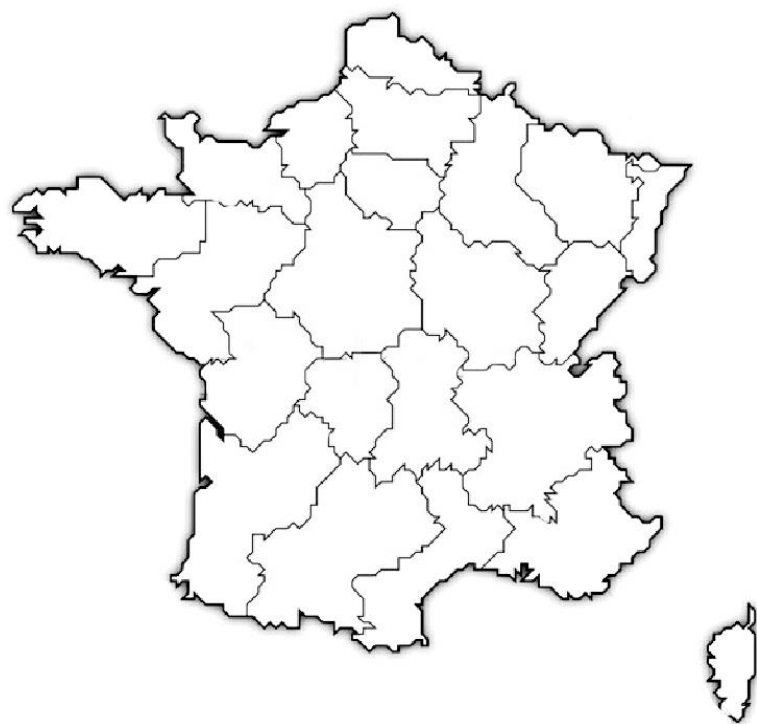
Вариант 1

I. Многие города в ходе истории неоднократно меняли свои названия. Иногда это происходило из-за изменения этнического состава населения или государственной принадлежности. Иногда смена названий происходила по политическим соображениям и через некоторый срок старое название города возвращалось. В приведенной ниже таблице приводятся существовавшие ранее названия городов различных стран мира. Укажите в строке напротив современное название города и его государственную принадлежность.

	Прежнее название города	Современное название города	Государство, в котором он находится
	Станислав		
	Молотов		
	Гапсаль		
	Кировокан		
	Чкалов		
	Джамбул		
	Мадрас		
	Фиуме		
	Андропов		
	Солсбери		

II. В советском кинофильме «Д`Артаньян и три мушкетера» главный герой поёт песню, в которой есть такие строки:

***Бургундия, Нормандия,
Шампань или Прованс,
И в ваших жилах тоже есть огонь,
Но умнице-Фортуне, ей богу, не до вас,
Пока на белом свете есть Гасконь.***



Заштрихуйте и подпишите на карте Франции указанные провинции. Подпишите главные города этих областей (минимум по одному городу на область). **ВНИМАНИЕ!** Границы перечисленных исторических областей могут не совпадать с современным административно-территориальным делением Франции.

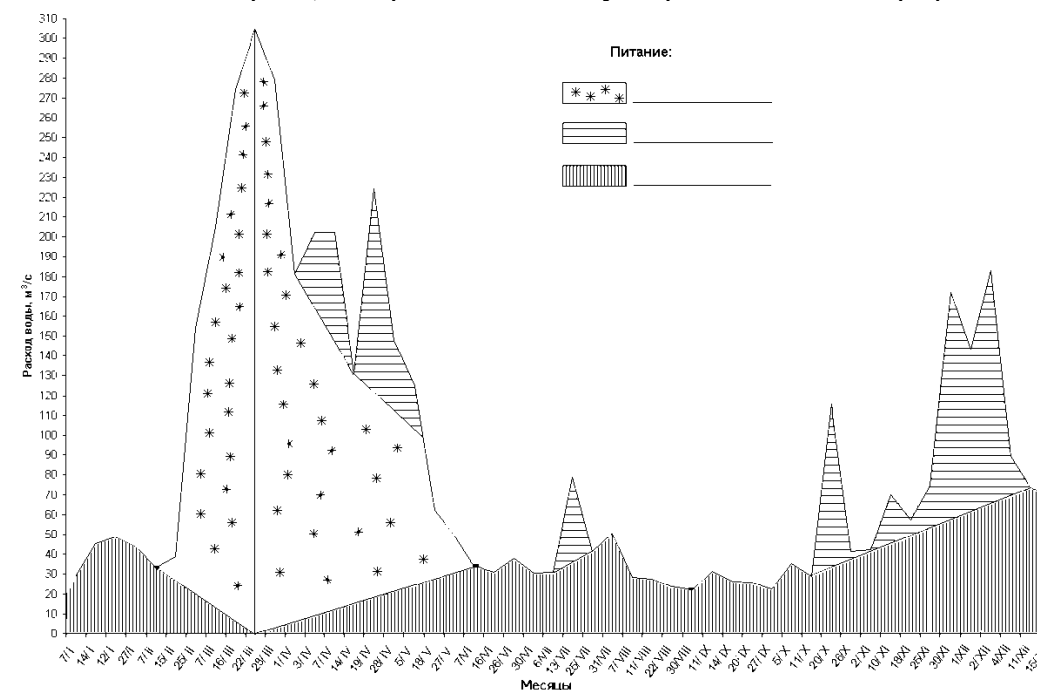
III. На контурной карте Российской Федерации цифрами выделено 5 регионов. Укажите в соответствующих столбцах таблицы:

- название региона (субъекта РФ);
- его административный центр;
- крупнейшую (наиболее полноводную) реку, протекающую по территории региона;
- федеральный округ в котором находится регион.

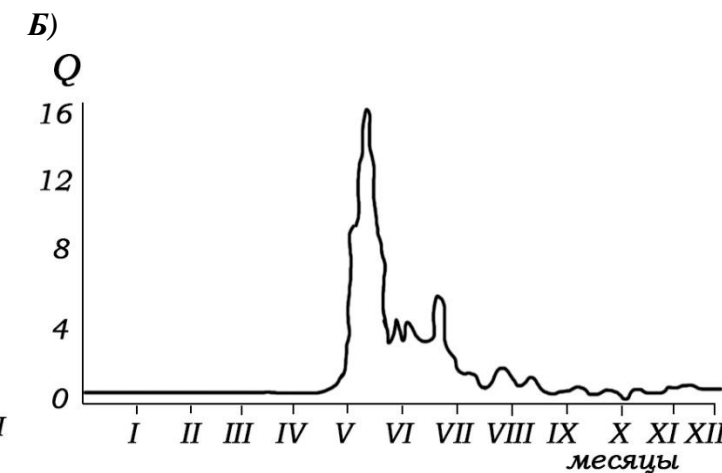
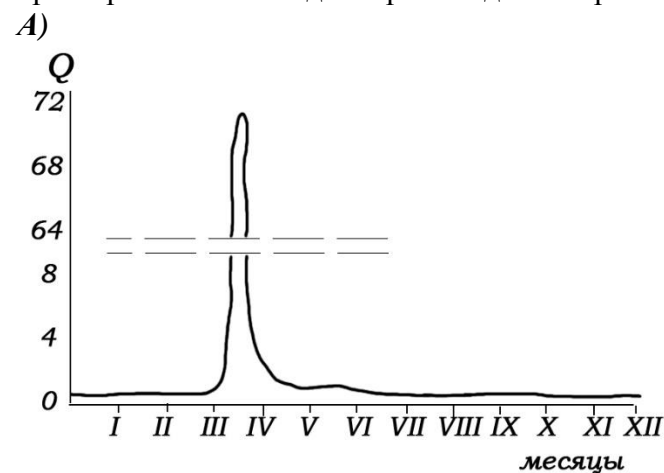


Регион (субъект РФ)	Административный центр	Крупнейшая река	Федеральный округ

IV. Перед Вами типовой гидрограф реки – график, отражающий среднееголетние изменения расхода воды в реке в течение года. Объясните, чем обусловлены колебания на графике? Подпишите в легенде источники питания реки, которым соответствуют разные области графика.



Объясните, почему так отличаются формы приведённых ниже гидрографов? Чем обусловлены характер питания и водный режим данных рек?



V. Назовите изображенные на снимках объекты. Что послужило причиной их возникновения?

1.



2.



3.



4.



Шифр:

**ПИСЬМЕННАЯ РАБОТА УЧАСТНИКА
ОЛИМПИАДЫ ШКОЛЬНИКОВ СПбГУ
2016–2017**

Заключительный этап

Предмет (комплекс предметов) Олимпиады ГЕОГРАФИЯ (9-11 класс)

Город, в котором проводится Олимпиада _____

Дата _____

Вариант 2

I. Многие города в ходе истории неоднократно меняли свои названия. Иногда это происходило из-за изменения этнического состава населения или государственной принадлежности. Иногда смена названий происходила по политическим соображениям и через некоторый срок старое название города возвращалось. В приведенной ниже таблице приводятся существовавшие ранее названия городов различных стран мира. Укажите в строке напротив современное название города и его государственную принадлежность.

	Прежнее название города	Современное название города	Государство, в котором он находится
	Ставрополь (на Волге)		
	Ново-Архангельск		
	Кировабад		
	Брежнев		
	Карл-Маркс-Штадт		
	Митава (Митау)		
	Сидон		
	Батавия		
	Белоцарск		
	Леопольдвиль		

II. Современная Италия образовалась путем долгого объединения различных исторических областей, входивших в состав различных государственных образований. Заштрихуйте на карте Италии и подпишите следующие области:

Лигурия, Ломбардия, Апулия, Кампания, Пьемонт.

Подпишите главные города этих областей (минимум по одному городу на область).



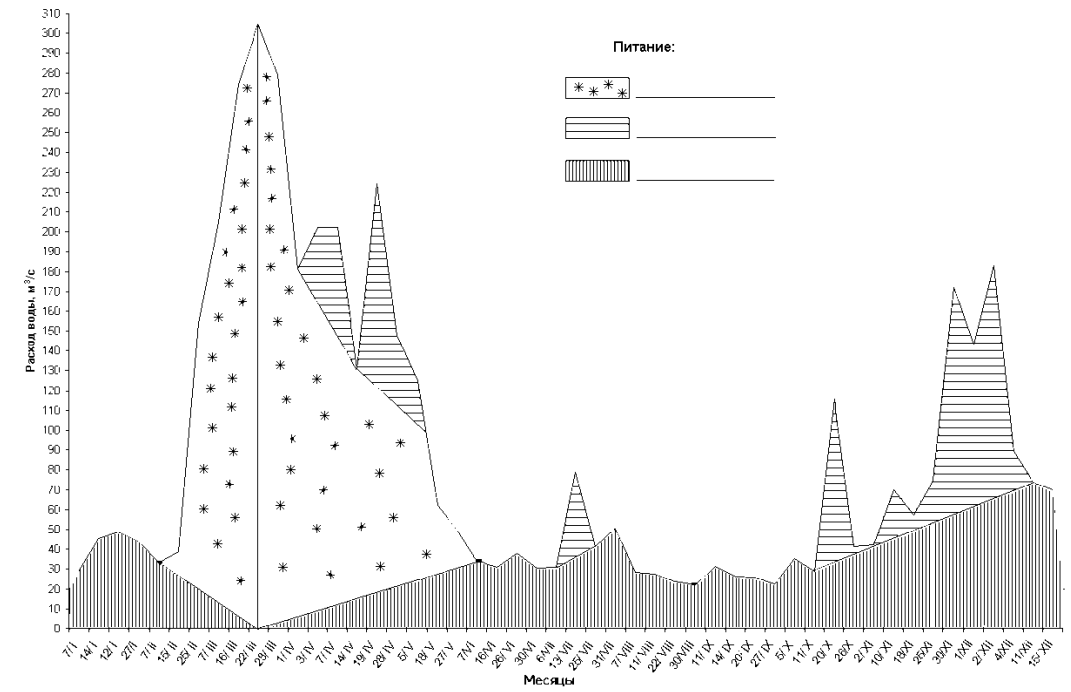
III. На контурной карте Российской Федерации цифрами выделено 5 регионов. Укажите в соответствующих столбцах таблицы:

- название региона (субъекта РФ);
- его административный центр;
- крупнейшую (наиболее полноводную) реку, протекающую по территории региона;
- федеральный округ в котором находится регион.

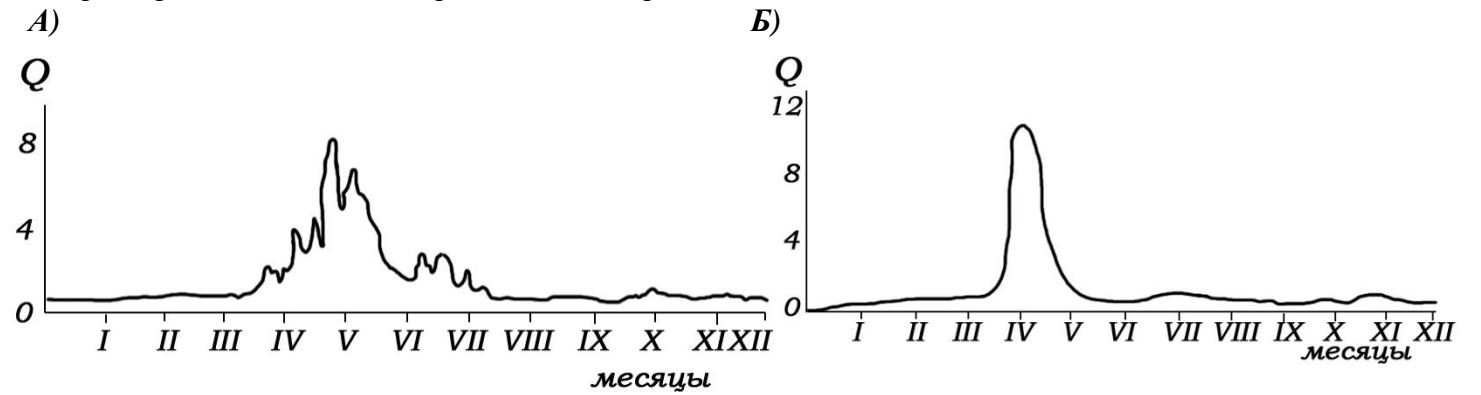


	Регион (субъект РФ)	Административный центр	Крупнейшая река	Федеральный округ

IV. Перед Вами типовой гидрограф реки – график, отражающий среднееголетние изменения расхода воды в реке в течение года. Объясните, чем обусловлены колебания на графике? Подпишите в легенде источники питания реки, которым соответствуют разные области графика.



Объясните, почему так отличаются формы приведённых ниже гидрографов? Чем обусловлены характер питания и водный режим данных рек?



V. Назовите изображенные на снимках объекты. Что послужило причиной их возникновения?

1.



2.



3.



4.



Шифр:

**ПИСЬМЕННАЯ РАБОТА УЧАСТНИКА
ОЛИМПИАДЫ ШКОЛЬНИКОВ СПбГУ
2016–2017**

Заключительный этап

Предмет (комплекс предметов) Олимпиады ГЕОГРАФИЯ (9-11 класс)

Город, в котором проводится Олимпиада _____

Дата _____

Вариант 3

I. Многие города в ходе истории неоднократно меняли свои названия. Иногда это происходило из-за изменения этнического состава населения или государственной принадлежности. Иногда смена названий происходила по политическим соображениям и через некоторый срок старое название города возвращалось. В приведенной ниже таблице приводятся существовавшие ранее названия городов различных стран мира. Укажите в строке напротив современное название города и его государственную принадлежность.

Прежнее название города	Современное название города	Государство, в котором он находится
Новониколаевск		
Титоград		
Кантон		
Венден		
Верхнеудинск		
Ленинабад		
Смирна		
Кезлев (Гёзлев)		
Проскуров		
Новый Карфаген		

II. В ходе многовековой реконкисты в Испании сформировались исторические области, отличающиеся этническим, культурным и языковым своеобразием.



Заштрихуйте и подпишите на карте Испании следующие области:

Астурия, Каталония, Андалусия, Арагон, Галисия

Подпишите главные города этих областей (минимум по одному городу на область).

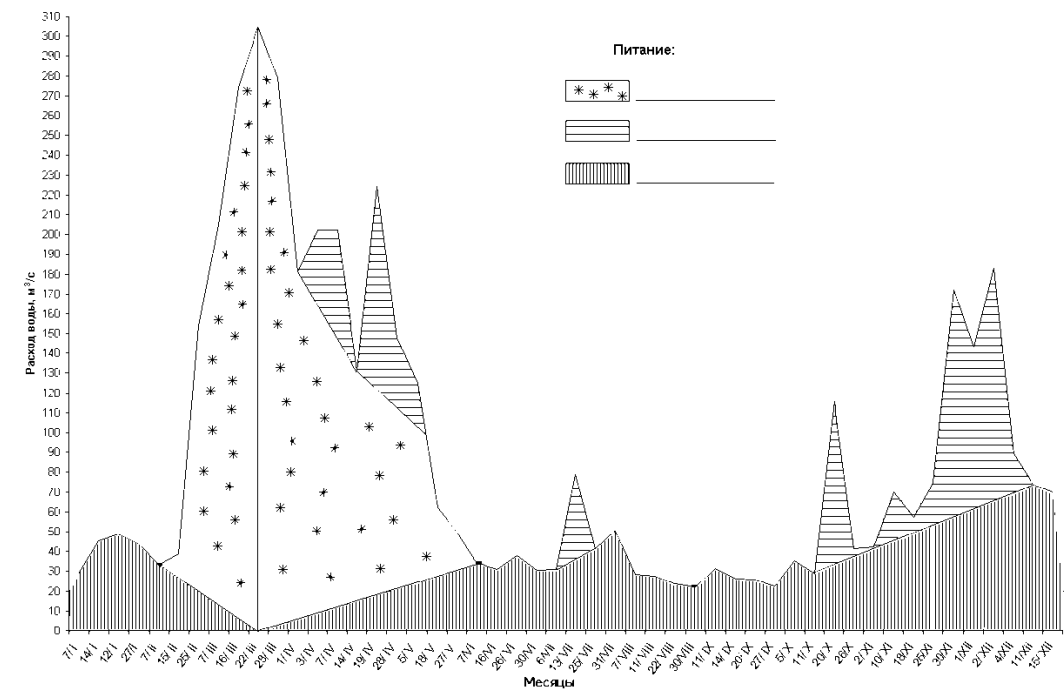
III. На контурной карте Российской Федерации цифрами выделено 5 регионов. Укажите в соответствующих столбцах таблицы:

- название региона (субъекта РФ);
- его административный центр;
- крупнейшую (наиболее полноводную) реку, протекающую территории региона;
- федеральный округ в котором находится регион.



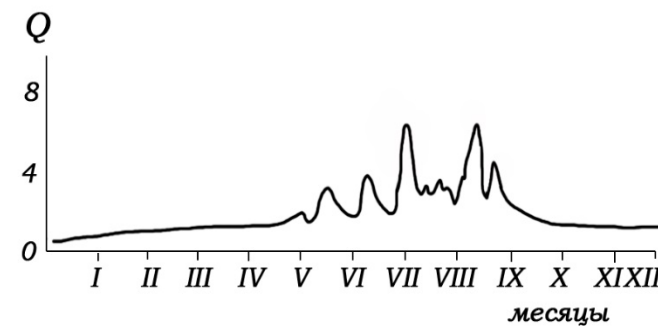
№	Регион (субъект РФ)	Административный центр	Крупнейшая река	Федеральный округ

IV. Перед Вами типовой гидрограф реки – график, отражающий среднееголетние изменения расхода воды в реке в течение года (Q , м³/с). Объясните, чем обусловлены колебания на графике? Подпишите в легенде источники питания реки, которым соответствуют разные области графика.

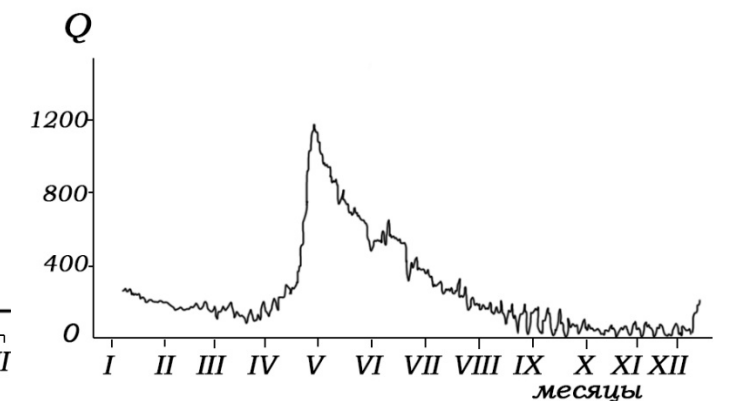


Объясните, почему так отличаются формы приведённых ниже гидрографов? Чем обусловлены характер питания и водный режим данных рек?

А)



Б)



V. Назовите изображенные на снимках объекты. Что послужило причиной их возникновения?

1.



2.



3.



4.



Шифр:

**ПИСЬМЕННАЯ РАБОТА УЧАСТНИКА
ОЛИМПИАДЫ ШКОЛЬНИКОВ СПбГУ
2016–2017**

Заключительный этап

Предмет (комплекс предметов) Олимпиады ГЕОГРАФИЯ (9-11 класс)

Город, в котором проводится Олимпиада _____

Дата _____

Вариант 4

I. Многие города в ходе истории неоднократно меняли свои названия. Иногда это происходило из-за изменения этнического состава населения или государственной принадлежности. Иногда смена названий происходила по политическим соображениям и через некоторый срок старое название города возвращалось. В приведенной ниже таблице приводятся существовавшие ранее названия городов различных стран мира. Укажите в строке напротив современное название города и его государственную принадлежность.

Прежнее название города	Современное название города	Государство, в котором он находится
Гурьев		
Покровск		
Ленинакан		
Феллин		
Инстербург		
Рангун		
Сьюдад-Трухильо		
Каликут		
Темир-Хан-Шура		
Пиллау		

II. Современная Германия образовалась путем долгого объединения различных исторических областей, входивших в состав различных государственных образований.

Заштрихуйте и подпишите на карте Германии следующие области:
Тюрингия, Мекленбург, Вюртемберг, Бранденбург, Вестфалия



Подпишите главные города этих областей (минимум по одному городу на область).

ВНИМАНИЕ! Границы перечисленных исторических областей могут не совпадать с современным административно-территориальным делением Германии.

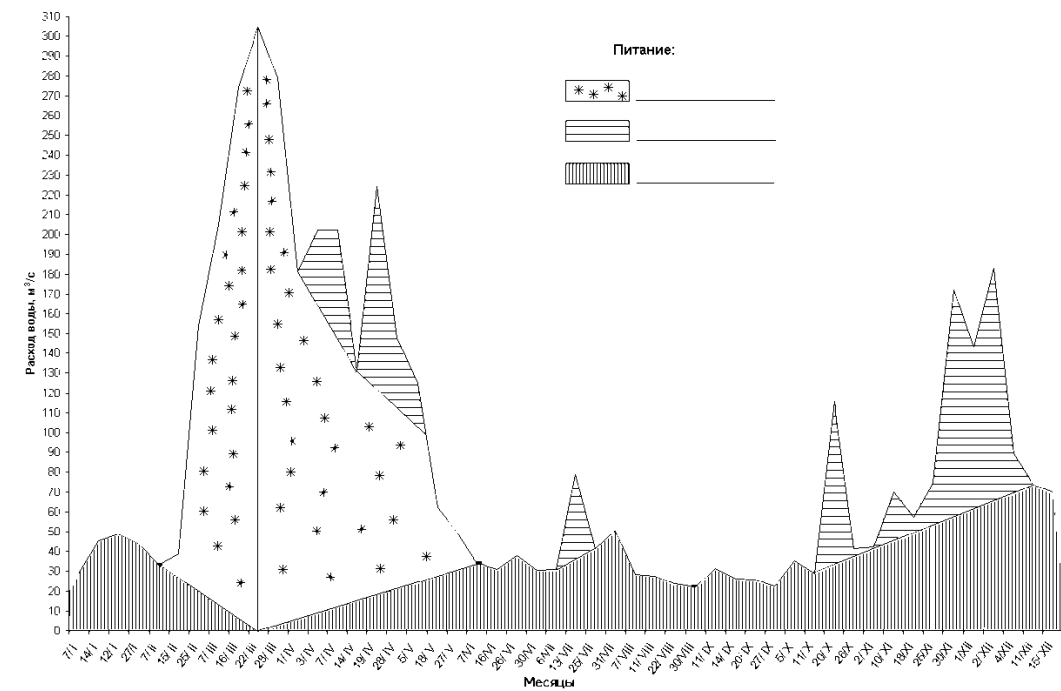
III. На контурной карте Российской Федерации цифрами выделено 5 регионов. Укажите в соответствующих столбцах таблицы:

- название региона (субъекта РФ);
- его административный центр;
- крупнейшую (наиболее полноводную) реку, протекающую территории региона;
- федеральный округ в котором находится регион.



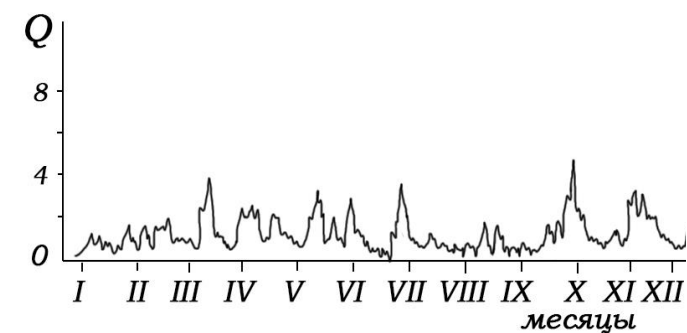
№	Регион (субъект РФ)	Административный центр	Крупнейшая река	Федеральный округ

IV. Перед Вами типовой гидрограф реки – график, отражающий среднееголетние изменения расхода воды в реке в течение года ($Q, \text{м}^3/\text{с}$). Объясните, чем обусловлены колебания на графике? Подпишите в легенде источники питания реки, которым соответствуют разные области графика.



Объясните, почему так отличаются формы приведённых ниже гидрографов? Чем обусловлены характер питания и водный режим данных рек?

А)



Б)

