



Ответы на тесты Вы вносите в специальный бланк для ответов.

У Вас есть 90 минут.

Пользоваться шпаргалками, сотовыми телефонами, книгами, атласами не разрешается.

Разговаривать с другими участниками запрещается.

Указывать Фамилию Имя Отчество на бланке для ответов нельзя.

В левом верхнем углу листа специального бланка для ответов на тест необходимо проставить свой личный код.

Правильность выполнения каждого задания оценивается в 0,5 балла.

Желаем Вам удачи!

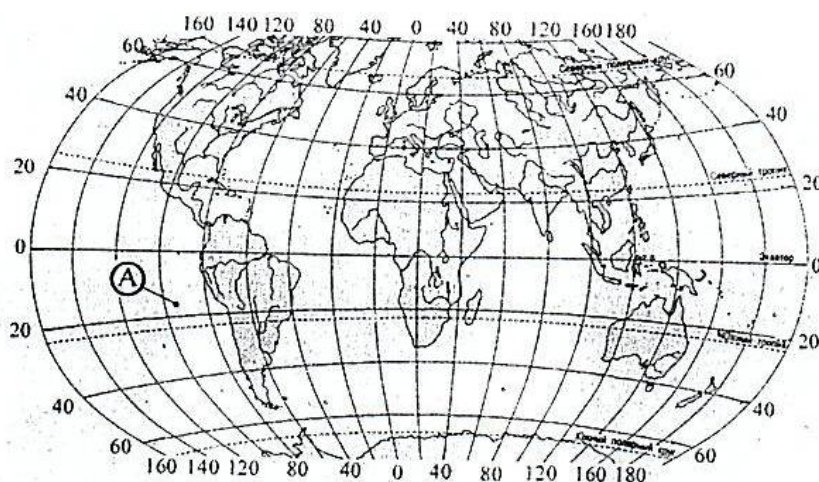
Тест для 10-11 классов

1. По перечисленным характеристикам, определите, о каком материке идёт речь? Назовите самую высокую точку материка.

Площадь материка, млн. км ²		Высота рельефа, м			Крайние точки			
без островов	с островами	средняя	максимальная	минимальная	северная	южная	западная	восточная
20,36	24,25	720	6193	-85	мыс Мерчисон, 71°50' с.ш.	мыс Марьято, 7°12' с.ш.	мыс Принца Уэльского, 168°00' з.д.	мыс Сент-Чарльз, 55°40' з.д.

Ответ: Северная Америка, гора Мак-Кинли.

2. Какие географические координаты имеет точка, обозначенная на карте мира буквой А?



а) 17° ю.ш. 95° в.д.;

б) 17° ю.ш. 95° з.д.;

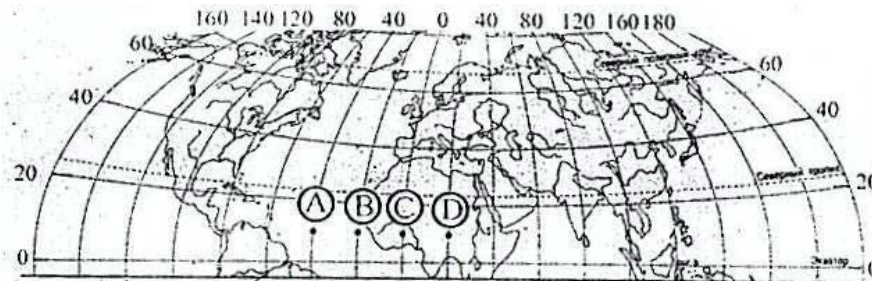
в) 24° ю.ш. 105° з.д.;

г) 24° ю.ш. 105° в.д.

Ответ: б



3. В каком из обозначенных на карте Северного полушария пунктов Солнце будет находиться над горизонтом выше всего в 15 часов по времени Гринвичского меридиана?



а) А;

б) В;

в) С;

г) D.

Ответ: а

4. Определите страну по её краткому описанию.

Эта страна, относящаяся к группе экономически развитых, омывается водами двух океанов. Большую часть её территории занимает равнинное плато, которое с юга и востока окаймлено горами. Её недра богаты разнообразными полезными ископаемыми. По добыче алмазов, золота, платины, урана, железных руд эта страна занимает одно из первых мест в мире. Население страны отличается сложным этническим составом. Среди других стран континента она выделяется высокой долей лиц европейского происхождения.

а) Австралия;

б) США;

в) ЮАР;

г) Индонезия.

Ответ: в

5. Почему основные центры чёрной металлургии Италии сосредоточены на побережье Средиземного моря?

а) основные месторождения железных руд Италии сосредоточены в приморских районах, а уголь доставляется морским путём;

б) поскольку собственных ресурсов для развития чёрной металлургии в Италии нет, она импортирует сырьё, которое доставляют морским путём;

в) все крупные железорудные и угольные месторождения Италии сосредоточены на побережье Средиземного моря;

г) это связано с удобством экспорта продукции.

Ответ: б

6. Определите географическую широту пункта, если там 21 марта в полдень тень от предметов падает на север, а Солнце находится на высоте 45° над горизонтом.

а) 60° с.ш.;

б) 45° с.ш.;

в) 45° ю.ш.;

г) 0° ш.

Ответ: б



7. Выберите три крупных центра нефтеперерабатывающей промышленности Уральского района.

- | | |
|------------------|------------------|
| А) Уфа; | Г) Пермь; |
| Б) Ишимбай; | Д) Нижний Тагил; |
| В) Екатеринбург; | Е) Новотроицк. |

Ответ: АБГ

8. Крайняя восточная точка России находится:

- | | |
|---------------------------|---------------------------|
| а) в западном полушарии; | в) в восточном полушарии; |
| б) на полуострове Таймыр; | г) на острове Врангеля. |

Ответ: а

9. 75% российского производства алюминия приходится на:

- | | |
|---------------------|----------------------|
| а) Дальний Восток; | в) Восточную Сибирь; |
| б) Западную Сибирь; | г) Урал. |

Ответ: в

10. Какие особо охраняемые территории полностью изъяты из хозяйственного использования и там систематически ведутся научные наблюдения?

- | | |
|------------------------|-----------------------|
| а) национальные парки; | в) заказники; |
| б) заповедники; | г) памятники природы. |

Ответ: б

11. Установите соответствие между государством Зарубежной Европы и буквой, которой оно обозначено на политической карте.





Государство

- 1) Австрия
- 2) Болгария
- 3) Венгрия

Буква

- А
Б
В
Г

Ответ: 1 – Г; 2 – А; 3 – В.

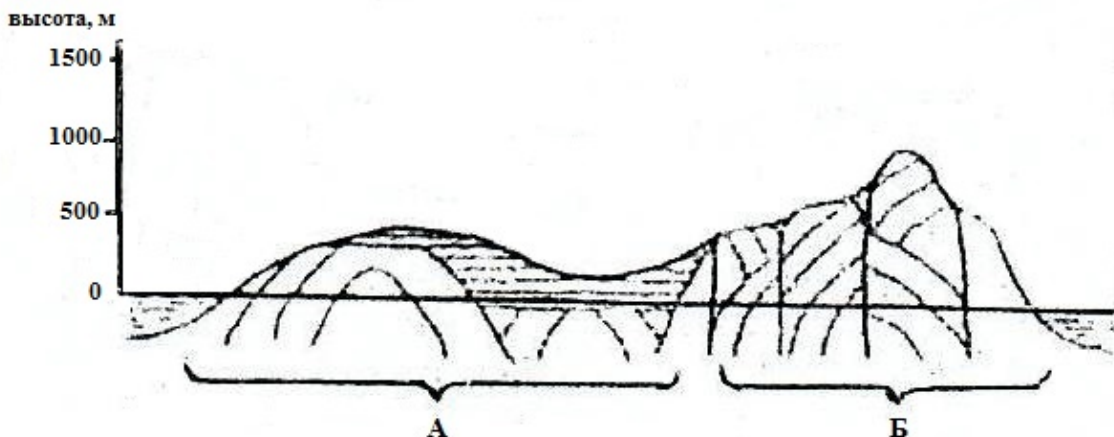
12. Льянос – это

- а) тип высокогорных субальпийских лугов;
- б) растение эпифит;

- в) разновидность саван в южном полушарии;
- г) разновидность лесной растительности.

Ответ: в

13. Определите, через центр какого материка проходит данный профиль рельефа?



- а) Африка;
- б) Антарктида;
- в) Австралия;
- г) Северная Америка.

Ответ: в

14. Обильные дожди в экваториальном поясе проливаются над сушей после полудня, а над океанами – в ночное время. Почему? (Выберите две причины)

- а) нагрев суши происходит быстрее;
- б) восходящие движения воздуха ночью интенсивнее над океаном;
- в) океан остывает быстрее;
- г) нисходящие движения воздуха ночью интенсивнее над океаном.

Ответ: а, б.

15. Что характерно для природы Канады?

- а) преобладание умеренного климатического пояса;
- б) большое среднегодовое количество осадков;
- в) преобладание лесных массивов;
- г) бедность природных ресурсов.

Ответ: в



16. Для какого полуострова Северной Америки характерен жаркий и сухой климат?

- а) Флорида; б) Юкатан; в) Калифорния; г) Лабрадор.

Ответ: в

17. Почему для рек полуострова Лабрадор свойственна слабая разработанность речных долин? (не менее двух правильных ответов)

- а) речная сеть полуострова Лабрадор заложилась в послеледниковое время и реки не успели разработать долины;
б) речная сеть полуострова Лабрадор очень древняя;
в) полуостров Лабрадор находится в зоне аридного климата;
г) полуостров Лабрадор находится в зоне арктических пустынь;
д) в основании полуострова Лабрадор лежит щит древней платформы;
е) породы, слагающие полуостров, – лёссы и суглинки.

Ответ: а, д.

18. Какими особенностями ЭГП Вологодской области объясняется размещение в г. Череповце одного из крупнейших металлургических комбинатов? (не менее двух правильных ответов)

- а) в г. Череповце располагается крупнейшее в России месторождение железных руд;
б) Вологодская область размещается на территории буроугольного бассейна;
в) г. Череповец расположен на пересечении транспортных путей, связывающих районы добычи железной руды и коксующегося угля;
г) в г. Череповце сосредоточено большое количество трудовых ресурсов, необходимых для развития металлургической промышленности;
д) соседство с потребителями продукции металлургии – машиностроительными предприятиями Северо-Запада и Центра.

Ответ: в, д.

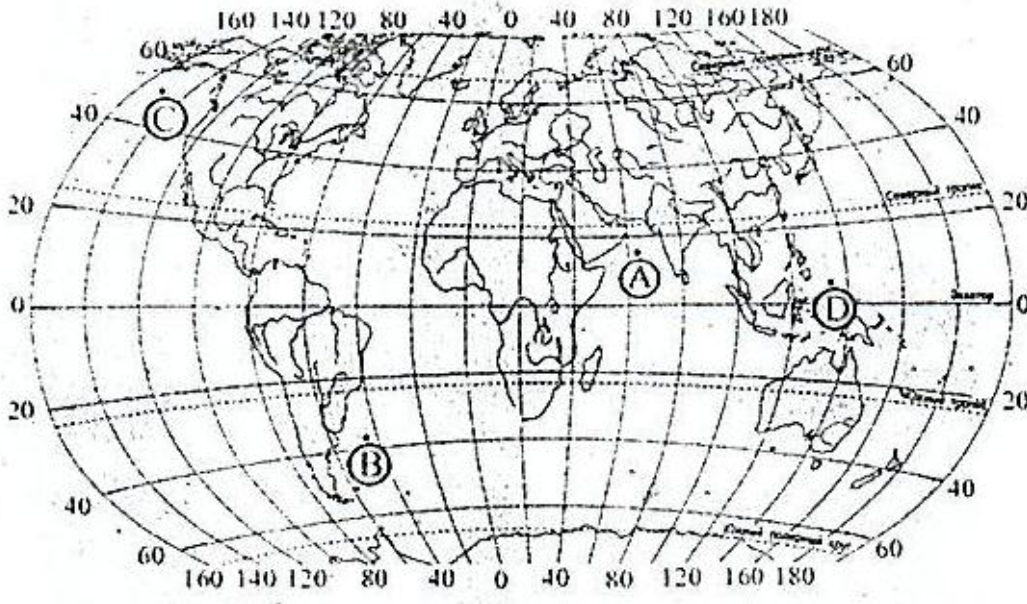
19. Ленский угольный бассейн – один из крупнейших по запасам (входит в десятку крупнейших угольных бассейнов в мире). Почему по объему добычи он уступает многим бассейнам в России? (не менее двух правильных ответов)

- а) отсутствие вблизи месторождений угля крупных потребителей;
б) уголь низкого качества;
в) глубокое залегание продуктивных толщ, большие затраты на «вскрышу»;
г) неблагоприятные природные условия (низкие зимние температуры, многолетняя мерзлота);
д) сложность транспортировки угля.

Ответ: а, г, д.



20. В какой из точек, обозначенных на карте мира буквами, среднегодовая солёность поверхностных вод Мирового океана наибольшая?



- а) А;
- б) В;
- в) С;
- г) D

Ответ: а