



















<p>следующим характеристикам: доля городского населения около 50%, плотность населения – более 50 чел./км²: 1) Хабаровский край; 2) Приморский край; 3) Краснодарский край; 4) Нижегородская область; 5) Московская область</p>								
<p>12. Первым из русских первопроходцев к побережью Тихого океана вышел: 1) И. Москвитин; 2) Я. Санников; 3) С. Дежнёв; 4) Г. Невельской</p>	1	1						
<p>13. Какая из представленных производственных цепочек лишена экономического смысла: 1) Ангара – Братская ГЭС – Братский алюминиевый завод; 2) Курская магнитная аномалия – Лебединский горнообогатительный комбинат – Новолипецкий металлургический комбинат; 3) Енисей – Березовская ГРЭС – Ачинский глиноземный завод; 4) Качканарское железорудное месторождение – Качканарский горнообогатительный комбинат – Нижнетагильский металлургический комбинат – Екатеринбургский завод тяжелого машиностроения «Уралмаш»</p>	3	1						
<p>14. Что общего в специализации промышленности Центрально-Черноземного района России, Украины, Свазиленда, Реюньона, Кубы, Маврикия, Белиза и США? Продолжите ответ: производство...</p>	сахара	1						
<p>15. Что общего между Венгрией и Республикой Коми? Укажите единственно правильный ответ: 1) развиты нефтедобыча, нефтепереработка и экспорт нефти; 2) коренные жители говорят на языках уральской семьи; 3) население исповедует православие; 4) развито транспортное машиностроение; 5) животноводство специализируется на свиноводстве и овцеводстве</p>	2	1						
<p>16. Наименьшую высоту над уровнем моря имеет устье реки: 1) Муррей; 2) Волга; 3) Парана; 4) Иордан</p>	4	1						
<p>17. Установите соответствие между видом продукции и регионом России, специализирующемся на его производстве:</p> <table border="1" data-bbox="92 1218 1155 1733"> <tr> <td data-bbox="92 1218 379 1498"> <p>1</p>  </td> <td data-bbox="379 1218 724 1498"> <p>2</p>  </td> <td data-bbox="724 1218 1155 1498"> <p>3</p>  </td> </tr> <tr> <td data-bbox="92 1498 379 1733"> <p>4</p>  </td> <td data-bbox="379 1498 724 1733"> <p>5</p>  </td> <td data-bbox="724 1498 1155 1733"> <p>6</p>  </td> </tr> </table> <p>А) Свердловская обл.; Б) Липецкая обл.; В) Астраханская обл.; Г) Белгородская обл.; Д) Тверская обл.; Е) Нижегородская обл.</p>	<p>1</p> 	<p>2</p> 	<p>3</p> 	<p>4</p> 	<p>5</p> 	<p>6</p> 	<p>А – 5 Б – 2 В – 1 Г – 4 Д – 3 Е – 6</p>	6
<p>1</p> 	<p>2</p> 	<p>3</p> 						
<p>4</p> 	<p>5</p> 	<p>6</p> 						
<p>18. Найдите ошибку в перечне городов-курортов: 1) Геленджик; 2) Сочи; 3) Краснодар; 4) Кисловодск; 5) Пятигорск; 6) Анапа</p>	3	1						
<p>19. По приведенным характеристикам населения определите субъект РФ, о котором идет речь: Численность населения региона составляет</p>	1	1						

<p>4,3 млн. человек, из которых более 2,8 млн. являются горожанами. Средняя плотность населения составляет более 42 чел./км². В национальной структуре населения преобладают русские (89%), а также украинцы (3%) и армяне (2,5%). Численность населения крупнейшего города составляет более 1 млн. человек.</p> <p>1) Ростовская обл.; 2) Краснодарский край; 3) Саратовская обл.; 4) Омская обл.; 5) Челябинская обл.</p>		
<p>20. Какая из перечисленных ниже экологических проблем наиболее характерна для каждого из следующих субъектов Российской Федерации (по принципу «одна проблема – одна территория») <i>Субъекты Российской Федерации:</i> 1) Брянская обл.; 2) Республика Калмыкия; 3) Курская обл.; 4) Орловская обл.; 5) Новгородская обл.; 6) Республика Коми. <i>Проблемы:</i> а) опустынивание; б) водная эрозия почв; в) кислотные дожди; г) радиационное загрязнение; д) изъятие из оборота пахотных земель вследствие добычи полезных ископаемых; е) перерубы леса.</p>	<p>1 – г 2 – а 3 – д 4 – б 5 – в 6 – е</p>	6
<p>21. Назовите социалистические страны в современном мире</p>	<p>КНР, Куба, КНДР, Вьетнам</p>	4
<p>22. Найдите соответствие между изображенными на флагах государств мира растениями и животными и самими государствами: <i>Растения и животные:</i> 1) орел; 2) райская птица; 3) олива; 4) птица тукан. <i>Государства:</i> а) Кипр; б) Албания; в) Папуа – Новая Гвинея; г) Зимбабве.</p>	<p>1 – б 2 – в 3 – а 4 – г</p>	4
<p>23. Австралия – материк с самой низкой плотностью населения. Объясните причину этого явления: 1) низкая рождаемость здесь сочетается с высокой смертностью населения; 2) коренное население было истреблено в период колонизации; 3) значительная часть материка занята тропическими пустынями.</p>	3	1
<p>24. Определите страну по ее следующему описанию: Территория страны преимущественно горная. Почти две пятых ее площади покрыты лесами. Большая часть населения относится к германской языковой группе. Столица является крупнейшим городом, экономическим и культурным центром страны. Город расположен на обоих берегах Дуная. Великолепные резиденции, дворцы, парки и церкви делают его одним из самых величественных городов мира.</p>	Австрия	1
<p>25. Установите соответствие между наименованием типологической группы и страной, относящейся к ней: <i>Типологические группы:</i> 1) страна «переселенческого капитализма»; 2) беднейшие страны; 3) страны с переходной экономикой; 4) малые высокоразвитые страны; 5) новые индустриальные страны <i>Страны:</i> а) Афганистан; б) Израиль; в) Болгария; г) Албания; д) Бангладеш; е) Южная Корея; ж) Бельгия; з) Сингапур; и) Австрия; к) Новая Зеландия</p>	<p>1 – б, к 2 – а, д 3 – в, г 4 – ж, и 5 – е, з</p>	10
<p>26. Показать эволюцию смены типов экономик стран в процессе развития мирового хозяйства (заполнить пропуски): аграрная экономика → ... → ...</p>	<p>→ индустриальная → постиндустриальная</p>	2
<p>27. Демографическая политика, направленная на повышение рождаемости, проводится в(во):</p>	1	1

1) экономически развитых странах Европы; 2) развивающихся странах Латинской Америки; 3) социалистических странах Азии; 4) всех странах мира.		
28. Приведите в соответствие отрасли промышленности и ведущие факторы их размещения: <i>Отрасли промышленности:</i> 1) авиакосмическая; 2) нефтеперерабатывающая; 3) рафинирование меди; 4) электротехническая. <i>Факторы размещения:</i> а) наукоемкости; б) потребительский; в) трудовых ресурсов; г) энергетический	1 – а 2 – б 3 – г 4 – в	4
29. Определите, о какой стране идет речь в описании: Относится к группе «ключевых стран» развивающегося мира. Развита автомобильная, электронная, металлургическая отрасли промышленности. Сохраняет мировое первенство по производству сахарного тростника, бананов.	Бразилия	1
30. Особенностью политического устройства стран Латинской Америки является отсутствие: 1) государств в составе Британского Содружества; 2) колоний; 3) монархий; 4) республик	3	1
ВСЕГО	80 баллов	

Аналитический раунд

З а д а н и е 1.

Поезд	Пункт назначения	Поезд	Пункт назначения
«Магнитка»	Магнитогорск	«Северная Пальмира»	Санкт-Петербург
«Поморье»	Архангельск	«Сергей Есенин»	Рязань
«Янтарь»	Калининград	«Соловей»	Курск
«Жигули»	Самара	«Текстильный край»	Иваново
«Сибиряк»	Новосибирск	«Иртыш»	Омск

За каждый указанный конечный пункт назначения начисляется 1 балл.

Всего – 10 баллов.

З а д а н и е 2.

Страны-соседи	Страны-соседи
Первый сосед – Швейцария Второй сосед – Чехия ("Татра") Третий сосед – Венгрия ("Икарус") Четвертый сосед – Словения (Сава, Дунай, Черное море, Босфор, Стамбул, Османская империя)	Пятый сосед – Лихтенштейн (немецкий язык) Шестой сосед – Германия (Дунай) Седьмой сосед – Словакия (Карпаты, Герлаховский Штит) Восьмой сосед – Италия (Монблан, ЕС)
Искомая страна – Австрия (2 балла)	

За определение каждой из стран-соседей – по 1 баллу.

Всего – 10 баллов

Максимальное количество баллов по итогам двух раундов составляет **100**.