

**Заключительный этап (очный) Всесибирской олимпиады по физике**

**3 марта 2019 г.**

**Задачи 7 класс**

**Возможные решения (максимум 10 баллов за задачу)**

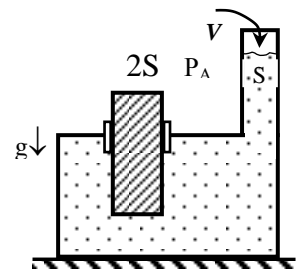
1. Между поселками А и Б есть грунтовая дорога длиной 280 км. Дорогу по всей длине размывли сильные дожди. Дорожная машина, которая выравнивает поверхность дороги от края до края за один проход, выезжает в 6-00 утра из гаража в п. А. В 24-00 машина должна заехать обратно в гараж на техобслуживание. Успеет ли эта машина за 2 рабочих дня выровнять всю дорогу до п. Б, если по ровной дороге машина едет со скоростью 40 км/ч, а по размывтой - со скоростью, втрое меньшей?

*Решение:* Обозначим:  $T=18$  ч - время работы машины,  $V_1=40$  км/ч - скорость движения по ровной дороге,  $V_2$  - скорость движения во время работы на размывтой дороге,  $L_1$  - длина участка дороги, который машина успевает разровнять за первый день,  $L_2$  - за второй.

Поскольку машине надо вернуться в гараж через время  $T$  после начала работы, а возвращается она по уже выровненной дороге, то  $T=L_1/V_1+L_1/V_2$  (+1 балл), отсюда находим  $L_1=T \cdot V_1/4=180$  км (+1 балл). На второй день машина должна проезжать расстояние между гаражом и местом работы, равное  $L_1$ , поэтому на всю работу остается времени  $T/2$ , а выровненный участок будет иметь длину  $L_2=L_1/2=90$  км (+ 2 балла). Можно также составлять уравнения вида  $T=2L_1/V_1+L_2/V_2 + L_2/V_1$  и т.п. Т.е. всего за два дня будет выровнено  $L_1+L_2=270$  км < 280 км (+2 балла), т.е. при режиме работы, описанном в условии, за два дня машина всю дорогу отремонтировать не успеет (за явную формулировку ответа при наличии обоснования +2 балла).

Если рассуждения и ответ правильные, но из-за ошибок округления длины отрезков дороги, ремонтируемой за день, рассчитаны неточно, то всего ставится 8 баллов.

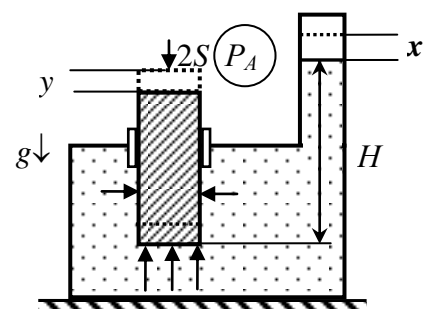
2. Сосуд с жидкостью сверху имеет крышку, в которой есть два отверстия, с площадями сечения  $S$  и  $2S$ . Из более узкого отверстия выходит вертикальная трубка такого же сечения. В широкое отверстие вставлен гладкий цилиндр, который может свободно двигаться по вертикали (жидкость при этом не вытекает и воздух не проходит). Известно, что в начальной ситуации (см. рисунок) система находится в равновесии. Насколько сдвинется цилиндр, если в вертикальную трубку дополнительно долить объем  $V$  той же жидкости, которая находится в сосуде?



*Решение:*

Обозначим искомое смещение цилиндра как  $y$ , а сопутствующее изменение уровня жидкости в трубке как  $x$ . Для промежуточных вычислений введем обозначение  $H$  для разницы уровня жидкости в трубке и нижнего края цилиндра в исходном состоянии,  $\rho$  - плотность жидкости.

Условие равновесия цилиндра в этом состоянии записывается как



$$M \cdot g = 2S \cdot (P_A + \rho g H) - 2S \cdot P_A = 2S \cdot \rho g H \quad (+ 2 \text{ балла})$$

Заметим, что формально вычислять силу, действующую на цилиндр, с помощью "закона Архимеда"  $F = \rho g V$ , неправильно, так как давление в жидкости у самой крышки не равно атмосферному - крышка дополнительно "давит" на жидкость сверху вниз.

После заливания в трубку дополнительной жидкости замещаемый цилиндром объем жидкости уменьшится на  $2Sy$ . В силу несжимаемости жидкости, т.е. постоянства ее объема, можно записать, что  $2Sy + Sx = V$  (+2 балла).

В новом положении цилиндра условие его равновесия имеет вид

$$M \cdot g = 2S \cdot (P_A + \rho g H + x - y) - 2S \cdot P_A = 2S \cdot \rho g (H + x - y) \quad (+ 2 \text{ балла})$$

Комбинируя два условия равновесия, получаем, что  $x - y = 0$ , т.е.  $x = y$  (+ 2 балла).

Таким образом, получаем  $y = \frac{V}{3S}$  (+ 2 балла).

Если в решении никак не учитывается наличие атмосферного давления и при этом не объяснено, что ответ от этого не меняется, то ставится максимум 8 баллов.


3. Группа из 22 туристов придумала развлечение на целый день. Туристы по очереди прыгают с обрыва в горную реку в спасжилетах, и их сносит на 400 м вниз по течению. Затем каждый турист сразу выходит по тропе к месту прыжка и снова прыгает. При этом средняя скорость движения туриста по тропе в 4 раза меньше скорости течения реки. Сколько туристов в среднем одновременно находится в реке, если длина тропы равна 1 км? Считать, что туристы распределены по реке и тропе равномерно.

*Решение:* Обозначим искомое число одновременно плывущих туристов как  $N_1$ , полное число «развлекающихся» туристов  $N_0 = 22$ , среднее время подъема по тропе вверх  $T_B$ , время спуска –  $T_C$ , длина участка реки для сплава –  $L$ , скорость течения  $V$ . Тогда  $T_C = L/V$ ,  $T_B = 2.5 \cdot L/(V/4) = 10 \cdot T_C$  (+1 балл).

Это означает, что за время  $T_C$  всего  $N_1$  человек вылезает из воды (+ 1 балл), т.е. каждые  $T_C/N_1$  единиц времени (часов) на берегу появляется новый человек (+ 1 балл). Аналогично, по тропе одновременно идут вверх  $(N_0 - N_1)$  человек (+ 1 балл), и у каждого из них такой подъем занимает время  $T_B$ . Другими словами, каждые  $T_B/(N_0 - N_1)$  единиц времени (часов) наверху оказывается 1 человек (+ 1 балл).

Поскольку все периодически повторяется, то есть количество людей в реке и на тропе остается постоянным, т.е. на каждого вылезшего должен приходиться один спрыгнувший, то  $T_C/N_1 = T_B/(N_0 - N_1)$  (+ 2 балла). Так как  $T_B = 10 \cdot T_C$ , то  $(N_0 - N_1) = 10 \cdot N_1$  (+ 1 балл) т.е.  $N_1 = N_0/11 = 2$  человека (+ 2 балла)

4. Четверо жителей Цветочного города нашли длинную пружину и стали ставить с ней разные опыты. Когда они взялись за пружину




в точках А, В, С и D (А и D – концы, В и С делят нерастянутую пружину на три равные части) и стали действовать на пружину с одинаковыми силами в направлении от середины, то между точками А и D расстояние увеличилось на  $L$  по сравнению с длиной нерастянутой пружины. Каково станет удлинение пружины, если жители возьмутся парами за ее концы и будут тянуть за них с прежними силами? Считать, что пружина однородна по длине и подчиняется закону Гука.

Решение: Обозначим для промежуточных вычислений величину силы, которую прикладывает к пружине один житель как  $F$ , коэффициент жесткости всей пружины обозначим  $k$ .



Представим всю пружину как три последовательно соединенных одинаковых пружины втрое меньшей длины, у которых концы соединены в точках В и С. Коэффициент жесткости каждой такой короткой пружины равен  $3k$  (+2 балла), что непосредственно следует из того, что три последовательно соединенных части пружины имеют коэффициент жесткости  $k$ .

Для определенности будем считать, что силы, прикладываемые жителями к пружине в точках В и С, приложены к концам средней (воображаемой) пружины, а к концам крайних пружин приложены только силы со стороны концов средней пружины. Это деление условно, легко проверить, что ответ от этого не зависит. Например, можно считать, например, что в этих точках к обеим соединенным пружинам приложено по  $F/2$  и т.п. От такого условного деления будет также зависеть величина  $F_{II}$  силы взаимодействия между условными концами коротких пружин.



Таким образом, в начальной ситуации к концам средней части пружины между точками В и С приложены силы величиной по  $(F+F_{II})$ . Части всей пружины между точками А и В, а также точками С и D, растягиваются силами, равными  $F$  и  $F_{II}$  (как показано на рисунке). Отсюда следует, что  $F=F_{II}$  (+1 балл), т.е. удлинения крайних пружин равны  $F/3k$  (+1 балл), а удлинение средней пружины равно  $2F/3k$  (+1 балл). Будет излишним напомнить, что в закон Гука входит величина каждой из двух сил, приложенных к концам пружины, а не их сумма.



Удлинение всей пружины в начальной ситуации составит

$L=(F/3k+2F/3k+F/3k)=4F/3k$  (+2 балла за установление связи между удлинением и пружины и ее характеристиками в начальной ситуации).

Если жители возьмутся парами за концы всей пружины, то ее искомое удлинение составит  $2F/k$  (+1 балл), т.е.  $3L/2$  (+2 балла).