

10 класс

Задача оценивается в 5 баллов при полном решении и правильном ответе в указанных в условии единицах. Если требуется найти несколько величин, то их значения приводятся в ответе через точку с запятой. Числовой ответ, если иное не оговорено в условии, округляется до трёх значащих цифр. Например, полученное расчетом число 328,51 округляется до 329; 2,003 – до 2,00; 5,0081 – до 5,01; 0,60135 – до 0,601 и т.д. Ответ (округлённый) нужно внести в таблицу. При невыполнении любого из требований за задачу ставится 0 баллов. Без представления таблицы работа не проверяется.

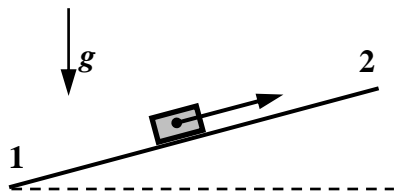
1. Открытый без крыши вагон (железнодорожники их называют полувагонами) высотой $H = 4,5$ м движется с постоянной скоростью $U = 6$ м/с. Сразу, как только вагон проехал мимо грузчика, тот попытался закинуть через заднюю стенку вагона небольшой мешок. Какую минимальную скорость V (в м/с) при этом необходимо сообщить мешку? Известно, что при забрасывании мешка грузчик «отпускает» его на высоте $h = 1$ м от уровня земли. Ускорение свободного падения $g = 9,8$ м/с². Сопротивлением воздуха пренебречь.

Возможное решение

$$V_y = \sqrt{2g(H-h)} \quad V_x = U \quad V = \sqrt{V_x^2 + V_y^2} = \sqrt{U^2 + 2g(H-h)}$$

Вертикальная составляющая искомой скорости должна быть не меньше $V_y = \sqrt{2g(H-h)}$, а горизонтальная – не меньше $V_x = U$. В результате модуль искомой скорости $V = \sqrt{V_x^2 + V_y^2} = \sqrt{U^2 + 2g(H-h)} = \sqrt{36 + 68,6} \approx 10,2$ м/с.

Ответ: 10,2 или 10,2 м/с.



2. Тело медленно втягивают вверх вдоль наклонной плоскости, ориентированной под углом $\alpha = 30^\circ$ к горизонтали. При его смещении из точки 1 в точку 2 совершили работу $A = 50$ Дж. В точке 2 тело отпустили. К моменту, когда тело при соскальзывании снова оказалось в точке 1, выделилось тепло $Q = 20$ Дж. Чему равен коэффициент трения μ между телом и наклонной плоскостью? Ответ округлите до 2-х значащих цифр.

Возможное решение

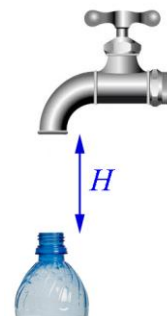
Работа при затаскивании тела массы m на расстояние L вверх по наклонной плоскости $A = mgL(\sin\alpha + \mu \cos\alpha)$ (1).

Выделившееся при соскальзывании тепло $Q = \mu mgL \cos\alpha$ (2).

Разделив (1) на (2), получаем $\mu = \frac{tg\alpha}{A/Q - 1} \approx 0,38$.

Ответ: 0,38.

3. Горлышко бутылки с внутренним диаметром $D = 1$ см находится на расстоянии $H = 10$ см ниже водопроводного крана, внутренний диаметр носика которого $D_0 = 2$ см. Центры горлышка бутылки и носика крана находятся на одной вертикали. При каком максимальном расходе воды Q_0 (в л/с) вся вода будет попадать в бутылку? Ускорение свободного падения $g = 9,8$ м/с². Считать течение воды спокойным (ламинарным).



Возможное решение

Скорость на уровне горлышка: $V^2 = V_0^2 + 2gH$. Условие непрерывности (вся вода попадает в горлышко):

$$Q_0 = \pi V_0 D_0^2 = \pi V D^2, \text{ откуда получаем } V_0 = \sqrt{\frac{2gH}{D_0^4/D^4 - 1}}. \quad Q_0 = \pi V_0 D_0^2 / 4 = \sqrt{\frac{gH}{8(D_0^4/D^4 - 1)}} \cdot \pi D_0^2 \approx 0,114 \text{ л/с.}$$

Ответ: 0,114 л/с.

4. Спортсмен совершает метание молота по траектории, обеспечивающей максимальную дальность. В очередной попытке высокоскоростная видеокамера зафиксировала молот на высоте $h = 10$ м в момент, когда он находился на расстоянии $s = 12$ м от места броска по горизонтали. На каком расстоянии (в метрах) от спортсмена упадет молот? Влиянием воздуха пренебречь.

Возможное решение

Обозначим искомое расстояние L , скорость молота V_0 . Пусть t – время полета молота до местоположения, зарегистрированного камерой. По условию задачи $s = V_0 \cos \alpha \cdot t$, $h = V_0 \sin \alpha \cdot t - gt^2/2$ (1), Выразив из 1-го уравнения (1) t через s и, подставив во 2-е уравнение (1), получим

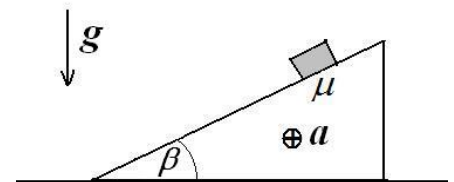
$$h = s \cdot t g \alpha - \frac{gs^2}{2V_0^2 \cos^2 \alpha} \quad (2)$$

Для оптимальной траектории (траектории, соответствующей максимальной дальности) в отсутствие сопротивления воздуха $\sin \alpha = 45^\circ$, и из (2) получим $h = s - \frac{gs^2}{V_0^2}$ (3).

Максимальное расстояние при $\sin \alpha = 45^\circ$, $L = \frac{V_0^2}{g}$ (4). Подставляя (4) в (3) $h = s - \frac{s^2}{L}$ или $L - \frac{s^2}{s-h} = 72$ м.

Ответ: 72 или 72 м.

5. Брусек лежит на клине, плоскость которого наклонена к горизонту под углом $\beta = 30^\circ$. Клин начинают двигать по горизонтали с ускорением $a = 0,5g$ (g – ускорение свободного падения) в направлении, перпендикулярном плоскости рисунка. При каком минимальном коэффициенте трения μ между бруском и поверхностью клина брусек не будет скользить по клину? Ответ получить с точностью до 2-х значащих цифр.



Возможное решение

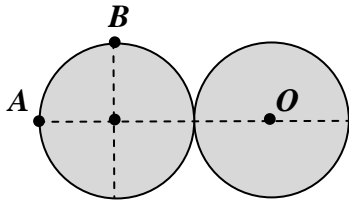
На брусек действует сила тяжести, сила реакции опоры N , сила трения F . В итоге брусек движется горизонтально с ускорением a . Проекция сил на ось, нормальную к поверхности бруска $0 = N - mg \cos \beta$. Проекция сил на оси: одну, направленную перпендикулярно плоскости рисунка, и вторую, направленную вниз вдоль наклонной клина, соответственно, $ma = F_1$ и $0 = F_2 - mg \sin \beta$. Перпендикулярно клину действует реакция $N = mg \cos \beta$, в плоскости клина компоненты силы трения $F_1 = mg \sin \beta$ и $F_2 = ma$.

Полная сила трения должна быть меньше μN : $F = \sqrt{F_1^2 + F_2^2} \leq \mu N$ или $m\sqrt{a^2 + (g \sin \beta)^2} \leq \mu mg \cos \beta$.

Откуда получим ответ: $\mu \geq \sqrt{(a/g \cos \beta)^2 + \tan^2 \beta}$.

При $\beta = 30^\circ$, $a = 0,5g$ $\mu \geq \sqrt{(2/2\sqrt{3})^2 + (1/\sqrt{3})^2} = \sqrt{2/3} \approx 0,82$.

Ответ: 0,82.



6. Комета представляет собой два соприкасающихся скрепленных между собой шара одинакового размера и массы. Во сколько раз ускорение свободного падения в т. B будет меньше, чем ускорение свободного падения в т. A ?

Возможное решение

Пусть радиус каждого шара равен R , Если для одиночного шара ускорение свободного падения на его поверхности равно g_0 , то на расстоянии от его

центра $r > R$ ускорение свободного падения (из закона всемирного тяготения): $g = g_0 \frac{R^2}{r^2}$.

Точка A находится на расстоянии $3R$ от центра O «правого» шара.

Поэтому из принципа суперпозиции ускорение свободного падения в т. A $g_A = g_0 + g_0 \frac{R^2}{(3R)^2} = \frac{10}{9} g_0$.

Точка B находится на расстоянии $\sqrt{R^2 + 4R^2} = \sqrt{5}R$ от центра O «правого» шара, а вектор ускорения свободного падения от этого шара направлен вдоль отрезка OB и равен $g = g_0 \frac{R^2}{5R^2} = \frac{g_0}{5}$.

Проекция этого вектора на горизонтальную ось $\frac{g_0}{5} \frac{2}{\sqrt{5}}$ совпадает с полной проекцией на эту ось.

Проекция этого вектора на вертикальную ось $\frac{g_0}{5} \frac{1}{\sqrt{5}}$.

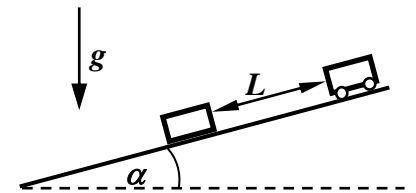
Полная проекция на вертикальную ось $\frac{g_0}{5} \frac{1}{\sqrt{5}} + g_0 = \left(1 + \frac{1}{5\sqrt{5}}\right) g_0$.

Ускорение свободного падения в т. B определяется по теореме Пифагора:

$$g_B = g_0 \sqrt{1 + \frac{1}{125} + 2 \frac{1}{\sqrt{5}} \frac{1}{5} + \frac{4}{125}} \approx 1,104 g_0. \text{ Следовательно, } g_A = \frac{10}{9} g_0 \approx \frac{10}{9 \cdot 1,104} g_B \approx 1,01 g_B.$$

Ответ: 1,01 или в 1,01 раз.

7. Тележка и ящик с равными массами удерживаются на расстоянии $L = 50$ см друг от друга на плоскости, наклоненной под углом $\alpha = 15^\circ$ к горизонту. Тележку отпускают. На какое расстояние x сместится ящик по плоскости за время между 1-м и 2-м упругими соударениями? Коэффициент трения скольжения между ящиком и плоскостью $\mu = 0,4$, трением между тележкой и плоскостью пренебречь. Ответ получить в сантиметрах с точностью до 2-х значащих цифр.



Возможное решение

Скорость тележки перед 1-м соударением $V_0 = \sqrt{2gL \sin \alpha}$ (1).

После взаимодействия тележка останавливается, а ящик приобретает скорость V_0 .

Далее ящик движется равнозамедленно с ускорением $\mu g \cos \alpha - g \sin \alpha$, а тележка – равноускоренно с ускорением $g \sin \alpha$.

Зависимость от времени расстояния, пройденного

тележкой $\frac{g \sin \alpha}{2} t^2$ (2) и ящиком $V_0 t - \frac{(\mu g \cos \alpha - g \sin \alpha)}{2} t^2$ (3).

Приравнявая (2) и (3), находим время движения ящика до 2-го соударения $t_{1-2} = \frac{2V_0}{\mu g \cos \alpha}$ (4).

Проверим, сохраняет ли движение ящик перед 2-м соударением. Его скорость

$$V_0 - (\mu g \cos \alpha - g \sin \alpha)t_{1-2} = V_0 - 2V_0 \left(1 - \frac{\operatorname{tg} \alpha}{\mu}\right) = V_0 \left(\frac{2\operatorname{tg} \alpha}{\mu} - 1\right) > 0, \text{ так как } \operatorname{tg} \alpha \approx 0,268. \text{ Все верно.}$$

Подставляя (4) в (3) $V_0 \frac{2V_0}{\mu g \cos \alpha} - \frac{(\mu g \cos \alpha - g \sin \alpha)}{2} \left(\frac{2V_0}{\mu g \cos \alpha}\right)^2 = \frac{2V_0^2 \sin \alpha}{\mu^2 g \cos^2 \alpha}$

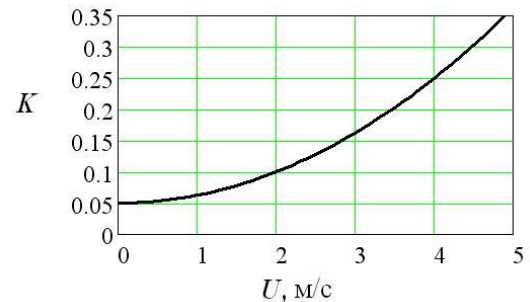
С учетом (1) $\frac{2V_0^2 \sin \alpha}{\mu^2 g \cos^2 \alpha} = L \frac{4}{\mu^2} \operatorname{tg}^2 \alpha \approx 88 \text{ см.}$

Комментарий. Если вы не имеете на калькуляторе специально «тригонометрической опции», то для расчета тангенса 15° удобно выразить его через косинус двойного угла

$$\operatorname{tg} 15^\circ = \frac{\sin 15^\circ}{\cos 15^\circ} = \frac{\sqrt{1 - \cos 30^\circ}}{\sqrt{1 + \cos 30^\circ}} = \frac{\sqrt{1 - \sqrt{3}/2}}{\sqrt{1 + \sqrt{3}/2}} \approx 0,268.$$

Ответ: 88 или 88 см.

8. На графике представлены результаты испытания – зависимость доли потерянной кинетической энергии некой массивной тележки от ее скорости после удара об абсолютно твердую стенку очень большой массы. На гладком горизонтальном столе эта тележка наезжает со скоростью $U_0 = 4 \text{ м/с}$ на точно такую же, покоящуюся. Найти скорости тележек после лобового удара. Ответ выразить в м/с.



Возможное решение

Потери энергии равны потерям энергии 2-х тележек, движущихся со скоростью $U_0/2$.

При скорости $U_0/2 = 2 \text{ м/с}$ коэффициент потерь равен 0,1.

Полная потеря равна $2 \cdot 0,1 \cdot m \frac{U^2}{8} = Km \frac{U^2}{2}$, где m – масса одной тележки. То есть, потеря энергии в

нашем случае равняется $K_0 m \frac{U^2}{2}$, где коэффициент потерь $K_0 = 0,05$.

С учетом этого, запишем ЗСЭ и ЗСИ при лобовом ударе.

$$\begin{cases} (1 - K_0) \frac{mU_0^2}{2} = \frac{mU_1^2}{2} + \frac{mU_2^2}{2} & (1) \quad \text{Решая квадратное уравнение (1), получим} \\ mU_0 = mU_1 + mU_2 \end{cases}$$

$$U_1 = \frac{U_0}{2} (1 + \sqrt{1 - 2K_0}) \approx 3,897 \text{ м/с}, \quad U_2 = \frac{U_0}{2} (1 - \sqrt{1 - 2K_0}) \approx 0,103 \text{ м/с.}$$

Задачу можно решить методически проще, переходя в систему отсчета, движущуюся со скоростью $U_0/2$, а после лобового удара – обратно.

По определению доли потерянной энергии $\frac{mU^2}{2} = (1 - K) \frac{mU_0^2}{2}$. Т. е., при скорости тележки U_0 , ее

скорость после удара о массивную стенку равна $U = U_0 \sqrt{1 - K}$ (2), где коэффициент K соответствует U_0 . При наезде одной тележки на другую в системе отсчета, движущейся со скоростью $U_0/2$, скорости тележек будут равны $U_0/2$ и направлены навстречу друг другу. Согласно (2) скорости тележек после

удара будут $\frac{U_0}{2} \sqrt{1 - K}$ и $-\frac{U_0}{2} \sqrt{1 - K}$ соответственно. Здесь K соответствует $U_0/2$ ($K = 0,1$ для

$U_0/2 = 2$ м/с). При переходе обратно в лабораторную систему стола (добавляя $U_0/2$ к скорости каждой тележки) получим $U_1 = \frac{U_0}{2}(1 + \sqrt{1-K}) \approx 3,897$ м/с, $U_2 = \frac{U_0}{2}(1 - \sqrt{1-K}) \approx 0,103$ м/с.

Ответ: 3,90; 0,103 или 3,90 м/с; 0,103 м/с.

9. В пенал вставлены четыре разных шарика, разделенных одинаковыми прикрепленными к ним пружинами. Крайние пружины прикреплены к пеналу. Когда пенал установили вертикально, длины пружин приняли указанные на рисунке значения (в сантиметрах). Пенал перевернули. Какой после этого будет длина - Y_1 нижней (в новом положении пенала) пружины? Ответ выразить в сантиметрах.

Возможное решение

Если соседние пружины (например, 1 и 2) растянуты по отношению к недеформированному состоянию на $\Delta X_1 = X_1 - X_0$ и $\Delta X_2 = X_2 - X_0$, соответственно, то в равновесии

$$mg = k(\Delta X_1 - \Delta X_2) = k(X_1 - X_2) \quad (1),$$

где m - масса 1-го (верхнего) шарика.

При этом ответ будет тот же и для растянутых ($\Delta X > 0$) и для сжатых пружин ($\Delta X < 0$).

Аналогично (1) записывается условие равновесия для любого шарика, из которых следует, что 2-й шарик имеет массу $2m$, 3-й - m , 4-й (нижний) - $2m$.

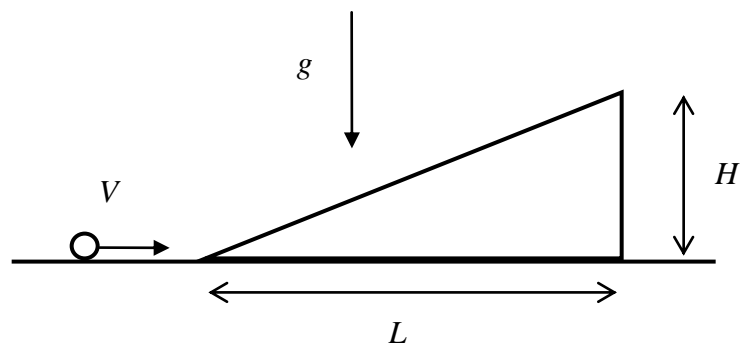
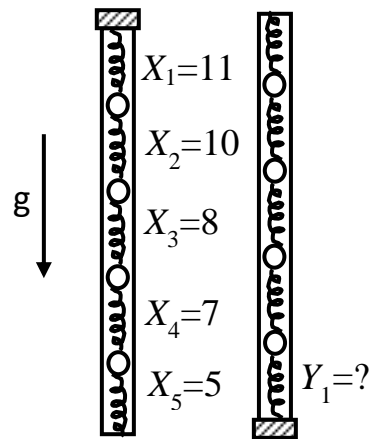
После переворачивания пенала массы шариков сверху будут распределены массам как $2m, m, 2m, m$.

Сумма длин всех пружинок сохранится.

$$X_1 + X_2 + X_3 + X_4 + X_5 = 11 + 10 + 8 + 7 + 5 = 41 \text{ см.} \quad \text{Следовательно, } Y_1 + Y_2 + Y_3 + Y_4 + Y_5 = 41 \text{ см} \quad (2)$$

Используя опять условия равновесия шариков, получим $Y_5 - Y_4 = 2$, $Y_4 - Y_3 = 1$, $Y_3 - Y_2 = 2$, $Y_2 - Y_1 = 1$, а с учетом (2) $Y_1 + (Y_1+1) + (Y_1+3) + (Y_1+4) + (Y_1+6) = 41$ см или $5Y_1 = 27$ см.

Ответ: 5,4 или 5,4 см.



10. На трамплин высотой $H = 10$ м и горизонтальной протяженностью $L = 20$ м со скоростью $V = 10$ м/с «налетает» шарик. На какую максимальную высоту (в метрах) он поднимется, если удары о трамплин упругие? Ускорение свободного падения $g = 9,8$ м/с². Ответ округлить до двух значащих цифр.

Возможное решение

Направим горизонтальную ось вдоль трамплина. Обозначим угол между плоскостью трамплина и горизонталью α . Интервал между ударами:

$$\tau = \frac{2v_{\perp}}{g_{\perp}} = \frac{2v \sin \alpha}{g \cos \alpha}.$$

После N -го отскока $v_{\parallel} = v \cos \alpha - g \sin \alpha (N-1)\tau$, $v_{\perp} = v \sin \alpha$.

Горизонтальная составляющая скорости $v_x = v_{\parallel} \cos \alpha - v_{\perp} \sin \alpha = v(\cos^2 \alpha - \sin^2 \alpha) - 2v \sin^2 \alpha (N-1)$, $v_x = v(1 - 0,4N)$. При каждом ударе слева направо горизонтальная составляющая скорости уменьшается. Максимальная высота достигается при минимальной горизонтальной составляющей скорости. Минимальная горизонтальная скорость после 2-го удара: $v_{x2} = 0,2v$. Высоту определим из закона

$$\text{сохранения энергии: } \frac{mv^2}{2} = mgh + \frac{mv_{x2}^2}{2}.$$

Ответ: 4,9 или 4,9 м.

№ задачи	Ответ
1.	10,2 или 10,2 м/с
2.	0,38
3.	0,114 л/с
4.	72 или 72 м
5.	0,82
6.	1,01 или в 1,01 раз
7.	88 или 88 см
8.	3,90; 0,103 или 3,90 м/с; 0,103 м/с
9.	5,4 или 5,4 см
10.	4,9 или 4,9 м