

## 1. Задача 1



Восстание в Варшавском гетто в ходе Второй мировой войны произошло в:

1	1941 г.
2	1942 г.
3	1943 г.
4	1944 г.

## 2. Задача 2



Св. Константин-Кирилл, первоучитель славян скончался в

1	Константинополе
2	Охриде
3	Фессалониках
4	Риме

### 3. Задача 3



В битве при Андрианополе был взят в плен и впоследствии убит

1	Карл Анжуйский
2	Балдуин Фландрский
3	Ричард Львиное Сердце
4	Энрико Дандоло

### 4. Задача 4



Как называются территории Ближнего Востока, на которых на рубеже мезолита и неолита сложились первые в истории человечества земледельческие и скотоводческие культуры?

1	Золотой Рог
2	Благодатный Пояс
3	Плодородный Полумесяц
4	Плодородный Треугольник

## 5. Задача 5



Какое название употребляется по отношению к культовой постройке в буддийской религии?

1	зиккурат
2	мастаба
3	ларарий
4	ступа

## 6. Задача 6

В «Апологии Сократа» Платон вкладывает Сократу в уста следующие слова: «В самом деле, если вы (афиняне) меня убьете, то вам нелегко будет найти еще такого человека, который, смешно сказать, приставлен к городу как \_\_\_\_\_ к лошади, большой и благородной, но обленившейся от тучности и нуждающейся в том, чтобы ее подгоняли».

Восстановите пропущенное слово:

1	ОВОД
2	КНУТ
3	КОНЮХ
4	наездник

## 7. Задача 7



Первый советский лидер, совершивший визит в США

1	И. Сталин
2	Ю. Андропов
3	Н. Хрущев
4	М. Горбачев

## 8. Задача 8

Одним из важнейших принципов архаического права является т.н. талион. Укажите одну из четырех приведенных статей Законов Хаммурапи – законодательного свода, сложившегося в Месопотамии XVIII в. до н.э., в котором проявился этот принцип:

1	(§ 195) Если сын ударил своего отца, то ему должны отрубить руку...
2	(§ 196) Если человек выколол глаз сыну человека, то должны выколоть ему глаз

(§ 198) Если он выколол глаз мушкенуму или переломил кость мушкенуму, то он должен отвесить 1 мину серебра
--

(§ 205) Если раб человека ударил по щеке сына человека, то ему должны отрезать ухо
--


## 9. Задача 9



Укажите битвы, произошедшие в период Первой мировой войны

1	Битва на Марне
2	Битва за Мадагаскар
3	Битва при Вердене
4	Битва при Нарвике
5	Битва за Берлин

## 10. Задача 10



Эти события произошли в Европе до воцарения Василия I в Московских землях

1	Вацлав II становится королем Польши
2	восстание гуситов
3	Марко Поло совершает путешествие в Азию
4	Флорентийская уния
5	начало эпидемии «черной смерти»

## 11. Задача 11



Какие из нижеперечисленных исторических событий произошли в понтификат папы Юлия II:

1	роспись Джотто ди Бондоне капеллы дель Арена в Падуе
2	роспись Микеланджело свода Сикстинской капеллы
3	начало открытой борьбы между католиками и гугенотами во Франции
4	присоединение Пскова к Великому Княжеству Московскому
5	венчание на царство Ивана IV Грозного


## 12. Задача 12



При жизни Ивана Грозного были созданы

1	«Автопортрет в одежде, отделанной мехом» А. Дюрера
2	«Возвращение блудного сына» Рембрандта
3	«Кающаяся Мария Магдалина» Тициана
4	«Мона Лиза» Л. да Винчи
5	«Охотники на снегу» П. Брейгеля-старшего

## 13. Задача 13



Какие из нижеперечисленных авторов известных литературных и музыкальных произведений используют один и тот сюжет, главный герой которого изображен на рисунке Эмиля Байяра «Фигаро»:

1	Джоаккино Россини
2	Джузеппе Верди
3	Пьер Бомарше
4	Джакомо Пуччини
5	Жан Расин

## 14. Задача 14

Установите соответствия между датами и событиями европейской истории.

1	Нантский эдикт	<input type="text"/>
2	Битва при Лепанто	<input type="text"/>
3	Обнародование М. Лютером 95 тезисов против продажи индульгенций	<input type="text"/>
4	Варфоломеевская ночь	<input type="text"/>
5	Гибель «Непобедимой армады»	<input type="text"/>



Возможные ответы

1	1572
2	1517
3	1588
4	1571
5	1598

Система оценивания

## 15. Задача 15\*


Установите соответствия между мемориальными сооружениями и историческими событиями, в честь которых они были воздвигнуты или перестроены:

1-победа в Семилетней войне (1756-1763)

2-победа Германика над германскими племенами

3-победа над императором Максенцием

4-в ознаменование побед Великой армии(вооруженных сил Первой империи во Франции)



1

триумфальная арка Константина в Риме

2



триумфальные арка на площади Шарля де Голля (Звезды) в Париже

3



Бранденбургские ворота в Потсдаме

4



триумфальная арка в Оранже (Франция)

Возможные ответы

1	1
2	2
3	3
4	4

Система оценивания

## 16. Задача 16\*

Установите соответствия между названиями библиотек, сыгравших большую роль в мировой культуре и их месторасположением:



1

Библиотека Ашшурбанипала

2




Палатинская библиотека

3



Библиотека Медичи Лауренциана

4



Библиотека Цельса



Возможные ответы

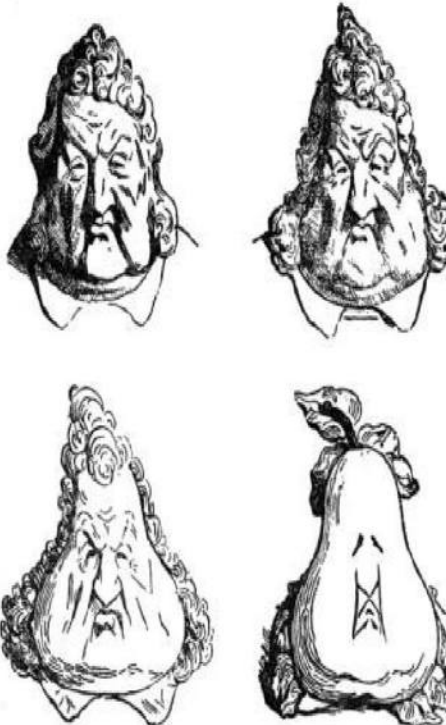


1	Эфес
2	Флоренция
3	Ниневия
4	Гейдельберг


Система оценивания

**17. Задача 17\***

Установите соответствия между временем ПРАВЛЕНИЯ упомянутых государственных деятелей и ниже приведёнными событиями в мировой культуре:

1		Александр I, император Всероссийский	
2		Луи-Филипп I, король Франции	

	
3	<p>Александр II, император Всероссийский</p> 
4	 <p>Франц Фердинанд, эрцгерцог австрийский</p>



## Возможные ответы

1	Жюль Верн опубликовал роман Дети капитана Гранта
2	Максим Горький написал роман Мать
3	Людвиг ван Бетховен написал Аппassionату
4	выход в свет полного издания романа А. С. Пушкина Евгений Онегин

## Система оценивания

**18. Задача 18**



Соотнесите политических деятелей социалистического лагеря и страны, которыми они руководили

А. Дубчек

Я. Кадар

Э. Ходжа

В. Ярузельский

Возможные ответы

1	1
2	2
3	3
4	4
5	5
6	6

Система оценивания

## 19. Задача 19

Расположите события в хронологической последовательности

1	«Ультиматум» лорда Керзона	<input type="text"/>
2	Расстрел адмирала Колчака	<input type="text"/>
3	Начало Северного похода Гоминьдана	<input type="text"/>
4	Смерть В.И.Ленина	<input type="text"/>
5	Приход к власти Муссолини в Италии	<input type="text"/>

Возможные ответы

1	1
2	2
3	3
4	4
5	5

Система оценивания

## 20. Задача 20\*



На этом полотне Жака-Луи Давида изображено ключевое событие заседаний «

\_\_\_\_\_» в \_\_\_\_\_ г. Объявившие себя Учредительным собранием, депутаты от третьего сословия и, присоединившиеся к ним, собрались в Зале \_\_\_\_\_ для игры в мяч и поклялись не расходиться до утверждения \_\_\_\_\_.

*Ответы (название органа власти, дату и название документа) запишите в именительном падеже, например: конклав, 1202, Диктат папы.*

Система оценивания

## 21. Задача 21

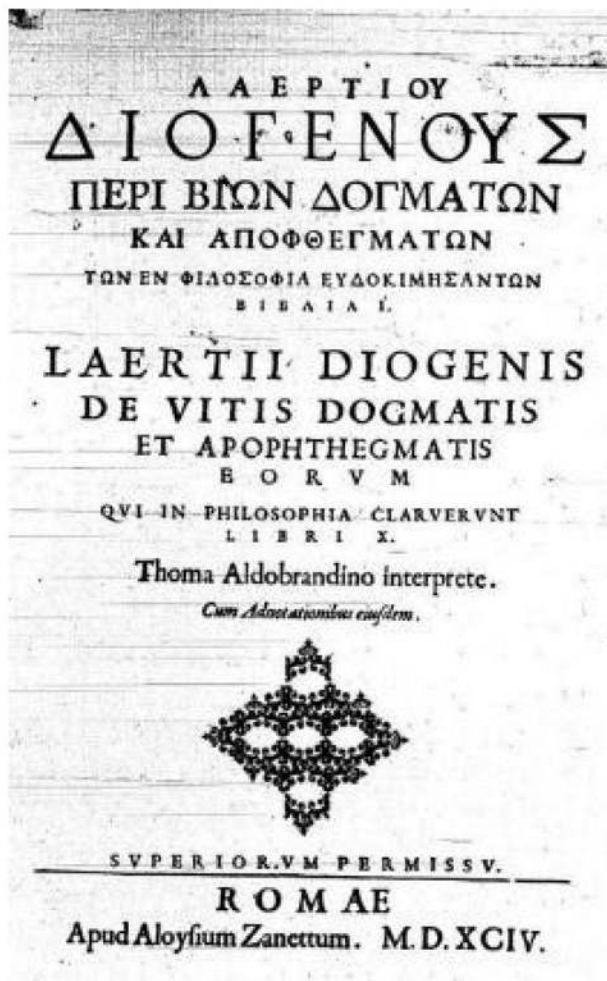


Перед вами фрагмент из воспоминаний советского дипломата И.М. Майского. Прочитайте текст источника и заполните пропуски:

«18 декабря 1941 г., через 12 дней после нападения  на , Черчилль в особом меморандуме развил свой план ведения войны. В нем он детально рассматривал те шаги, которые Англия и США должны были предпринять в Атлантике и на Тихом океане, а затем, переходя к сухопутным операциям, набрасывал те условия, при которых, по его мнению, можно было  всерьез говорить об открытии второго-фронта в Северной ».

Ответ запишите в **именительном падеже**, например: Австралия, Сан-Франциско, Армения

Система оценивания



В одном из своих произведений знаменитый автор IV в. до н.э. Ксенофонт писал о своем учителе: «Он говорил, что глупо должностных лиц в государстве выбирать посредством бобов, тогда как никто не хочет иметь выбранного с помощью бобов рулевого, плотника, флейтиста или исполняющего другую подобную работу, ошибки которой приносят гораздо меньше вреда, чем ошибки в государственной деятельности»

Как называется способ избрания должностных лиц, при осуществлении которого использовались бобы? Напишите свой ответ в именительном

падеже, например: голосование.

Система оценивания



**23. Задача 23\***

Решив написать роман о Риме, французский писатель Эмиль Золя в 1893 г. предпринял путешествие в столицу Итальянского королевства. В дневнике он так описал это архитектурное сооружение древности:

«Огромная масса, одна сторона обвалилась, другая стоит, в проемах светит небо. Со всех сторон – сводчатые коридоры, выходящие в никуда, источенные лестницы похожие на горные склоны. Колосс напоминает каменное кружево, светящееся на синем фоне. Сверху синее, ясное-ясное небо, по нему несутся крохотные облачка. Как можно было натянуть здесь огромный тент? Пытаюсь представить себе... восемьдесят тысяч зрителей, ложа императора, весталки под ней. Руина, обожженная солнцем – золотая, даже в полуразрушенном виде величавая и грандиозная».

О каком сооружении идет речь?

*Ответ напишите в именительном падеже*

Система оценивания

Ответ	Балл
-------	------