

# 1. Задача 1



Перед вами две статьи из Законов Хаммурапи – одного из древнейших в истории законодательных сводов, сложившегося в Месопотамии XVIII в. до н.э.:

(§ 196) Если человек выколол глаз сыну человека, то должны выколоть ему глаз.

(§ 197) Если он переломил кость человеку, то должны переломить ему кость.

Как называется отразившийся в этих статьях принцип равного возмездия за ущерб:

1	карма
2	талион
3	рок
4	маат


## 2. Задача 2



На одном найденном при раскопках древних Афин черепке имелась стихотворная надпись: «*Более всех преступен из оскверненных пританов*», / - *сей черепок гласит* – «*сын Аррифрона Ксантин*». Этот черепок использовался:

1	в работе суда
2	при отборе кандидатов на должность пританов
3	при голосовании в народном собрании
4	при проведении остракизма

## 3. Задача 3



В «Апологии Сократа» Платон вкладывает Сократу в уста следующие слова: «В самом деле, если вы (афиняне) меня убьете, то вам нелегко будет найти еще такого человека, который, смешно сказать, приставлен к городу как \_\_\_\_\_ к лошади, большой и благородной, но обленившейся от тучности и нуждающейся в том, чтобы ее подгоняли».

Восстановите пропущенное слово:

1	ОВОД
2	КНУТ
3	КОНЮХ
4	НАЕЗДНИК

#### 4. Задача 4

На стороне Антанты в Первой мировой войне и на стороне держав Оси во Второй мировой войне сражалась

1	Болгария
2	Греция
3	Румыния
4	Турция

#### 5. Задача 5



Какой ветхозаветный сюжет представлен на картине Федора Бруни:

1	Грехопадение
2	Наказание восставших Левитов
3	Пир Валтасара
4	Медный змий


## 6. Задача 6



В каком из нижеперечисленных городов Италии Ф.М. Достоевский закончил роман «Идиот»:

1	Рим
2	Флоренция
3	Венеция
4	Милан


## 7. Задача 7



Современником какого из нижеперечисленных политических деятелей был знаменитый философ и богослов Гуго Сен-Викторский:

1	Всеволод Большое Гнездо
2	Ричард I Львиное Сердце
3	Владимир Мономах
4	Робер де Сорбон

## 8. Задача 8



В правление Наполеона III произошли следующие события

1	банкротство Панамской компании
2	война с Россией
3	Июльская революция
4	перепланировка Парижа бароном Османом
5	суд над А. Дрейфусом

## 9. Задача 9



Укажите события, связанные с 1956 г.:

1	«Пражская весна»
2	Подавление восстания рабочих в Познани
3	Возведение Берлинской стены
4	Студенческая революция в Париже («Красный май»)
5	Ввод советских танков в Будапешт

## 10. Задача 10

Какие из перечисленных стран не стали владениями Испании по итогам Великих географических открытий.

1	Макао
2	Филиппины
3	Чили
4	Молуккские острова
5	Куба
6	Бразилия

## 11. Задача 11\*

# LEAGUE OF NATIONS



## SOCIETE DES NATIONS

Укажите страны, которые НЕ вошли в состав Лиги Наций на момент ее учреждения в 1920 году.

1	Великобритания
2	Германия
3	Канада
4	РСФСР
5	США
6	Япония

### 12. Задача 12



Кто из перечисленных мыслителей **не** относится к эпохе английского Просвещения конца XVII – XVIII в.?

1	Джерард Уинстенли
2	Дэвид Юм
3	Джон Локк

4	Адам Смит
5	Джон Лильберн

### 13. Задача 13

Соотнесите военные события Столетней войны 1337–1453 гг. и их хронологию.



1.	Осада и взятие порта Кале	<input type="text"/>
2.	Осада английскими войсками Орлеана	<input type="text"/>
3.	Мирный договор в Бретиньи	<input type="text"/>
4.	Битва при Азенкуре	<input type="text"/>
5.	Парижское восстание и Жакерия	<input type="text"/>

Возможные ответы

1	1346-1347 гг.
2	1356-1358 гг.




3	1415 г.
4	1360 г.
5	1428-1429 гг.

Система оценивания

### 14. Задача 14

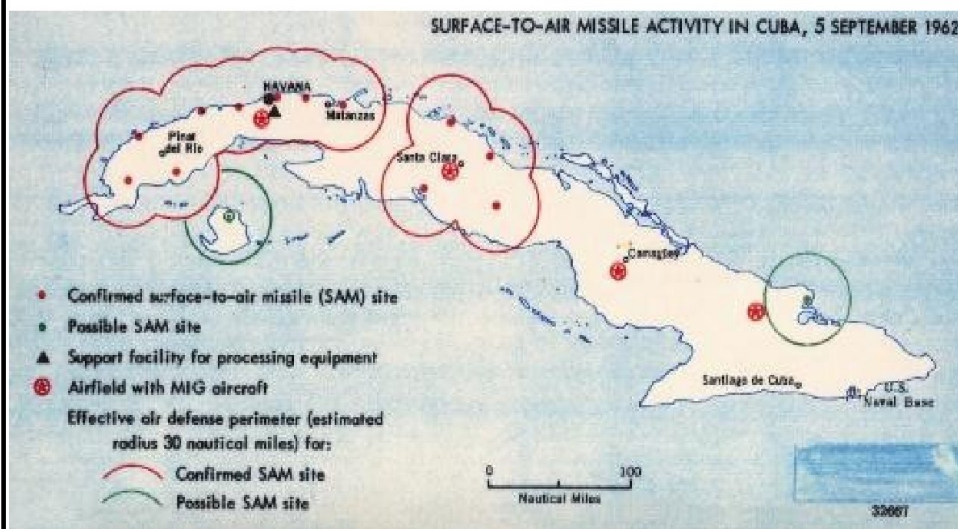
Установите соответствия между событиями и персоналиями XX века.

1	<p>Битва за Британию</p> 	<input type="text"/> <input type="text"/>
2	<p>Парижская мирная конференция</p>	<input type="text"/> <input type="text"/>



Карибский кризис

3



Начало десегрегации в школах США

4



Возможные ответы


1	Д. Эйзенхауэр
2	У. Черчилль
3	Дж. Кеннеди
4	В. Вильсон

Система оценивания

### 15. Задача 15

Установите соответствие между политическими деятелями и понятиями из истории XVIII века.

1	<p>Максимилиан Робеспьер</p> 	<input type="text"/>
2	<p>Джеймс Мэдисон</p>	<input type="text"/>




А.Р.Ж. Тюрго



3

4 П.В. Верньо



Возможные ответы

1	федералисты
2	физиократы
3	жирондисты
4	якобинцы

Система оценивания

## 16. Задача 16


Расположите колониальные владения в соответствии с их метрополиями.

1	Великобритания	<input type="text"/>
2	Италия	<input type="text"/>
3	Португалия	<input type="text"/>
4	Франция	<input type="text"/>

Возможные ответы

1	Мадагаскар
2	Мозамбик
3	Ливия
4	Гонконг

Система оценивания

**17. Задача 17**

Расположите в правильном хронологическом порядке последовательность сменявших одна другую межрегиональных держав I тыс. до н.э.:

1	Держава Александра Македонского	<input type="text"/>
2	Ассирийское царство	<input type="text"/>
3	Нововавилонское царство	<input type="text"/>
4	Персидская держава Ахеменидов	<input type="text"/>

Возможные ответы

1	1
---	---

2	2
3	3
4	4

Система оценивания

## 18. Задача 18

Проанализируйте таблицу и заполните пропуск (полное имя правителя)

Генрих IV	хождение в Каноссу
<input type="text"/>	Третий Крестовый поход
Фридрих II	монгольское вторжение в Европу
Карл IV	основание университета в Праге

Система оценивания

## 19. Задача 19



На этом полотне изображено убийство деятеля Великой французской революции «». Этот деятель вошел в историю изданием газеты «».

Ответы (названия стран) запишите в именительном падеже, например: Италия Германия.



## 20. Задача 20



Почитайте отрывок из международного договора и укажите название организации и страны, о которых идет речь в документе:

« В случае, если Союз Советских Социалистических республик или Республика Чехословацкая явились бы предметом угрозы или опасности нападения со стороны какого-либо европейского государства, Чехословацкая Республика и соответственно Союз Советских Социалистических Республик обязуются приступить обоюдно к немедленной консультации в целях принятия мер для



соблюдения постановлений Устава . В случае, если... Союз Советских Социалистических Республик или Республика Чехословацкая явились бы предметом невызванного нападения со стороны какого-либо европейского государства, Республика Чехословацкая и взаимно Союз Советских Социалистических Республик окажут друг другу немедленно помощь и поддержку.

Оба Правительства признают, что обязательства взаимной помощи будут действовать между ними лишь поскольку при наличии условий, предусмотренных в настоящем договоре, помощь стороне - жертве нападения



будет оказана со стороны »

*Ответ запишите в именительном падеже, например: СЭВ, Италия*

## 21. Задача 21



В своих мемуарах Бисмарк приводит протокол заседания Государственного министерства, в речи на котором так объяснял причины своей отставки:

«Многое заставило его усомниться в том, обладает ли он еще как президент Государственного министерства прочным авторитетом, которым он пользовался в свое время в силу доверия, оказанного ему его величеством

императором .

Несмотря на свое доверие к Тройственному союзу, он никогда не упускал из виду возможности прекращения его действия. В Италии монархия не отличается особой прочностью; <...> в Австрии, несмотря на испытанную непоколебимость ныне правящего императора, настроение может измениться; в

позиции                      никогда нельзя быть уверенным: она может и себя и

Австрию впутать в такие распри, от которых мы должны держаться подальше.

Поэтому он всегда стремился не уничтожать мост между нами и \_\_\_\_\_».

*Имя правителя и названия государств запишите в именительном падеже.*

Система оценивания