

1. Задача 1



Перед вами две статьи из Законов Хаммурапи – одного из древнейших в истории законодательных сводов, сложившегося в Месопотамии XVIII в. до н.э.:

(§ 196) Если человек выколол глаз сыну человека, то должны выколоть ему глаз.

(§ 197) Если он переломил кость человеку, то должны переломить ему кость.

Как называется отразившийся в этих статьях принцип равного возмездия за ущерб:

1	☪	карма
2	☪	талион
3	☪	рок
4	☪	маат

2. Задача 2



На одном найденном при раскопках древних Афин черепке имелась стихотворная надпись: «*Более всех преступен из оскверненных пританов*», / - *сей черепок гласит* – «*сын Аррифрона Ксантипп*». Этот черепок использовался:

1	<input type="radio"/>	в работе суда
2	<input type="radio"/>	при отборе кандидатов на должность пританов
3	<input type="radio"/>	при голосовании в народном собрании
4	<input checked="" type="radio"/>	при проведении остракизма

3. Задача 3



В «Апологии Сократа» Платон вкладывает Сократу в уста следующие слова: «В самом деле, если вы (афиняне) меня убьете, то вам нелегко будет найти еще такого человека, который, смешно сказать, приставлен к городу как _____ к лошади, большой и благородной, но обленившейся от тучности и нуждающейся в том, чтобы ее подгоняли».

Восстановите пропущенное слово:

1	<input type="radio"/>	овод
2	<input type="radio"/>	кнут
3	<input type="radio"/>	конюх
4	<input type="radio"/>	наездник

4. Задача 4

На стороне Антанты в Первой мировой войне и на стороне держав Оси во Второй мировой войне сражалась

1	<input type="radio"/>	Болгария
2	<input type="radio"/>	Греция
3	<input checked="" type="radio"/>	Румыния
4	<input type="radio"/>	Турция

5. Задача 5



Какой ветхозаветный сюжет представлен на картине Федора Бруни:

1	<input type="radio"/>	Грехопадение
2	<input type="radio"/>	Наказание восставших Левитов
3	<input type="radio"/>	Пир Валтасара
4	<input checked="" type="radio"/>	Медный змий


6. Задача 6



В каком из нижеперечисленных городов Италии Ф.М. Достоевский закончил роман «Идиот»:

1	<input type="radio"/>	Рим
2	<input checked="" type="radio"/>	Флоренция
3	<input type="radio"/>	Венеция
4	<input type="radio"/>	Милан


7. Задача 7



Современником какого из нижеперечисленных политических деятелей был знаменитый философ и богослов Гуго Сен-Викторский:

1	<input type="radio"/>	Всеволод Большое Гнездо
2	<input type="radio"/>	Ричард I Львиное Сердце
3	<input type="radio"/>	Владимир Мономах
4	<input type="radio"/>	Робер де Сорбон

8. Задача 8



В правление Наполеона III произошли следующие события

1	<input type="checkbox"/>	банкротство Панамской компании
2	<input checked="" type="checkbox"/>	война с Россией
3	<input type="checkbox"/>	Июльская революция
4	<input checked="" type="checkbox"/>	перепланировка Парижа бароном Османом
5	<input type="checkbox"/>	суд над А. Дрейфусом

9. Задача 9



Укажите события, связанные с 1956 г.:

1	<input type="checkbox"/>	«Пражская весна»
2	<input checked="" type="checkbox"/>	Подавление восстания рабочих в Познани
3	<input type="checkbox"/>	Возведение Берлинской стены
4	<input type="checkbox"/>	Студенческая революция в Париже («Красный май»)
5	<input checked="" type="checkbox"/>	Ввод советских танков в Будапешт

10. Задача 10

Какие из перечисленных стран не стали владениями Испании по итогам Великих географических открытий.

1	<input checked="" type="checkbox"/>	Макао
2	<input type="checkbox"/>	Филиппины
3	<input type="checkbox"/>	Чили
4	<input checked="" type="checkbox"/>	Молуккские острова
5	<input type="checkbox"/>	Куба
6	<input checked="" type="checkbox"/>	Бразилия

11. Задача 11*

LEAGUE OF NATIONS



SOCIETE DES NATIONS

Укажите страны, которые НЕ вошли в состав Лиги Наций на момент ее учреждения в 1920 году.

1	<input type="checkbox"/>	Великобритания
2	<input checked="" type="checkbox"/>	Германия
3	<input type="checkbox"/>	Канада
4	<input checked="" type="checkbox"/>	РСФСР
5	<input checked="" type="checkbox"/>	США
6	<input type="checkbox"/>	Япония

12. Задача 12



Кто из перечисленных мыслителей **не** относится к эпохе английского Просвещения конца XVII – XVIII в.?

1	<input checked="" type="checkbox"/>	Джерард Уинстенли
2	<input type="checkbox"/>	Дэвид Юм
3	<input type="checkbox"/>	Джон Локк

4	<input type="checkbox"/>	Адам Смит
5	<input checked="" type="checkbox"/>	Джон Лильберн

13. Задача 13

Соотнесите военные события Столетней войны 1337–1453 гг. и их хронологию.



1.	Осада и взятие порта Кале	<input type="text"/>
2.	Осада английскими войсками Орлеана	<input type="text"/>
3.	Мирный договор в Бретиньи	<input type="text"/>
4.	Битва при Азенкуре	<input type="text"/>
5.	Парижское восстание и Жакерия	<input type="text"/>

Возможные ответы

1	1346-1347 гг.
2	1356-1358 гг.

3	1415 г.
4	1360 г.
5	1428-1429 гг.

Система оценивания

Ответ	Балл	Проверка
1- 1346-1347 гг.	1	
2- 1428-1429 гг.	1	
3- 1360 г.	1	
4- 1415 г.	1	
5- 1356-1358 гг.	1	

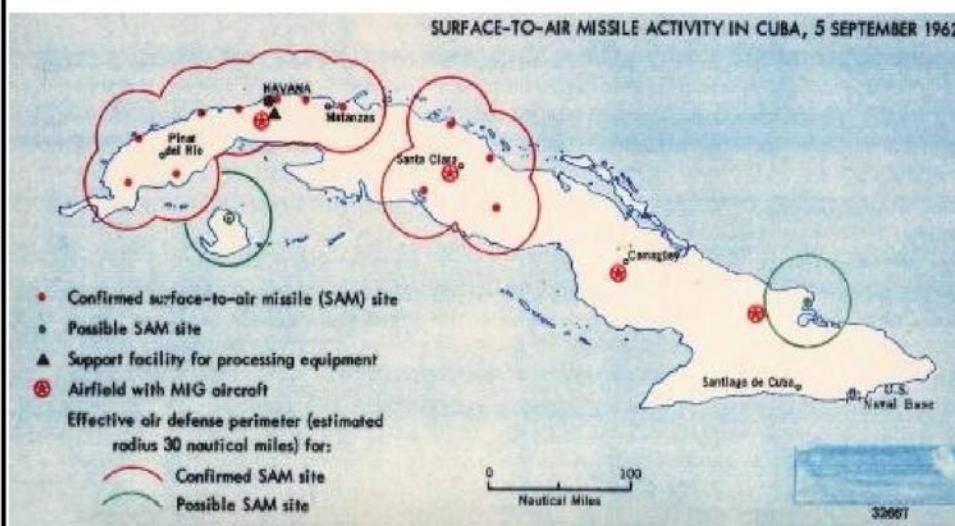
14. Задача 14

Установите соответствия между событиями и персоналиями XX века.

1	<p>Битва за Британию</p> 	<input type="text"/>
2	<p>Парижская мирная конференция</p>	<input type="text"/>



Карибский кризис



3

Начало десегрегации в школах США



4

Возможные ответы

1	Д. Эйзенхауэр
2	У. Черчилль
3	Дж. Кеннеди
4	В. Вильсон


Система оценивания

Ответ	Балл
1- У. Черчилль; 2- В. Вильсон; 3- Дж. Кеннеди; 4- Д. Эйзенхауэр	5

15. Задача 15

Установите соответствие между политическими деятелями и понятиями из истории XVIII века.

1	<p>Максимилиан Робеспьер</p> 	<input type="text"/>
2	<p>Джеймс Мэдисон</p>	<input type="text"/>




А.Р.Ж. Тюрго



3

4 П.В. Верньо



Возможные ответы

1	федералисты
2	физиократы
3	жирондисты
4	якобинцы

Система оценивания

Ответ	Балл	Проверка
1- якобинцы; 2- федералисты; 3- физиократы; 4- жирондисты	5	

16. Задача 16

Расположите колониальные владения в соответствии с их метрополиями.

1	Великобритания	<input type="text"/>
2	Италия	<input type="text"/>
3	Португалия	<input type="text"/>
4	Франция	<input type="text"/>


Возможные ответы

1	Мадагаскар
2	Мозамбик
3	Ливия
4	Гонконг

Система оценивания

Ответ	Балл	Проверка
1- Гонконг;2- Ливия;3- Мозамбик;4- Мадагаскар	5	

17. Задача 17



Расположите в правильном хронологическом порядке последовательность сменявших одна другую межрегиональных держав I тыс. до н.э.:

1	Держава Александра Македонского	<input type="text"/>
2	Ассирийское царство	<input type="text"/>
3	Нововавилонское царство	<input type="text"/>
4	Персидская держава Ахеменидов	<input type="text"/>

Возможные ответы

1	1
---	---

2	2
3	3
4	4

Система оценивания

Ответ	Балл
1- 4, 2 – 1, 3 – 2, 4 - 3	7

18. Задача 18

Проанализируйте таблицу и заполните пропуск (полное имя правителя)


Генрих IV	хождение в Каноссу
	Третий Крестовый поход
Фридрих II	монгольское вторжение в Европу
Карл IV	основание университета в Праге

Система оценивания

Ответ	Балл
1-Фредрих Барбаросса	8
1-Фридрих I Барбарросса	8
1-Фридрих Барборосса	8

Ответ	Балл	Проверка
Барбаросса	8	
Фридрих I	8	
Фридрих I Барбаросса	8	
Фридрих I	8	
Фридрих I Барбаросса	8	
Фридрих Барбаросса	8	

19. Задача 19



На этом полотне изображено убийство деятеля Великой французской революции «». Этот деятель вошел в историю изданием газеты «».

Ответы (названия стран) запишите в именительном падеже, например: Италия Германия.

Система оценивания

Ответ	Балл
0 - Жан-Поль Марат; Друг народа	8
0 - Жан Поль Марат; Друг народа	8
0 - Марата; Друг народа	8
0 - Жан-Поль Марат; Друг Народа	8
0 - Жан-Подем Марат; Друг народа	8
0 - Ж. П. Марат; Друг народа	8
0 - Жан Поль Марат; друг народа	8
0 - Жан поль марат; Друг народа	8
0 - Жан-Поль Марат; " Друг народа"	8
0 - Жан-Поль Марат; друг народа	8
0 - Жан-Поль Марата; Друг народа	8

0 - Жан-Поля Марата; Друг Народа	8	
0 - Жана Поля Марата; Друг народа	8	
0 - Жана-Поля Марата; друг народа	8	
0 - Марак; Друг народа	8	
Ответ	Балл	Проверка
1 - Марат; 2 - «Друг народа»	8	SKIPS_GROUP
1 - Марат; 2 - Друг народа	8	SKIPS_GROUP

20. Задача 20



Почитайте отрывок из международного договора и укажите название организации и страны, о которых идет речь в документе:

« В случае, если Союз Советских Социалистических республик или Республика Чехословацкая явились бы предметом угрозы или опасности нападения со стороны какого-либо европейского государства, Чехословацкая Республика и соответственно Союз Советских Социалистических Республик обязуются приступить обоюдно к немедленной консультации в целях принятия мер для

соблюдения постановлений Устава . В случае, если... Союз Советских Социалистических Республик или Республика Чехословацкая явились бы предметом невызванного нападения со стороны какого-либо европейского государства, Республика Чехословацкая и взаимно Союз Советских Социалистических Республик окажут друг другу немедленно помощь и поддержку.

Оба Правительства признают, что обязательства взаимной помощи будут действовать между ними лишь поскольку при наличии условий, предусмотренных в настоящем договоре, помощь стороне - жертве нападения

будет оказана со стороны »

Ответ запишите в именительном падеже, например: СЭВ, Италия

Ответ	Балл
1-Лиги Наций,2-Франция	8
1-Лига Нации,2-Франция	8
1-Лига Наций,2-Франции	8
1-Лиги Нации,2-Франция	8

Ответ	Балл	Проверка
1 – Лига Наций, 2 - Франция	8	
1 – Лига наций, 2 – Франция	8	
1 – Лиги Наций, 2 - Франции	8	

21. Задача 21



В своих мемуарах Бисмарк приводит протокол заседания Государственного министерства, в речи на котором так объяснял причины своей отставки:

«Многое заставило его усомниться в том, обладает ли он еще как президент Государственного министерства прочным авторитетом, которым он пользовался в свое время в силу доверия, оказанного ему его величеством

императором

Несмотря на свое доверие к Тройственному союзу, он никогда не упускал из виду возможности прекращения его действия. В Италии монархия не отличается особой прочностью; <...> в Австрии, несмотря на испытанную непоколебимость ныне правящего императора, настроение может измениться; в

позиции никогда нельзя быть уверенным: она может и себя и

Австрию впутать в такие распри, от которых мы должны держаться подальше.

Поэтому он всегда стремился не уничтожать мост между нами и _____».

Имя правителя и названия государств запишите в именительном падеже.

Система оценивания

Ответ	Балл	
1-Вильгельм I,2-Венгрия,3-Россия	8	
1-Вильгельм II,2-Венгрия,3-Россия	8	
1-Вильгельм Второй,2-Венгрия,3-Россия	8	
1-Вильгельм I,2-Венгрия,3-Россией	8	
1-Вильгельм I Фридрих,2-Венгрия,3-Россия	8	
1-Вильгельм I,2-Венгрия,3-Россия	8	
1-Вильгельм I,2-Венгрии,3-Россия	8	
1-Вильгельм I,2-Вингрия,3-Россия	8	
1-Вильгельм I,2-Венгрия,3-Россия	8	
1-Вильгельм Первый,2-Венгрия,3-Россия	8	
1-Вильгельмом первым,2-Венгрии,3-Россией	8	
0 - Вильгельм I,Венгрия,Россия	8	
0 - Вильгельм II;Венгрия,Россия	8	
0 - Вильгельм Второй;Венгрия,Россия	8	
0 - Вильгельм I;Венгрия,Россией	8	
0 - Вильгельм I Фридрих;Венгрия,Россия	8	
0 - Вильгельм I;Венгрия,Россия	8	
0 - Вильгельм I;Венгрии,Россия	8	
0 - Вильгельм I;Вингрия,Россия	8	
0 - Вильгельм I;Венгрия,Россия	8	
0 - Вильгельм Первый;Венгрия,Россия	8	
0 - Вильгельмом первым;Венгрии,Россией	8	
Ответ	Балл	Проверка
1- Вильгельм I; 2- Венгрия; 3- Россия	8	
1- Вильгельмом I; 2- Венгрии; 3- Россией	8	