

1. Задача 1



Какой библейский сюжет представлен на картине Микеланджело Меризи да Караваджо:

1	Призвание апостола Матфея
2	Отречение апостола Петра
3	Ужин в Эммаусе
4	Отдых на пути в Египет

2. Задача 2



Столетняя война 1337–1453 гг. проходила во время правления английской династии

1	<input type="checkbox"/>	Тюдоров
2	<input type="checkbox"/>	Ланкастеров
3	<input type="checkbox"/>	Виндзоров
4	<input type="checkbox"/>	Ганноверов
5	<input type="checkbox"/>	Стюартов

3. Задача 3



С каким из государств воевал в период своего правления Сулейман I Великолепный

1	<input type="checkbox"/>	Византийская империя
2	<input type="checkbox"/>	сегунат Токугава
3	<input type="checkbox"/>	Третье Болгарское царство
4	<input type="checkbox"/>	империя Цинь
5	<input type="checkbox"/>	Венгрия

4. Задача 4



На портрете работы Ганса Гольбейна (Младшего) изображена его современница Джейн Сеймур. При дворе какого из английских королей сложилась карьера этого мастера как придворного живописца:

1	Генрих VIII
2	Ричард I Львиное Сердце
3	Карл I
4	Генрих VII


5. Задача 5



Участником битвы с османским флотом при Лепанто был

1	<input type="checkbox"/>	Рене Декарт
2	<input type="checkbox"/>	Луиш де Камоэнс
3	<input type="checkbox"/>	Кристофер Марло
4	<input type="checkbox"/>	Мигель Сервантес

6. Задача 6



В «Истории в девяти книгах» Геродот Галикарнасский вкладывает в уста персидского царя Дария I следующее суждение, посвященное известным древним грекам формам правления: «Напротив, в олигархии, если даже немногие [лучшие] и стараются приносить пользу обществу, то обычно между отдельными людьми возникают ожесточенные распри. Ведь каждый желает первенствовать и проводить [в жизнь] свои замыслы. Так у них начинается яростная вражда между собой, отчего проистекают смуты, а от смут — кровопролития. От кровопролитий же дело доходит до _____, из чего совершенно ясно, что этот последний образ правления — наилучший».

Какая форма правления упомянута в месте пропуска?

1	<input type="checkbox"/>	тирания
2	<input type="checkbox"/>	демократия
3	<input type="checkbox"/>	олигархия
4	<input type="checkbox"/>	монархия

7. Задача 7



Один из персонажей трагедии Еврипида «Вакханки» так говорит о двух основных продуктах греков – хлебе и вине. Дарами каких богов они являлись?

Послушай, сын мой: два начала в мире

Суть главные...

(Она ж Земля; как хочешь называй),

Она сухой лишь пищею нас кормит;

Её дары дополнил сын Семелы:

Он влажную нам пищу изобрел –

Тот дивный сок, усладу всех скорбей.

В нем он и сон нам даровал, забвенье

Дневных забот, - иного не найти

Им исцеленья ...

1	<input type="checkbox"/>	Деметра и Дионис
2	<input type="checkbox"/>	Персефона и Аид
3	<input type="checkbox"/>	Гера и Зевс
4	<input type="checkbox"/>	Гея и Уран

8. Задача 8

Укажите понятия, относящиеся к периоду Великой французской революции 1789 г.

1	санкюлоты
2	кавалеры
3	круглоголовые
4	жирондисты
5	левеллеры
6	фельяны

9. Задача 9

Какие из нижеперечисленных исторических событий произошли в правление ассирийского царя Ашшурбанапала

1	Правление Нумы Помпилия, царя Древнего Рима
2	Правление в Древнем Египте Псамметиха I, основателя XXVI династии
3	Падение Ниневии, столицы Ассирийского государства
4	Правление Кира Великого
5	Основание библиотеки, в которой была обнаружена наиболее полная версия "Эпоса о Гильгамеше"

10. Задача 10




В состав Германской империи входили

1	Бавария
2	Богемия
3	Галиция и Лодомерия
4	Далмация
5	Саксония

11. Задача 11

Что из перечисленного ниже характеризует эпоху Просвещения?



1	Движущая сила исторического развития – распространение передовых идей и знаний, посредством которых улучшается нравственное состояние общества.
2	Направление в литературе и изобразительном искусстве, представители которого стремились раскрыть индивидуальное и национальное своеобразие человеческой личности.
3	Общественные отношения должны быть перестроены на основе идей прогресса, разума и свободы воли.
4	Разочарование в идее цивилизации и научно-техническом прогрессе, потому что они привели к духовному опустошению личности.
5	Миссия человека не сводится к решению общественных проблем. Разгадать тайну человеческого бытия можно только посредством обращения к религии, природе и поэтическому чувству.

12. Задача 12

Перечислите страны, ставшие после I мировой войны подмандатными территориями Великобритании:



1	Месопотамия
2	Сирия
3	Танганьика
4	Руанда-Урунди
5	Палестина

13. Задача 13

Установите соответствия между датами и событиями XVII века.

1	Отмена Нантского эдикта	<input type="text"/>
2	Казнь Карла I	<input type="text"/>
3	Убийство Генриха IV	<input type="text"/>
4	Начало маньчжурского завоевания Китая	<input type="text"/>

Возможные ответы

1	1644 г.
2	1610 г.
3	1685 г.
4	1649 г.

14. Задача 14

Установите соответствия между событиями и государственными деятелями второй половины XX века.


1	Бандунгская конференция 1955 г.	<input type="text"/>
2	Карибский кризис 1961 г.	<input type="text"/>
3	Завершение Войны в Алжире.	<input type="text"/>
4	Подписание Заключительного акта Совещания по безопасности и сотрудничеству в Европе	<input type="text"/>




Возможные ответы

1	Ш. де Голль
2	Л.И. Брежнев
3	Дж. Кеннеди
4	Сукарно

15. Задача 15

Соотнесите имена западноевропейских авторов XV–XVI вв. и названия написанных ими художественных произведений:

1.		<input type="text"/>
	Франсуа Рабле	




2.	 <p>Джованни Боккаччо</p>	<input data-bbox="687 353 1061 398" type="text"/>
3.	 <p>Джефри Чосер</p>	<input data-bbox="687 853 1061 898" type="text"/>
4.	 <p>Себастьян Брант</p>	<input data-bbox="687 1391 1061 1435" type="text"/>

Возможные ответы

1	Кентерберийские рассказы
2	Корабль дураков
3	Декамерон
4	Гаргантюа и Пантагрюэль


16. Задача 16

Расположите книги в последовательности появления их первых изданий на языке оригинала:

1	<p>О. Конт. «Курс позитивной философии»</p> 	<input type="text"/>
2	<p>Т. Мальтус. «Очерк о законе народонаселения»</p> 	<input type="text"/>
3	<p>К. Маркс. «Капитал».</p> 	<input type="text"/>

А. Смит. «Исследование о природе и причине богатства народов».

4



17. Задача 17

Расположите события, предшествовавшие Первой мировой войне, в хронологической последовательности

1	Балканские войны	<input type="text"/>
2	Русско-японская война	<input type="text"/>
3	Синьхайская революция в Китае	<input type="text"/>
4	Боснийский кризис	<input type="text"/>
5	Альхесирасская конференция по Марокко	<input type="text"/>

18. Задача 18



О какой царице писал римский поэт Гораций?

Напишите имя в именительном падеже, например: Анний Клавдий

«О римский воин, - дети, не поверите! –

Порабощен царицею,

Оружье, колья носит: служит женщине

И евнохам морщинистым;

В военном стане солнце зрит постыдную

Палатку в виде полога!»

19. Задача 19*



Эта фотография изображает диктатора Чили «» с супругой. Он пришел к власти после государственного переворота в 1973 г. В результате переворота погиб избранный президент Чили «».

Ответы запишите в именительном падеже, например: Карл Маркс.

Система оценивания

20. Задача 20




Почитайте отрывок из выступления известного британского государственного деятеля и впишите термин, который в нем упоминается и который получил затем широкое употребление:

«На картину мира, столь недавно озаренную победой союзников, пала тень. ... я считаю своим долгом изложить вам некоторые факты - уверен, что вы желаете, чтобы я изложил вам факты такими, какими они мне представляются, - о нынешнем положении в Европе. От Штеттина на Балтике до Триеста на Адриатике на континент опустился »

Ответ (термин) запишите в именительном падеже, например: холодная война

Система оценивания

21. Задача 21*



2 мая 1808 в Мадриде произошло восстание против оккупации города войсками императора

«» (*имя запишите в именительном падеже, например: Пётр I*).

Жестокое подавление этого восстания, репрессии и следовавшие затем

военные конфликты подтолкнули великого испанского художника «

» (*имя запишите в именительном падеже*) на создание серии офортов

«Бедствия войны». Важную часть этой серии составили листы на

аллегорические темы, связанные с критикой инквизиции, политических и социальных порядков, царивших при династии Бурбонов и названные «

» (*название запишите в именительном падеже*)