


1. Задача 1

Геродот сообщает, что спартанский царь Клеомен «научился пить неразбавленное вино и от этого впал в безумие», общаясь именно с этим народом.



1	<input checked="" type="radio"/>	скифы
2	<input type="radio"/>	сарматы
3	<input type="radio"/>	фракийцы
4	<input type="radio"/>	киммерийцы

2. Задача 2



Термин, в широком смысле обозначающий ранних представителей современного человека, происходит по месту обнаружения находок его жизнедеятельности. С каким из нижеперечисленных географических названий связана этимология вышеупомянутого термина?

1	<input type="radio"/>	грот Шаффо
2	<input checked="" type="radio"/>	грот Кро-Маньон
3	<input type="radio"/>	ручей Сунгирь
4	<input type="radio"/>	река Висла

3. Задача 3



Современником какого из нижеперечисленных политических деятелей был знаменитый философ Сократ:

1	<input type="radio"/>	Писистрат
2	<input type="radio"/>	Ликург Спартанский
3	<input type="radio"/>	Клисфен
4	<input checked="" type="radio"/>	Перикл

4. Задача 4



На портрете работы Ганса Гольбейна (Младшего) изображена его современница Джейн Сеймур. При дворе какого из английских королей сложилась карьера этого мастера как придворного живописца:

1	<input checked="" type="radio"/>	Генрих VIII
2	<input type="radio"/>	Ричард I Львиное Сердце
3	<input type="radio"/>	Карл I
4	<input type="radio"/>	Генрих VII

5. Задача 5



На снимке представлен фрагмент статуи знаменитой древнеегипетской женщины-фараона Хатшепсут. Какое из исторических событий произошло в период её правления:

1	<input type="radio"/>	Битва при Кадеше
2	<input checked="" type="radio"/>	Путешествие в страну Пунт
3	<input type="radio"/>	Строительство г. Александрия
4	<input type="radio"/>	Строительство пирамиды Хеопса

6. Задача 6



К какому стилю можно отнести Фонтан Треви в Риме:

1	<input type="radio"/>	Рококо
2	<input type="radio"/>	Классицизм
3	<input checked="" type="radio"/>	Барокко
4	<input type="radio"/>	Готика

7. Задача 7



Участником битвы с османским флотом при Лепанто был


1	<input type="radio"/>	Рене Декарт
2	<input type="radio"/>	Луиш де Камоэнс
3	<input type="radio"/>	Кристофер Марло
4	<input checked="" type="radio"/>	Мигель Сервантес

8. Задача 8

Перечислите страны, НЕ участвовавшие в Первой мировой войне.

1	<input checked="" type="checkbox"/>	Испания
2	<input type="checkbox"/>	Италия
3	<input type="checkbox"/>	Румыния
4	<input checked="" type="checkbox"/>	Нидерланды
5	<input checked="" type="checkbox"/>	Швеция

9. Задача 9



Укажите события, связанные с 1793 г.:

1	<input type="checkbox"/>	свержение монархии во Франции
2	<input checked="" type="checkbox"/>	якобинская диктатура
3	<input type="checkbox"/>	взятие Бастилии
4	<input type="checkbox"/>	принятие «Декларации прав человека и гражданина»
5	<input checked="" type="checkbox"/>	казнь Людовика XVI и Марии-Антуанетты

10. Задача 10

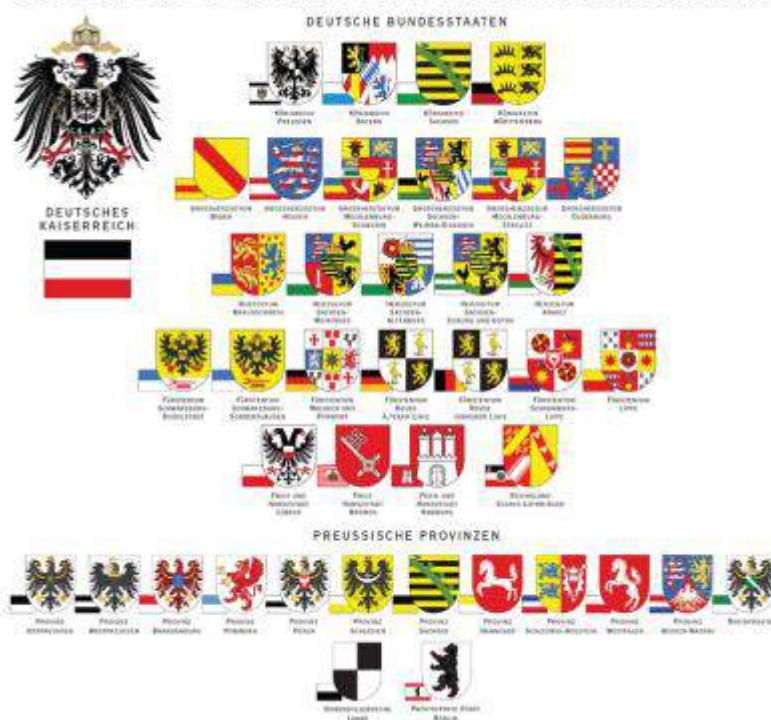


Какие из этих гор вписаны в культурно-исторический ландшафт Древней Греции?

1	<input type="checkbox"/>	Этна
2	<input checked="" type="checkbox"/>	Олимп
3	<input checked="" type="checkbox"/>	Парнас
4	<input type="checkbox"/>	Везувий
5	<input checked="" type="checkbox"/>	Геликон

11. Задача 11


WAPPEN UND FLAGGEN DES DEUTSCHEN KAISERREICHS



Императорами Германской империи в 1871–1918 гг. были:

1	<input checked="" type="checkbox"/>	Вильгельм I
2	<input type="checkbox"/>	Фридрих II Гогенштауфен
3	<input checked="" type="checkbox"/>	Фридрих III
4	<input checked="" type="checkbox"/>	Вильгельм II
5	<input type="checkbox"/>	Фридрих Вильгельм I

12. Задача 12



К духовно-рыцарским орденам относятся:

1	<input type="checkbox"/>	иезуиты
2	<input checked="" type="checkbox"/>	орден Калатравы
3	<input type="checkbox"/>	францисканцы
4	<input checked="" type="checkbox"/>	орден Меча Святого Иакова Компостельского
5	<input checked="" type="checkbox"/>	госпитальеры

13. Задача 13

Установите соответствия между названиями должностных лиц и государством Древнего мира:

1.	Эфор	<input type="text"/>
2.	Сатрап	<input type="text"/>
3.	Архонт	<input type="text"/>
4.	Консул	<input type="text"/>
5.	Ча́ти	<input type="text"/>

Возможные ответы

1	Древний Египет
2	Афины
3	Спарта
4	держава Ахеменидов
5	Древний Рим

14. Задача 14

Установите соответствия между известными памятниками живописи и стилями, в которых они написаны



П.П. Рубенс. Охота на львов




К. Моне. Мост Чаринг-Кросс







К. Лорен. Римский пейзаж



Г. Курбе. Порыв ветра

Возможные ответы

1	Классицизм
2	Реализм
3	Барокко
4	Импрессионизм

15. Задача 15*



Прочитайте отрывок из документа и определите название города, который в нем упоминается: «О том, что Франция пережила свой второй Седан и что в ей нанесено было страшнейшее поражение, сейчас отдает себе отчет любой француз. Даже те, которые еще недавно надрывали себе горло при встрече Даладье и Бурже и осыпали цветами его триумфальное шествие к могиле Неизвестного солдата, сейчас уже усвоили ряд непреложных и в достаточной мере неприятных истин, а именно, что: 1) Германия при помощи Франции без единого выстрела увеличила свое население больше чем на 3 миллиона и сейчас довела его до размеров, больше чем в два раза превышающих население Франции; 2) Германия увеличила свою территорию больше чем на 27 тыс. кв. км; 3) получила в подарок ряд высокооборудованных фабрик и заводов и важнейшие отрасли минеральных богатств...»

Ответ (название города) запишите в именительном падеже, например: Лондон

Ответ: Мюнхен

16. Задача 16




На картине Александра Маковского изображено посещение императрицей «» (имя запишите в именительном падеже, например: Пётр I) мастерской великого учёного, художника, историка, поэта «» (имя запишите в именительном падеже), которого за одарённость в разных областях и энциклопедичность знания сравнивают с великим учёным и художником Возрождения «» (имя запишите в именительном падеже)

Ответ

Елизавета Петровна; Ломоносов; Леонардо да Винчи

17. Задача 17



2 мая 1808 в Мадриде произошло восстание против оккупации города войсками императора «» (имя запишите в именительном падеже, например: Пётр I). Жестокое подавление этого восстания, репрессии и последовавшие затем военные конфликты подтолкнули великого испанского художника «» (имя запишите в именительном падеже) на создание серии офортов «Бедствия войны». Важную часть этой серии составили листы на аллегорические темы, связанные с критикой инквизиции, политических и социальных порядков, царивших при династии Бурбонов и названные «» (название запишите в именительном падеже)

Система оценивания

Ответ
Наполеон I; Франсиско Гойя; Капричос

18. Задача 18



Перед вами отрывок из дипломатической переписки времен «холодной войны». Впишите название страны, о которой идет речь в документе:

«Вы, господин Президент, объявляете не карантин, а выдвигаете ультиматум и угрожаете, что если мы не будем подчиняться Вашим требованиям, то Вы примените силу. Вдумайтесь в то, что Вы говорите! И Вы хотите убедить меня, чтобы я согласился с этим? Что значит согласиться с этими требованиями? Это означало бы руководствоваться в своих отношениях с другими странами не разумом, а потакать произволу. Вы уже не апеллируете к разуму, а хотите запугать нас.

Советское правительство считает, что нарушение свободы пользования международными водами и международным воздушным пространством - это

акт агрессии, толкающий человечество к пучине мировой ракетно-ядерной войны. Поэтому Советское правительство не может дать инструкции капитанам советских судов, следующих на , соблюдать предписания американских военно-морских сил, блокирующих этот остров...»:

Ответ запишите в именительном падеже, например: Пакистан

Ответ

Куба
