

1. Задача 1



Этот человек НЕ являлся участником Английской революции середины XVII века.

1	<input type="radio"/>	Дж. Лильберн
2	<input type="radio"/>	Дж. Мильтон
3	<input type="radio"/>	О. Кромвель
4	<input checked="" type="radio"/>	Г. Фокс

2. Задача 2



На территории современной Болгарии погиб в бою с турками польский король

1	<input type="radio"/>	Казимир IV
2	<input checked="" type="radio"/>	Владислав III
3	<input type="radio"/>	Сигизмунд I
4	<input type="radio"/>	Ян III

3. Задача 3



Один из персонажей трагедии Еврипида «Вакханки» так говорит о двух основных продуктах греков – хлебе и вине. Дарами каких богов они являлись?

Послушай, сын мой: два начала в мире

Суть главные...

(Она ж Земля; как хочешь называй),

Она сухой лишь пищею нас кормит;

Её дары дополнил сын Семелы:

Он влажную нам пищу изобрел –

Тот дивный сок, усладу всех скорбей.


В нем он и сон нам даровал, забвеньё

Дневных забот, - иного не найти

Им исцеленья ...

1	<input checked="" type="radio"/>	Деметра и Дионис
2	<input type="radio"/>	Персефона и Аид
3	<input type="radio"/>	Гера и Зевс
4	<input type="radio"/>	Гяя и Уран


4. Задача 4



В древнеперсидской Бехистунской надписи, описывающей ключевые события в истории мировой Персидской державы, содержится следующее родословие главного героя этого текста: «Говорит царь: «Мой отец – Виштаспа, отец Виштаспы – Аршама, отец Аршамы – Ариарамна, отец Ариарамны – Чишпиш, отец Чишпиша – Ахемен. Поэтому мы называемся Ахеменидами. Искони мы пользуемся почетом, искони наш род был царственным. Восемь [человек] из моего рода были до меня царями. Я – девятый. Девять нас были последовательно царями. По воле Ахурамазды я – царь. Ахурамазда дал мне царство». Как зовут царя, от имени которого составлена эта надпись?

1	<input type="radio"/>	Кир II
2	<input type="radio"/>	Ксеркс
3	<input checked="" type="radio"/>	Дарий I
4	<input type="radio"/>	Дарий III

5. Задача 5



Какой из нижеперечисленных византийских императоров упомянул визит в Константинополь княгини Ольги в своём сборнике описаний церемониального протокола:

1	<input type="radio"/>	Юстиниан I
2	<input checked="" type="radio"/>	Константин VII Багрянородный
3	<input type="radio"/>	Алексей Комнин
4	<input type="radio"/>	Михаил VIII Палеолог


6. Задача 6



Укажите императора Японии в годы Второй мировой войны.

1	<input checked="" type="radio"/>	Сёва
2	<input type="radio"/>	Мэйдзи
3	<input type="radio"/>	Акихито
4	<input type="radio"/>	Тайсё

7. Задача 7



В «Истории в девяти книгах» Геродот Галикарнасский вкладывает в уста персидского царя Дария I следующее суждение, посвященное известным древним грекам формам правления: «Напротив, в олигархии, если даже немногие [лучшие] и стараются приносить пользу обществу, то обычно между отдельными людьми возникают ожесточенные распри. Ведь каждый желает первенствовать и проводить [в жизнь] свои замыслы. Так у них начинается яростная вражда между собой, отчего проистекают смуты, а от смут — кровопролития. От кровопролитий же дело доходит до _____, из чего совершенно ясно, что этот последний образ правления — наилучший».

Какая форма правления упомянута в месте пропуска?

1	<input type="radio"/>	тирания
2	<input type="radio"/>	демократия
3	<input type="radio"/>	олигархия
4	<input checked="" type="radio"/>	монархия

8. Задача 8

Какая из этих стран соблюдала нейтралитет в Первой мировой войне?

1	<input type="radio"/>	Бельгия
2	<input checked="" type="radio"/>	Испания
3	<input type="radio"/>	Соединенные Штаты Америки
4	<input type="radio"/>	Болгария

9. Задача 9



Укажите понятия, относящиеся к периоду Великой французской революции 1789 г.

1	<input checked="" type="checkbox"/>	санкюлоты
2	<input type="checkbox"/>	круглоголовые
3	<input checked="" type="checkbox"/>	жирондисты
4	<input type="checkbox"/>	левеллеры
5	<input checked="" type="checkbox"/>	фельяны

10. Задача 10



Укажите понятия, относящиеся к буддизму.

1	<input type="checkbox"/>	закят
2	<input checked="" type="checkbox"/>	сангха
3	<input type="checkbox"/>	медресе
4	<input type="checkbox"/>	хиджра
5	<input checked="" type="checkbox"/>	сансара

11. Задача 11

Какие из этих территорий вошли в Германскую империю (1871–1918 гг.) на правах королевств

1	<input checked="" type="checkbox"/>	Бавария
2	<input type="checkbox"/>	Брауншвейг
3	<input checked="" type="checkbox"/>	Саксония
4	<input type="checkbox"/>	Баден
5	<input type="checkbox"/>	Ангальт

12. Задача 12

Кто из нижеперечисленных исторических деятелей связан с процессом в истории Италии, получившим название Рисорджименто

1	<input checked="" type="checkbox"/>	Джузеппе Мадзини
2	<input type="checkbox"/>	Энрико Дандоло
3	<input type="checkbox"/>	Виктор Эммануил III
4	<input type="checkbox"/>	Франческо Сфорца
5	<input checked="" type="checkbox"/>	Джузеппе Гарибальди

13. Задача 13



Кто из нижеперечисленных императоров и императриц Византии изображен на мозаике в базилике Сан-Витале в Равенне

1	<input type="checkbox"/>	Алексей I Комнин
2	<input checked="" type="checkbox"/>	Феодора
3	<input type="checkbox"/>	Василий I Македонянин
4	<input checked="" type="checkbox"/>	Юстиниан I
5	<input type="checkbox"/>	Ирина

14. Задача 14

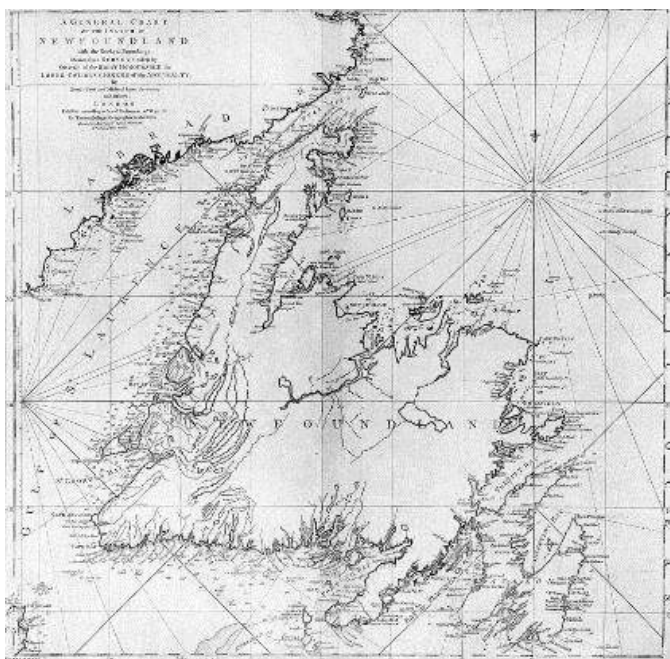
Установите соответствия между датами и событиями XX века.

1	Подписание Пакта Бриана-Келлога	<input type="text"/>
2	Заключение Рапалльского мирного договора	<input type="text"/>
3	Дипломатическое признание Соединенными Штатами СССР	<input type="text"/>
4	Мюнхенское соглашение	<input type="text"/>
5	Тартуский мирный договор между РСФСР и Финляндией	<input type="text"/>

Возможные ответы

1	1922 г.
2	1920 г.
3	1928 г.
4	1933 г.
5	1938 г.

15. Задача 15



Установите соответствия между ниже перечисленными географическими открытиями и известными путешественниками:

1	Открытие морского пути из Европы в Индию	<input type="text"/>
2	Открытие Антарктиды	<input type="text"/>
3	Открытие Камчатского залива	<input type="text"/>
4	Открытие Гавайских островов	<input type="text"/>

Возможные ответы

1	Джеймс Кук
2	Витус Беринг
3	Васко да Гама
4	Ф.Ф. Беллинсгаузен и М.П. Лазарев

16. Задача 16

Установите соответствия между историческими событиями и понятиями, относящимися к истории нового времени.


1	Английская революция середины XVII века	<input type="text"/>
2	Движение за объединение Италии	<input type="text"/>
3	Гражданская война в США	<input type="text"/>
4	Религиозные войны во Франции	<input type="text"/>




Возможные ответы


1	гугеноты
2	карбонарии
3	гомстеды
4	пуритане

17. Задача 17*

Соотнесите политические партии и движения эпохи Французской революции 1789-1799 гг. и их лидеров:

1.		<input type="text"/>
	Мари Жан Антуан Кондорсе	

2.	 <p>Оноре Габриэль Мирабо</p>	<input data-bbox="735 434 1241 479" type="text"/>
3.	 <p>Жак Ру</p>	<input data-bbox="735 1061 1241 1106" type="text"/>
4.	 <p>Гракх (Франсуа) Бабёф</p>	<input data-bbox="735 1715 1241 1760" type="text"/>

5.		<input style="width: 100%; height: 20px;" type="text"/>
Жорж Дантон		

Возможные ответы

1	Конституционные монархисты
2	Бешеные
3	Жирондисты
4	Клуб кордельеров
5	Движение (заговор) во имя равенства

18. Задача 18

Установите соответствия между мирными договорами, которые были подписаны после окончания Первой мировой войны, и их подписантами со стороны проигравшей коалиции.

1	Лозаннский мирный договор	<input style="width: 100%; height: 20px;" type="text"/>
2	Трианонский мирный договор	<input style="width: 100%; height: 20px;" type="text"/>
3	Нейиский мирный договор	<input style="width: 100%; height: 20px;" type="text"/>
4	Версальский мирный договор	<input style="width: 100%; height: 20px;" type="text"/>

Возможные ответы

1	Германия
2	Венгрия
3	Болгария
4	Турция

19. Задача 19

Расположите события XIX в. в хронологической последовательности

1	Венский конгресс	<input type="text"/>
2	Начало «Великих реформ» Александра II	<input type="text"/>
3	«Битва народов» под Лейпцигом	<input type="text"/>
4	Создание Парижской коммуны	<input type="text"/>
5	Конец Гражданской войны в США	<input type="text"/>

20. Задача 20*

На этой французской карикатуре показан германский канцлер , председательствующий на конференции 1884 г., на которой были приняты решения по колониальному разделу Африки между европейскими державами.

Спустя 15 лет только одно африканское государство – – смогло отстоять свою независимость.

Ответы запишите в именительном падеже, например: Италия Германия.

Ответ

1- Бисмарк; 2- Эфиопия

21. Задача 21

мирный договор был заключен по итогам русско-турецкой войны 1877-1878 гг. Однако его условия вызвали негативную реакцию великих держав, опасавшихся возросшего влияния Российской империи на Балканах. Особенно сильным было противодействие Австро-Венгрии и Великобритании. России пришлось пойти на пересмотр договора, и он фактически был заменен «», подписанным 1 июня 1878 г.

Ответы запишите в именительном падеже

Ответ	
1- Сан-Стефанский мир; 2- Берлинский договор	

22. Задача 22*

Заполните пропуск имени правителя в таблице:

Георг	1820
Вильгельм	1830
<input type="text"/>	1837
Эдуард	1901

Ответ запишите в именительном падеже

Ответ	
королева Виктория	

23. Задача 23*



Впишите название страны, о которой идет речь в выступлении президента США Р. Никсона:

«...Мы, американцы, любим не говорить, а действовать. Мы – люди нетерпеливые. Вместо того чтобы учить кого-нибудь, что делать, мы лучше сами это сделаем. И эта наша характерная черта отразилась и во внешней политике. Как в Корее, так и во , Соединенные Штаты предоставляли большую часть денежных средств, большую часть вооружений и посылали большую часть своего контингента для того, чтобы помочь людям этих стран защитить свою свободу от агрессии коммунизма»:

Ответ запишите в именительном падеже, например: Пакистан

Система оценивания

Ответ

Вьетнам
