

1. Задача 1

Национальное движение за объединение Италии получило название:

1	Реконкиста
2	Рисорджименто
3	Конкиста
4	Революция

2. Задача 2*




Сила ветхозаветного героя Самсона была заключена в :

1	<input type="checkbox"/>	талисман
2	<input type="checkbox"/>	сердце
3	<input type="checkbox"/>	меч
4	<input type="checkbox"/>	волосы

3. Задача 3

Первая роstralная колонна появилась в Риме в честь победы над



1	<input type="checkbox"/>	карфагенянами
2	<input type="checkbox"/>	парфянами
3	<input type="checkbox"/>	этрусками
4	<input type="checkbox"/>	греками

4. Задача 4*

Истмийские игры в древней Греции были посвящены



1		Зевсу
2		Посейдону
3		Персефоне
4		Аиду

5. Задача 5

В период религиозных войн во Франции был учрежден этот орден



1		Св. Духа
2		Св.Михаила
3		Почетного легиона
4		Освобождения

6. Задача 6

«Жгу и пустошу все из-за Казани и Астрахани, а всего света богатство применяю к праху, надеясь на величество божие. Я пришел на тебя, город твой сжег, хотел венца твоего и головы; но ты не пришел и против нас не стал, а ещё хвалишься, что-де я московский государь! Были бы в тебе стыд и дородство, так ты б пришел против нас и стоял».

Эти строки были адресованы:

1		Алексею Михайловичу
2		Ивану III
3		Ивану Грозному
4		Василию Темному

7. Задача 7



Где происходят события, изображенные на картине художника Жюль Бастьена – Лепаже «Жанна д'Арк»:

1	<input type="text"/>	Париж
2	<input type="text"/>	Домреми
3	<input type="text"/>	Орлеан
4	<input type="text"/>	Реймс

8. Задача 8

Картина Ж. Энгра изображала посещение умирающего Леонардо Да Винчи французским королем



1	<input type="text"/>	Генрих III
2	<input type="text"/>	Франциск I
3	<input type="text"/>	Филипп IV Красивый
4	<input type="text"/>	Генрих IV Наварский

9. Задача 9



Действие средневековой героической поэмы «Песнь о Роланде» происходит во времена правления:

1	<input type="checkbox"/>	Карла II Лысого
2	<input type="checkbox"/>	Людовика I Благочестивого
3	<input type="checkbox"/>	Карла Великого
4	<input type="checkbox"/>	Людовика IX Святого

10. Задача 10

Укажите фактор, который НЕ являлся предпосылкой начала Промышленной революции в Великобритании:

1	<input type="checkbox"/>	потеря 13 колоний в Северной Америке
2	<input type="checkbox"/>	аграрная революция, завершившаяся к концу XVIII века
3	<input type="checkbox"/>	развитие рынка наемной рабочей силы

4	рост внутреннего и внешнего спроса
---	------------------------------------

11. Задача 11

Династия, основанная маньчжурами в Китае, получила название:



1	<input type="checkbox"/>	Мин
2	<input type="checkbox"/>	Сун
3	<input type="checkbox"/>	Цин
4	<input type="checkbox"/>	Юань

12. Задача 12



В результате битвы при Анкаре 1402 г.

1	<input type="checkbox"/>	Болгария попала под власть Османской империи
2	<input type="checkbox"/>	Сербия попала под власть Османской империи
3	<input type="checkbox"/>	была разгромлена армия османского султана Баязида
4	<input type="checkbox"/>	была разгромлена армия Тамерлана

13. Задача 13

Эмансипация католиков в Великобритании в 1829 г. была связана с:

1	<input type="checkbox"/>	наделением их равными политическими правами с другими подданными
2	<input type="checkbox"/>	освобождением их от чрезмерного налогообложения
3	<input type="checkbox"/>	предоставлением им свободы богослужения
4	<input type="checkbox"/>	признанием католицизма государственной религией Великобритании

14. Задача 14



Кто из нижеперечисленных литераторов был переводчиком на русский язык произведений Вольтера:

1	<input type="checkbox"/>	Г. Р. Державин
2	<input type="checkbox"/>	М. И. Ломоносов
3	<input type="checkbox"/>	Н. И. Новиков
4	<input type="checkbox"/>	Д. И. Фонвизин

15. Задача 15

Какое из нижеперечисленных событий НЕ могло происходить в 1933 году:

1	<input type="checkbox"/>	Приход А. Гитлера к власти
2	<input type="checkbox"/>	Речь У. Черчилля в Фултоне
3	<input type="checkbox"/>	Торжественное открытие Беломорканала
4	<input type="checkbox"/>	Начало президентского срока Фр. Рузвельта

16. Задача 16



Какое историческое событие НЕ связано с известным дворцово-парковым ансамблем, изображенным на фотографии:

1	Рождение Людовика XVI
2	Принятие Учредительным собранием в 1789 г. Декларации прав человека и гражданина
3	Подписание 28 июня 1919 г. договора, официально завершившего Первую мировую войну
4	Создание в 1815 г. Священного союза европейских государств

17. Задача 17



На иллюстрации представлен портрет Томаса Мора (работа Ганса Гольбейна), жившего в эпоху правления:

1	<input type="checkbox"/>	Генриха VIII
2	<input type="checkbox"/>	Елизаветы I Английской
3	<input type="checkbox"/>	Людовика XII
4	<input type="checkbox"/>	Карла I Стюарта

18. Задача 18



Какое историческое событие последовало после этого, изображенного на картине Поля Делароша «Смерть Елизаветы I Английской»:

1	<input type="checkbox"/>	Казнь Джордано Бруно
2	<input type="checkbox"/>	Убийство в Париже Генриха IV
3	<input type="checkbox"/>	Гибель Великой Армады
4	<input type="checkbox"/>	Казнь Марии Стюарт

19. Задача 19



В 1856 г. в Париже был созван международный конгресс по вопросу:

1	пересмотра итогов русско-турецкой войны
2	определения будущего государственного устройства Османской империи
3	выработки условий мирного договора по итогам Крымской войны
4	предоставления независимости Греции

20. Задача 20



Какое из перечисленных государств не являлось участником антигитлеровской коалиции:

1	Китай
2	Канада
3	Великобритания
4	Португалия

21. Задача 21*

Укажите страны Европы, которые НЕ входят в блок НАТО:

1	Австрия
2	Франция
3	Румыния
4	Германия
5	Сербия

22. Задача 22

Кто из перечисленных ниже исторических персонажей были современниками событий, запечатлённых на картине А.- Ж. Гро «Наполеон возле больных чумой в Яффе»:

1	<input type="checkbox"/>	Адмирал Нельсон
2	<input type="checkbox"/>	Абрам Петрович Ганнибал
3	<input type="checkbox"/>	Джонатан Свифт
4	<input type="checkbox"/>	Ф. Ф. Ушаков
5	<input type="checkbox"/>	Джеймс Кук

23. Задача 23*



Кто из ниже перечисленных исторических деятелей и деятелей культуры НЕ похоронен в Пантеоне (Рим):

1	<input type="checkbox"/>	Леонардо да Винчи
2	<input type="checkbox"/>	Рафаэль
3	<input type="checkbox"/>	Лоренцо Медичи
4	<input type="checkbox"/>	Виктор Эммануил II
5	<input type="checkbox"/>	Микеланджело

24. Задача 24

Установите соответствия между датами и событиями международных отношений конца XIX – начала XX века.

1	Образование Антанты	<input type="text"/>
2	Складывание Франко-русского союза	<input type="text"/>
3	Боснийский кризис	<input type="text"/>
4	Фашодский кризис	<input type="text"/>

25. Задача 25


Установите соответствие между очередным Крестовым походом и событием, с ним связанным.




1	I Крестовый поход	<input type="text"/>
2	IV Крестовый поход	<input type="text"/>
3	III Крестовый поход	<input type="text"/>
4	VIII Крестовый поход	<input type="text"/>

Возможные ответы

26. Задача 26

Установите соответствие между городом и собором



2	
3	
4	

Возможные ответы

27. Задача 27

Установите соответствия между временем жизни деятелей культуры и искусства и ниже приведёнными датами исторических событий:

1	<p>Мишель де Монтень</p>  A portrait of Michel de Montaigne, a French philosopher, writer, and member of the Montaigne family. He is depicted from the chest up, wearing a dark blue and red robe with a white ruffled collar and a gold chain. The background is a textured green and gold pattern. The name 'MICHEL DE MONTAIGNE' is inscribed at the top of the portrait.
2	<p>Леонардо да Винчи</p>  A portrait of Leonardo da Vinci, an Italian polymath. He is shown from the chest up, with a long, flowing white beard and hair. He is wearing a simple, light-colored tunic. The background is a plain, light brown color.
3	<p>Галилео Галилей</p>  A portrait of Galileo Galilei, an Italian astronomer, physicist, and engineer. He is depicted from the chest up, wearing a dark, heavy coat. He has a full, dark beard and mustache. The background is a dark, textured grey. The name 'GALILEVS GALILEVS MATHEVS' is inscribed in the top left corner of the portrait.
4	<p>Жан-Батист Мольер</p>



Возможные ответы

28. Задача 28*

Расположите события в хронологической последовательности

Отставка О. фон Бисмарка	<input type="text"/>
Провозглашение Германской империи	<input type="text"/>
Упразднение Священной Римской империи.	<input type="text"/>
Принятие конституции Франкфуртским национальным собранием	<input type="text"/>
Принятие Конституции США	<input type="text"/>

Возможные ответы

29. Задача 29

«Он вновь живет в своем племяннике» - такая надпись сопровождала этот этюд к плафону, который должен был украшать помещение Парижской ратуши, но не уцелел в огне Парижской коммуны. Под каким именем правил этот племянник?



Напишите его полное имя в именительном падеже, например: Иван IV

30. Задача 30



О коронации какого короля повествует эта картина?

Запишите имя полностью в именительном падеже, например: Петр I

31. Задача 31

Перед вами отрывок из жизнеописания одного из правителей Римского государства, открывшего новую эпоху в его истории. О ком идет речь?



«Высшие и почетнейшие государственные должности он получал досрочно, в том числе некоторые новые или бессменные. Консульство он захватил на двадцатом году, подступив к Риму с легионами, как неприятель, и через послов потребовав этого сана от имени войска <...> Второе консульство он получил через девять лет; третье — еще через год; следующие, вплоть до одиннадцатого, — ежегодно <...> Триумвиром для устройства государства он был в течение десяти лет. <...> Трибунскую власть он принял пожизненно, и раз или два назначал себе товарища на пять лет. Принял он и надзор за нравами и законами, также пожизненно; в силу этого полномочия он три раза производил народную перепись, хотя и не был цензором: в первый и третий раз — с товарищем, в промежутке — один».

32. Задача 32

Прочтите отрывок из протокола к договору 1939 г.: «В случае территориально-политического переустройства областей, входящих в состав Польского Государства, граница сфер интересов «» и «» будет приблизительно проходить по линии рек Нарева, Вислы и Сана. Вопрос, является ли в обоюдных интересах желательным сохранение независимого Польского Государства и каковы будут границы этого государства, может быть окончательно выяснен только в течение дальнейшего политического развития».

Ответы (названия стран) запишите в именительном падеже, например: Австрия, США

Система оценивания

33. Задача 33



Эта пьеса была впервые представлена при дворе короля «» в 1670 г. Главный герой пьесы, г-н Журден, честно признавался: «То и дело колют мне глаза моим знакомством с вельможами, а для меня ничего не может быть приятнее таких знакомых. От них один только почет и уважение. Я бы позволил отрубить себе два пальца на руке, лишь бы мне родиться графом или же маркизом». Несмотря на королевское покровительство, автор «» многочисленных пьес для театра, спустя некоторое время, был похоронен ночью, без обрядов, за оградой кладбища, где хоронили самоубийц.

Система оценивания