

1. Задача 1



Подписавший в 1938 г. Мюнхенское соглашение Н. Чемберлен был премьер-министром:

1	Италии
2	Великобритании
3	Франции
4	Бельгии


2. Задача 2

С именем Лоренцо Медичи был связан расцвет:

1	Венеции
2	Рима
3	Милана
4	Флоренции

3. Задача 3

Движение «Сражающаяся Франция» в Лондоне, не признавшее капитуляцию страны, сформировал в 1940 г.



1	Шарль де Голль
2	Филипп Петен
3	Жорж Помпиду
4	Франсуа Миттеран

4. Задача 4



Начало французской колонизации Северной Америки положил

1	Жан Франсуа Лаперуз
2	Жак Картье
3	Эрнан Кортес
4	Франсиско Писарро

5. Задача 5


Кто из английских монархов был современником персонажа, изображенного на картине Виктора Васнецова?



1	Елизавета I
2	Анна I
3	Генрих II

4	Георг III
---	-----------

6. Задача 6



В Италии фашисты приходят к власти в:

- | | |
|---|---------|
| 1 | 1918 г. |
| 2 | 1930 г. |
| 3 | 1922 г. |
| 4 | 1933 г. |

7. Задача 7



Автором таких полотен как «Рождение Венеры» и «Весна» был известный художник эпохи Возрождения

1	Тициан
2	Леонардо да Винчи
3	Микеланджело
4	Сандро Боттичелли

8. Задача 8



Картина В. В. Верещагина «Шипка-Шейново. Скобелев под Шипкой» посвящена событиям:


1	Ахал-текинской экспедиции 1880-1881 гг.
2	Русско-турецкой войны 1877–1878 гг.
3	Крымской войны 1853–1856 гг.
4	Русско-турецкой войны 1828–1829 гг.

9. Задача 9

Кто из перечисленных мыслителей жил в эпоху Просвещения:

1	Никколо Макиавелли
2	Томмазо Кампанелла
3	Франсуа – Мари Аруэ (Вольтер)
4	Томас Мор

10. Задача 10



Падение династии Мин в Китае в 1644 г. произошло в результате:

1	вторжения маньчжуров
2	крестьянского восстания
3	государственного переворота
4	отсутствия потомков мужского пола у последнего императора.

11. Задача 11



С какими современными странами принято связывать родину готического стиля в архитектуре?

1	Италия
2	Чехия
3	Германия
4	Франция

12. Задача 12



В результате битвы на Косовом поле 1389 г.

1	Болгария попала под власть Османской империи
2	Сербия освободилась от власти Османской империи
3	Сербия попала под власть Османской империи
4	население Сербии массово приняло ислам

13. Задача 13

Ostpreußenverkehr

Deutsche Reichsbahn Kontrollbezirk Hannover

Militärfahrkarte 03186 Tag der Ausgabe
09.10.1938

*) 3. Kl. für Militärperson.....
 *) 2. Kl. für min Offizier.....
 *) für Militär-Diensthund.....

*) Für alle Züge — *) Für Eilzüge — *) Für Personenzüge

von Rendsburg
 nach Königsberg (Pr) Hbf. und zurück *)
R
 über Hamburg - Berlin - Tschau Marienburg

Militärfahrpreis	30	RM	00	Plat	*) für einfache Fahrt *) für Hin- und Rück- fahrt
Fahrpreiszuschlag (Militärkarte)	5	RM	20	Plat	
*) Kriegszuschlag	5	RM	00	Plat	
*) Schnellzugzuschlag	5	RM	00	Plat	
*) Militär-Diensthund		RM		Plat	
<u>999</u> km	Summe	40	RM	20	Plat

Für FD-, FDT- und L-Züge tarifmäßiger Zuschlag

*) Nichtzutreffendes streichen
 *) Bei Ausfertigung für einfache Fahrt ist das Feld für die Rückfahrt zu durchkreuzen. Bei Ausfertigung für Hin- und Rückfahrt sind Fahrpreis und Zuschläge zu verdoppeln.

FyVors-Ostpr 10.37

Как назывался участок территории, отделявший основную территорию Германии от ее эксклава Восточная Пруссия в 1919 – 1939 гг.?

- | | |
|---|--------------------|
| 1 | Чешский коридор |
| 2 | Польский коридор |
| 3 | Прусский коридор |
| 4 | Мемельский коридор |

14. Задача 14



Какое из произведений знаменитого французского художника конца XVIII – нач. XIX вв. Жака-Луи Давида написано на современную ему тему?

1	«Клятва Горациев»
2	«Велизарий просит милостыню»
3	«Смерть Сократа»
4	«Смерть Марата»

15. Задача 15



Кто из ниже перечисленных античных богов изображен на сосуде работы Экзекия:

1	Зевс
2	Посейдон
3	Дионис
4	Аид

16. Задача 16

Как называется фермерский участок-усадыба, земельный надел из фонда свободных земель на Западе США по закону, вступившему в силу в 1863 г.?



1	гомстед
2	клер
3	копигольд
4	гомруль

17. Задача 17

В ходе Крымской войны (1853 – 1856 гг.) происходила борьба между Россией и следующими европейскими державами:



- | | |
|---|--|
| 1 | Франция, Австрия, Англия |
| 2 | Англия, Франция, Турция, Сардиния |
| 3 | Англия, Австрия, Франция, Швеция, Турция |
| 4 | Англия, Франция, Германия, Австрия, Турция |

18. Задача 18


Вацлав Гавел был:



- | | |
|---|---|
| 1 | генеральным секретарем Коммунистической партии Чехословакии |
| 2 | первый президент независимой Польши |

- | | |
|---|--|
| 3 | первый президент независимой Чехии |
| 4 | генеральным секретарем Коммунистической партии Югославии |

19. Задача 19



Какое событие в истории Китая XX века привело к фактическому образованию двух китайских государств?

- | | |
|---|--|
| 1 | победа коммунистов в гражданской войне в Китае в 1946 – 1949 гг. |
| 2 | Синьхайская революция 1911 г. |
| 3 | оккупация Японией Маньчжурии в 1931 г. |
| 4 | условия Ялтинских соглашений 1945 г., относящиеся к Дальнему Востоку |

20. Задача 20



На картине Ж.-М. Натье Пётр I изображен со знаком учреждённого им первого российского Императорского ордена. Этой наградой Пётр I был отмечен в 1703 г. за участие в бою в устье Невы и пленении шведских кораблей.

1	Орден Святого Александра Невского
2	Военный орден Святого Великомученика и Победоносца Георгия
3	Императорский орден Святого равноапостольного князя Владимира
4	Святого апостола Андрея Первозванного

21. Задача 21

Какие из перечисленных стран были в прошлом колониями Франции?

1	Вьетнам
2	Алжир
3	Индия
4	Гвинея
5	Демократическая Республика Конго

22. Задача 22

При каких политических деятелях отношения между США и СССР подошли ближе всего к военному конфликту с применением ядерного оружия?

1	Михаил Горбачев
2	Гарри Трумэн

3	Джон Кеннеди
4	Рональд Рейган
5	Никита Хрущев

23. Задача 23

Какие из перечисленных положений НЕ составляли условия Версальского мирного договора 1919 г.:



1	Образование Югославии
2	Запрет на создание Германией танковых частей и военной авиации
3	Признание британского суверенитета над Индией
4	Создание Рейнской демилитаризованной зоны

24. Задача 24

Соотнесите события истории Франции и их даты:


1	Провозглашение Наполеона императором.	<input type="text"/>
2	Взятие Бастилии.	<input type="text"/>
3	Битва при Ватерлоо	<input type="text"/>
4	Переворот 9 термидора	<input type="text"/>




Возможные ответы

1	27 июля 1794 г.
2	18 мая 1804 г.
3	14 июля 1789 г.
4	18 июня 1815 г.

25. Задача 25

Установите соответствия между сюжетами из античной мифологии и изображениями:

1	<input type="text"/>	
---	----------------------	--

<p>2</p> <input data-bbox="256 353 839 398" type="text"/>	
<p>3</p> <input data-bbox="256 965 839 1010" type="text"/>	
<p>4</p> <input data-bbox="256 1525 839 1570" type="text"/>	

Возможные ответы

1	Укрощение Гераклом Цербера
2	Состязание Аполлона и Марсия (Суд Мидаса)
3	Рождение Венеры
4	Гигантомахия

26. Задача 26

Установите соответствие между государствами и их последними правителями:


1	Франц II	<input type="text"/>
2	Вильгельм II	<input type="text"/>
3	Карл I	<input type="text"/>
4	Наполеон III	<input type="text"/>

Возможные ответы

1	Французская империя
2	Священная Римская империя
3	Германская империя
4	Австро-Венгерская империя

27. Задача 27

Сопоставьте известные архитектурные памятники с событиями, происходившими в их стенах:

1	Дворцовая капелла в г. Ахен (Аахен) 	
2	Дворец в Митаве (Елгаве)	

		
3	<p>Дворец Фонтенбло</p> 	
4	<p>Михайловский замок в г. Санкт-Петербург</p> 	

Возможные ответы

1	Отречение Наполеона I от престола в пользу своего сына
2	Убийство Павла I
3	Коронация Оттона I Великого
4	Предоставление убежища французскому королю Людовику XVIII с семейством

28. Задача 28

Расположите события в хронологической последовательности

1	Сан - Стефанский мир	<input type="text"/>
2	Начало Гражданской войны в США	<input type="text"/>

3	Образование Антанты	<input type="text"/>
4	Убийство эрцгерцога Фердинанда в Сараево	<input type="text"/>
5	Парижская Коммуна	<input type="text"/>

Возможные ответы

1	1
2	2
3	3
4	4
5	5

29. Задача 29

Укажите название острова, на который первоначально был сослан Наполеон Бонапарт после отречения в 1815 г. .

Напишите его название в именительном падеже, например: Сахалин

30. Задача 30



Приведенные ниже строки принадлежат перу первой в мире женщине, возглавившей Академию Наук: «в ту эпоху, о которой я говорю, наверное,

можно сказать, что в России нельзя было найти и двух женщин, которые бы, подобно Екатерине и мне, серьезно занимались чтением; отсюда, между прочим, родилась наша взаимная привязанность, и так как великая княгиня обладала неотразимой прелестью, когда она хотела понравиться, легко представить, как она должна была увлечь меня, пятнадцатилетнее и необыкновенно впечатлительное существо».

Назовите полностью имя автора этого текста.

Запишите его в именительном падеже, например: Гавриил Романович Державин

31. Задача 31

«Германия и Россия взаимно отказываются от возмещения их расходов на военнопленных. Равным образом Германское правительство отказывается от возмещения расходов, произведенных на интернированные в Германии части Красной армии. <...> Дипломатические и консульские отношения между Германией и РСФСР немедленно возобновляются. <...> Оба правительства далее согласны в том, что для общего правового положения граждан одной Стороны на территории другой и для общего урегулирования взаимных торговых и хозяйственных отношений должен действовать принцип наибольшего благоприятствования»

Фрагментом какого договора является данный отрывок?

Датируйте его, указав год.

Ответ запишите в именительном падеже, например: Туркманчайский мирный договор 1828.


32. Задача 32

Римский историк IV века н.э. Аммиан Марцелин так описал это событие: «Множество людей было направлено с поручением обеспечить всем необходимым для переправы этот дикий народ. Были приняты все меры, чтобы никто из будущих разрушителей Римской империи, даже будучи при смерти, не остался на этом берегу Дуная. И вся эта спешка, весь этот переполох ради того, чтобы приблизить крушение римского мира!»

О каком «диком народе» говорил римский историк?

Ответ напишите в именительном падеже, например, славяне.

33. Задача 33



В тексте постановления парламента 8 мая 1660 г. вставьте пропущенные имена - (1), (2), и названия территорий, входивших в состав государства (3).

«Мы... лорды и общины, в настоящее время заседающие в парламенте, согласно нашему долгу и верноподданническим обязанностям объявляем и провозглашаем: Что, немедленно после смерти нашего покойного господина государя короля «», королевская корона английского государства и всех королевств, владений и прав, ей принадлежащих, перешла по наследству и преемству, на основании природного права, рождения и законного и неоспоримого права наследования, к его королевскому величеству «», являющемуся по прямой линии законно и правомерно ближайшим наследником королевского сана английского государства и что, в силу благости и промысла всемогущего бога, он является могущественнейшим, полновластным и законным королем «», которому поэтому мы весьма почтительно и преданно признаем себя, наших наследников и потомков навсегда подчиненными и подданными».

*Напишите имена и названия в именительном падеже, без запятой, например:
Шекспир Локк Зимбабве Мадагаскар Непал.*