

1. Задача 1



Подписавший в 1938 г. Мюнхенское соглашение Э. Даладье был премьер-министром:

1	Италии
2	Бельгии
3	Франции
4	Великобритании

Верный ответ: 3

2. Задача 2



Программа США по разработке ядерного оружия называлась:

1	«Манхэттенский проект»
2	«Скайлеб»
3	«М.С. Фэктори Вaley»
4	«Звездные войны»

Верный ответ: 1

3. Задача 3



С какими историческими событиями связан сюжет, изображённый на картине Николая-Ги Брене «Великодушные Сципиона»?

1	Первая Иудейская война
2	Самнитские войны
3	Греко-персидские войны
4	Пунические войны

Верный ответ: 4

4. Задача 4





Массовое профсоюзное движение в Польше называлось:

1	«Несокрушимая свобода»
2	«Солидарность»
3	«Свобода и независимость»
4	«Свободная Польша»

Верный ответ: 2

5. Задача 5



Кто из американских президентов произнес в своей инаугурационной речи следующую фразу: «Не спрашивайте, что ваша страна сделала для вас, спрашивайте, что вы можете сделать для своей страны!»:

1	А. Линкольн
2	Ф.Д. Рузвельт
3	Д.Ф. Кеннеди
4	Б. Клинтон

Верный ответ: 3

6. Задача 6



Укажите, о ком из известных политических деятелей XX в. идет речь:

Он родился в конце XIX в. и получил громкое имя: «Облагодетельствующий Восток». Он считал, что для его страны нужна такая же революция, которая была в России в 1917. Он стал основоположником нового направления в марксизме, приспособив его к реалиям своей страны. В 1949 г. он стал председателем правительства созданной народной республики. С его именем связывают кампанию «Ста цветов» и политику «Большого скачка», «культурную революцию» и конфликт с Советским союзом на острове Даманский. На его похоронах присутствовало более миллиона человек, а его усыпальница до сих пор одно из наиболее посещаемых мест в его стране.

1	Чан Кайши
2	Аугусто Пиночет
3	Джавахарлал Неру
4	Мао Цзэдун

Верный ответ: 4

7. Задача 7



В каком городе происходило действие, изображенное М. А. Зичи на картине «Коронации Марии Александровны» (супруги Александра II)?

1	Москва
2	Санкт-Петербург
3	Берлин
4	Великий Новгород

Верный ответ: 1

8. Задача 8

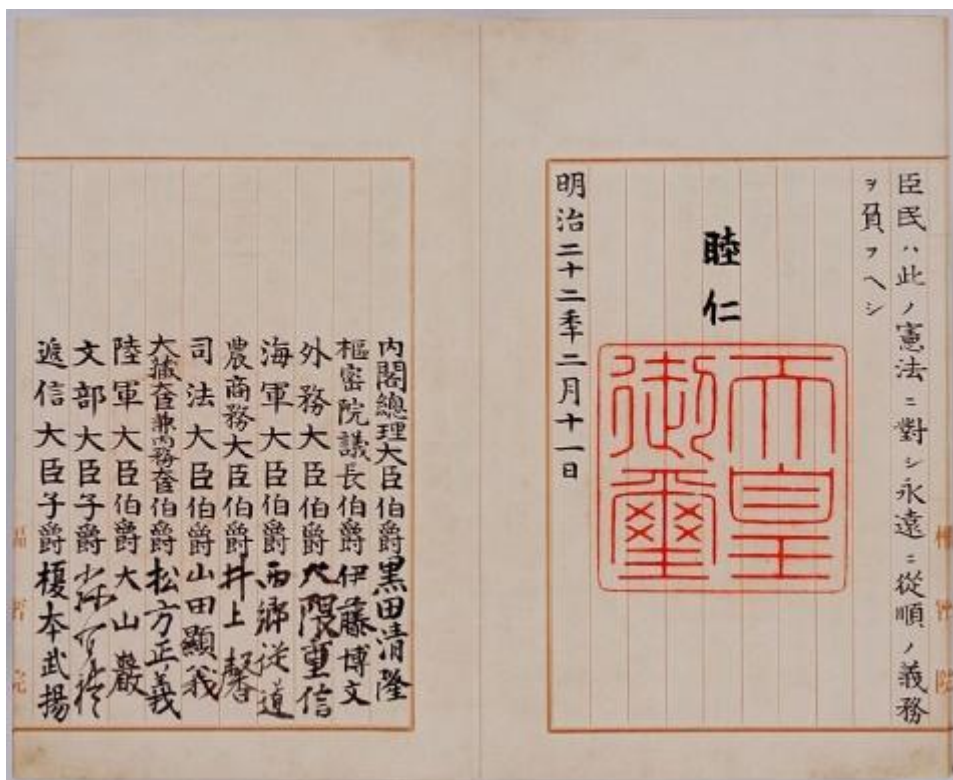


Убийство А.С. Грибоедова в 1829 г. было вызвано:

1	нарушением Россией условий Туркманчайского мирного договора 1828 г.
2	стремлением правящих слоев Ирана направить народное недовольство против России
3	интригами Германской империи
4	случайным стечением обстоятельств

Верный ответ: 2

9. Задача 9



Образцом для первой конституция Японии 1889 г. послужила:

1	Великая хартия вольностей
2	конституция Франции
3	«Слово о законе и благодати»
4	конституция Пруссии

Верный ответ: 4

10. Задача 10


Кого из деятелей Реформации называли «Женевским папой»?



- | | |
|---|-----------------|
| 1 | Ульриха Цвингли |
| 2 | Мартина Лютера |
| 3 | Жана Кальвина |
| 4 | Томаса Мюнцера |

Верный ответ: 3

11. Задача 11



Падение династии Мин в Китае в 1644 г. произошло в результате:

1	вторжения маньчжуров
2	крестьянского восстания
3	государственного переворота
4	отсутствия потомков мужского пола у последнего императора

Верный ответ: 2

12. Задача 12

С какими современными странами принято связывать родину стиля рококо:

1	Франция
2	Италия

3 Германия

4 Австрия

Верный ответ: 1

13. Задача 13



Автором «Золотой книжечки, столь же полезной, сколь и забавной о наилучшем устройстве государства и о новом острове Утопия» является:

1 Мишель де Монтень

2 Томас Мор

3 Эразм Роттердамский

4 Никколо Макиавелли

Верный ответ: 2

14. Задача 14



На правление кого из этих европейских правителей пришлась торжественная закладка Исаакиевского собора в г. Санкт-Петербурге (арх. О. Монферран):

1	королева Виктория
2	Наполеон III
3	Георг III
4	Наполеон Бонапарт

Верный ответ: 3

15. Задача 15



Кто из ниже перечисленных античных богов изображен на сосуде работы Эзкекия:

1	Зевс
2	Посейдон
3	Аид
4	Дионис

Верный ответ: 4

16. Задача 16

Движение за объединение Италии получило название:



1	Реконкиста.
2	Рисорджименто.
3	Конкиста.
4	Революция.

Верный ответ: 2

17. Задача 17



Укажите год, когда Австрийская империя была преобразована в Австро-Венгрию:

- | | |
|---|---------|
| 1 | 1848 г. |
| 2 | 1871 г. |
| 3 | 1883 г. |
| 4 | 1867 г. |

Верный ответ: 4

18. Задача 18

Какое название получило массовое уничтожение гугенотов-протестантов католиками во Франции в период Религиозных войн:



1	«Ночь длинных ножей»
2	«Толедская ночь»
3	«Варфоломеевская ночь»
4	«Хрустальная ночь»

Верный ответ: 3

19. Задача 19



Автором «Божественной комедии» является:

- | | |
|---|--------------------|
| 1 | Данте Алигьери |
| 2 | Никколо Макиавелли |
| 3 | Франческо Петрарка |
| 4 | Джованни Боккаччо |

Верный ответ: 1

20. Задача 20

Первым премьер-министром государства Израиль был:



1	Хаим Вейцман
2	Голда Меерсон (Меир)
3	Давид Бен-Гурион
4	Теодор Герцль

Верный ответ: 3

21. Задача 21



Кто из ниже перечисленных исторических персонажей был современником событий, запечатлённых в картине И. Е. Репина «Иван Грозный и сын его Иван 16 ноября 1581 года»:

1	Сандро Боттичелли
2	Богдан Хмельницкий
3	Стефан Баторий
4	Анна Австрийская
5	Ермак

Верные ответы: 3 5

22. Задача 22

Укажите, какие из перечисленных изобретений относятся ко второй половине XIX века.



1	Изобретение лампочки накаливания
2	Изобретение радио
3	Изобретение телеграфа
4	Изобретение телефона
5	Создание микроскопа

Верные ответы: 1 2 4

23. Задача 23

Какие из перечисленных положений НЕ составляли условия Версальского мирного договора 1919 г.:







1	Образование Югославии
2	Запрет на создание Германией танковых частей и военной авиации
3	Признание британского суверенитета над Индией
4	Создание Рейнской демилитаризованной зоны
5	Вывод японских войск с советского Дальнего Востока

Верные ответы: 1 3 5

24. Задача 24

Установите соответствия между сюжетами из античной мифологии и изображениями:

1 <input type="text"/>	
2 <input type="text"/>	

<p>3</p> <input data-bbox="256 383 646 427" type="text"/>	
<p>4</p> <input data-bbox="256 976 646 1021" type="text"/>	

Возможные ответы

1	Суд Париса
2	Наказание Ниобы
3	Геракл и Лернейская гидра
4	Афина помогает Персею

25. Задача 25

Соотнесите события и даты истории международных отношений:

1	Франко-прусская война	<input data-bbox="632 1883 879 1939" type="text"/>
2	Северная война	<input data-bbox="632 1951 879 2007" type="text"/>
3	Ливонская война	<input data-bbox="632 2018 879 2074" type="text"/>

4	Тридцатилетняя война	<input type="text"/>
---	----------------------	----------------------

Возможные ответы

1	1618-1648 гг.
2	1558-1583 гг.
3	1870-1871 гг.
4	1700-1721 гг.

26. Задача 26

Установите соответствие между государствами и их последними правителями:

1	Франц II	<input type="text"/>
2	Вильгельм II	<input type="text"/>
3	Карл I	<input type="text"/>
4	Наполеон III	<input type="text"/>

Возможные ответы

1	Французская империя
2	Священная римская империя
3	Германская империя
4	Австро-Венгерская империя

27. Задача 27

Сопоставьте известные архитектурные памятники с событиями, происходившими в их стенах:

1	Меншиков дворец в г. Санкт-Петербург	<input type="text"/>
2	Версальский дворец	<input type="text"/>
3	Собор св. Петра в г. Вормс	<input type="text"/>
4	Успенский собор Московского Кремля	<input type="text"/>

Возможные ответы

1	Осуждение учения Мартина Лютера
2	Торжественная клятва царевича Алексея Петровича об отречении от престола в пользу брата

3	Свадьба Анны Иоановны с герцогом Курляндским
4	Провозглашение создания Германской империи

28. Задача 28

Расположите события в хронологической последовательности

1	Карибский кризис	<input type="text"/>
2	избрание Кароля Войтылы папой римским (Иоанн Павел II)	<input type="text"/>
3	падение Берлинской стены	<input type="text"/>
4	«Пражская весна»	<input type="text"/>
5	Получение Индией независимости	<input type="text"/>

Возможные ответы

1	1
2	2
3	3
4	4
5	5

29. Задача 29



Con razon ó sin ella.

Гравюра «По причине или без» входит в серию, позднее получившую название «Бедствия войны». Она была создана великим испанским художником («»). Эта серия гравюр связана с реакцией мастера на французскую оккупацию и политикой династии («»).

Ответы (имя и фамилию художника (1), династию(2) запишите в именительном падеже, например: Огюст Ренуар, Виндзоры.

30. Задача 30



Знаменитый римлянин Марк Туллий Цицерон написал: «Мы не превзошли ни испанцев своей численностью, ни галлов силой, ни пунийцев хитростью, ни «» искусствами ..., но благочестием, почитанием богов и мудрой уверенностью в том, что всем руководит и управляет воля богов, мы превзошли все племена и народы».

Какой народ имел в виду Цицерон? Ответ запишите в именительном падеже, например: франки.


31. Задача 31



Отряды молодежи, которые уничтожали культурные ценности, совершали насилие над представителями интеллигенции в Китае во время Культурной революции, называли «».

Ответ запишите в именительном падеже, например: комсомольцы.

32. Задача 32



В тексте постановления парламента 8 мая 1660 г. вставьте пропущенные имена - (1), (2), и названия территорий, входивших в состав государства (3).

«Мы... лорды и общины, в настоящее время заседающие в парламенте, согласно нашему долгу и верноподданническим обязанностям объявляем и провозглашаем: Что, немедленно после смерти нашего покойного господина государя короля «», королевская корона английского государства и всех королевств, владений и прав, ей принадлежащих, перешла по наследству и преемству, на основании природного права, рождения и законного и

неоспоримого права наследования, к его королевскому величеству «», являющемуся по прямой линии законно и правомерно ближайшим наследником королевского сана английского государства и что, в силу благодати и промысла всемогущего бога, он является могущественнейшим, полновластным и законным королем «», которому поэтому мы весьма почтительно и преданно признаем себя, наших наследников и потомков навсегда подчиненными и подданными».

Напишите имена и названия в именительном падеже, без запятой, например: Шекспир Локк Зимбабве Мадагаскар Непал.

33. Задача 33

В тексте вставьте пропущенные названия государств (1) и (2). *Напишите их названия в именительном падеже без знаков препинания через пробел, например: Сингапур Ямайка Индонезия*



Г.К. Жуков так вспоминал об этом событии:

«Начиналось 9 мая 1945 года...

Все сели за стол. Он стоял у стены, на которой были прикреплены государственные флаги «». В зале за длинными столами, покрытыми зеленым сукном, расположились генералы Красной Армии, войска которых в самый короткий срок разгромили оборону Берлина и вынудили противника сложить оружие. Здесь же присутствовали многочисленные советские и иностранные журналисты, фоторепортеры.

— Мы, представители Верховного Главнокомандования Советских Вооруженных Сил и Верховного командования союзных войск, — заявил я, открывая заседание, — уполномочены правительствами стран антигитлеровской коалиции принять безоговорочную капитуляцию Германии от немецкого

военного командования. Пригласите в зал представителей немецкого главного командования...

Первым, не спеша и стараясь сохранить видимое спокойствие, переступил порог генерал-фельдмаршал Кейтель... Немцам было предложено сесть за отдельный стол, который специально для них был поставлен недалеко от входа. Я обратился к немецкой делегации:

— Имеете ли вы на руках акт безоговорочной капитуляции Германии, изучили ли его и имеете ли полномочия подписать этот акт?..

— Да, изучили и готовы подписать его, — приглушенным голосом ответил генерал-фельдмаршал Кейтель... Это был далеко не тот надменный Кейтель, который принимал капитуляцию от побежденной «». Встав, я сказал:

— Предлагаю немецкой делегации подойти сюда, к столу. Здесь вы подпишете акт безоговорочной капитуляции Германии...

В 0 часов 43 минуты 9 мая 1945 года подписание акта безоговорочной капитуляции Германии было закончено».