

**2019/2010 учебный год****ЗАДАНИЯ ЗАКЛЮЧИТЕЛЬНОГО ЭТАПА,  
перенесённого из-за угрозы распространения  
коронавирусной инфекции COVID-19  
ЗАДАНИЯ. СОБЕСЕДОВАНИЕ****НАРОД**

1. Предки этого народа – кочевые охотники и скотоводы (в основном коневоды) лесостепного Зауралья – выделились из состава угров (около 1-го тысячелетия до н.э.) и, по лингвистическим данным, долгое время обитали в бассейнах рек Волги и Камы, в т.ч. на территории современной Башкирии. Долгое время этот народ называли турками, т.к. он не представлял собой самостоятельного независимого объединения, а входил в союзы, где доминирующей силой были тюркские (булгарские) племена. Таким объединением, прежде всего, была существовавшая в Нижнем Подонье и Приазовье в VI–VII вв. Великая Булгария. Здесь обитало множество племён (аланы, болгары, хазары, угры, славяне и др.), оставивших несколько локальных археологических комплексов, объединяемых исследователями в салтово-маяцкую культуру. Предположительно между VII и IX вв. основная часть народа поселилась в Причерноморье, где в 830-е гг. находилась их страна Леведия (вероятно, между Азовским морем и Днестром).

В письменных источниках этот народ впервые появляется только в конце IX в., когда о них как об одном из кочевых народов причерноморских степей упоминают арабские географы. В начальной русской летописи сохранился рассказ о проходе чёрных угров мимо Киева ок. 896 г.



*Назовите этот народ. Дайте определение понятию «кочевники». С какими направлениями экономической деятельности связана жизнедеятельность кочевых народов? Назовите регионы мира, в которых распространено кочевничество. Приведите примеры народов, проживающих в этих регионах, и направления животноводства, которыми они занимаются.*

2. Сложная этническая история этого народа привела к тому, что он делится на разные этнографические и субэтнические группы: палочи, медье, шаркёзы, чанго, кунны, ясы, гайдуки, секеи, мадьярабы. Можно выделить ремёсла, которыми они занимаются: обработка льна, конопли, вышивка, плетение кружев, ткацкое и гончарное дело, дубление и выделка кожи. Палочи и медье славятся искусством вышивки по коже и полотну, а шаркёзы – декоративным искусством и одеждой.

Традиционная одежда у женщин – сборчатая юбка, часто несколько юбок, короткая

рубашка с широким рукавом, безрукавка, головной убор (чепец или платок), а у мужчин – рубашка, жилет и брюки, меховая шапка, соломенная шляпа. Характерно суконное пальто простого покроя (губа), расшитый плащ (сюр) с традиционным орнаментом. Наиболее известные блюда этого народа: гуляш, пёркельт (тушёное мясо в томатном соусе), паприкаш (тушёная курица с красным перцем), лечо (овощи в томатном соусе). Широкую известность получил танец этого народа – чардаш. Особое место в фольклоре занимают песни о бетярах (разбойниках). Бетяр в народном представлении был борцом против национального и феодального гнёта, защитником бедных. Особо известны предания, повествующие о происхождении народа и великокняжеской семьи.



**Назовите этот народ. Что такое русские народные художественные промыслы? Приведите примеры русской народной росписи и регионов, где она представлена. Назовите второй по численности населения народ России и его национальные блюда.**

3. Этот угорский народ проживает на территории Центральной Европы. Его самоназвание – мадьяры, а свою страну они именуют Мадьярорсаг («земля мадьяр»). На территории государства находится крупнейшее в Европе озеро Балатон и самая длинная река Зарубежной Европы – Дунай.

В 1804 г. в Европе появилась Австрийская империя, которая в ходе ряда войн меняла свои границы, а в 1868 г. она стала официально именоваться «Osztrak-Magyar Monarchia». По данным переписи 1910 г. её населяли: немцы – 23,5%, мадьяры – 19,1%, чехи и словаки – 16,5%, сербы и хорваты – 10,5%, поляки – 10%, русины (украинцы) – 8%, румыны – 6,5%, словенцы – 2,5%, прочие – 3,4%. Государство распалось после окончания Первой мировой войны в 1918 г. На территории бывшей империи возникло несколько новых стран: Чехословакия, Польша, Австрия и государство, где в настоящее время проживает большая часть этого народа. Остальные регионы империи вошли в состав Румынии, Югославии и Италии. Однако 4 июня 1920 г. был подписан, а 26 июля 1921 г. вступил в силу Трианонский договор, в результате которого страна мадьяр лишилась 72 % территории и 64 % населения (в т.ч. 3 млн мадьяр), выхода к морю и флота, 88 % лесных ресурсов, 83 % производства чугуна и 67 % банковско-кредитной системы. С 1949 по 1989 гг. в стране был провозглашён социализм. В СССР была хорошо известна такая её экспортная продукция, как автобусы Икарус, консервы марки Глобус, кубик Рубика.



**Назовите этот народ. Назовите внутриконтинентальные суверенные государства Европы. По территории каких стран протекает р. Дунай? Перечислите их от истока к устью. Столицы каких государств расположены на р. Дунай? Назовите пары: столица – страна. Какие страны мира входят в десятку крупнейших производителей автомобилей?**

### **РАВНИНА**

1. Эта равнина представляет собой обширную аккумулятивную низменность с незначительными колебаниями высот, в основном в пределах 50–100 м над уровнем моря. Лишь отдельные возвышенности, в основном по её периферии, имеют высоты до 300 м. Протяжённость низменности с запада на восток составляет около 750 км. С севера низменность выходит к побережью моря, которое считается одним из самых холодных морей Мирового океана и почти весь год покрыто льдом. С запада и востока она ограничена двумя плоскогорьями, средние высоты которых составляют 300–700 м, а отдельные вершины поднимаются до 900–1100 м. Климат данной территории субарктический континентальный, с очень холодной зимой (средняя температура января от  $-32^{\circ}$  до  $-36^{\circ}$ ) и коротким прохладным летом (средняя температура июля от  $+10$  до  $+15^{\circ}$ ). В отдельные дни зимой случаются морозы до  $-55^{\circ}$  и ниже, а летний максимум температуры достигает  $+36^{\circ}$ . Годовая сумма осадков составляет менее 200 мм. Вся территория находится в зоне сплошного распространения многолетней мерзлоты. Здесь широко представлены различные криогенные формы рельефа, прежде всего аласы. Значительная часть территории занята термокарстовыми озёрами.




**Назовите эту равнину. Перечислите известные Вам типы равнин по абсолютной высоте, а также критерии их выделения. Какие два основных типа равнин выделяются по характеру формирующих их геоморфологических процессов? Перечислите известные вам геоморфологические процессы, характерные только для зоны многолетней мерзлоты? Что такое аласы, и каким образом они формируются? Как связаны между собой аласы и термокарстовые озёра?**

2. Низменность относится к числу самых удалённых, труднодоступных и малонаселённых районов России. Русские первопроходцы достигли этой территории в середине XVII в., тогда же здесь был создан первый казачий острог, который уже в 1775 г. получил статус города. С первой половине XIX в. он стал местом ссылки для ре-




волюционеров. Здесь, в частности, отбывал ссылку декабрист Н.С. Бобрищев-Пушкин. В XX в. население данной территории возросло в несколько раз, однако она осталась крайне малоосвоенной. В конце XX в. население стало сокращаться за счёт естественной убыли и миграционного оттока, как и в других районах Крайнего Севера. В настоящее время здесь расположен только один город с населением около 3500 человек, а также несколько поселков городского типа и сёл. Сообщение между населёнными пунктами осуществляется главным образом по автозимникам или по воздуху, а доставка грузов в рамках северного завоза – водным транспортом. Основной отраслью экономики является сельское хозяйство, а именно коневодство и оленеводство, а также рыболовство и пушной промысел.



**Назовите эту равнину. Объясните, что такое северный завоз? Перечислите субъекты РФ, которые полностью находятся в зоне Крайнего Севера? Перечислите факторы, которыми обусловлена необходимость северного завоза? Какие виды транспорта используются для северного завоза?**

3. Название низменности происходит от названия крупнейшей реки крайнего Северо-Востока России. Длина этой реки составляет по разным оценкам от 2129 до 2513 км, а площадь бассейна достигает 643 тыс. км. Река протекает по территории двух субъектов РФ – Магаданской области и Республики Саха (Якутия) и впадает в Восточно-Сибирское море, образуя дельту площадью около 3000 кв. км.

В российском обществе название этой реки и региона в целом устойчиво ассоциируется с периодом массовых сталинских репрессий, когда на её берегах было построено множество исправительно-трудовых лагерей с особенно тяжёлыми условиями жизни и работы. Здесь одновременно отбывали наказание до 170 тыс. чел., а количество погибших сложно оценить даже приблизительно. Александр Исаевич Солженицын охарактеризовал эти лагеря как «полюс холода и жестокости» в системе ГУЛАГа. Этой же мрачной странице российской истории посвящены несколько других произведений русской литературы, среди которых наиболее известны рассказы Варлама Шаламова. А совсем недавно, в 2019 г., документальный фильм на эту тему выпустил известный российский журналист и видеоблогер Юрий Дудь.



**Назовите эту равнину. Назовите две крупнейших реки, впадающих в Восточно-Сибирское море. Опишите основные особенности их водного режима (каковы преобладающие источники питания, в какое время наблюдается максимальный**

*и минимальный сток и каков его генезис, назовите примерные сроки замерзания и вскрытия). Месторождения каких полезных ископаемых разрабатывались заключёнными магаданских лагерей в 1930–1950-е гг.?*

### РЕКА


1. Эта река имеет длину 2574 км и является четвёртой по протяжённости рекой на континенте. Питание реки в среднем и нижнем течении преимущественно дождевое. Исток находится в болотах среди покрытых лесом холмов на высоте около 1500 м над уровнем моря. От истока река течёт на юго-запад на протяжении примерно 240 км, вбирая в себя по пути мелкие речки, а затем поворачивает на юг. В местах выхода твёрдых пород появляются пороги и водопады, пройдя которые река продолжает течь по плоскогорью, высота которого около 1100 м над уровнем моря. Затем река принимает два крупных притока и начинается её пойменная часть, где в сезон дождей водный поток растекается в ширину на 25 км. Далее ландшафт речных берегов становится плоским, русло – широким и мелким, течение здесь замедляется, постепенно меняет направление на юго-восточное, а затем резко на восточное. Река устремляется к разлому, в который она низвергается водопадом, после которого продолжает течь на восток приблизительно ещё 200 км между холмов высотой 200–250 м, прорезая перпендикулярные стены из базальта и преодолевая многочисленные пороги и стремнины. Ниже по реке сооружено два водохранилища, первое из которых входит в список крупнейших искусственных озёр в мире. 650 км нижнего течения реки от водохранилищ до устья проходит по широкой долине. Река разливается на большой территории от 5 до 8 км в сезон дождей, однако во время сухого сезона образуется множество мелей. При приближении к устью река формирует широкую дельту, распадаясь на множество рукавов.



*Назовите эту реку. Дайте определение понятию «болото». Опишите экологическую и хозяйственную роль болот. Назовите основные факторы образования дельт. Перечислите причины возможных затруднений хозяйственного использования речных дельт.*

2. Эта река является средой обитания большого количества популяций диких животных: гиппопотамов, крокодилов, варанов, особых разновидностей птиц – цапель, пеликана, фламинго. Прибрежные леса населены крупными животными – буйволами, зебрами, жирафами и слонами. В реке обитает несколько сотен видов рыб, часть из которых являются эндемиками, а также серая акула-бык, способная существовать и в морской, и в пресной воде. Богатство рыбных ресурсов способствует интенсивному развитию рыболовства, к местным рыбакам прибавляются люди из засушли-

вых мест, которые совершают довольно длительные путешествия. Отдельная статья доходов местного населения – это ловля аквариумных рыбок (особенно известны данио) для коллекционеров и спортивная рыбалка для туристов. Серьёзное воздействие как на долину реки, так и на близлежащие области оказало строительство двух больших плотин в 1959 и 1979 гг. Водохранилище первой ГЭС находится в сейсмоопасной зоне, площадь его водной поверхности 5580 кв. км, глубина – до 97 м. Когда была сооружена плотина второй ГЭС, созданное ею водохранилище было наполнено всего лишь за один сезон дождей. Резкое сокращение стока привело к уменьшению зоны распространения мангровых лесов на 40% и сокращению вылова креветок на 60%. Сразу после начала строительства первой плотины недовольные её созданием старейшины племени батонка, живущего в нижнем течении реки, обратились за помощью к богу этой реки Ньяминьями, которого, как они считали, дамба разлучит с женой. И в тот же год сильнейшее наводнение на реке, вызванное землетрясением, обрушилось потоками воды на плотину. Она устояла, но многие её служебные постройки были разрушены.




**Назовите эту реку. Назовите виды ГЭС по особенностям их строительства. Перечислите пятерку мощнейших действующих ГЭС мира. Какие субъекты РФ расположены в сейсмически опасных районах?**

3. Долина реки практически на всём своём протяжении находится в субэкваториальном климатическом поясе. После нескольких месяцев палящего зноя в середине ноября на долину реки обрушивается стена дождя, и весь животный мир устремляется к воде. А потом опять наступает засуха: высыхает трава, пересыхают мелкие притоки реки, животные мигрируют в другие места континента. С сезонным циклом природы связан красочный праздник народа лози, живущего в пойме на одном из участков реки. Называется праздник Куомбока, что означает «выбираться из реки». Издревле на этих землях обитал и другой народ шона, имевший торговые связи с арабским миром с X в. Средневековым географам эти территории были известны, как империя Мономотапа. Первым европейцем, посетившим верхнее течение реки, был шотландский путешественник и миссионер Д. Ливингстон, который добрался до неё между 1851 и 1853 гг. и принял решение назвать её по-своему, искажив услышанное от местных наименование Касамбо Уэйзи, что в буквальном переводе означает «Большая река». В 1855 г., спускаясь по течению, он обнаружил водопад, на языке коренного населения этих мест известный как Моси-оа-Тунья – «гремящий дым». Ширина водопада около 1800 м, высота падения воды – от 80 до 108 м, в сезон дождей он низвергает 9100 куб. м/с. Брызги и туман над падающим потоком подни-



маются на 400 м и выше, а звук слышен за 30 км, отсюда и – «гремящий дым». Шотландец дал водопаду имя британской королевы и написал о нём следующее: «Никто не может сравнить эту красоту с чем-либо, виденным в Англии. Глаза европейца прежде никогда не видели ничего подобного. Должно быть, только ангелы в полёте смотрели на столь прекрасные места». В течение долгого времени водопад практически не посещался, пока в 1905 г. сюда не была проведена железная дорога. Сейчас это – объект Всемирного наследия ЮНЕСКО и одна из главных достопримечательностей континента.



*Назовите эту реку. Какие природные зоны характерны для субэкваториального климата? Назовите пятёрку высочайших водопадов планеты и страны, на территории которых они расположены. Перечислите известные объекты Всемирного природного наследия ЮНЕСКО, расположенные на территории Российской Федерации. На территории какого федерального округа расположено наибольшее количество этих объектов?*

### **СТРАНА**

1. Это государство занимает 200-е место в мире по площади. Представляет собой остров вулканического происхождения, местами окружённый коралловыми рифами. Поверхность полого поднимается террасами от побережья к центральной части до высшей точки – горы Хиллаби (336 м). Почти вдоль всего побережья проходит широкая полоса песчаных пляжей, северо-восточный берег круто обрывается к океану. На территории страны нет постоянных рек. Развит карст: пещеры, подземные реки и озёра. Климат тропический, с постоянными ветрами (пассатами) со стороны Атлантического океана. Среднемесячные температуры воздуха составляют 25–27 °С. Осадков до 1400 мм в год, самыми дождливыми считаются месяцы с июня по октябрь. Сила дождей, которые приходят в этот сезон на территорию страны, впечатляет, но чаще всего – это тропический ливень, быстро сменяющийся ясным небом. К тому же структура острова довольно пористая и вся вода быстро уходит в подземные озёра или море. Сухой сезон длится с ноября по май. Самыми «засушливыми» месяцами можно назвать март и апрель, когда дождливых дней набирается не больше недели. Часты ураганы, характерные для этого региона в целом. На юге встречаются болота. Грунтовые воды залегают глубоко, почвы коричнево-красные латеритизованные.

Животный мир беден: обитают мангуст, черепахи, грызуны, из птиц – колибри, голуби, фрегаты, пеликаны. В прибрежных водах водится макрель, скумбрия, летучая рыба, ракообразные. В заповеднике живой природы в округе Сент-Питер (25 км на

север от столицы страны) можно встретить зелёных обезьян, оленей, черепах, броненосцев, игуан, фламинго, павлинов и другие виды экзотических животных и птиц.



**Назовите эту страну. Что такое карст? Какие формы карстового рельефа существуют? Почему карстовый рельеф может быть опасен для хозяйственной деятельности человека? Что такое коралловый риф? Почему сегодня многие коралловые рифы находятся под угрозой исчезновения?**

2. По состоянию на 2020 год население государства составляет почти 300 тысяч человек. Официальным языком считается английский, широко используется местный англо-креольский язык под названием бейджанс. Это унитарное государство, входящее в состав Содружества. В расово-этническом составе населения преобладают чернокожие афро-карибского происхождения (около 92% населения). Европейцев, в основном выходцев из Великобритании и Ирландии, – около 2,7%; индийцев – 1,3%. Также присутствуют немногочисленные группы китайцев, арабов из Сирии и Ливана, цыган. В возрастной структуре наибольшая доля приходится на лиц в возрасте от 25 до 54 лет, почти 43%. Доля детей (до 14 лет) – около 17,5%. Религиозный состав очень пёстрый: две трети населения придерживаются протестантизма, католицизма, растафарианства. В структуре экономики 89% приходится на долю услуг и сервиса. Из ведущих отраслей экономики можно выделить туризм, выращивание сахарного тростника. Национальной валютой страны является местный доллар. Уровень урбанизации населения – 31,2% (на 2020 г.). Государство является одним из самых благополучных не только в регионе, но и во всём мире. Оно входит в список стран с очень высоким показателем ИЧР (0,813).



**Назовите эту страну. В каких странах мира денежной единицей является американский или местный доллар? Что такое ИЧР? Какие показатели используются при его расчёте?**

3. Заселение острова, на котором расположено государство, индейцами араваками относят к началу первого тысячелетия н.э. Позднее араваков вытеснили карибы. Первыми из европейцев остров, вероятно, открыли испанцы в начале XVI в. Название острова (от испанского слова «бородатый») по одной из версий связано с внешним видом распространённых на острове фикусов. Испанцы не пытались колонизировать остров, потому освоение его начали англичане в 1627 г. На территории стра-



ны англичане начали выращивать табак, но поскольку он не давал больших доходов, с середины XVII в. его заменил сахарный тростник, и остров превратился в один из основных центров производства сахара и рома. Ром по праву стал одним из национальных символов страны. С 1958 по 1962 гг. государство было одним из десяти членов Федерации Вест-Индии, националистически настроенной организации, выступавшей за независимость британских колоний в регионе. Независимость страна получила 30 ноября 1966 г. Жители государства чтят свою историю. Армия страны принимала участие в Первой и Второй мировых войнах, при том, что численность вооружённых сил составляла 610 чел., а сухопутные войска состояли всего из одного полка в 500 человек. Джордж Блэкмэн, рядовой четвёртого батальона британского вест-индского полка, принимавший участие в Первой мировой войне, на родине является национальным героем. Сегодня же символом страны большинство жителей считают певицу Робин Фенти, более известную под своим сценическим псевдонимом Рианна. Она является чрезвычайным и полномочным послом своей страны. Популярность её так высока, что опрос, проведённый в 2018 г., показал, что почти 70% населения готовы видеть певицу либо премьер-министром, либо мэром столичного Бриджтауна.



**Назовите эту страну. Назовите известных путешественников, совершивших свои открытия в Карибском регионе. Назовите основные районы выращивания сахарного тростника в мире.**

### **ГОРОД США**

1. Своё греческое название этот город получил в честь религиозной общины протестантов-квакеров, называвших себя также и «Обществом друзей». Именно поэтому его наиболее известным прозвищем является Квакерттаун. Любовь между братьями-единоверцами – вот что должно означать его название. Город основан в 1683 г. англичанином Уильямом Пенном на полуострове Делмарва как убежище свободлюбивых европейцев на бывших королевских землях. Последние были переданы ему в качестве долга короля Карла II Стюарта перед его отцом, адмиралом У. Пенном-старшим. Переезд квакеров в Америку был связан с гонениями, которыми они подвергались как со стороны англикан, так и католиков. Сразу после переезда на континент пацифист Уильям Пенн способствовал заключению мирного договора между европейцами и местными индейскими племенами ленапе, которые в европейских языках более известны как делавэры. На своих землях он пытался на основе морали, этики и права построить жизнь приглашённой общины. Пенн считал важным ограничение даже своей власти как основателя новой провинции. Из всех преступлений

смертная казнь полагалась только за измену и убийство. Запрещались азартные игры, театр, маскарады, пирушки, петушиные бои и пр. Нельзя было сквернословить и пить хмельные напитки. Воспитание в семье и перевоспитание в тюрьме осуществлялось посредством труда. Можно говорить и о других нормах и правилах. Благодаря созданному У. Пенном порядку, а также плодородным землям и крупному порту, что отражено на современном флаге города, ко времени американской революции 1770-х гг. город был один из самых населённых в английских колониях, став центром крупной торговли, медицины и политики.



**Назовите этот город. Какие иные протестантские движения Вы знаете? Как возникли эти религиозные течения? В каких странах мира протестанты составляют большинство населения?**

2. В XIX в. значение города увеличилось благодаря укрупнению порта и строительству железной дороги. Они сделали город крупнейшим экономическим центром. Здесь осуществлялась национальная чеканка монет, располагался крупнейший судостроительный завод. Город был ведущим центром производства оружия. Так продолжалось вплоть до Великой депрессии. В основе современной экономики города – производство рекламы, IT-технологии и финансово-банковские услуги. Очень развиты здравоохранение и туризм. Последний связан со значением города в истории США. В частности именно здесь жил и умер великий американец Бенджамин Франклин, располагается старейшая жилая улица США Аллея Элфорта. Достопримечательностями также являются старейший в США зоопарк, городской Фэрмаунт парк и ратуша, Морской музей, музей искусств, музей Родена, Массонский храм, центр Уильяма Пенна, Итальянский рынок, первый в стране универсальный магазин Уонамейкерс, Индепенденс-холл, где 4 июля 1776 г. была подписана Декларация о независимости США. Рядом с ним располагается Колокол Свободы – символ независимости США и дом Бетси Росс, сшившей первый флаг США. В целом, город в своём историческом ядре сохранил стиль XIX в. Среди промышленных предприятий выделяются лаборатории и фабрики таких компаний, как GlaxoSmithKline, Johnson & Johnson, Wyeth, AstraZeneca, Siemens Medical Solutions и пр., занимающихся производством лекарств, медицинского оборудования и развитием современных медицинских технологий. Ещё одна крупная статья доходов городского бюджета – нефтепереработка.



**Назовите этот город. Какие направления международной туристской специализации США Вы можете назвать? Назовите причины их популярности? Почему туризм считается одним из важнейших направлений развития современной мировой экономики?**

3. Современный город является крупнейшим городом американского штата Пенсильвания, а также пятым по числу жителей в США (чуть более 1,5 млн чел., в агломерации – более 6 млн чел.). Вместе с Нью-Йорком, Балтимором, Бостоном и Вашингтоном является одним из ядер мегалополиса Босваш. В 1776–1783 (с перерывами), 1790–1800 гг. он был временной столицей США. Сегодня это крупный финансово-экономический, историко-культурный, туристский, транспортный и научный центр. Городской порт, располагающийся в 160 км к северу от Атлантического океана, в месте впадения р. Скулкилл в р. Делавэр, принимает как речные, так и морские суда с большим водоизмещением. Он же одновременно с этим является и военно-морской базой США, в пределах которой располагается центр снабжения морской пехоты, резервные боевые корабли ВМС, подразделения береговой охраны. В городе находится дом-музей Эдгара Аллана По, американского писателя, который жил здесь в 1838–844 гг. В 1842 г. здесь он написал свой первый детектив, литературный жанр, который в будущем прославил американскую литературу. Неоднократно город описан и в художественной литературе. В частности, именно в нём происходит действие знаменитого романа Теодора Драйзера «Финансист», по сюжету которого предприниматель Фрэнк Капервуд начинает свою коммерческую деятельность операциями с акциями, развитием конно-железных дорог города. Также город является местом событий культовых фильмов «Рокки» с Сильвестром Сталлоне в главной роли, рассказывающих о превращениях судьбы боксёра-профессионала Рокки Бальбоа.



**Назовите этот город. Назовите 15 крупнейших морских портов мира по грузообороту и страны, в которых они располагаются? В чем заключается значимость мирового морского транспорта?**