

Российский государственный гидрометеорологический университет
Олимпиада школьников по географии «Земля – наш общий дом»

Вариант №007-2012

Инструкция по выполнению

Время выполнения работы составляет 100 минут. Вариант состоит из 25 заданий. Некоторые задания содержат ответы, из которых только один правильный. В других заданиях требуется дать развёрнутый ответ. Все ответы на задания записываются в соответствующем разделе. Если не хватает места для развёрнутого ответа или время, отведённое на выполнение истекло, сделайте ссылку на черновик.

Желаем творческих успехов и удачи!

Шифр _____


(образец титульного листа одного из вариантов заданий)

Далее размещались задания в виде таблицы:
слева указывалось задание, справа – место для развёрнутого ответа.


В каждом варианте задание №1 содержало определение климатического пояса с указанием характеристик для городов, указанных организатором олимпиады в аудитории

**Банк заданий заключительного тура Олимпиады школьников,
включённые в варианты 007, 008, 009, 010 (9-11 классы)**

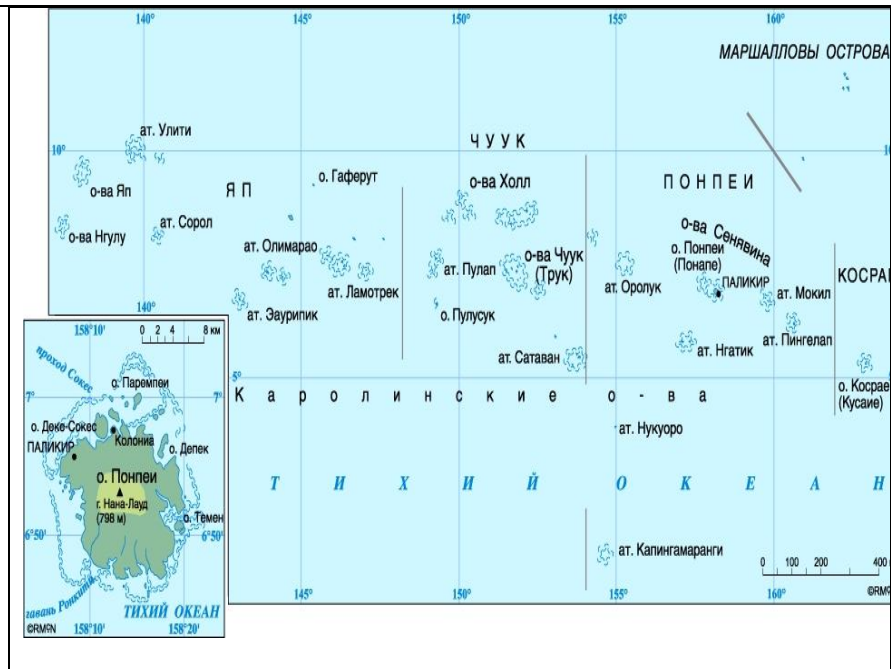
№№	Задание	Ответ	
1	По заданию организатора запишите название города, укажите климатический пояс, в котором он находится и следующие климатические характеристики (см. таблицу).	1	Город • _____
		2	Климатический пояс
		3	Средняя температура января _____ °С июля _____ °С
		4	Годовое количество осадков _____ мм
		5	Сезонность осадков
		6	Другие особенности климата
2	В 1507 г. Вальдземюлер – математик и географ опубликовал записки одного из путешественников, участника португальских экспедиций в новые земли в 1501-1504 гг., высказавшего мнение, что эти земли представляют собой новую четвертую часть света. Он предложил назвать их его именем. Укажите имя путешественника и название земель.	№№	Название
		1	Имя путешественника
		2	Часть света
3	В этом городе именем известного музыканты названы кафе, бары, отели, улицы, шоколад и даже духи. Назовите название страны и города, где так почитают имя известного музыканта.	Страна	_____
		Город	_____
		Музыкант	_____
4	Весьма преуспевший вице-адмирал, известный мореплаватель 19 века, совершил полное кругосветное путешествие на корабле с молодым натуралистом, ставшим впоследствии	1	Вице-адмирал

	<p>весьма известным ученым. Известно, что вице-адмирал вошёл в историю развития синоптики, как человек, впервые использовавший синоптические карты для предсказания штормов. Как звали указанных лиц? Укажите название корабля?</p>	<table border="1"> <tr> <td data-bbox="1139 64 1218 100">2</td> <td data-bbox="1218 64 1543 100">Молодой натуралист</td> <td data-bbox="1543 64 2063 100">Чарльз Дарвин</td> </tr> <tr> <td data-bbox="1139 100 1218 137">3</td> <td data-bbox="1218 100 1543 137">Название корабля</td> <td data-bbox="1543 100 2063 137">Бигль или Гончая</td> </tr> </table>	2	Молодой натуралист	Чарльз Дарвин	3	Название корабля	Бигль или Гончая		
2	Молодой натуралист	Чарльз Дарвин								
3	Название корабля	Бигль или Гончая								
5	<p>Где находится Южный магнитный полюс? а. В Северном полушарии на расстоянии от Северного географического полюса; б. В Северном полушарии. Совпадает с Северным географическим полюсом; в. В Южном полушарии. Совпадает с Южным географическим полюсом; г. В Южном полушарии на расстоянии от Южного географического полюса</p>	<p>а) В Северном полушарии на расстоянии от Северного географического полюса, а точнее в районе Канадского архипелага.</p>								
6	<p>Известно, что существуют разные формы государственного устройства: абсолютная монархия, республика, федерация, конституционная монархия и др. Объедините в группы государства с одинаковым государственным управлением. Список государств: Ватикан, Швейцария, Япония, Канада, Таиланд, Кувейт, Мексика, Гаити, Гватемала, Непал. (4 балла)</p>	<table border="1"> <tr> <td data-bbox="1139 583 1601 619">Республики</td> <td data-bbox="1601 583 2063 619"></td> </tr> <tr> <td data-bbox="1139 619 1601 655">Федерации</td> <td data-bbox="1601 619 2063 655"></td> </tr> <tr> <td data-bbox="1139 655 1601 692">Абсолютная монархия</td> <td data-bbox="1601 655 2063 692"></td> </tr> <tr> <td data-bbox="1139 692 1601 728">Конституционные монархии</td> <td data-bbox="1601 692 2063 728"></td> </tr> </table>	Республики		Федерации		Абсолютная монархия		Конституционные монархии	
Республики										
Федерации										
Абсолютная монархия										
Конституционные монархии										
7	<p>Известно, что этот вулкан действующий, подводный и самый высокий. Общая высота вулкана относительно океанического ложа 9170 м, а над уровнем моря он возвышается на 4169 м. Где расположен и как называется упомянутый вулкан?</p>									
8	<p>Изображённый на снимке двувёршинный стратовулкан, последнее извержение которого датируется 50 г.н.э., имеет очень много названий. Например, Айтибарес (высокая Гора), Асхартау (снежная гора асов), Ялбуз (грива снега), Джин-падишах (царь горных духов) и др. Укажите современное,</p>									

	<p>общеизвестное название указанного вулкана, его высоту и основное отличие от других.</p>		
9	<p>Как Вы думаете, сколько сельских населенных пунктов без населения было выявлено в России по итогам переписи 2010 года? Какой субъект России является самым малочисленным?</p>		
10	<p>Какая максимальная абсолютная отметка территории республики Мальдивы? а. менее 5 м; б. от 5 до 10 м; в. от 10 до 100 м; г. выше 1500 м;</p>		
11	<p>Какие из перечисленных стран относятся к экспортерам нефти? Россия, Саудовская Аравия, Израиль, Бахрейн.</p>		
12	<p>Какие мореплаватели открыли новый южный материк - один географически, другой для европейской колонизации (с разницей почти в 100 лет), укажите название материка.</p>		
13	<p>Какой из перечисленных действующих вулканов имеет самый низкий? Ответы. а. Везувий; б. Этна; в. Мауна-Лоа (о.Гавайи); г. Ключевская Сопка;</p>		
14	<p>Местные жители называют это озеро «Свинцовая стена», а ещё именуют Чукивиту. Укажите общеизвестное название и местоположение озера, его основные характеристики (глубина, длина, площадь) и главные отличия его от других озёр на Земле.</p>		
15	<p>Назовите столицу государства – княжества Лихтенштейн.</p>		
16	<p>Одна из нижеприведённых стран лежит в двух частях света? Россия, Иран, Эквадор, США.</p>		

17	<p>Определите логику в соседско-географическом положении указанных стран, укажите недостающие государства, а также названия их столиц</p> <p>А) Германия – ... – Россия Б) Россия – ... – Узбекистан В) Франция – ... – Португалия Г) Парагвай – ... – Чили Д) Канада – ... – Россия)</p>																
18	<p>Перечислите моря, через которые проходит Северный морской путь (моря расположить в последовательности с запада на восток).</p>																
19	<p>Самый старый из уцелевших глобусов датируется 1492 годом. Какой из материков отсутствует на нём?</p>																
20	<p>Так выглядит из космоса один из водоёмов, который известен тем, что на него приходится 95,2 % из 96% вод, сосредоточенных в восьми крупнейших озёрах мира. Укажите название водоёма и примерный объём запасов воды в нём.</p>																
21	<p>Укажите океан и материк, которые пересекают все меридианы?</p>	<table border="1"> <tr> <td data-bbox="1296 935 1351 976">1</td> <td data-bbox="1351 935 1517 976">Океан</td> <td data-bbox="1517 935 1915 976"></td> </tr> <tr> <td data-bbox="1296 976 1351 1017">2</td> <td data-bbox="1351 976 1517 1017">Материк</td> <td data-bbox="1517 976 1915 1017"></td> </tr> </table>	1	Океан		2	Материк										
1	Океан																
2	Материк																
22	<p>Укажите материк, на котором находится наибольший перепад высот рельефа на Земле, где разница высоты гор, расположенных на материке, и глубины прилегающего к материка желоба составляет _____ метров.</p>	<table border="1"> <thead> <tr> <th data-bbox="1141 1050 1251 1083">№№</th> <th colspan="2" data-bbox="1251 1050 2026 1083">Название и характеристики</th> </tr> </thead> <tbody> <tr> <td data-bbox="1141 1083 1251 1125">1</td> <td data-bbox="1251 1083 1517 1125">Материк</td> <td data-bbox="1517 1083 2026 1125"></td> </tr> <tr> <td data-bbox="1141 1125 1251 1199">2</td> <td data-bbox="1251 1125 1517 1199">Горы</td> <td data-bbox="1517 1125 2026 1199"></td> </tr> <tr> <td data-bbox="1141 1199 1251 1273">3</td> <td data-bbox="1251 1199 1517 1273">Жёлоб</td> <td data-bbox="1517 1199 2026 1273"></td> </tr> <tr> <td data-bbox="1141 1273 1251 1314">4</td> <td data-bbox="1251 1273 1517 1314">Перепад высот</td> <td data-bbox="1517 1273 2026 1314"></td> </tr> </tbody> </table>	№№	Название и характеристики		1	Материк		2	Горы		3	Жёлоб		4	Перепад высот	
№№	Название и характеристики																
1	Материк																
2	Горы																
3	Жёлоб																
4	Перепад высот																
23	<p>Фернан Магеллан в одном кругосветном путешествии сделал 4 великих открытия, два из них приведены ниже. Дополните указанные открытия Магеллана и почему они получили такие названия?</p> <p>1. «Великое Южное море» (назвали Тихим океаном потому,</p>																

	<p>что осенью океан обычно спокоен, бури бывают редко).</p> <p>2. Мыс Огненная Земля (Огни костров принял за извержение вулкана).</p>	
24	<p>Это островное государство состоит из 118 <u>островов</u> и <u>атоллов</u>, расположенных в <u>Тихом океане</u>, 67 из них заселены. Общая площадь суши — около 4000 (без площади водной поверхности). Численность населения на 2009 год составляла 287000 человек . Многие острова носят вторые, русские, названия: Рюрика, Лазарева, Крузенштерна, Раевского и другие. Так, острова Туамоту имеют второе название — острова Россиян. Эти острова были открыты и описаны российскими мореплавателями — Ф. Ф. Беллинсгаузеном, М. П. Лазаревым, О. Е. Коцебу. Как называется указанное государство, его статус.</p>	
25	<p>В 1497 году из столицы Португалии отправилась экспедиция под предводительством Васко да Гама, которая продолжила путь Б. Диаша вокруг известного материка, и достигла цели. Укажите название материка и цель экспедиции?</p>	
26	<p>В 1526 мореплаватель ди Менезиги открыл о-ва Яп и положил начало изучения европейцами указанных на карте островов, население которых в 1978 году высказалось за создание единого государства. Как называется это островное государство и сколько островов насчитывает?</p>	



27

В Европе выделяются следующие языковые группы: славянская, германская, романская, финско-угорская, тюркская. Укажите, какие национальности представляют указанные языковые группы?

28

В Европе насчитывается свыше 47 стран, из которых 27 объединяет Европейский Союз. Какие из обозначенных на карте стран Европы не входят в Евросоюз.

		
29	<p>В России проживают более 160 национальностей, среди которых (согласно переписи населения 2010 года) русские, украинцы, татары, чуваша, башкиры и чеченцы в сумме составляют 89,2 %. Укажите распределение между указанными национальностями этого интегрального показателя в убывающей последовательности.</p>	
30	<p>В труднодоступных джунглях индонезийской провинции Ириан Джая, на западе острова Новая Гвинея, в округе Мараука в 90-е годы прошлого века было открыто неизвестное племя, живущее, подобно обезьянам, на деревьях. В племени насчитывается более тысячи человек. Укажите название этого племени. Что вы знаете об этом племени?</p>	
31	<p>Во Франции есть известная автомобильная фирма «Рено», выпускающая пользующийся спросом в России автомобиль «Логан». В какой стране располагается одноимённая гора и какова её высота?</p>	


32	<p>Государство является одним из самых молодых государств мира. Оно образовано 9 июля 2011 года. Население страны составляет по разным данным от 7,5 до 13 млн. человек, около 60% из которых исповедуют христианство. Официальным языком страны является английский. Однако большинство жителей говорят на разных местных языках и наречиях, крупнейшим их которых является язык динка. Это государство не имеет выхода к морю, а столица называется Джуба. Укажите, где располагается и как называется указанная страна, с какими государствами имеет границы?</p>	
33	<p>Единственное государство в мире, расположенное сразу во всех полушариях (северном, южном, западном и восточном), не имеющее армии. При общей площади 726,34 кв.км (менее 20 % площади Москвы) имеет протяжённость с запада на восток около 4000 км (для сравнения: протяжённость России около 10 000 км и площадь 17 000 кв. км). Укажите как называется это государство, его столицу и где оно находится?</p>	
34	<p>Известно, что лидерами по запасам пресных вод являются: Бразилия, Бангладеш, Венесуэла, Индия, Индонезия, Канада, Китай, Мьянма, Россия, США.</p> <p>Укажите четыре из перечисленных выше стран, которые лидируют по запасам пресной воды на душу населения (расположите их в порядке уменьшения)</p>	
35	<p>Известно, что существуют разные формы государственного устройства: абсолютная монархия, республика, федерация, конституционная монархия и др. Объедините в группы государства с одинаковым государственным управлением.</p> <p>Список государств: Германия, Объединённые Арабские Эмираты, Иордания, Бутан, Норвегия., Мьянма, Кипр, Финляндия, Панама, Саудовская Аравия.</p>	
36	<p>К заочно открытым русскими учеными землям относится и известный по географической карте остров. Еще в 1787 г. мореплаватель Г. А. Сарычев на основании наблюдений за движением льдов в районе пролива Лонга высказал мнение о существовании здесь земли. "Официальное" же открытие острова и именно там, где предполагали, состоялось только в 1867 г. Ему было присвоено имя выдающегося географа и мореплывателя, одного из основателей Российского</p>	

	Географического общества. Укажите название острова.																
37	<p>Найдите правильное расположение стран Европы по возрастанию территории:</p> <ol style="list-style-type: none"> 1. Германия 2. Испания 3. Норвегия 4. Россия 5. Франция 6. Швеция 																
38	<p>Народы России говорят более чем на 100 языках. Наиболее распространены следующие языковые группы:</p> <ol style="list-style-type: none"> 1. Индоевропейская 2. Алтайская 3. Уральская 4. Махско-дагестанская 5. Абхазо-адыгейская <p>Найдите соответствие названным языковым группам следующих языков, распространённых в России: Украинский, чувашский, белорусский, даргинский, осетинский, эрзянский, аварский, кабардино-черкесский.</p>																
39	<p>По данным Росреестра на 1 января 2010 года в России 1 528 312 км² территории занято болотами. Больше всего болот в Красноярском крае, Ханты-Мансийском АО, Якутии) и Ямало-Ненецком АО. В России учтено и частично разведано 65 868 торфяных месторождений общей площадью 805 тысяч км² и запасами 235 млрд т торфа, что составляет _____ % мировых запасов.</p>																
40	<p>Сколько городов-миллионников насчитывается на сегодняшний день в России? Укажите их название и численность населения.</p>																
41	<p>Сопоставьте названия городов и численность проживающего в них населения. Запишите их в порядке уменьшения численности населения.</p> <table border="1" style="width: 100%; border-collapse: collapse;"> <tr> <td style="width: 50%; text-align: center;">1. Воронеж</td> <td style="width: 50%; text-align: center;">719 500</td> </tr> <tr> <td style="text-align: center;">2. Ижевск</td> <td style="text-align: center;">744 900</td> </tr> </table>	1. Воронеж	719 500	2. Ижевск	744 900	<table border="1" style="width: 100%; border-collapse: collapse;"> <tr><td style="width: 50%; height: 20px;"></td><td style="width: 50%;"></td></tr> <tr><td style="height: 20px;"></td><td></td></tr> <tr><td style="height: 20px;"></td><td></td></tr> <tr><td style="height: 20px;"></td><td></td></tr> <tr><td style="height: 20px;"></td><td></td></tr> </table>											
1. Воронеж	719 500																
2. Ижевск	744 900																


	3. Краснодар		837 800			
	4. Красноярск		991 500			
	5. Пермь		890 000			
	6. Саратов		613 800			
	7. Тольятти		973 900			
	8. Ульяновск		628 100			
42	Укажите известный тихоокеанский архипелаг, который открывался трижды: первым это сделал еще голландец Я. Роггевен в 1722 г., а потом их поочередно "переоткрывали" в 1768 г. Л. Бугенвиль, а в 1787 г. другой французский мореплаватель Лаперуз.					
43	Укажите места проявления следующих природных явлений.			Природные явления		Места проявления
				1. Сели и лавины		
				2. Землетрясения и вулканизм		
				3. Смерчи		
				4. Цунами		
				5. Наводнения и паводки		
				6. Гололедица		
				7. Обледенение		
				8. Гало		
				9. Мираж		
	Природные явления	Места проявления				
	1. Сели и лавины	А	долины рек			
	2. Землетрясения и вулканизм	Б	безлесные равнины и моря			
	3. Смерчи	В	детали судов, самолётов и т.п.			
	4. Цунами	Г	границы литосферных плит			
	5. Наводнения и паводки	Д	морские побережья			
	6. Гололедица	Е	в атмосфере			
	7. Обледенение	Ж	на поверхности земли			
	8. Гало	З	склоны гор			
	9. Мираж	И	перистые облака			
44	Укажите название и протяжённость страны, которую называют самой «длинной» страной Западной Европы.					
45	Укажите название науки и имя ученого, заложившего основы нового направления - науки о форме Земли.					
46	Шотландское слово "loch" обозначает "озеро". Озера Шотландии — необъятные, глубокие и таинственные места, самым известным из которых является озеро, в глубоких водах которого, возможно, притаился таинственный житель — легендарное чудовище!. Первое упоминание о чудовище с длинной шеей и крошечной головой встречается в XVII в., а по утверждению местных властей, с 1933 г. люди видели его около 4000 раз. Кроме чудовища в районе озера неоднократно наблюдали и НЛЮ. Ежегодно на берегах озера бывает около					

	<p>полумиллиона туристов, мечтающих увидеть чудовище, из них 300 тысяч посещают Музей в деревне Драмнадрочит.</p> <p>Укажите название удивительного озера и его краткую характеристику (длина, глубина, особенности распределения температуры воды в нём).</p>	
47	<p>Это море даже летом забито льдом. К тому же, здесь почти не бывает солнечных дней, и на протяжении всего года небо затянуто низкими серыми тучами. Его часто называют «ледяной мешок». Изучению этого моря была посвящена экспедиция полярного исследователя, ставшего прообразом одного из героев произведения В.А.Каверина «Два капитана» - капитана Ивана Львовича Татаринова. Трагические события, описанные в этой книге, произошли с полярной экспедицией на шхуне «Святая Анна». Как звали полярного исследователя, укажите название моря?</p>	
48	<p>В совокупности эти страны занимают более чем 25% суши, 40% населения планеты и имеют валовый внутренний продукт (ВВП) свыше 15 трлн. \$. В ноябре 2001 года аналитик банка Goldman Sachs Джим О.Нейл предположил, что суммарный размер экономики этой группы стран превысит суммарный размер экономики самых богатых стран мира (большой семёрки).</p> <p>Укажите общее название этой группы стран, а также перечислите страны, входящие в указанное экономическое содружество.</p>	
49	<p>В каком Федеральном округе насчитывается наибольшее число городов-миллионников? Укажите название округа, городов и численность населения.</p>	
50	<p>В чем состоит различие между понятиями «Анклав» и «Экслав». Приведите примеры стран в Евразии, относящихся к этим понятиям</p>	
51	<p>Известно, что названия некоторых государств совпадают с названиями их столиц. Укажите такие страны.</p>	
	<p>Используя судовую журнал шхуны «Святая Анна», известный учёный-полярник установил, что экспедиция Г. Л. Бруилова пересекла Карское море именно в тех широтах, где до этого не</p>	

	<p>проходил ни один корабль. Чтобы исследовать направление и скорость передвижения льдов, ученый прокладывал на карте линию дрейфа судна изо дня в день согласно с обозначенными в журнале координатами широты и долготы. Это позволило ему установить, что льды, которые захватили в плен шхуну и двигались сначала на север между 78 гр.30' и 80 гр. с.ш., почему-то сдвинулись в сторону. Он предположил, что на пути дрейфа шхуны возникло какое-то препятствие, которое, несмотря на попутный ветер, помешало движению льдов. "Там должен быть остров", - решил ученый. Так на карте Карского моря возник остров, открытый не обычным экспедиционным путем, а теоретически, т.е. "вслепую». В 1930 году экспедиция на ледоколе «Георгий Седов» подтвердила существование этого острова. Укажите имя учёного, сделавшего открытие в тиши кабинета, а также название открытого им острова.</p>	
52	<p>Какая максимальная абсолютная отметка территории республики Мальдивы? а. менее 5 м; б. от 5 до 1 0 м; в. от 10 до 100 м; г. выше 1500 м;</p>	
53	<p>Какие из перечисленных стран не относятся к экспортерам нефти? Россия, Венгрия, Саудовская Аравия, Израиль, Бахрейн.</p>	
54	<p>Какие мореплаватели открыли новый южный материк - один географически, другой для европейской колонизации (с разницей почти в 100 лет), укажите название материка.</p>	
55	<p>Какой из перечисленных действующих вулканов самый высокий? Ответы. а. Везувий; б. Этна; в. Мауна-Лоа (о.Гавайи); г. Ключевская Сопка;</p>	
56	<p>На снимке с ИСЗ в центре размещаются два острова, между которыми проходит граница между двумя странами. Острова были открыты российскими мореплавателями дважды: в 1728 году – экспедицией В. Беринга, и в 1811 году – экспедицией О. Коцебу. Поэтому имеют двойные названия. Имеются и другие особенности</p>	

	<p>этих островов. Укажите названия двух стран и названия островов, изображённых на снимке. О каких интересных особенностях островов идёт речь?</p> 				
57	<p>Назовите столицу государства – княжества Лихтенштейн.</p>				
58	<p>Народы России говорят более чем на 100 языках. Наиболее распространены следующие языковые группы:</p> <ol style="list-style-type: none"> 1. Индоевропейская 2. Алтайская 3. Уральская 4. Махско-дагестанская 5. Абхазо-адыгейская <p>Найдите соответствие названным языковым группам следующих языков, распространённых в России: Кабардино-черкесский, русский, немецкий, марийский, чеченский, армянский, башкирский, татарский</p>				
59	<p>Определите взаимосвязь природных явлений, происходящих в литосфере, гидросфере и атмосфере:</p> <p>гало, гейзеры, гололёд, заморозки, засухи, землетрясения, извержение вулканов, лавины, ливни, миражи, наводнения, обвалы, обледенение, оползни, паводки, полярное сияние, пыльные(песчаные) бури, разливы рек, сели, смерчи, снегопады, ураганы, цунами,</p>		атмосфера	гидросфера	литосфера
60	<p>Перечислите моря, омывающие Россию.</p>				
61	<p>Путешествие тверского купца, совершённое в 1466-1472 г.г., называют «хождением за три моря»? Как звали отважного русского путешественника, куда совершалось путешествие и о</p>				

66	<p>В России 2 747 997 озёр общей площадью 408 856 км² (без учёта Каспийского моря). Крупнейшими являются: А) По площади - Таймыр, Байкал, Онежское, Ладожское; Б) По объёму воды – Онежское, Хантайское, Ладожское, Байкал. Разместите водоёмы в порядке уменьшения по площади (А) и по объёму запасов воды (Б).</p>		А. по площади	Б. по объёму																																																			
		1																																																					
		2																																																					
		3																																																					
		4																																																					
67	<p>В Сибири находится самое крупное на планете скопление медных руд (Удоканский меднорудный район). Почему там не ведется добыча, а медный концентрат Россия закупает за рубежом?</p>																																																						
68	<p>В списке представлен ряд географических понятий: степь, вади, тайга, гилен, тундра, долина, мангры. Объедините их по общим признакам.</p>																																																						
69	<p>В таблице приведены названия островов, государств и столиц. Укажите принадлежность перечисленных островов указанным государствам, а также определите соответствие между государствами и столицами.</p> <table border="1" data-bbox="254 916 1094 1222"> <thead> <tr> <th></th> <th>Острова</th> <th></th> <th>Страны</th> <th></th> <th>Столицы</th> </tr> </thead> <tbody> <tr> <td>1</td> <td>Канарские</td> <td>З</td> <td>Нов. Зеландия</td> <td>з</td> <td>Мадрид</td> </tr> <tr> <td>2</td> <td>Азорские</td> <td>И</td> <td>Португалия</td> <td>и</td> <td>Москва</td> </tr> <tr> <td>3</td> <td>Бермудские</td> <td>К</td> <td>Россия</td> <td>к</td> <td>Оттава</td> </tr> <tr> <td>4</td> <td>Нов. Каледония</td> <td>Л</td> <td>США</td> <td>л</td> <td>Париж</td> </tr> <tr> <td>5</td> <td>Ньюфаундленд</td> <td>М</td> <td>Франция</td> <td>м</td> <td>Пекин</td> </tr> <tr> <td>6</td> <td>Тасмания</td> <td>Н</td> <td>Эквадор</td> <td>н</td> <td>Сана</td> </tr> <tr> <td>7</td> <td>Хайнань</td> <td>О</td> <td>Япония</td> <td>о</td> <td>Токио</td> </tr> </tbody> </table>		Острова		Страны		Столицы	1	Канарские	З	Нов. Зеландия	з	Мадрид	2	Азорские	И	Португалия	и	Москва	3	Бермудские	К	Россия	к	Оттава	4	Нов. Каледония	Л	США	л	Париж	5	Ньюфаундленд	М	Франция	м	Пекин	6	Тасмания	Н	Эквадор	н	Сана	7	Хайнань	О	Япония	о	Токио		Острова		Страны		Столицы
			Острова		Страны		Столицы																																																
		1	Канарские	З	Нов. Зеландия	з	Мадрид																																																
		2	Азорские	И	Португалия	и	Москва																																																
		3	Бермудские	К	Россия	к	Оттава																																																
		4	Нов. Каледония	Л	США	л	Париж																																																
		5	Ньюфаундленд	М	Франция	м	Пекин																																																
		6	Тасмания	Н	Эквадор	н	Сана																																																
7	Хайнань	О	Япония	о	Токио																																																		
1		Г		з																																																			
2		И		е																																																			
3		Б		ж																																																			
4		М		м																																																			
5		Е		к																																																			
6		А		в																																																			
7		Ж		м																																																			

70	<p>В юго-западной части указанного на карте плато находится малоизученное пресноводное озеро, в которое впадает 33 речки. Озеро богато рыбой, постоянных населённых пунктов на берегах озера нет. Однако вскоре после распада СССР озеро получило известность: главная примечательность озера — его юго-восточный берег. Как называется озеро и почему так примечателен его юго-восточный берег?</p>		
71	<p>Единственное государство в мире, расположенное сразу во всех полушариях (северном, южном, западном и восточном), не имеющее армии. При общей площади 726,34 кв.км (менее 20 % площади Москвы) имеет протяжённость с запада на восток около 4000 км (для сравнения: протяжённость России около 10 000 км и площадь 17 000 кв. км). Укажите как называется это государство, его столицу и где оно находится?</p>		
72	<p>Известно, что в России среди городского населения на 1000 мужчин приходится около 1800 женщин. А в каких регионах России численность мужчин превышает численность женщин? Сколько мужчин проживает в этом регионе?</p>		
73	<p>Известно, что география - это целая система или комплекс общественных и естественных наук, которые изучают производственные и природные территориальные комплексы, а также их компоненты. Объединение в пределах одной системы наук во многом определяется очень тесной взаимосвязью между объектами, изучаемыми ими и общностью научной задачи. Перечислите науки, являющиеся составной частью географии.</p>		

74	Какие каналы сделали Москву портом пяти морей?																									
75	Куда впадает река Лимпопо? а. Мозамбикский пролив; б. Аденский залив; в. Персидский залив; г. Гвинейский залив;																									
76	Лидерами по запасам пресных вод являются: Бразилия, Бангладеш, Венесуэла, Индия, Индонезия, Канада, Китай, Мьянма, Россия, США. В совокупности они обладают 60% мировых запасов. Укажите четыре из перечисленных выше стран, которые лидируют по запасам пресной воды (расположите их в порядке уменьшения)	<table border="1"> <tr><td>1</td><td></td></tr> <tr><td>2</td><td></td></tr> <tr><td>3</td><td></td></tr> <tr><td>4</td><td></td></tr> </table>	1		2		3		4																	
1																										
2																										
3																										
4																										
77	На каких континентах находятся следующие страны: Албания, Ангола, Бурунди, Бутан, Венесуэла, Габон, Гаити, Гватемала, Гвиана, Канада, Мексика, Монголия, Намибия, Нигер, Перу, Россия, Сальвадор, Суринам, Турция, Чили.	<table border="1"> <tr> <td>Северная Америка</td> <td>Южная Америка</td> <td>Евразия</td> <td>Африка</td> </tr> <tr><td></td><td></td><td></td><td></td></tr> <tr><td></td><td></td><td></td><td></td></tr> <tr><td></td><td></td><td></td><td></td></tr> <tr><td></td><td></td><td></td><td></td></tr> <tr><td></td><td></td><td></td><td></td></tr> </table>	Северная Америка	Южная Америка	Евразия	Африка																				
Северная Америка	Южная Америка	Евразия	Африка																							
78	Найдите правильное расположение стран Европы по возрастанию территории: 7. Германия																									

	8. Испания 9. Норвегия 10. Россия 11. Франция 12. Швеция	
79	<p>Народы России говорят более чем на 100 языках. Наиболее распространены следующие языковые группы:</p> 6. Индоевропейская 7. Алтайская 8. Уральская 9. Махско-дагестанская 10. Абхазо-адыгейская	
	<p>Найдите соответствие названным языковым группам следующих языков, распространённых в России: Украинский, чувашский, белорусский, даргинский, осетинский, эрзянский, аварский, кабардино-черкесский.</p>	
80	<p>Неподалеку от северных берегов Австралии среди просторов Тихого океана расположен второй по величине после Гренландии остров земного шара. В нашем представлении этот далекий остров неразрывно связан с именем великого русского исследователя Н. Н. Миклухо-Маклая. Действительно, он длительное время (в 1871-72, 1876-77 и 1883 гг.) жил на его северо-восточном побережье, которое ныне называется Берегом Маклая. В силу определённых особенностей его ещё можно назвать настоящим "островом сокровищ». Укажите название этого острова и почему его называют островом сокровищ?</p>	
81	<p>Ниагарский водопад расположен на р. Ниагара длиной 54 км, пограничной рекой между США и Канадой. Островом разделяется на канадскую и американскую части, шириной соответственно 900 м и 300м. Укажите названия озёр, из которого вытекает река, и в какое она впадает, а также остров, разделяющий канадскую и американскую части водопада.</p>	

82	<p>Один из путешественников, побывавший на этом озере, писал: "Айсберги, искрясь в лучах южного солнца, плавали в воде. Ледяные замки и башни, опушенные снегом и горящие на солнце мириадами снежных кристаллов, полупрозрачные гроты на поверхности айсбергов, свисающие сталактиты, играющие всеми цветами радуги, — все это создавало сказочное впечатление...". Где находится озеро и почему оно заполняется айсбергами?</p>			
83	<p>Самолет выполняет полёт на высоте 3000 м. Рассчитайте давление и температуру на уровне моря, если известно, что на высоте полёта температура равна -15°C, а давление составляет 460 мм рт. ст.</p>			
84	<p>Укажите название и протяжённость страны, которую называют самой «длинной» страной Западной Европы.</p>			
85	<p>Укажите название науки и имя ученого, заложившего основы нового направления - науки о форме Земли.</p>			
86	<p>Фернан Магеллан открыл для европейцев архипелаг, состоящий более чем из 7000 островов, где 27.04.1521г. в стычке с местными жителями был убит на небольшом острове Мактан, расположенном в проливе ... между островами</p> <p>Укажите архипелаг, названия пролива и островов.</p>	№№	Название	
		1	Архипелаг	
		2	Пролив	
		3	Острова	
87	<p>Форма Земли представляет из себя геоид. На Земле располагаются два географических объекта: А: Мариинская впадина глубиной около 11 км. Б: Вершина вулкана Эребус (Антарктида) высотой около 4 км. Какой из указанных объектов находится ближе к центру Земли и на сколько?</p>			