

Российский государственный гидрометеорологический университет
Олимпиада школьников по географии «Земля – наш общий дом»

Вариант №007-2012

Инструкция по выполнению

Время выполнения работы составляет 100 минут. Вариант состоит из 25 заданий. Некоторые задания содержат ответы, из которых только один правильный. В других заданиях требуется дать развёрнутый ответ. Все ответы на задания записываются в соответствующем разделе. Если не хватает места для развёрнутого ответа или время, отведённое на выполнение истекло, сделайте ссылку на черновик.

Желаем творческих успехов и удачи!

Шифр _____


(образец титульного листа одного из вариантов заданий)

Далее размещались задания в виде таблицы:
слева указывалось задание, справа – место для развёрнутого ответа.


В каждом варианте задание №1 содержало определение климатического пояса с указанием характеристик для городов, указанных организатором олимпиады в аудитории

**Банк заданий заключительного тура Олимпиады школьников,
включённые в варианты 007, 008, 009, 010 (9-11 классы)**

№№	Задание	Ответ	
1	По заданию организатора запишите название города, укажите климатический пояс, в котором он находится и следующие климатические характеристики (см. таблицу).	1	Город • _____
		2	Климатический пояс
		3	Средняя температура января _____ °С июля _____ °С
		4	Годовое количество осадков мм
		5	Сезонность осадков
		6	Другие особенности климата
2	В 1507 г. Вальдземюлер – математик и географ опубликовал записки одного из путешественников, участника португальских экспедиций в новые земли в 1501-1504 гг., высказавшего мнение, что эти земли представляют собой новую четвертую часть света. Он предложил назвать их его именем. Укажите имя путешественника и название земель.	№№	Название
		1	Имя путешественника Америго Веспуччи
		2	Часть света Америка
3	В этом городе именем известного музыканты названы кафе, бары, отели, улицы, шоколад и даже духи. Назовите название страны и города, где так почитают имя известного музыканта.	Страна	Австрия
		Город	Зальцбург
		Музыкант	Мацарт
4	Весьма преуспевший вице-адмирал, известный мореплаватель 19 века, совершил полное кругосветное путешествие на корабле с молодым натуралистом, ставшим впоследствии	1	Вице-адмирал Фиц Рой

	<p>весьма известным ученым. Известно, что вице-адмирал вошёл в историю развития синоптики, как человек, впервые использовавший синоптические карты для предсказания штормов. Как звали указанных лиц? Укажите название корабля?</p>	<table border="1"> <tr> <td data-bbox="1152 64 1218 100">2</td> <td data-bbox="1218 64 1543 100">Молодой натуралист</td> <td data-bbox="1543 64 2072 100">Чарльз Дарвин</td> </tr> <tr> <td data-bbox="1152 100 1218 137">3</td> <td data-bbox="1218 100 1543 137">Название корабля</td> <td data-bbox="1543 100 2072 137">Бигль или Гончая</td> </tr> </table>	2	Молодой натуралист	Чарльз Дарвин	3	Название корабля	Бигль или Гончая		
2	Молодой натуралист	Чарльз Дарвин								
3	Название корабля	Бигль или Гончая								
5	<p>Где находится Южный магнитный полюс?</p> <p>а. В Северном полушарии на расстоянии от Северного географического полюса;</p> <p>б. В Северном полушарии. Совпадает с Северным географическим полюсом;</p> <p>в. В Южном полушарии. Совпадает с Южным географическим полюсом;</p> <p>г. В Южном полушарии на расстоянии от Южного географического полюса</p>	<p>а) В Северном полушарии на расстоянии от Северного географического полюса, а точнее в районе Канадского архипелага.</p>								
6	<p>Известно, что существуют разные формы государственного устройства: абсолютная монархия, республика, федерация, конституционная монархия и др. Объедините в группы государства с одинаковым государственным управлением. Список государств: Ватикан, Швейцария, Япония, Канада, Таиланд, Кувейт, Мексика, Гаити, Гватемала, Непал. (4 балла)</p>	<table border="1"> <tr> <td data-bbox="1152 583 1603 619">Республики</td> <td data-bbox="1603 583 2072 619">Мексика, Гаити, Гватемала.</td> </tr> <tr> <td data-bbox="1152 619 1603 655">Федерации</td> <td data-bbox="1603 619 2072 655">Швейцария, Канада.</td> </tr> <tr> <td data-bbox="1152 655 1603 692">Абсолютная монархия</td> <td data-bbox="1603 655 2072 692">Ватикан.</td> </tr> <tr> <td data-bbox="1152 692 1603 774">Конституционные монархии</td> <td data-bbox="1603 692 2072 774">Япония, Таиланд, Кувейт, Непал.</td> </tr> </table>	Республики	Мексика, Гаити, Гватемала.	Федерации	Швейцария, Канада.	Абсолютная монархия	Ватикан.	Конституционные монархии	Япония, Таиланд, Кувейт, Непал.
Республики	Мексика, Гаити, Гватемала.									
Федерации	Швейцария, Канада.									
Абсолютная монархия	Ватикан.									
Конституционные монархии	Япония, Таиланд, Кувейт, Непал.									
7	<p>Известно, что этот вулкан действующий, подводный и самый высокий. Общая высота вулкана относительно океанического ложа 9170 м, а над уровнем моря он возвышается на 4169 м. Где расположен и как называется упомянутый вулкан?</p>	<p>о. Гавайи, вулкан Мауна-Лоа.</p>								
8	<p>Изображённый на снимке двувёршинный стратовулкан, последнее извержение которого датируется 50 г.н.э., имеет очень много названий. Например, Айтибарес (высокая Гора), Асхартау (снежная гора асов), Ялбуз (грива снега), Джин-падишах (царь горных духов) и др. Укажите современное,</p>		<p>Эльбрус.</p> <p>Западная вершина имеет высоту 5642 м, Восточная — 5621 м.</p> <p>Является высочайшей вершиной <u>России</u>. Учитывая, что границы части света <u>Европы</u> неоднозначны, нередко Эльбрус называют также высочайшей европейской горной вершиной.</p>							

	<p>общеизвестное название указанного вулкана, его высоту и основное отличие от других.</p>	
9	<p>Как Вы думаете, сколько сельских населенных пунктов без населения было выявлено в России по итогам переписи 2010 года? Какой субъект России является самым малочисленным?</p>	<p>19439 сельских населенных пунктов без населения Ненецкий автономный округ - 42,7 тыс. человек.</p>
10	<p>Какая максимальная абсолютная отметка территории республики Мальдивы? а. менее 5 м; б. от 5 до 10 м; в. от 10 до 100 м; г. выше 1500 м;</p>	<p>Менее 5 м. Точнее 2,4 м.</p>
11	<p>Какие из перечисленных стран относятся к экспортерам нефти? Россия, Саудовская Аравия, Израиль, Бахрейн.</p>	<p>Россия, Саудовская Аравия, Бахрейн.</p>
12	<p>Какие мореплаватели открыли новый южный материк - один географически, другой для европейской колонизации (с разницей почти в 100 лет), укажите название материка.</p>	<p>Австралия. Мореплаватели: голландец Абель Тасман (1644, северо-западный берег) и англичанин Джеймс Кук (1770, восточное побережье).</p>
13	<p>Какой из перечисленных действующих вулканов имеет самый низкий? Ответы. а. Везувий; б. Этна; в. Мауна-Лоа (о.Гавайи); г. Ключевская Сопка;</p>	<p>а) Вулкан Везувий - 1277 м. Мауна-Лоа. Это подводный вулкан. Общая высота относительно океанического ложа 9170 м, возвышается над уровнем моря на 4169 м. Этна – 3340 м (самый высокий вулкан в Европе). Ключевская Сопка - 4750 м.</p>
14	<p>Местные жители называют это озеро «Свинцовая стена», а ещё именуют Чукивиту. Укажите общеизвестное название и местоположение озера, его основные характеристики (глубина, длина, площадь) и главные отличия его от других озёр на Земле.</p>	<p>Озеро: Титикака, Южная Америка, в Андах, на высоте 3812 метров над уровнем моря, максимальная глубина 370 м, длина 203 км, а площадь 8285 кв.км. Отличия: Самое высоко расположенное судоходное озеро мира. Титикака полностью изолировано от всех рек и морей и является одним из самых обширных бессточных высокогорных озер мира.</p>
15	<p>Назовите столицу государства – княжества Лихтенштейн.</p>	<p>г. Вадуц.</p>
16	<p>Одна из нижеприведённых стран лежит в двух частях света? Россия, Иран, Эквадор, США.</p>	<p>Россия.</p>

17	<p>Определите логику в соседско-географическом положении указанных стран, укажите недостающие государства, а также названия их столиц</p> <p>А) Германия – ... – Россия Б) Россия – ... – Узбекистан В) Франция – ... – Португалия Г) Парагвай – ... – Чили Д) Канада – ... – Россия)</p>	<p>А) Польша - Варшава Б) Казахстан - Астана В) Испания - Мадрид Г) Аргентина - Буэнос-Айрес Д) США – Вашингтон</p>																					
18	<p>Перечислите моря, через которые проходит Северный морской путь (моря расположить в последовательности с запада на восток).</p>	<p>Последовательность морей: Баренцево, Карское, море Лаптевых, Восточно-Сибирское, Чукотское, Берингово, Охотское, Японское.</p>																					
19	<p>Самый старый из уцелевших глобусов датируется 1492 годом. Какой из материков отсутствует на нём?</p>	<p>Северная Америка.</p>																					
20	<p>Так выглядит из космоса один из водоёмов, который известен тем, что на него приходится 95,2 % из 96% вод, сосредоточенных в восьми крупнейших озёрах мира. Укажите название водоёма и примерный объём запасов воды в нём.</p>		<p>Байкал, 23516 куб. км</p>																				
21	<p>Укажите океан и материк, которые пересекают все меридианы?</p>	<table border="1"> <tr> <td>1</td> <td>Океан</td> <td>Северный Ледовитый</td> </tr> <tr> <td>2</td> <td>Материк</td> <td>Антарктида</td> </tr> </table>		1	Океан	Северный Ледовитый	2	Материк	Антарктида														
1	Океан	Северный Ледовитый																					
2	Материк	Антарктида																					
22	<p>Укажите материк, на котором находится наибольший перепад высот рельефа на Земле, где разница высоты гор, расположенных на материке, и глубины прилегающего к матерiku желоба составляет _____ метров.</p>	<table border="1"> <thead> <tr> <th>№№</th> <th colspan="3">Название и характеристики</th> </tr> </thead> <tbody> <tr> <td>1</td> <td>Материк</td> <td colspan="2">Южная Америка</td> </tr> <tr> <td>2</td> <td>Горы</td> <td>Анды, гора Аконкагуа</td> <td>Высота 6960 м</td> </tr> <tr> <td>3</td> <td>Жёлоб</td> <td>Чилийский</td> <td>Глубина 8180 м</td> </tr> <tr> <td>4</td> <td>Перепад высот</td> <td colspan="2">15140 м</td> </tr> </tbody> </table>		№№	Название и характеристики			1	Материк	Южная Америка		2	Горы	Анды, гора Аконкагуа	Высота 6960 м	3	Жёлоб	Чилийский	Глубина 8180 м	4	Перепад высот	15140 м	
№№	Название и характеристики																						
1	Материк	Южная Америка																					
2	Горы	Анды, гора Аконкагуа	Высота 6960 м																				
3	Жёлоб	Чилийский	Глубина 8180 м																				
4	Перепад высот	15140 м																					
23	<p>Фернан Магеллан в одном кругосветном путешествии сделал 4 великих открытия, два из них приведены ниже. Дополните указанные открытия Магеллана и почему они получили такие названия? 1. «Великое Южное море» (назвали Тихим океаном потому,</p>	<p>- Магелланов пролив (отделяющий Южную Америку от архипелага Огненная Земля). - Филиппинские острова (в честь испанского короля Филиппа II). 3. _____</p>																					

	<p>что осенью океан обычно спокоен, бури бывают редко).</p> <p>2. Мыс Огненная Земля (Огни костров принял за извержение вулкана).</p>	4. _____
24	<p>Это островное государство состоит из 118 <u>островов</u> и <u>атоллов</u>, расположенных в <u>Тихом океане</u>, 67 из них заселены. Общая площадь суши — около 4000 (без площади водной поверхности). Численность населения на 2009 год составляла 287000 человек. Многие острова носят вторые, русские, названия: Рюрика, Лазарева, Крузенштерна, Раевского и другие. Так, острова Туамоту имеют второе название — острова Россиян. Эти острова были открыты и описаны российскими мореплавателями — Ф. Ф. Беллинсгаузен, М. П. Лазаревым, О. Е. Коцебу. Как называется указанное государство, его статус.</p>	<p>Французская Полинезия - заморское сообщество и составляющая страна Франции, расположенное в центре южной части Тихого океана..Включает архипелаги: острова Общества, острова Туамоту, Маркизские острова, острова Тубуаи, отдельно выделяют острова Гамбье, которые находятся возле Туамоту, фактически являясь обособленной частью Туамоту. Политико-административный центр — город Папеезе на острове Таити (крупнейший остров Французской Полинезии, 1 тыс. км²).</p>
25	<p>В 1497 году из столицы Португалии отправилась экспедиция под предводительством Васко да Гама, которая продолжила путь Б. Диаша вокруг известного материка, и достигла цели. Укажите название материка и цель экспедиции?</p>	<p>Африка, был открыт путь в Индию вокруг Африки.</p>
26	<p>В 1526 мореплаватель ди Менезиги открыл о-ва Яп и положил начало изучения европейцами указанных на карте островов, население которых в 1978 году высказалось за создание единого государства. Как называется это островное государство и сколько островов насчитывает?</p>	<p>Федеративные Штаты Микронезии (ФШМ), государство в северо-западной части Океании между 0 и 14° с.ш. и 136 и 166° в.д. (2500 км с запада на восток), занимает 607 островов Каролинского архипелага (кроме о-вов Палау, или Белау, на западе). Состоит из четырех штатов: Яп, Чуук (бывш. Трук), Понпеи (бывш. Понапе) и Косрае (бывш. Кусае). Общая площадь суши 700,8 кв. км, более половины ее занимает штат Понпеи. Только 40 из 607 островов значительны по своим размерам. Крупнейшие из них - острова с теми же названиями, что и у штатов. Столица - город Паликир на о.Понпеи.</p>

27	<p>В Европе выделяются следующие языковые группы: славянская, германская, романская, финско-угорская, тюркская. Укажите, какие национальности представляют указанные языковые группы?</p>	<ul style="list-style-type: none"> • германская (немцы, англичане, голландцы, шведы, австрийцы и др.) • романская (итальянцы, французы, испанцы и др.) • славянская (русские, поляки, украинцы, чехи, белорусы и др.) • тюркская (татары, башкиры, чувашаи и др.). • финско-угорская (венгры, финны, эстонцы, корелы и др.), <p>1 балл за правильный пример)</p>
28	<p>В Европе насчитывается свыше 47 стран, из которых 27 объединяет Европейский Союз. Какие из обозначенных на карте стран Европы не входят в Евросоюз.</p>	<p>Европейский Союз (Евросоюз, ЕС) — объединение 27 европейских государств, подписавших Договор о Европейском союзе (<i>Маастрихтский договор</i>).</p> <p>Страны, входящие в Евросоюз (в скобках указан год вступления страны в ЕС): Австрия (1995), Бельгия (1957), Болгария (2007), Великобритания (1973), Венгрия (2004), Германия (1957), Греция (1981), Дания (1973), Ирландия (1973), Испания (1986), Италия (1957), Кипр (2004), Латвия (2004), Литва (2004), Люксембург (1957), Мальта (2004), Нидерланды (1957), Польша (2004), Словакия (2004), Словения (2004), Португалия (1986), Румыния (2007), Финляндия (1995), Франция (1957), Чехия (2004), Швеция (1995), Эстония (2004)</p> <p>Официально не входят в Евросоюз: Сербия, Норвегия,</p>

		<p>Босния и Герцеговина, Швейцария, Албания, Россия, Украина, Белоруссия, Молдова, Турция, Исландия, а также не указанные на карте Ватикан, Сан-Марино, Монако, Андорра, Лихтенштейн, Македония, Хорватия, Черногория.</p>
29	<p>В России проживают более 160 национальностей, среди которых (согласно переписи населения 2010 года) русские, украинцы, татары, чувашы, башкиры и чеченцы в сумме составляют 89,2 %. Укажите распределение между указанными национальностями этого интегрального показателя в убывающей последовательности.</p>	<p>Русские-80.9%, татары-3.87, украинцы 1.41, башкиры-1.15, чувашы-1.05 и чеченцы-1.04.</p>
30	<p>В труднодоступных джунглях индонезийской провинции Ириан Джая, на западе острова Новая Гвинея, в округе Мараука в 90-е годы прошлого века было открыто неизвестное племя, живущее, подобно обезьянам, на деревьях. В племени насчитывается более тысячи человек. Укажите название этого племени. Что вы знаете об этом племени?</p>	<p>Короваи. Они строят свои жилища на высоте до 20 м из плотно сплетенных пальмовых листьев и древесной коры, до сих пор используют каменные орудия труда. Живут они большими семьями, у них нет племенных вождей, военачальников или колдунов. Все споры и конфликты они решают сообща. Пропитание добывают охотой на диких кабанов и коз. Занимаются также рыболовством, сбором дикорастущих плодов и корней. С наступлением сумерек все члены семьи собираются в своих жилищах, укрытых в кронах гигантских деревьев, куда забираются при помощи лестниц из гибких лиан, прихватив с собой домашних животных и припасы пищи.</p>
31	<p>Во Франции есть известная автомобильная фирма «Рено», выпускающая пользующийся спросом в России автомобиль «Логан». В какой стране располагается одноимённая гора и какова её высота?</p>	<p>Канада, 5959 м.</p>


32	<p>Государство является одним из самых молодых государств мира. Оно образовано 9 июля 2011 года. Население страны составляет по разным данным от 7,5 до 13 млн. человек, около 60% из которых исповедуют христианство. Официальным языком страны является английский. Однако большинство жителей говорят на разных местных языках и наречиях, крупнейшим их которых является язык динка. Это государство не имеет выхода к морю, а столица называется Джуба. Укажите, где располагается и как называется указанная страна, с какими государствами имеет границы?</p>	<p>Африка. Южный Судан. Граничит с 6 государствами: Эфиопией на востоке, Кенией, Угандой и Демократической Республикой Конго на юге, Центральноафриканской Республикой на западе и Суданом на севере.</p>								
33	<p>Единственное государство в мире, расположенное сразу во всех полушариях (северном, южном, западном и восточном), не имеющее армии. При общей площади 726,34 кв.км (менее 20 % площади Москвы) имеет протяжённость с запада на восток около 4000 км (для сравнения: протяжённость России около 10 000 км и площадь 17 000 кв. км). Укажите как называется это государство, его столицу и где оно находится?</p>	<p>Республика Кирибати. Южная Тарава (Баирики) с населением около 93 000 человек. Океания. Тихий океан.</p>								
34	<p>Известно, что лидерами по запасам пресных вод являются: Бразилия, Бангладеш, Венесуэла, Индия, Индонезия, Канада, Китай, Мьянма, Россия, США. Укажите четыре из перечисленных выше стран, которые лидируют по запасам пресной воды на душу населения (расположите их в порядке уменьшения)</p>	<table border="1" data-bbox="1174 733 1866 885"> <tr> <td>1</td> <td>Канада</td> </tr> <tr> <td>2</td> <td>Венесуэла</td> </tr> <tr> <td>3</td> <td>Бразилия</td> </tr> <tr> <td>4</td> <td>Россия</td> </tr> </table>	1	Канада	2	Венесуэла	3	Бразилия	4	Россия
1	Канада									
2	Венесуэла									
3	Бразилия									
4	Россия									
35	<p>Известно, что существуют разные формы государственного устройства: абсолютная монархия, республика, федерация, конституционная монархия и др. Объедините в группы государства с одинаковым государственным управлением. Список государств: Германия, Объединённые Арабские Эмираты, Иордания, Бутан, Норвегия., Мьянма, Кипр, Финляндия, Панама, Саудовская Аравия.</p>	<p>Республики: Мьянма, Кипр, Финляндия, Панама. Федерации: Германия, Объединённые Арабские Эмираты. Абсолютная монархия: Саудовская Аравия, Оман. Конституционные монархии: Иордания, Норвегия.</p>								
36	<p>К заочно открытым русскими учеными землям относится и известный по географической карте остров. Еще в 1787 г. мореплаватель Г. А. Сарычев на основании наблюдений за движением льдов в районе пролива Лонга высказал мнение о существовании здесь земли. "Официальное" же открытие острова и именно там, где предполагали, состоялось только в 1867 г. Ему было присвоено имя выдающегося географа и мореплывателя, одного из основателей Российского</p>	<p>о.Врангеля, в честь Фердинанда Врангеля.</p>								

	Географического общества. Укажите название острова.											
37	Найдите правильное расположение стран Европы по возрастанию территории: 1. Германия 2. Испания 3. Норвегия 4. Россия 5. Франция 6. Швеция	1-3-6-2-5-4.										
38	Народы России говорят более чем на 100 языках. Наиболее распространены следующие языковые группы: 1. Индоевропейская 2. Алтайская 3. Уральская 4. Махско-дагестанская 5. Абхазо-адыгейская Найдите соответствие названным языковым группам следующих языков, распространённых в России: Украинский, чувашский, белорусский, даргинский, осетинский, эрзянский, аварский, кабардино-черкесский.	1. Индоевропейская: украинский, белорусский, осетинский. 2. Алтайская: чувашский. 3. Уральская: эрзянский. 4. Махско-дагестанская: аварский, даргинский. 5. Абхазо-адыгейская: кабардино-черкесский.										
39	По данным Росреестра на 1 января 2010 года в России 1 528 312 км ² территории занято болотами. Больше всего болот в Красноярском крае, Ханты-Мансийском АО, Якутии) и Ямало-Ненецком АО. В России учтено и частично разведано 65 868 торфяных месторождений общей площадью 805 тысяч км ² и запасами 235 млрд т торфа, что составляет _____ % мировых запасов.	47 % мировых запасов.										
40	Сколько городов-миллионников насчитывается на сегодняшний день в России? Укажите их название и численность населения.	Двенадцать: Москва 11 514 300, Санкт-Петербург 4 848 700, Новосибирск 1 473 700, Екатеринбург 1 350 100, Нижний Новгород 1 250 600, Самара 1 164 900, Омск 1 154 000, Казань 1 143 600, Челябинск 1 130 300, Ростов-на-Дону 1 062 300, Уфа 1 062 300, Волгоград 1 021 200.										
41	Сопоставьте названия городов и численность проживающего в них населения. Запишите их в порядке уменьшения численности населения.	<table border="1"> <tr> <td>Пермь</td> <td>991 500</td> </tr> <tr> <td>Красноярск</td> <td>973 900</td> </tr> <tr> <td>Воронеж</td> <td>890 000</td> </tr> <tr> <td>Саратов</td> <td>837 800</td> </tr> <tr> <td>Краснодар</td> <td>744 900</td> </tr> </table>	Пермь	991 500	Красноярск	973 900	Воронеж	890 000	Саратов	837 800	Краснодар	744 900
Пермь	991 500											
Красноярск	973 900											
Воронеж	890 000											
Саратов	837 800											
Краснодар	744 900											
	<table border="1"> <tr> <td>1. Воронеж</td> <td>719 500</td> </tr> <tr> <td>2. Ижевск</td> <td>744 900</td> </tr> </table>	1. Воронеж	719 500	2. Ижевск	744 900							
1. Воронеж	719 500											
2. Ижевск	744 900											

	<table border="1"> <tr><td>3. Краснодар</td><td>837 800</td></tr> <tr><td>4. Красноярск</td><td>991 500</td></tr> <tr><td>5. Пермь</td><td>890 000</td></tr> <tr><td>6. Саратов</td><td>613 800</td></tr> <tr><td>7. Тольятти</td><td>973 900</td></tr> <tr><td>8. Ульяновск</td><td>628 100</td></tr> </table>	3. Краснодар	837 800	4. Красноярск	991 500	5. Пермь	890 000	6. Саратов	613 800	7. Тольятти	973 900	8. Ульяновск	628 100	<table border="1"> <tr><td>Тольятти</td><td>719 500</td></tr> <tr><td>Ижевск</td><td>628 100</td></tr> <tr><td>Ульяновск</td><td>613 800</td></tr> </table>	Тольятти	719 500	Ижевск	628 100	Ульяновск	613 800	5-Пермь, 4-Красноярск, 1-Воронеж, 6-Саратов, 3-Краснодар, 7-Тольятти, 1-Ижевск, 8-Ульяновск.																																
3. Краснодар	837 800																																																				
4. Красноярск	991 500																																																				
5. Пермь	890 000																																																				
6. Саратов	613 800																																																				
7. Тольятти	973 900																																																				
8. Ульяновск	628 100																																																				
Тольятти	719 500																																																				
Ижевск	628 100																																																				
Ульяновск	613 800																																																				
42	Укажите известный тихоокеанский архипелаг, который открывался трижды: первым это сделал еще голландец Я. Роггевен в 1722 г., а потом их поочередно "переоткрывали" в 1768 г. Л. Бугенвиль, а в 1787 г. другой французский мореплаватель Лаперуз.	о. Самоа.																																																			
43	Укажите места проявления следующих природных явлений.	<table border="1"> <thead> <tr> <th colspan="2">Природные явления</th> <th colspan="2">Места проявления</th> </tr> </thead> <tbody> <tr> <td>1. Сели и лавины</td> <td>А</td> <td>долины рек</td> <td>З</td> <td>склоны гор</td> </tr> <tr> <td>2. Землетрясения и вулканизм</td> <td>Б</td> <td>безлесные равнины и моря</td> <td>Г</td> <td>границы литосферных плит</td> </tr> <tr> <td>3. Смерчи</td> <td>В</td> <td>детали судов, самолётов и т.п.</td> <td>Б</td> <td>безлесные равнины и моря</td> </tr> <tr> <td>4. Цунами</td> <td>Г</td> <td>границы литосферных плит</td> <td>Д</td> <td>морские побережья</td> </tr> <tr> <td>5. Наводнения и паводки</td> <td>Д</td> <td>морские побережья</td> <td>А</td> <td>долины рек</td> </tr> <tr> <td>6. Гололедица</td> <td>Е</td> <td>в атмосфере</td> <td>Ж</td> <td>на поверхности земли</td> </tr> <tr> <td>7. Обледенение</td> <td>Ж</td> <td>на поверхности земли</td> <td>В</td> <td>детали судов, самолётов и т.п.</td> </tr> <tr> <td>8. Гало</td> <td>З</td> <td>склоны гор</td> <td>И</td> <td>перистые облака</td> </tr> <tr> <td>9. Мираж</td> <td>И</td> <td>перистые облака</td> <td>Е</td> <td>в атмосфере</td> </tr> </tbody> </table>			Природные явления		Места проявления		1. Сели и лавины	А	долины рек	З	склоны гор	2. Землетрясения и вулканизм	Б	безлесные равнины и моря	Г	границы литосферных плит	3. Смерчи	В	детали судов, самолётов и т.п.	Б	безлесные равнины и моря	4. Цунами	Г	границы литосферных плит	Д	морские побережья	5. Наводнения и паводки	Д	морские побережья	А	долины рек	6. Гололедица	Е	в атмосфере	Ж	на поверхности земли	7. Обледенение	Ж	на поверхности земли	В	детали судов, самолётов и т.п.	8. Гало	З	склоны гор	И	перистые облака	9. Мираж	И	перистые облака	Е	в атмосфере
Природные явления		Места проявления																																																			
1. Сели и лавины	А	долины рек	З	склоны гор																																																	
2. Землетрясения и вулканизм	Б	безлесные равнины и моря	Г	границы литосферных плит																																																	
3. Смерчи	В	детали судов, самолётов и т.п.	Б	безлесные равнины и моря																																																	
4. Цунами	Г	границы литосферных плит	Д	морские побережья																																																	
5. Наводнения и паводки	Д	морские побережья	А	долины рек																																																	
6. Гололедица	Е	в атмосфере	Ж	на поверхности земли																																																	
7. Обледенение	Ж	на поверхности земли	В	детали судов, самолётов и т.п.																																																	
8. Гало	З	склоны гор	И	перистые облака																																																	
9. Мираж	И	перистые облака	Е	в атмосфере																																																	
44	Укажите название и протяжённость страны, которую называют самой «длинной» страной Западной Европы.	Норвегия, 1750 км.																																																			
45	Укажите название науки и имя ученого, заложившего основы нового направления - науки о форме Земли.	Наука – Гравиметрия. Основы заложил Алексис Клод Клеро. Последователи: Фридрих Бессель, Джон Хейфорд, Н.Ф.Красовский и др.																																																			
46	Шотландское слово "loch" обозначает "озеро". Озера Шотландии — необъятные, глубокие и таинственные места, самым известным из которых является озеро, в глубоких водах которого, возможно, притаился таинственный житель — легендарное чудовище!. Первое упоминание о чудовище с длинной шеей и крошечной головой встречается в XVII в., а по утверждению местных властей, с 1933 г. люди видели его около 4000 раз. Кроме чудовища в районе озера неоднократно наблюдали и НЛЮ. Ежегодно на берегах озера бывает около	Озеро Лох Несс. Длина озера - 39 км, максимальная глубина - до 230 м, температура воды на глубине круглый год составляет около 5,5С.																																																			


	<p>полумиллиона туристов, мечтающих увидеть чудовище, из них 300 тысяч посещают Музей в деревне Драмнадрочит.</p> <p>Укажите название удивительного озера и его краткую характеристику (длина, глубина, особенности распределения температуры воды в нём).</p>	
47	<p>Это море даже летом забито льдом. К тому же, здесь почти не бывает солнечных дней, и на протяжении всего года небо затянуто низкими серыми тучами. Его часто называют «ледяной мешок». Изучению этого моря была посвящена экспедиция полярного исследователя, ставшего прообразом одного из героев произведения В.А.Каверина «Два капитана» - капитана Ивана Львовича Татарина. Трагические события, описанные в этой книге, произошли с полярной экспедицией на шхуне «Святая Анна». Как звали полярного исследователя, укажите название моря?</p>	Г.Л.Брусилов, Карское море.
48	<p>В совокупности эти страны занимают более чем 25% суши, 40% населения планеты и имеют валовой внутренний продукт (ВВП) свыше 15 трлн. \$. В ноябре 2001 года аналитик банка Goldman Sachs Джим О.Нейл предположил, что суммарный размер экономики этой группы стран превысит суммарный размер экономики самых богатых стран мира (большой семёрки).</p> <p>Укажите общее название этой группы стран, а также перечислите страны, входящие в указанное экономическое содружество.</p>	БРИКС. Бразилия, Россия, Индия, Китай, ЮАР (с 2010 г.).
49	<p>В каком Федеральном округе насчитывается наибольшее число городов-миллионников? Укажите название округа, городов и численность населения.</p>	В Приволжском ФО. Нижний Новгород (1250,6), Самара (1164,9), Казань (1143,6), Уфа (1062,3).
50	<p>В чем состоит различие между понятиями «Анклав» и «Экслав». Приведите примеры стран в Евразии, относящихся к этим понятиям</p>	<p>Анклав- Территория государства или её часть, которая со всех сторон окружена территорией другого государства. Пример - Сан-Марино на территории Италии.</p> <p>Экслав - часть территории, географически изолированная (отгороженная) от основной части своего государства и окружённая территорией чужого государства. Пример - Калининградская обл. России.</p>
51	<p>Известно, что названия некоторых государств совпадают с названиями их столиц. Укажите такие страны.</p>	Алжир, Панама, Тунис, Бразилия-Бразилиа.
	<p>Используя судовую журнал шхуны «Святая Анна», известный учёный-полярник установил, что экспедиция Г. Л. Брусилова пересекла Карское море именно в тех широтах, где до этого не</p>	<p>В. Ю. Визе, остров Визе.</p> <p>« Затерянный среди арктических льдов, этот остров производит очень мрачное и гнетущее впечатление. Он</p>

	<p>проходил ни один корабль. Чтобы исследовать направление и скорость передвижения льдов, ученый прокладывал на карте линию дрейфа судна изо дня в день согласно с обозначенными в журнале координатами широты и долготы. Это позволило ему установить, что льды, которые захватили в плен шхуну и двигались сначала на север между 78 гр.30' и 80 гр. с.ш., почему-то сдвинулись в сторону. Он предположил, что на пути дрейфа шхуны возникло какое-то препятствие, которое, несмотря на попутный ветер, помешало движению льдов. "Там должен быть остров", - решил ученый. Так на карте Карского моря возник остров, открытый не обычным экспедиционным путем, а теоретически, т.е. "вслепую». В 1930 году экспедиция на ледоколе «Георгий Седов» подтвердила существование этого острова. Укажите имя учёного, сделавшего открытие в тиши кабинета, а также название открытого им острова.</p>	<p>низменный, сложенный из осадочных пород, поверхность его почти лишена растительности. Необычайно беден и его животный мир". Площадь острова Визе сравнительно невелика - около 200 кв. км.</p>
52	<p>Какая максимальная абсолютная отметка территории республики Мальдивы? а. менее 5 м; б. от 5 до 10 м; в. от 10 до 100 м; г. выше 1500 м;</p>	<p>Менее 5 м. Точно- 2,4 м</p>
53	<p>Какие из перечисленных стран не относятся к экспортерам нефти? Россия, Венгрия, Саудовская Аравия, Израиль, Бахрейн.</p>	<p>Израиль, Венгрия. (1 балл)</p>
54	<p>Какие мореплаватели открыли новый южный материк - один географически, другой для европейской колонизации (с разницей почти в 100 лет), укажите название материка.</p>	<p>Австралия. Мореплаватели: голландец Абель Тасман (1644, северо-западный берег) и англичанин Джеймс Кук (1770, восточное побережье).</p>
55	<p>Какой из перечисленных действующих вулканов самый высокий? Ответы. а. Везувий; б. Этна; в. Мауна-Лоа (о.Гавайи); г. Ключевская Сопка;</p>	<p>Вулкан Мауна-Лоа. Это подводный вулкан. Общая высота относительно океанического ложа 9170 м, возвышается над уровнем моря на 4169 м. Везувий - 1277 м. Этна – 3340 м (самый высокий вулкан в Европе). Ключевская Сопка - 4750 м.</p>
56	<p>На снимке с ИСЗ в центре размещаются два острова, между которыми проходит граница между двумя странами. Острова были открыты российскими мореплавателями дважды: в 1728 году – экспедицией В. Беринга, и в 1811 году – экспедицией О. Коцебу. Поэтому имеют двойные названия. Имеются и другие особенности</p>	<p>Страны – России и США, два острова - Малый Диомид и Большой Диомид. Интересно, что кроме государственной границы их разделяет еще и так называемая линия смены дат. Потому, когда на Большом Диомиде, например, наступает новый день, достаточно преодолеть расстояние всего в 4160 м до американского острова, чтобы вернуться во вчерашний</p>

	<p>этих островов. Укажите названия двух стран и названия островов, изображённых на снимке. О каких интересных особенностях островов идёт речь?</p> 	<p>день, и наоборот. Территория Большого Диомида (остров Ратманова) находится в собственности России. Его площадь составляет около 10 квадратных километров. На этом острове никто не живет, но зато есть самая восточная российская военная база. Малый Диомид (остров Крузенштерна) принадлежит США с общей площадью в 5 квадратных километров, и на нем живет около 170 эскимосов. У жителей Малого Диомида есть свой магазин и своя школа для детей. При хорошей погоде доставка почты осуществляется вертолётом. Полный ответ - 5 баллов. Расширенный ответ + 2 балла.</p>								
57	<p>Назовите столицу государства – княжества Лихтенштейн.</p>	<p>г. Вадуц</p>								
58	<p>Народы России говорят более чем на 100 языках. Наиболее распространены следующие языковые группы:</p> <ol style="list-style-type: none"> 1. Индоевропейская 2. Алтайская 3. Уральская 4. Махско-дагестанская 5. Абхазо-адыгейская <p>Найдите соответствие названным языковым группам следующих языков, распространённых в России: Кабардино-черкесский, русский, немецкий, марийский, чеченский, армянский, башкирский, татарский</p>	<ol style="list-style-type: none"> 1. Индоевропейская: русский, немецкий, армянский 2. Алтайская: татарский, башкирский 3. Уральская: удмуртский 4. Махско-дагестанская: чеченский 5. Абхазо-адыгейская: кабардино-черкесский 6. 								
59	<p>Определите взаимосвязь природных явлений, происходящих в литосфере, гидросфере и атмосфере:</p> <p>гало, гейзеры, гололёд, заморозки, засухи, землетрясения, извержение вулканов, лавины, ливни, миражи, наводнения, обвалы, обледенение, оползни, паводки, полярное сияние, пыльные(песчаные) бури, разливы рек, сели, смерчи, снегопады, ураганы, цунами,</p>		<table border="1"> <tr> <td>атмосфера</td> <td>гидросфера</td> <td>литосфера</td> </tr> <tr> <td>гало, гололёд, заморозки, засухи, ливни, миражи, обледенение, полярное сияние, пыльные(песчаные) бури, смерчи, снегопады, ураганы,</td> <td>наводнения, паводки, разливы рек, цунами,</td> <td>гейзеры, землетрясения, извержение вулканов, лавины, обвалы, оползни, сели,</td> </tr> </table>	атмосфера	гидросфера	литосфера	гало, гололёд, заморозки, засухи, ливни, миражи, обледенение, полярное сияние, пыльные(песчаные) бури, смерчи, снегопады, ураганы,	наводнения, паводки, разливы рек, цунами,	гейзеры, землетрясения, извержение вулканов, лавины, обвалы, оползни, сели,	
атмосфера	гидросфера	литосфера								
гало, гололёд, заморозки, засухи, ливни, миражи, обледенение, полярное сияние, пыльные(песчаные) бури, смерчи, снегопады, ураганы,	наводнения, паводки, разливы рек, цунами,	гейзеры, землетрясения, извержение вулканов, лавины, обвалы, оползни, сели,								
60	<p>Перечислите моря, омывающие Россию.</p>	<p>Всего 13 морей: балтийское, Белое, Баренцево, Карское, Лаптевых, Восточно-Сибирское, Чукотское, Берингово, Охотское, Японское, Каспийское, Чёрное, Азовское.</p>								
61	<p>Путешествие тверского купца, совершённое в 1466-1472 г.г., называют «хождением за три моря»? Как звали отважного русского путешественника, куда совершалось путешествие и о</p>	<p>Афанасий Никитин, Россия (Тверь) – Индия - Россия (Смоленск). Моря: Каспийское, Аравийское, Чёрное.</p>								

	каких морях идёт речь?														
62	<p>Расположите страны по убыванию численности населения (по всему миру):</p> <ol style="list-style-type: none"> 1. Бразилия 2. Индия 3. Индонезия 4. Китай 5. Россия 6. США 7. Япония 	4-2-6-3-1-5-6													
63	<p>Учёные установили, что в строении Земли обнаруживается интересный феномен. В мантии на глубине находится некий своеобразный слой, примечательный тем, что в нём, по выводам учёных, происходит «зонная плавка». Так называют разделение материала по плотности, когда наверх вытесняются более лёгкие элементы, а более тяжёлые - опускаются вниз. Этот процесс сопровождается выделением тепла. Укажите название этого удивительного слоя и на какой глубине он находится?</p>	<table border="1"> <tr> <td>Название слоя</td> <td>Астеносфера</td> </tr> <tr> <td>Глубина залегания</td> <td>150- 300 км</td> </tr> </table>	Название слоя	Астеносфера	Глубина залегания	150- 300 км									
Название слоя	Астеносфера														
Глубина залегания	150- 300 км														
64	<p>Это островное государство состоит из 118 островов и атоллов, расположенных в Тихом океане, 67 из них заселены. Общая площадь суши — около 4000 (без площади водной поверхности). Численность населения на 2009 год составляла 287000 человек. Многие острова носят вторые, русские, названия: Рюрика, Лазарева, Крузенштерна, Раевского и другие. Так, острова Туамоту имеют второе название — острова Россиян. Эти острова были открыты и описаны российскими мореплавателями — Ф. Ф. Беллинсгаузеном, М. П. Лазаревым, О. Е. Коцебу. Как называется указанное государство, его статус.</p>	<p>Французская Полинезия - заморское сообщество и составляющая страна Франции, расположенное в центре южной части Тихого океана. Включает архипелаги: острова Общества, острова Туамоту, Маркизские острова, острова Тубуаи, отдельно выделяют острова Гамбье, которые находятся возле Туамоту, фактически являясь обособленной частью Туамоту. Политико-административный центр — город Папэте на острове Таити (крупнейший остров Французской Полинезии, 1 тыс. км²).</p>													
65	<p>Какие из перечисленных государств занимают остров, а какие целый архипелаг: Куба, Великобритания, Исландия, Япония, Мадагаскар, Филиппины, Новая Зеландия, Шри-Ланка?</p>	<table border="1"> <thead> <tr> <th>Острова</th> <th>Архипелаги</th> </tr> </thead> <tbody> <tr> <td><i>Куба</i></td> <td><i>Великобритания</i></td> </tr> <tr> <td><i>Исландия</i></td> <td><i>Япония</i></td> </tr> <tr> <td><i>Мадагаскар</i></td> <td><i>Филиппины</i></td> </tr> <tr> <td><i>Шри-Ланка</i></td> <td><i>Новая Зеландия</i></td> </tr> <tr> <td></td> <td></td> </tr> </tbody> </table>	Острова	Архипелаги	<i>Куба</i>	<i>Великобритания</i>	<i>Исландия</i>	<i>Япония</i>	<i>Мадагаскар</i>	<i>Филиппины</i>	<i>Шри-Ланка</i>	<i>Новая Зеландия</i>			
Острова	Архипелаги														
<i>Куба</i>	<i>Великобритания</i>														
<i>Исландия</i>	<i>Япония</i>														
<i>Мадагаскар</i>	<i>Филиппины</i>														
<i>Шри-Ланка</i>	<i>Новая Зеландия</i>														

66	<p>В России 2 747 997 озёр общей площадью 408 856 км² (без учёта Каспийского моря). Крупнейшими являются: А) По площади - Таймыр, Байкал, Онежское, Ладожское; Б) По объёму воды – Онежское, Хантайское, Ладожское, Байкал. Разместите водоёмы в порядке уменьшения по площади (А) и по объёму запасов воды (Б).</p>		А. по площади	Б. по объёму																																																			
		1	Байкал - 31722 кв.км	Байкал – 23516 куб.км																																																			
		2	Ладожское - 17872	Ладожское - 838																																																			
		3	Онежское - 9693	Онежское - 292																																																			
		4	Таймыр - 4560	Хантайское - 82																																																			
67	<p>В Сибири находится самое крупное на планете скопление медных руд (Удоканский меднорудный район). Почему там не ведется добыча, а медный концентрат Россия закупает за рубежом?</p>	<p>Добыча Удоканских руд нерентабельна из-за удаленности региона от освоенных территорий и сложных горно-геологических условий.</p>																																																					
68	<p>В списке представлен ряд географических понятий: степь, вади, тайга, гилен, тундра, долина, мангры. Объедините их по общим признакам.</p>	<p>1. Природные зоны: степь-тундра. 2. Леса и заросли: тайга-гилен(влажнотропический лес Ю.Ам.)-мангры. 3. Формы рельефа: долина-вади(сухие долины в пустынях Аравийского п-ва и с. Америки).</p>																																																					
69	<p>В таблице приведены названия островов, государств и столиц. Укажите принадлежность перечисленных островов указанным государствам, а также определите соответствие между государствами и столицами.</p> <table border="1" data-bbox="254 916 1094 1222"> <thead> <tr> <th></th> <th>Острова</th> <th></th> <th>Страны</th> <th></th> <th>Столицы</th> </tr> </thead> <tbody> <tr><td>1</td><td>Канарские</td><td>З</td><td>Нов. Зеландия</td><td>з</td><td>Мадрид</td></tr> <tr><td>2</td><td>Азорские</td><td>И</td><td>Португалия</td><td>и</td><td>Москва</td></tr> <tr><td>3</td><td>Бермудские</td><td>К</td><td>Россия</td><td>к</td><td>Оттава</td></tr> <tr><td>4</td><td>Нов. Каледония</td><td>Л</td><td>США</td><td>л</td><td>Париж</td></tr> <tr><td>5</td><td>Ньюфаундленд</td><td>М</td><td>Франция</td><td>м</td><td>Пекин</td></tr> <tr><td>6</td><td>Тасмания</td><td>Н</td><td>Эквадор</td><td>н</td><td>Сана</td></tr> <tr><td>7</td><td>Хайнань</td><td>О</td><td>Япония</td><td>о</td><td>Токио</td></tr> </tbody> </table>		Острова		Страны		Столицы	1	Канарские	З	Нов. Зеландия	з	Мадрид	2	Азорские	И	Португалия	и	Москва	3	Бермудские	К	Россия	к	Оттава	4	Нов. Каледония	Л	США	л	Париж	5	Ньюфаундленд	М	Франция	м	Пекин	6	Тасмания	Н	Эквадор	н	Сана	7	Хайнань	О	Япония	о	Токио		Острова		Страны		Столицы
			Острова		Страны		Столицы																																																
		1	Канарские	З	Нов. Зеландия	з	Мадрид																																																
		2	Азорские	И	Португалия	и	Москва																																																
		3	Бермудские	К	Россия	к	Оттава																																																
		4	Нов. Каледония	Л	США	л	Париж																																																
		5	Ньюфаундленд	М	Франция	м	Пекин																																																
		6	Тасмания	Н	Эквадор	н	Сана																																																
7	Хайнань	О	Япония	о	Токио																																																		
1	Канарские	Г	Испания	з	Мадрид																																																		
2	Азорские	И	Португалия	е	Лиссабон																																																		
3	Бермудские	Б	Великобритания	ж	Лондон																																																		
4	Нов. Каледония	М	Франция	м	Пекин																																																		
5	Ньюфаундленд	Е	Канада	к	Оттава																																																		
6	Тасмания	А	Австралия	в	Канберра																																																		
7	Хайнань	Ж	Китай	м	Пекин																																																		

70	<p>В юго-западной части указанного на карте плато находится малоизученное пресноводное озеро, в которое впадает 33 реки. Озеро богато рыбой, постоянных населённых пунктов на берегах озера нет. Однако вскоре после распада СССР озеро получило известность: главная примечательность озера — его юго-восточный берег. Как называется озеро и почему так примечателен его юго-восточный берег?</p>		<p>Озеро <i>Виви</i> (<i>плато Пutorана</i>) имеет официальный статус Центра России.</p> <p>Монумент высотой около 7 метров был установлен 21 августа 1992 года Научно-спортивной экспедицией им. И. Д. Папанина на юго-восточном берегу озера, а 27 августа прошло его торжественное открытие.</p> <p>Полный ответ -6 баллов.</p>
71	<p>Единственное государство в мире, расположенное сразу во всех полушариях (северном, южном, западном и восточном), не имеющее армии. При общей площади 726,34 кв.км (менее 20 % площади Москвы) имеет протяжённость с запада на восток около 4000 км (для сравнения: протяжённость России около 10 000 км и площадь 17 000 кв. км). Укажите как называется это государство, его столицу и где оно находится?</p>	<p>Республика Кирибати. Южная Тарава (Баирики) с населением около 93 000 человек. Океания. Тихий океан.</p>	
72	<p>Известно, что в России среди городского населения на 1000 мужчин приходится около 1800 женщин. А в каких регионах России численность мужчин превышает численность женщин? Сколько мужчин проживает в этом регионе?</p>	<p>В Чукотском автономном округе – 25,3 тыс. мужчин (25,2 тыс. женщин) или 50,1%.</p>	
73	<p>Известно, что география - это целая система или комплекс общественных и естественных наук, которые изучают производственные и природные территориальные комплексы, а также их компоненты. Объединение в пределах одной системы наук во многом определяется очень тесной взаимосвязью между объектами, изучаемыми ими и общностью научной задачи. Перечислите науки, являющиеся составной частью географии.</p>	<ol style="list-style-type: none"> 1. Астрономическая, или математическая география, тесно связанная с астрономией и геодезией и дающая основы для картографа, т. е. искусства составлять и чертить карты в различных проекциях; 2. Геофизика, или физика земного шара, связанная с физикой, астрономией и отчасти геологией; 3. Физическая география, включающая орографию (тесно соприкасающуюся с некоторыми отделами геологии), океанографию, климатологию, метеорологию (анализ тепловых, световых и электрических явлений, синтез данных для 	

		<p>характеристики климатических различий на земной поверхности);</p> <p>4. Биологическая география, включающая географию растений и географию животных (обе эти отрасли стоят в тесной связи с ботаникой и зоологией и разрабатываются главным образом специалистами по этим наукам);</p> <p>5. Антропогеография, основывающаяся, с одной стороны, на данных физической и биологической географией, с другой — на данных антропологии, этнографии, статистики и истории;</p> <p>6. Антропология, этнография, статистика, хотя данные из этих наук нередко также вводятся в географию и хотя географы принимают иногда деятельное участие в их обработке</p> <p>7. Астрономия (хотя некоторые факты из нее, не имеющие прямого отношения к Земле, и продолжают еще приводиться во многих географических руководствах и учебниках).</p>																								
74	Какие каналы сделали Москву портом пяти морей?	Беломоро-Балтийский, Волго-Балтийский, канал имени Москвы, Волго-Донской.																								
75	Куда впадает река Лимпопо? а. Мозамбикский пролив; б. Аденский залив; в. Персидский залив; г. Гвинейский залив;	в Мозамбикский пролив.																								
76	Лидерами по запасам пресных вод являются: Бразилия, Бангладеш, Венесуэла, Индия, Индонезия, Канада, Китай, Мьянма, Россия, США. В совокупности они обладают 60% мировых запасов. Укажите четыре из перечисленных выше стран, которые лидируют по запасам пресной воды (расположите их в порядке уменьшения)	<table border="1"> <tr> <td>1</td> <td>Бразилия</td> <td>14,8%</td> </tr> <tr> <td>2</td> <td>Россия</td> <td>9,6%</td> </tr> <tr> <td>3</td> <td>Канада</td> <td>6,2%</td> </tr> <tr> <td>4</td> <td>Китай</td> <td>6,0%</td> </tr> </table>	1	Бразилия	14,8%	2	Россия	9,6%	3	Канада	6,2%	4	Китай	6,0%												
1	Бразилия	14,8%																								
2	Россия	9,6%																								
3	Канада	6,2%																								
4	Китай	6,0%																								
77	На каких континентах находятся следующие страны: Албания, Ангола, Бурунди, Бутан, Венесуэла, Габон, Гаити, Гватемала, Гвиана, Канада, Мексика, Монголия, Намибия, Нигер, Перу, Россия, Сальвадор, Суринам, Турция, Чили.	<table border="1"> <tr> <td>Северная Америка</td> <td>Южная Америка</td> <td>Евразия</td> <td>Африка</td> </tr> <tr> <td><i>Мексика</i></td> <td><i>Венесуэла</i></td> <td><i>Монголия</i></td> <td><i>Ангола</i></td> </tr> <tr> <td><i>Канада</i></td> <td><i>Перу</i></td> <td><i>Албания</i></td> <td><i>Габон</i></td> </tr> <tr> <td><i>Гаити</i></td> <td><i>Чили</i></td> <td><i>Бутан</i></td> <td><i>Намибия</i></td> </tr> <tr> <td><i>Гватемала</i></td> <td><i>Гвиана</i></td> <td><i>Турция</i></td> <td><i>Бурунди</i></td> </tr> <tr> <td><i>Сальвадор</i></td> <td><i>Суринам</i></td> <td><i>Россия</i></td> <td><i>Нигер</i></td> </tr> </table>	Северная Америка	Южная Америка	Евразия	Африка	<i>Мексика</i>	<i>Венесуэла</i>	<i>Монголия</i>	<i>Ангола</i>	<i>Канада</i>	<i>Перу</i>	<i>Албания</i>	<i>Габон</i>	<i>Гаити</i>	<i>Чили</i>	<i>Бутан</i>	<i>Намибия</i>	<i>Гватемала</i>	<i>Гвиана</i>	<i>Турция</i>	<i>Бурунди</i>	<i>Сальвадор</i>	<i>Суринам</i>	<i>Россия</i>	<i>Нигер</i>
Северная Америка	Южная Америка	Евразия	Африка																							
<i>Мексика</i>	<i>Венесуэла</i>	<i>Монголия</i>	<i>Ангола</i>																							
<i>Канада</i>	<i>Перу</i>	<i>Албания</i>	<i>Габон</i>																							
<i>Гаити</i>	<i>Чили</i>	<i>Бутан</i>	<i>Намибия</i>																							
<i>Гватемала</i>	<i>Гвиана</i>	<i>Турция</i>	<i>Бурунди</i>																							
<i>Сальвадор</i>	<i>Суринам</i>	<i>Россия</i>	<i>Нигер</i>																							
78	Найдите правильное расположение стран Европы по возрастанию территории: 7. Германия	1-3-6-2-5-4.																								

	8. Испания 9. Норвегия 10. Россия 11. Франция 12. Швеция	
79	Народы России говорят более чем на 100 языках. Наиболее распространены следующие языковые группы: 6. Индоевропейская 7. Алтайская 8. Уральская 9. Махско-дагестанская 10. Абхазо-адыгейская Найдите соответствие названным языковым группам следующих языков, распространённых в России: Украинский, чувашский, белорусский, даргинский, осетинский, эрзянский, аварский, кабардино-черкесский.	6. Индоевропейская: украинский, белорусский, осетинский. 7. Алтайская: чувашский. 8. Уральская: эрзянский. 9. Махско-дагестанская: аварский, даргинский. 10. Абхазо-адыгейская: кабардино-черкесский.
80	Неподалеку от северных берегов Австралии среди просторов Тихого океана расположен второй по величине после Гренландии остров земного шара. В нашем представлении этот далекий остров неразрывно связан с именем великого русского исследователя Н. Н. Миклухо-Маклая. Действительно, он длительное время (в 1871-72, 1876-77 и 1883 гг.) жил на его северо-восточном побережье, которое ныне называется Берегом Маклая. В силу определённых особенностей его ещё можно назвать настоящим "островом сокровищ». Укажите название этого острова и почему его называют островом сокровищ?	Новая Гвинея. Благодаря своему влажному климату вечного лета, он одет в роскошную тропическую растительность из кокосовых и саговых пальм, сандаловых, мангровых и хлебных деревьев в непроходимых джунглях. В недрах острова обнаружены богатые месторождения каменного угля, нефти, железной и медной руды, платины, золота и серебра.
81	Ниагарский водопад расположен на р. Ниагара длиной 54 км, пограничной рекой между США и Канадой. Островом разделяется на канадскую и американскую части, шириной соответственно 900 м и 300м. Укажите названия озёр, из которого вытекает река, и в какое она впадает, а также остров, разделяющий канадскую и американскую части водопада.	Река Ниагара вытекает из озера Эри и впадает в озеро Онтарио. Остров Козий.

82	<p>Один из путешественников, побывавший на этом озере, писал: "Айсберги, искрясь в лучах южного солнца, плавали в воде. Ледяные замки и башни, опущенные снегом и горящие на солнце мириадами снежных кристаллов, полупрозрачные гроты на поверхности айсбергов, свисающие сталактиты, играющие всеми цветами радуги, — все это создавало сказочное впечатление...". Где находится озеро и почему оно заполняется айсбергами?</p>	<p>Озеро Мерцбахера, находится в центре Тянь-Шаня, недалеко от вершины Хан-Тенгри на высоте более 3 300 метров. Айсберги рождаются, откалываясь от ледника Северный Иньлчек, который спускается к озеру по дну ущелья.</p> <p>(Дополнительно: названо в честь первого исследователя – альпиниста. Оно довольно большое: длиной около четырех и шириной до двух километров. Уникальное озеро заполнено айсбергами, словно полярное море. Некоторые льдины возвышаются над водой на 10-15 метров, что говорит о большой глубине озера.</p>												
83	<p>Самолет выполняет полёт на высоте 3000 м. Рассчитайте давление и температуру на уровне моря, если известно, что на высоте полёта температура равна -15°C, а давление составляет 460 мм рт. ст.</p>	<p>Изменение T/1000 м составляет 6 ° C, а P/ 10 м – 1 мм рт.ст. Поэтому: P=3000:10=300, 460+300 = 760 мм рт.ст. T=3000:1000=3; 3x (6) =18; -15- (-18) = 3° C.</p>												
84	<p>Укажите название и протяжённость страны, которую называют самой «длинной» страной Западной Европы.</p>	<p>Норвегия, 1750 км.</p>												
85	<p>Укажите название науки и имя ученого, заложившего основы нового направления - науки о форме Земли.</p>	<p>Наука – Гравиметрия. Основы заложил Алексис Клод Клеро. Последователи: Фридрих Бессель, Джон Хейфорд, Н.Ф.Красовский и др.</p>												
86	<p>Фернан Магеллан открыл для европейцев архипелаг, состоящий более чем из 7000 островов, где 27.04.1521г. в стычке с местными жителями был убит на небольшом острове Мактан, расположенном в проливе ... между островами Укажите архипелаг, названия пролива и островов.</p>	<table border="1"> <thead> <tr> <th data-bbox="1123 849 1212 893">№№</th> <th colspan="2" data-bbox="1212 849 2015 893">Название</th> </tr> </thead> <tbody> <tr> <td data-bbox="1123 893 1212 976">1</td> <td data-bbox="1212 893 1389 976">Архипелаг</td> <td data-bbox="1389 893 2015 976">Филиппинский архипелаг с 1543 г. в честь испанского короля Филиппа II</td> </tr> <tr> <td data-bbox="1123 976 1212 1020">2</td> <td data-bbox="1212 976 1389 1020">Пролив</td> <td data-bbox="1389 976 2015 1020">Себу</td> </tr> <tr> <td data-bbox="1123 1020 1212 1065">3</td> <td data-bbox="1212 1020 1389 1065">Острова</td> <td data-bbox="1389 1020 2015 1065">Себу и Бохоль.</td> </tr> </tbody> </table>	№№	Название		1	Архипелаг	Филиппинский архипелаг с 1543 г. в честь испанского короля Филиппа II	2	Пролив	Себу	3	Острова	Себу и Бохоль.
№№	Название													
1	Архипелаг	Филиппинский архипелаг с 1543 г. в честь испанского короля Филиппа II												
2	Пролив	Себу												
3	Острова	Себу и Бохоль.												
87	<p>Форма Земли представляет из себя геоид. На Земле располагаются два географических объекта: А: Мариинская впадина глубиной около 11 км. Б: Вершина вулкана Эребус (Антарктида) высотой около 4 км. Какой из указанных объектов находится ближе к центру Земли и на сколько?</p>	<p>Ближе к центру Земли находится Эребус. Марианская впадина глубиной около 11 км располагается вблизи экватора, где радиус Земли составляет 6378,245 км. Вулкан Эребус высотой около 4 км располагается в Антарктиде, где радиус Земли составляет 6356,863 км. Расчёты: (6378,245 -11) – (6356,863 +4) = 6,382.</p>												