

Заключительный этап

1 вариант

ЧАСТЬ 1.

1. Определите автора каждого из приведённых определений естественного состояния. Напишите ответ на чертах.

- _____ _ понимал естественное состояние как «состояние войны всех против всех»;

- _____ _ понимал естественное состояние как «прекрасную дикость»;
_____ _ понимал естественное состояние как «состояние полной свободы в отношении действий и распоряжения своим имуществом и личностью».

2. Найдите соответствие между известными социологами и понятиями, характеризующими их учения:

1) Огюст Конт;

2) Эмиль Дюркгейм;

3) Толкотт Парсонс.

А) «Структура социального действия»;

структурно-функциональная теория
социальных систем;

Б) позитивизм; «Курс позитивной
философии»; закон трёх стадий;

В) «Самоубийство»; социальные факты.

3. Допишите на чертах пропущенные в определениях слова:

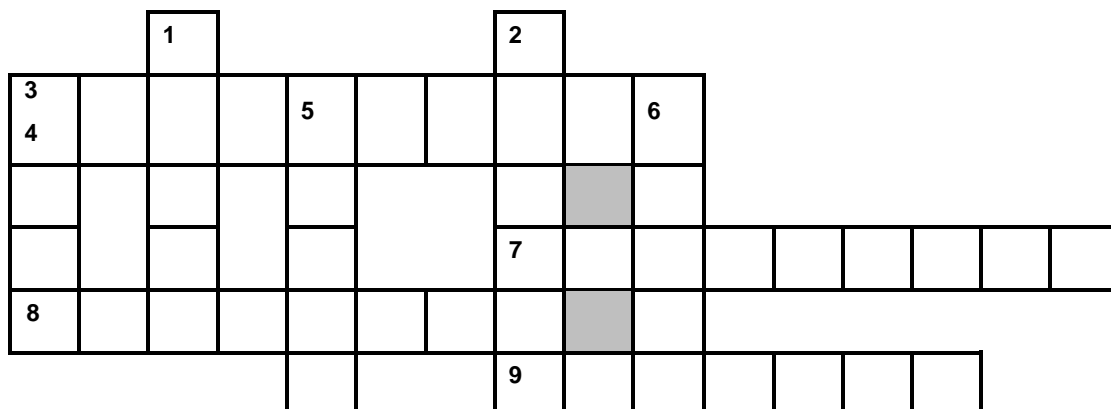
_____ религии: буддизм, христианство, ислам.

_____ религии: индуизм, конфуцианство, синтоизм, иудаизм.

4. Дайте определение историческому явлению (с указанием его датировки), укажите причины его возникновения и последствия.

Старообрядчество:

5. Заполните кроссворд:



1. Так на Руси назывался захват иноземцами людей в рабство с целью их последующей продажи.
2. Единственный генералиссимус Советского Союза.
3. Сословие, освобожденное Петром III от обязательной службы.
4. Младший чин в боярской думе России XVI — начала XVIII столетий.
5. В XVII веке – служащие по прибору, отвечавшие за почтовые перевозки, перевозку служащих и казённых грузов.
6. Разновидность повинности зависимых крестьян.
7. Русский поэт, сосланный в состав Нижегородского драгунского полка на Кавказе.
8. Историк Михаил Щербатов рассматривал этот документ периода правления Анны Иоанновны как попытку ограничить власть императора сенатом или парламентом.
9. В правление этого императора в результате войны была впервые установлена автономия Греция от Османской империи.

6. Опишите историческое событие (исторические события) и исторического деятеля (исторических деятелей), которому (которым) посвящен памятник на фотографии. По возможности укажите название памятника, в какое время и в связи с чем он был установлен.

Ответ:



7. Допишите на чертах пропущенные в определениях слова:

_____ правового регулирования предполагает, что нормами права устанавливаются лишь пределы, в которых субъекты правоотношений самостоятельно определяют варианты своего взаимного поведения, самостоятельно устанавливают свои взаимные права и обязанности.

_____ правового регулирования предполагает, что субъектам правоотношений представляется лишь один, строго определённый вариант поведения, а нормы права точно определяют порядок возникновения и прекращения, характер, объём и содержание прав и обязанностей субъектов.

8. Определите, какой структурный элемент нормы права представлен в каждом случае. Правильный ответ напишите на чертах.

«наказывается лишением свободы на срок от шести до пятнадцати лет с ограничением свободы на срок до двух лет либо без такового» = _____
«убийство, то есть умышленное причинение смерти другому человеку» – _____

«в условиях чрезвычайного положения для обеспечения безопасности граждан и защиты конституционного строя в соответствии с федеральным конституционным законом» – _____

9. Найдите соответствие между органами и функциями, выполняемыми ими в рамках процедуры отрешения от должности Президента РФ:

- 1) Конституционный Суд РФ;
- 2) Государственная Дума;
- 3) Верховный Суд РФ;
- 4) Совет Федерации.

- А) отрешение Президента РФ от должности;
- Б) выдвижение обвинения против Президента РФ в государственной измене или совершении иного тяжкого преступления;
- В) дача заключения о наличии в действиях Президента РФ признаков преступления;
- Г) дача заключения о соблюдении установленного порядка выдвижения обвинения против Президента РФ.

10. Допишите на чертах пропущенные в определениях слова:

иск – требование об устранении нарушений правомочий собственника, когда имущество находится во владении самого собственника.

иск – истребование имущества из чужого незаконного владения.

11. Прочитайте текст, приведенный ниже.

Высший Арбитражный Суд РФ обратился в Конституционный Суд РФ с запросом о соответствии Конституции РФ нормативного правового акта Правительства РФ – Распоряжения Правительства РФ от 2 июня 2016 г. № 1083-р (в ред. от 8 декабря 2016 г.) «Об утверждении Стратегии развития малого и среднего предпринимательства в Российской Федерации на период до 2030 года» (вместе с "Планом мероприятий ("дорожной картой") по реализации Стратегии развития малого и среднего предпринимательства в Российской Федерации на период до 2030 года").

Вам следует: 1) обнаружить в тексте фрагменты, противодействующие действующему законодательству и 2) указать в чем состоит противоречие.

12. Установите соответствие между типами экономических систем:

Признаки	Тип экономической системы
1) Объем и номенклатура производства регулируется государством	А) Традиционная
2) Объем и номенклатура производства регулируется посредством обычаев	Б) Рыночная
3) Объем и номенклатура производства определяется фирмами-производителями через спрос потребителей	В) Командная (плановая)
4) Преобладание внеэкономических стимулов к труду	
5) Преобладание натурального хозяйства	
6) Приоритет частной собственности	

13. Вставьте в схему выбранные цифры, характеризующие тот или иной вид налоговых ставок:



- 1) предполагает возрастание ставки по мере роста дохода;
- 2) действуют в одинаковом процентном соотношении к объекту налогообложения без учета изменения его величины;
- 3) устанавливается в абсолютной сумме на единицу налогообложения;
- 4) предполагает снижение ставки по мере роста дохода.

14. Решите задачу:

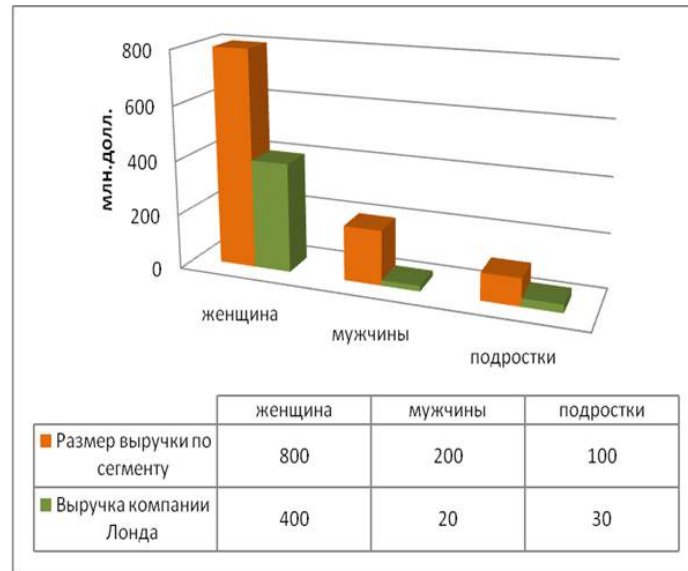
Господин Копилкин открыл вклад в банке в размере 100 тыс. руб. под 10% годовых. Таким образом, через год он получил 11 тыс. руб. Чему равна реальная процентная ставка, если темпы инфляции за этот период времени составили 12%.

15. Отметьте все правильные ответы в ячейках. Сумма правильных ответов должна быть равна 25.

1. С середины XIX в. в России сложилась система серебряного стандарта	2. При уплате банковского кредита деньги выполняют функцию средства обращения.	3. Покупательная способность денег определяется правительством
4. Казначейские билеты — долговые обязательства банков	5. С середины XX века сложилась система золотого стандарта	6. При покупке телефона деньги выполняют функцию средства платежа
7. Стоимость денег зависит от количества товаров и услуг, которые на них можно купить	8. Денежный агрегат M1 обладает абсолютной ликвидностью	9. Одно из качеств денег — это их портативность

Часть 2.

Компания «Лонда» когда-то занимала 50% всего рынка красок для волос. Последние годы конкуренты окрепли и потеснили её рыночную долю, показатели выручки компании в общем сегменте рынка отражены на представленной диаграмме.



Ежегодный рост каждого сегмента рынка составляет примерно: женщины – 5%, мужчины – 20% и подростки – 10%.

Эксперты аналитического отдела компании заложило в финансовый план развития фирмы, что доля в сегментах красок для волос для мужчин и подростков у компании «Лонда» останется неизменной еще в течение 2х лет.

Определите: какую долю (в %) в сегменте красок для волос для женщин через 2 года должна достигнуть данная компания, чтобы вернуть 50%-ю долю в общем по рынку.

Ответ:

Часть 3.

Выберете одну из тем. Вам следует написать работу (эссе) по теме, сформулированной в виде высказывания, используя материал курса обществознания и опираясь на исторический опыт и социальную практику.

При написании эссе Вам следует определить свое понимание данного высказывания, продемонстрировать знание смысла и содержания, затрагиваемых им обществоведческих понятий, обозначить существующие проблемы, сформулировать собственную точку зрения. Не забывайте о логичности и аргументированности Ваших утверждений, а также о соблюдении правил русского языка.

1. «Экономическая свобода - это свобода любой деятельности, включающей право выбора и сопряженные с этим риск и ответственность.»

Фридрих Август фон Хайек

2. «Законы нужны не только для того, чтобы устрашать граждан, но и для того, чтобы помогать им.»

Ф. Вольтер

Заключительный этап

2 вариант

ЧАСТЬ 1.

1. Допишите на чертах пропущенные понятия, определения которых приводятся:

— уклонение избирателей от участия в голосовании на выборах в органы государственной власти;

— деятельность, осуществляемая по заказу определенных организаций или групп и заключающаяся в оказании давления на государственных должностных лиц с целью принятия ими выгодных для заказчиков решений;

— группа в обществе, обладающая политическим влиянием, выполняющая функции политического управления;

— человек, способный влиять на политическое поведение и политическую деятельность людей благодаря определенным личностным качествам, авторитету;

— политика, направленная на укрепление позиций государства в обществе, на огосударствление.

2. Найдите соответствие между религиозными представлениями и характеризующими их понятиями:

Религиозные воззрения

- 1) Христианство;
- 2) Ислам;
- 3) Пантеизм;
- 4) Фетишизм.

Характеризующие их понятия

- А) Боговоплощение;
- Б) отождествление Бога и природы;
- В) суннизм;
- Г) почитание материальных объектов как сакральных;
- Д) омовение;
- Е) Кааба;
- Ж) Сын Бога, соединивший в себе совершенного человека с полнотой Божественного бытия;
- З) шиизм;
- И) Евхаристия.

3. Допишите на чертах слова, характеризующиеся приводимым понятийным рядом:

суверенитет народа; выборность основных государственных органов; равноправие граждан; политический и идеологический плюрализм;

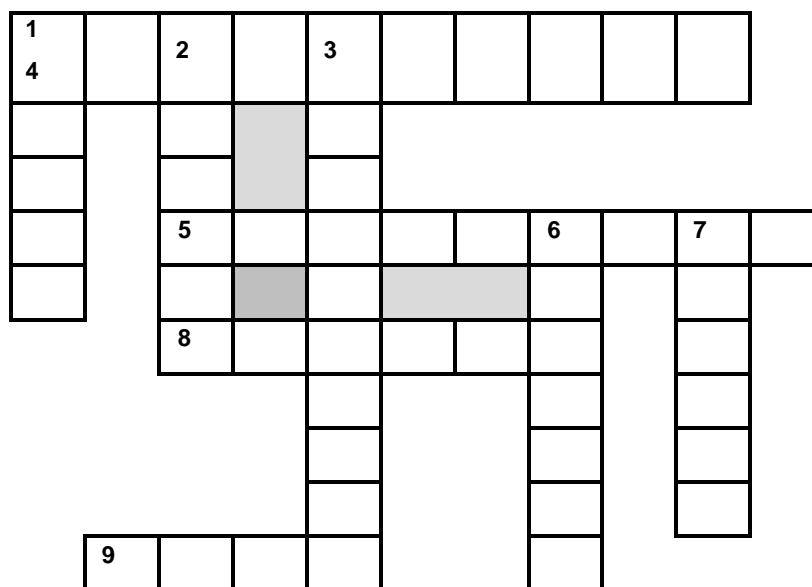
чиновничество; государственные служащие; функция административного управления, делопроизводства в государственных учреждениях; иерархическая структура; формальное статусное подчинение; управление по формальным, безличным правилам;

— участие в избирательных кампаниях; участие в осуществлении государственной власти; объединение граждан с общими идейно-политическими взглядами и интересами.

4. Когда и кем было создано указанное ниже государственное учреждение, какие функции оно выполняло?

«многоопытному в делах государства думному дьяку Михаилу Данилову было указано ведать Приказом счетных дел»

5. Заполните кроссворд:



1. Полупривилегированное сословие в России в XVIII — начале XX веков.
2. Органы центрального государственного управления в России в XIV – XVII веках.
3. Индивидуальное или коллективное прошение, в период существования приказной системы подававшееся думному дьяку.
4. Так называется окружение войск противника, неоднократно имевшее место в годы Великой отечественной войны.
5. Вооружённое выступление в марте 1921 года гарнизона этой крепости подтолкнуло большевиков к сворачиванию политики «военного коммунизма».
6. Машина, крупнейшим производителем которой с 1933 года стал завод г. Челябинска, в годы Великой отечественной войны перепрофилированный на производство танков.
7. Название рода войск, использовавшиеся в Российской империи как в конной, так и пешей службе.

8. Название занятия никому не принадлежащих земель для поселения и сельского хозяйства и название самого этого поселения.
9. Часть названия подпольного народовольческого кружка, действовавшего в России в 1876 – 1879 годах.

6. Определите, к какому времени относятся изображенные на картине события, какие социальные группы представлены на картине, какова тематика картины. Обоснуйте свой ответ.



7. Допишите на чертах пропущенные в утверждениях слова:

1. Носителем _____ и единственным источником власти в Российской Федерации является ее _____.
2. Российская Федерация состоит из _____

– равноправных субъектов

Российской Федерации.

3. Российская Федерация – _____, политика которого направлена на создание условий, обеспечивающих достойную жизнь и свободное развитие человека.

8. Определите, какой структурный элемент(ты) нормы права представлен(ы) в каждом случае. Правильный ответ напишите на чертах.

«Ведение деятельности организацией или индивидуальным предпринимателем без постановки на учет в налоговом органе влечет взыскание штрафа в размере 10 процентов от доходов, полученных в течение указанного времени в результате такой деятельности» –

«Налоговая декларация представляется каждым налогоплательщиком по каждому налогу, подлежащему уплате этим налогоплательщиком» –

«В случае отклонения законодательным (представительным) органом закона (решения) об исполнении бюджета» –

9. Найдите соответствия между гражданско-правовыми институтами и характеризующими их понятиями:

Гражданско-правовые институты	Характеризующие их понятия
1) Вещные права;	А) удержание имущества;
2) Преобразование форм собственности;	Б) оперативное управление имуществом;
3) Способы обеспечения исполнения обязательств.	В) залог;
	Г) сервитут;
	Д) национализация;
	Е) поручительство;
	Ж) приватизация.

10. Оцените на истинность или ложность суждения, приведённого ниже:

Федеральный бюджет - форма образования и расходования централизованного фонда денежных средств и государственного имущества, предназначенного для финансового обеспечения задач и функций Российской Федерации, субъектов Российской Федерации и местного самоуправления.

Истинно / ложно (нужное подчеркнуть). Подчеркните в тексте ошибку, если она есть, и исправьте её, записав правильный ответ на чертах:

11. Прочитайте текст, приведенный ниже.

Министерство финансов Российской Федерации подготовило проект федерального закона, предусматривающий сокращение расходов федерального бюджета. Счетная палата Российской Федерации дала положительное заключение на законопроект. Министерство финансов Российской Федерации внесло проект федерального закона вместе с указанным заключением в Государственную Думу. Государственная Дума рассмотрела и одобрила федеральный закон и передала его для принятия в Совет Федерации.

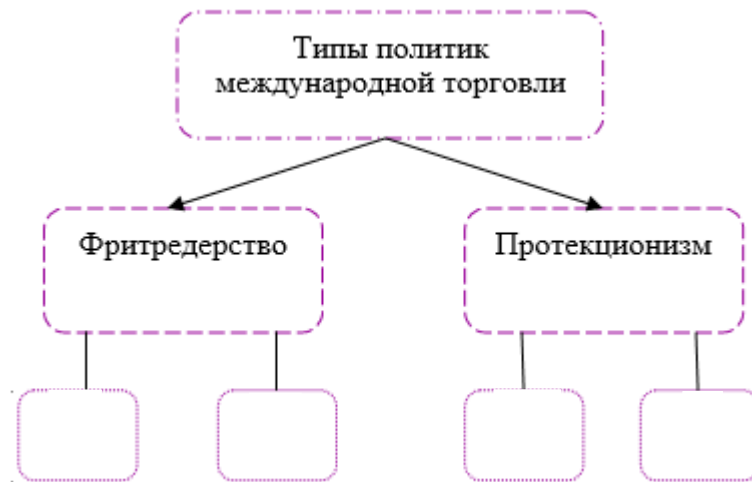
Вам следует: 1) обнаружить в тексте фрагменты, противодействующие действующему законодательству и 2) указать в чем состоит противоречие.

12. Установите соответствие между типами экономического роста

Ситуация	Тип экономического роста
1) Компания по добыче газа приступила к освоению нового месторождения	А) Интенсивный
2) Промышленное предприятие установило новую конвейерную ленту	Б) Экстенсивный
3) Автомобильный завод вложил серьезные средства в переквалификацию рабочих	
4) Для укладки асфальта дорожная компания привлекала дополнительных рабочих	
5) Банк сократил часть персонала за счет внедрения нового IT-оборудования	

13. Вставьте в схему выбранные цифры, характеризующие ту или иную политику государства:

- 1) повышение пошлин на ввоз автомобилей иностранной сборки;
- 2) подписание договоров о зоне свободной беспошлинной торговли между странами;
- 3) отмена льгот и преференций для иностранных компаний;
- 4) финансовая поддержка со стороны государства отечественных производителей.



14. Выберите нужные категории доходов и посчитайте валовой внутренний продукт (ВВП):

- а) доходы от реализации молочной продукции компании «Молочник» - 1 100 тыс. у.е.
- б) доходы от перепродажи поддержанного столярного оборудования компании «Джузеппе» - 5 000 тыс. у.е.
- в) доходы от продажи партии офисной мебели компании «Фанстрой» - 3 500 тыс. у.е.
- г) доходы господина Гуляева от сдачи металлолома - 20 тыс. у.е.
- д) доходы от реализации 100 тонн картофеля с фермы «Овощник» — 700 тыс. у.е.

15. Отметьте все правильные ответы в ячейках. Сумма правильных ответов должна быть равна 25.

1. При регрессивной системе ставка налога снижается с ростом дохода	2. Налоги возникли одновременно с рыночной экономикой	3. Прогрессивная система налогообложения ослабляет неравенство в обществе
4. Налог на прибыль — это косвенный налог	5. Порядок налогообложения регулируется Налоговым и Гражданским кодексами РФ	6. В случае прямого налога субъект налога и носитель — одно лицо
7. Налоговая база — объект налога в стоимостном выражении	8. Акциз — это косвенный налог	9. Субъект налога — это то, что облагается налогом

Часть 2.

В странах F и U среди прочих видов продуктов производят консервированный зеленый горошек и консервированную сладкую кукурузу. В стране F производят 10 т зеленого горошка в час и 18 т в час сладкой кукурузы. В стране U производят 15 т зеленого горошка в час и 25 т в час сладкой кукурузы.



Страна U имеет абсолютное преимущество в производстве обоих товаров. Однако на мировом рынке сложились такие условия, что они должны определить, какой товар продавать, а какой покупать друг у друга.

Определите:

- 1) Какие концепции иллюстрируют данный пример, в чем их сущность, и кто их разработал?
- 2) В соответствии с данными концепциями определите, на чём выгоднее будет специализироваться стране F и на чём — стране U.

Часть 3.

Выберете одну из тем. Вам следует написать работу (эссе) по теме, сформулированной в виде высказывания, используя материал курса обществознания и опираясь на исторический опыт и социальную практику.

При написании эссе Вам следует определить свое понимание данного высказывания, продемонстрировать знание смысла и содержания, затрагиваемых им обществоведческих понятий, обозначить существующие проблемы, сформулировать собственную точку зрения. Не забывайте о логичности и аргументированности Ваших утверждений, а также о соблюдении правил русского языка.

1. «Экономика – не просто наука об использовании ограниченных ресурсов, но наука о рациональном использовании ограниченных ресурсов.»

Герберт Саймон

2. «В первую очередь нужно добиваться поведения, соответствующего праву, и притом с моральным умонастроением, и только тогда может прийти моральное поведение как таковое, в котором нет никакого правового предписания.»

Георг Вильгельм Фридрих Гегель