

11 КЛАСС

1. Найдите значение $f(2019)$, если известно, что $f(x)$ одновременно удовлетворяет трем условиям:

- 1) $f(x) > 0$ для любого $x > 0$;
- 2) $f(1) = 1$;
- 3) $f(a + b) \cdot (f(a) + f(b)) = 2f(a) \cdot f(b) + a^2 + b^2$ для любых $a, b \in \mathbb{R}$.

Решение. В тождестве из условия задачи

$$f(a + b) \cdot (f(a) + f(b)) = 2f(a) \cdot f(b) + a^2 + b^2 \quad (1)$$

положим $a = 1, b = 0$. Тогда $f(1) \cdot (f(1) + f(0)) = 2f(1) \cdot f(0) + 1$. Поскольку $f(1) = 1$, находим

$$f(0) = 0. \quad (2)$$

Положив затем $b = -a$ в (1), получим, с учетом (2), что

$$f(a) \cdot f(-a) = -a^2. \quad (3)$$

Наконец, при $b = 0$ тождество (1) (с учетом (2)) примет вид $f(a) \cdot f(a) = a^2$. Значит необходимо, чтобы $f(a) = a$ при $a > 0$, так как по условию $f(x) > 0$ для $x > 0$. Далее, согласно (3), $f(a) = a$ и при $a < 0$. Окончательно, $f(x) = x$ для любого $x \in \mathbb{R}$. Легко убедиться, что такая $f(x)$ действительно удовлетворяет требованиям 1), 2), 3) из условия задачи. Итак, $f(x) = x$.

Ответ: 2019.

2. Найдите сумму всех простых чисел, запись которых в системе счисления с основанием 14 имеет вид 101010 ... 101 (единицы и нули чередуются).

Решение. Пусть $2n + 1$ – количество цифр в исследуемом числе $A = 101010 \dots 101$. Пусть $q = 14$ – основание системы счисления. Тогда $A = q^0 + q^2 + \dots + q^{2n} = \frac{q^{2n+2}-1}{q^2-1}$. Рассмотрим случаи четного и нечетного n .

• $n = 2k \Rightarrow A = \frac{q^{2n+2}-1}{q^2-1} = \frac{q^{2k+1}-1}{q-1} \cdot \frac{q^{2k+1}+1}{q+1}$. Таким образом, число A представлено в виде произведения двух целых сомножителей (по теореме Безу многочлен $q^{2k+1} \pm 1$ делится без остатка на многочлен $q \pm 1$), каждый из которых отличен от 1. Значит, при четных n число A простым не является.

• $n = 2k - 1 \Rightarrow A = \frac{q^{2n+2}-1}{q^2-1} = \frac{q^{2k}-1}{q^2-1} \cdot (q^{2k} + 1)$. При $k > 1$ оба сомножителя целые и отличны от 1; значит, число A составное. Остается убедиться, что при $k = 1$ получается простое число $A = q^0 + q^2 = 197$.

Ответ: 197.

3. В одной из клеток бесконечной клетчатой бумаги находится робот, которому могут быть отданы следующие команды:

- **вверх** (робот перемещается на соседнюю клетку сверху);
- **вниз** (робот перемещается на соседнюю клетку снизу);
- **влево** (робот перемещается на соседнюю клетку слева);
- **вправо** (робот перемещается на соседнюю клетку справа).

Если, например, робот выполнит последовательность из четырех команд (**вверх, вправо, вниз, влево**), то он, очевидно, вернется в исходное положение, т.е. окажется в той же клетке, из которой начал движение. Сколько существует различных последовательностей из 8 команд, возвращающих робота в исходное положение?

Решение. Для краткости команду **влево** будем обозначать **Л**, **вправо** – **П**, **вверх** – **В**, **вниз** – **Н**. Чтобы робот вернулся в исходное положение необходимо и достаточно, чтобы ему было отдано

**Межрегиональная олимпиада школьников на базе ведомственных образовательных организаций
по математике**

команд **Л** столько же, сколько и команд **П**, а команд **В** – столько же, сколько и **Н**. Пусть k – количество команд **Л** в последовательности. Подсчитаем количество N_k искомых последовательностей для k от 0 до 4.

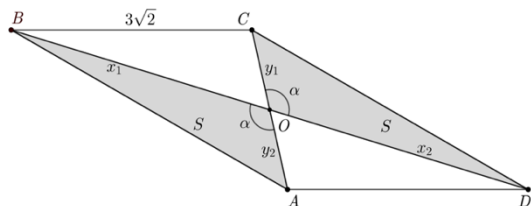
- $k = 0$. Последовательность состоит только из команд **В** и **Н**. Так как их поровну, то на 4 местах из 8 должна быть команда **В**, а на остальных – **Н**. Выбрать 4 места из 8 можно C_8^4 способами. Следовательно, $N_0 = C_8^4 = 70$;
- $k = 1$. Последовательность состоит из одной команды **Л**, одной **П**, а также трех **В** и трех **Н**. Разместить две команды **Л** и **П** на 8 позициях можно $C_8^2 \cdot C_2^1$ способами: C_8^2 – число способов вообще выбрать 2 позиции из 8, $C_2^1 = 2$ – число способов разместить на этих двух позициях команды **Л** и **П**. На оставшихся 6 позициях следует разместить 3 команды **В**, что можно сделать C_6^3 способами. Поэтому $N_1 = C_8^2 \cdot C_2^1 \cdot C_6^3 = 1120$;
- $k = 2$. Здесь две **Л**, две **П**, а также по 2 команды **В** и **Н**. Для **Л** и **П** имеем $C_8^4 \cdot C_4^2$ вариантов размещения. На оставшихся 4 позициях разместить 2 команды **В** можно C_4^2 способами. Значит $N_2 = C_8^4 \cdot C_4^2 \cdot C_4^2 = 2520$.

Рассуждая аналогичным образом, можно показать, что $N_3 = N_1$ и $N_4 = N_0$. Таким образом, искомое число последовательностей равно $2 \cdot (N_0 + N_1) + N_2 = 4900$.

Ответ: 4900.

4. В четырехугольнике $ABCD$ диагонали пересекаются в точке O . Известно, что $S_{ABO} = S_{CDO} = \frac{3}{2}$, $BC = 3\sqrt{2}$, $\cos \angle ADC = \frac{3}{\sqrt{10}}$. Найдите наименьшую площадь, которую будет иметь такой четырехугольник.

Решение. Докажем, что четырехугольник $ABCD$ – параллелограмм. Пусть x_1, x_2, y_1, y_2 – отрезки, на которые диагонали делятся их точкой пересечения. Обозначим угол между диагоналями через α . По условию площади треугольников ABO и CDO равны, то есть $\frac{1}{2} x_1 y_2 \sin \alpha = \frac{1}{2} x_2 y_1 \sin \alpha$. Отсюда $\frac{x_1}{x_2} = \frac{y_1}{y_2}$, и, следовательно, треугольники BOC и AOD подобны по первому признаку подобия: две стороны (x_1 и y_1) треугольника BOC пропорциональны двум сторонам (x_2 и y_2) треугольника AOD , а углы, образованные этими сторонами ($\angle BOC$ и $\angle AOD$), равны. Пусть $k = \frac{x_1}{x_2} = \frac{y_1}{y_2}$ – коэффициент подобия треугольников BOC и AOD .



Обозначим через S площади треугольников ABO и CDO (по условию $S = \frac{3}{2}$). Тогда $S_{BOC} = k \cdot S$ и $S_{AOD} = S/k$. В итоге, площадь четырехугольника $ABCD$ может быть представлена в виде:

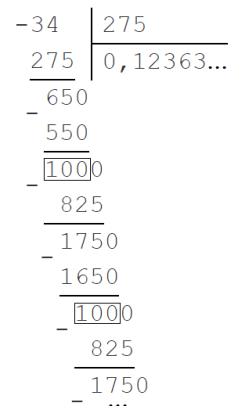
$$S_{ABCD} = S_{AOD} + S_{CDO} + S_{BOC} + S_{ABO} = 2S + S \left(k + \frac{1}{k} \right).$$

Известно, что для $k > 0$ минимальное значение выражения $k + \frac{1}{k}$ достигается при $k = 1$. Значит, $x_1 = x_2$ и $y_1 = y_2$, то есть диагонали четырехугольника точкой пересечения делятся пополам, поэтому $ABCD$ – параллелограмм. Его площадь $S_{ABCD} = 4S = 6$.

Ответ: 6.

5. Обыкновенная дробь $\frac{1}{221}$ представлена в виде периодической десятичной дроби. Найдите длину периода. (Например, длина периода дроби $\frac{25687}{99900} = 0,25712712712 \dots = 0,25(712)$ равна 3.)

Решение. Рассмотрим пример. Переведем обыкновенную дробь $\frac{34}{275}$ в десятичную. Для этого выполним деление уголком (рис.). В результате найдем $\frac{34}{275} = 0,123636363 \dots = 0,123(63)$. Получена непериодическую часть 123 и период 63. Обсудим, почему непериодическая часть здесь возникла, и покажем, что у дроби $\frac{1}{221}$ ее нет. Дело в том, что в десятичной записи дроби $\frac{34}{275}$ цифра 3 появляется всякий раз, когда при очередном делении на 275 получается остаток 100. Мы видим (и это ключевой момент!), что здесь один и тот же остаток 100 дают различные числа: 650 и 1750. Откуда, в свою очередь, взялись эти 650 и 1750? Число 650 получилось дописыванием нуля к числу $r_1 = 65$ (остатку от деления на 275 числа 340). То есть $10r_1 = 650$. Аналогично, $10r_2 = 1750$, где $r_2 = 175$. Числа 650 и 1750 дают одинаковые остатки при делении на 275 из-за того, что их разность на 275 делится нацело: $1750 - 650 = 10(r_2 - r_1) : 275$. Такое возможно только потому, что числа 10 и 275 не взаимно просты. Теперь понятно, почему у дроби $\frac{1}{221}$ непериодической части не будет: если r_1 и r_2 – это различные остатки от деления на 221, то произведение $10(r_2 - r_1)$ на 221 нацело не делится (число 221, в отличие от 275, взаимно просто с 10 – основанием системы счисления, поэтому непериодической части нет).

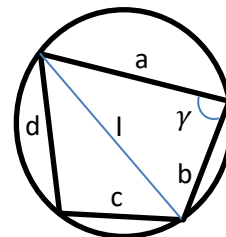


Итак, десятичная запись дроби $\frac{1}{221}$ имеет вид $\frac{1}{221} = 0, (a_1 a_2 \dots a_n)$. Найдём n . Обозначим $A = a_1 a_2 \dots a_n$. Тогда $\frac{1}{221} = 10^{-n} \cdot A + 10^{-2n} \cdot A + \dots$. По формуле для суммы бесконечно убывающей геометрической прогрессии $\frac{1}{221} = \frac{A}{10^n - 1}$. Отсюда $A = \frac{10^n - 1}{221}$. Поскольку A – натуральное число, требуется найти (наименьшее) натуральное n , при котором число 10^n даёт остаток 1 при делении на 221.

Заметим, что $221 = 13 \cdot 17$. Вообще, целое число B (у нас $B = 10^n$) при делении на 221 даёт остаток 1 в том и только том случае, когда B при делении и на 13, и на 17 также даёт остаток 1. Необходимость очевидна. Достаточность: если $B = 13k_1 + 1$ и $B = 17k_2 + 1$, то $13k_1 = 17k_2$, а значит число k_1 делится на 17, то есть $k_1 = 17m$. Поэтому $B = 13 \cdot 17m + 1$, и при делении на 221 действительно получается остаток 1. Найдём теперь такие n , что число 10^n даёт остаток 1 при делении на 13. Рассмотрим последовательность $b_n = 10^n$. Заменим ее члены остатками от деления на 13. Получится вот что: $b_1 = 10, b_2 = 9, b_3 = 3, b_4 = 4, b_5 = 1, \dots$ Каждый последующий член однозначно определяется предыдущим. Значит, $\{b_n\}$ – периодическая последовательность, в которой каждый шестой член равен 1. То же проделаем для 17. Там единице будет равен каждый 16-й член. Таким образом, остаток 1 при делении и на 13, и на 17 получится при $n = \text{НОК}(6,16) = 48$.

Ответ: 48.

6. Известно, что длины сторон выпуклого четырёхугольника равны соответственно $a = 4, b = 5, c = 6, d = 7$. Найти радиус R окружности, описанной вокруг этого четырёхугольника. В качестве ответа привести целую часть R^2 .



Решение. По теореме косинусов выразим длину диагонали:

$$l^2 = a^2 + b^2 - 2ab \cos \gamma, \quad l^2 = c^2 + d^2 - 2cd \cos(\pi - \gamma).$$

Отсюда получим $\cos \gamma = \frac{a^2 + b^2 - c^2 - d^2}{2(ab + cd)}$. Поскольку $R = \frac{l}{2 \sin \gamma}$, получаем $R^2 = \frac{l^2}{4(1 - \cos^2 \gamma)}$.

Для указанных длин сторон получаем $R^2 = \frac{2074799}{131040}$.

Ответ: 15.