

1. Задача 1

Полный балл 2

Какой из перечисленных памятников не был составлен в эпоху Нара?

1	Кодзики
2	Энгисики
3	Манъёсю
4	Нихон сёки

2. Задача 2

Полный балл 2

Название какого города переводится с японского языка как «столичный город»?

1	<input type="checkbox"/>	Токио
2	<input type="checkbox"/>	Нара
3	<input type="checkbox"/>	Киото
4	<input type="checkbox"/>	Кобэ

3. Задача 3

Полный балл 2

К числу характеристик заливного рисоводства как хозяйственного комплекса не относится:

1	<input type="checkbox"/>	высокая потребность в удобрениях
2	<input type="checkbox"/>	высокая урожайность
3	<input type="checkbox"/>	сложность ирригационной системы
4	<input type="checkbox"/>	большое количество мелких трудовых операций

4. Задача 4

Полный балл 2

Назовите крупнейший остров Южной Кореи?

1	<input type="checkbox"/>	Канхвадо
2	<input type="checkbox"/>	Уллындо
3	<input type="checkbox"/>	Чеджудо
4	<input type="checkbox"/>	Токдо

5. Задача 5

Полный балл 2

На стороне какого из корейских государств династия Тан воевала с Когурё в VII в.?

1	<input type="checkbox"/>	Кая
2	<input type="checkbox"/>	Корё
3	<input type="checkbox"/>	Силла
4	<input type="checkbox"/>	Пэкче

6. Задача 6

Полный балл 2

В каком из корейских государств «Эпохи трех государств» централизованный аппарат был сформирован позже других?

1	<input type="checkbox"/>	Когурё
2	<input type="checkbox"/>	Чосон
3	<input type="checkbox"/>	Силла
4	<input type="checkbox"/>	Корё

7. Задача 7

Полный балл 2

Прочитайте отрывок из мифа об основании государства. Об основании какого государства повествует данный отрывок?

«У Кымва было еще семеро сыновей, которые испытывали зависть к Чумону и даже боялись его. Они всячески упрашивали отца избавиться от Чумона. Кымва не хотел расставаться с ним. Тогда сыновья и придворные сановники задумали убить Чумона. Об этом узнала мать — Юхва и тайно

известила сына. Чумон бежал с тремя друзьями. Погоня не смогла догнать беглецов. Чумон кормил лошадей так, что хорошие лошади выглядели хилыми (они то и достались Чумону), а плохие — упитанными (на них ездил ван и его приближенные).»

1	<input type="checkbox"/>	Древний Чосон
2	<input type="checkbox"/>	Пэкче
3	<input type="checkbox"/>	Силла
4	<input type="checkbox"/>	Когурё

8. Задача 8

Полный балл 2

В «Исторических записках» Сыма Цяня сообщается, что, когда Цинь Ши-хуан объединил Китай, он приказал переименовать народ в «черноголовых». Почему?

1	<input type="checkbox"/>	из-за чёрного цвета волос
2	<input type="checkbox"/>	из-за чёрного цвета клейма, которое ставилось на лбу жителям покорённых царств
3	<input type="checkbox"/>	из-за необходимости носить чёрный тюрбан
4	<input type="checkbox"/>	из-за смуглого цвета кожи покорённых народов Восточного и Южного Китая

9. Задача 9

Полный балл 2

Двумя важнейшими родами войск в Древнем Китае были:

1	<input type="checkbox"/>	пехота и кавалерия
2	<input type="checkbox"/>	пехота и лучники
3	<input type="checkbox"/>	наземные войска и речной флот
4	<input type="checkbox"/>	пехота и колесницы

10. Задача 10*

Полный балл 2

В Древнем Китае не принято было сидеть на чём-либо, свесив ноги. Первые стулья появляются в Китае в...:

1	эпоху Хань
2	период Южных и Северных династий
3	эпоху Тан
4	эпоху Сун

11. Задача 11

Полный балл 2

Назовите величайший эпос Индии.

1	Махабхарата
2	Ригведа
3	Упанишада
4	Ваджраяна

12. Задача 12

Полный балл 2

Что произошло в 1400-1401 гг. на Ближнем Востоке?

1	Первое столкновения мамлюков с Генуей
2	Поход Тимура (Тамерлана) на Сирию
3	Захват Каира Османским государством
4	IX Крестовый поход

13. Задача 13

Полный балл 2

Чем прославился Аменхотеп IV, или Эхнатон?

1	Религиозной реформой страны
2	Самыми значимыми завоеваниями в истории Египта
3	Развитием торговых отношений с Шумером
4	Отправкой финикийской экспедиции вокруг Африки

14. Задача 14

Полный балл 2

Какой язык считался международным на Древнем Востоке вплоть до Бронзового коллапса?

1	<input type="checkbox"/>	Арабский
2	<input type="checkbox"/>	Аккадский
3	<input type="checkbox"/>	Семитский
4	<input type="checkbox"/>	Амхарский

15. Задача 15

Полный балл 2

Какая территория позже всего вошла в состав Японии

1	<input type="checkbox"/>	Окинава
2	<input type="checkbox"/>	Хоккайдо
3	<input type="checkbox"/>	Тиба
4	<input type="checkbox"/>	Ямагути

16. Задача 16

Полный балл 2

Что не относится к императорским регалиям в Японии?

1	<input type="checkbox"/>	яшмовые бусы
2	<input type="checkbox"/>	меч
3	<input type="checkbox"/>	хризантема
4	<input type="checkbox"/>	зеркало

17. Задача 17

Полный балл 3

Какие два факта из ниже перечисленных относятся к истории государства Корё?

1	сведения о самых ранних этапах истории этого государства дошли до нас из мифов
2	основателем этого государства является Ван Гон
3	основателем этого государства считается государь Чумон
4	государство возникло на окраине Силла расцвет этого государства приходится на IV век

18. Задача 18

Полный балл 3

К неолитическим культурам долины реки Хуанхэ относятся:

1	<input type="checkbox"/>	Хэмуду
2	<input type="checkbox"/>	Баньпо
3	<input type="checkbox"/>	Шуандунь
4	<input type="checkbox"/>	Лянчжу
5	<input type="checkbox"/>	Эрлитоу

19. Задача 19

Полный балл 3

Какие из приведённых китайских литературных жанров являются чисто поэтическими?

1	<input type="checkbox"/>	Хань фу 漢賦
2	<input type="checkbox"/>	Юэ-фу гэ 樂府歌
3	<input type="checkbox"/>	Люй ши 律詩
4	<input type="checkbox"/>	Чуань-ци 傳奇
5	<input type="checkbox"/>	Сун цы 宋詞
6	<input type="checkbox"/>	Гун-ань 公案

20. Задача 20

Полный балл 3

Какие из указанных войн шли в 1980-х гг.?

1	Гражданская война в Алжире
2	Гражданская война в Ливане
3	Афганская война
4	Третья Арабо-израильская война
5	Война США с терроризмом
6	Ирано-иракская война

21. Задача 21*

Полный балл 4

Расположите в хронологической последовательности государства, с которыми воевала Корея.

1.

2.

3.

4.

Возможные ответы

1	Китай династии Тан
2	Монгольская империя
3	Ляо
4	Государство чжурчжэней Цзинь

Система оценивания

22. Задача 22

Полный балл 4

Соотнесите артефакт корейской культуры с названием государства, к которому он относится?

1	Дворец Кёнбоккун	А	<input type="text"/>
2	Летопись «Самгук саги»	Б	<input type="text"/>
3	Насыпные гробницы ванов	В	<input type="text"/>
4	Бронзовые кинжалы	Г	<input type="text"/>

Возможные ответы


1	Чосон
2	Силла
3	Корё
4	Древний Чосон

Система оценивания


23. Задача 23*

Полный балл 4


Соотнесите изображения керамических изделий и названия стран Востока, к культурам которых они принадлежат.



А -



Б -



В -



Г -

Возможные ответы

- | | |
|---|--------|
| 1 | Египет |
| 2 | Китай |
| 3 | Корея |
| 4 | Япония |

Система оценивания

24. Задача 24

Полный балл 4

Сопоставьте государства и научно-культурные центры

А) Сасанидский Иран -

Б) Аббасидский халифат -

В) Эмират Тимуридов -

Возможные ответы

1	Бейт ал-Хикма в Багдаде
2	Самарканд
3	Гундишапур

Система оценивания

25. Задача 25

Полный балл 4

Соотнесите мифологических персонажей с событиями:

Нюйва

Шэньнун

Фуси

Цанцзе

Чию

Юй

Возможные ответы

1	борьба с потопом
2	изобретение сельскохозяйственных орудий
3	изобретение письменности
4	открытие триграмм
5	изобретение оружия
6	создание человечества

Система оценивания

26. Задача 26

Полный балл 6


Напишите, в какой стране было принято возводить подобные тотемы для защиты от злых духов?



27. Задача 27

Полный балл 6

Как назывался китайский музыкальный инструмент, представленный на картинке?



28. Задача 28


Полный балл 6

Какое название получил процесс соперничества между Британией и Российской империей за контроль над Средней Азией и Ираном?

29. Задача 29

Полный балл 6

Какое событие показано на этой картине?



30. Задача 30

Полный балл 6

В эпоху Токугава князья делились на категории тодзама и фудай. Где произошло решающее сражение, в результате которого они были поделены на эти категории?

31. Задача 31

Полный балл 6

Чем прославился представленный на фотографии человек?

