

**Время выполнения задания: 120 минут**

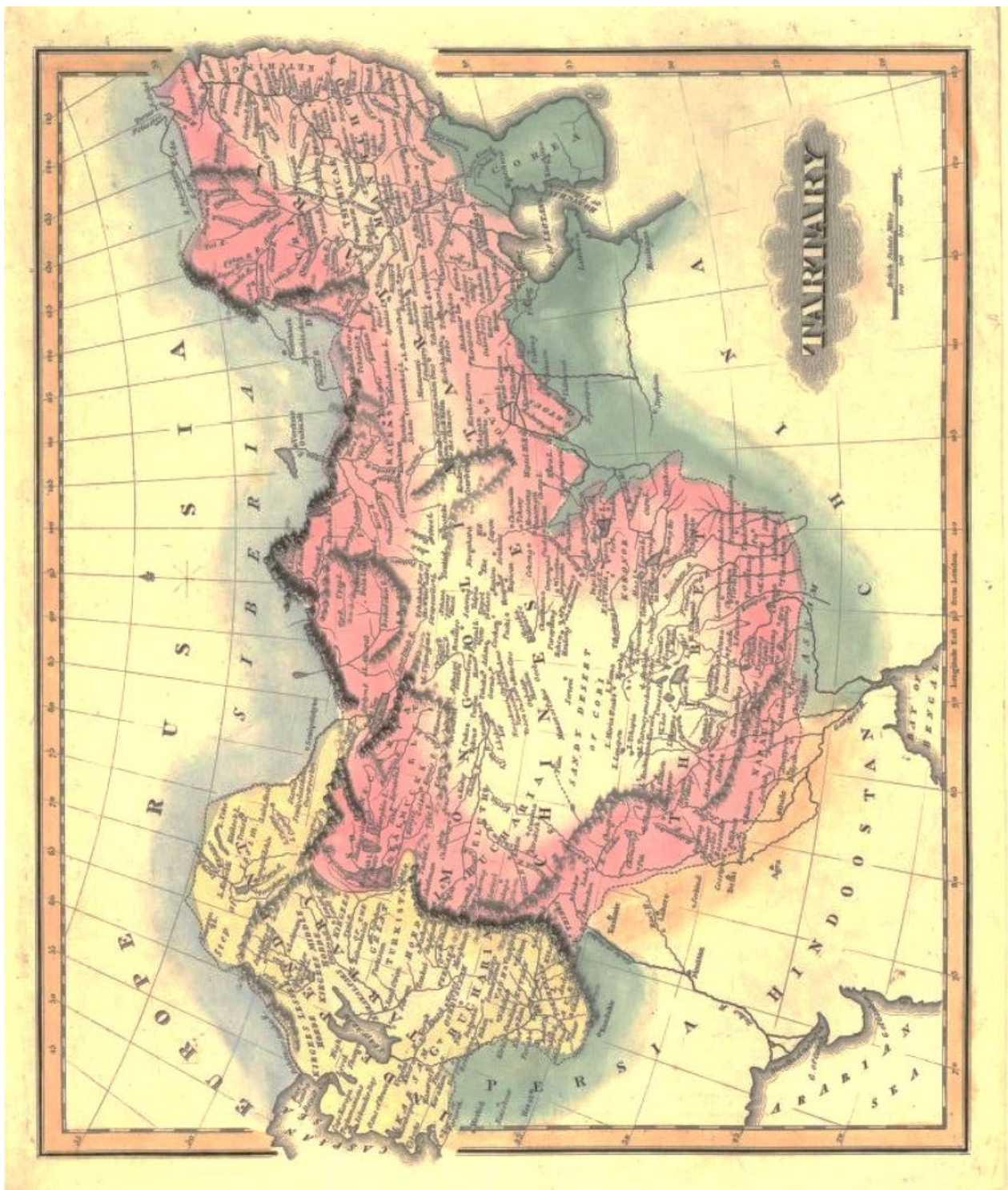
**Пишите разборчиво. Кроме ответов на вопросы в работе не должно быть никаких пометок. При отсутствии ответа ставьте прочерк. Максимальное количество баллов – 100**

**Часть I. Работа с географической картой**

**Задание 1.1. Перед Вами страница из атласа Лукаса Филдинга, изданная в Балтиморе.<sup>1</sup> Объясните, какой географической области посвящена эта карта? Что обозначали термином «Тартария» (10 баллов)**

---

<sup>1</sup> URL: [https://www.davidrumsey.com/luna/servlet/detail/RUMSEY~8~1~40~10102:Tartary-?showTipAdvancedSearch=false&showShareIIIIFLink=true&showTip=false&helpUrl=https%3A%2F%2Fdoc.lunaimaging.com%2Fdisplay%2FV74D%2FLUNA%2BViewer%23LUNAVIEWER-LUNAVIEWER&title=Search+Results%3A+List\\_No+equal+to+%274584.036%27&fullTextSearchChecked=&dateRangeSearchChecked=&advancedSearchUrl=https%3A%2F%2Fdoc.lunaimaging.com%2Fdisplay%2FV74D%2FSearching%23Searching-Searching&thumbnailViewUrlKey=link.view.search.url](https://www.davidrumsey.com/luna/servlet/detail/RUMSEY~8~1~40~10102:Tartary-?showTipAdvancedSearch=false&showShareIIIIFLink=true&showTip=false&helpUrl=https%3A%2F%2Fdoc.lunaimaging.com%2Fdisplay%2FV74D%2FLUNA%2BViewer%23LUNAVIEWER-LUNAVIEWER&title=Search+Results%3A+List_No+equal+to+%274584.036%27&fullTextSearchChecked=&dateRangeSearchChecked=&advancedSearchUrl=https%3A%2F%2Fdoc.lunaimaging.com%2Fdisplay%2FV74D%2FSearching%23Searching-Searching&thumbnailViewUrlKey=link.view.search.url)




Задание 1.2. Исходя из границ государств, предположите, в какой период (с точностью до 30-50 лет) была создана карта. (10 баллов).


Термином «Тартария» обозначались кочевые народы Великой степи Евразии. Допустим ответ, отсылающий к территории бывшей империи монголов. Территории кочевых народов являлись источником набегов на оседлые народы, проживавшие в других частях Евразии. В конечном счете «Тартария» была разделена, главным образом, между Цинским Китаем и Российской империей в период между XVIII и XIX в. Часть этого процесса отображена на

карте, поскольку Монголия и Синьцзян входят в состав Китая. Таким образом, карта может относиться к периоду последней трети XVIII – первой половины XIX в. Следует также обратить внимание на российско-китайскую границу, она соответствует условиям Нерчинского договора (1689 г.), то есть, была составлена до заключения Айгунского договора в 1858 г.



Часть II. Работа с изобразительными источниками. Рассмотрите приведенные ниже пары изображений. По какому принципу они объединены?(10 баллов за пару)

- 

1.
- 

2.



1. На изображении слева – У Саньгуй, справа – Ван Цзинвэй. Оба являются символами национального предательства и содействия иноземным захватчикам (маньчжурам и японцам соответственно) в Китае.
2. На картинах изображен Иерусалим в момент его осады/захвата. 1. Осада Иерусалима крестоносцами в июле 1099 г считается одним из ключевых событий Первого крестового похода. Происходила с 7 июня по 15 июля 1099 года, в результате город был захвачен войсками **крестоносцев**. 2. Осада Иерусалима **иудеями** 70е годы (первая Иудейская война)

### Часть III. Работа с письменными источниками.

Перед вами выдержки из документа, заключенного между Российской Империей и Портой. Прочитайте текст. Ответьте на вопросы.

Трактат о (...), заключенный между Российской Империей и Портою Оттоманскою (Константинополь, 10 июня 1783 г.)

Ст.1. Блистательная Порта позволяет совершенно свободно вообще всем российским подданным навигацию и торги свои отправлять во всех областях ея, как на сухом пути, так и морях, водах и рекою Дунаем и везде, где навигация и купечество удобными для российских подданных найдутся; чего ради и вольно всякому российскому торгующему ездить, жить и быть в

областях **Порты** под особливою защитою ее правительства столько времени, сколько польза торга его требовать может...

Ст. 17. Поелику российская нация в областях **Блистательной Порты** наравне с *французскою и английскою*, яко наиболее фаворизуемыми ею нациями, почитаема быть должна; то и обязуется Порта сею статьею оказывать российским подданным все преимущества и чести, употребляемые против сих и других вольных народов: равно как и в Российской Империи взаимно те же преимущества чести подданным **Порты** отдаваемы будут...

Ст. 21. ...Постановлено, что подданные Российской Империи, торгующие в Империи Оттоманской, не должны платить пошлины больше трех на сто с товаров, привозимых ими из России, или из областей других держав в области **Порты Оттоманской**...

Ст. 22. Також установлено, пошлины в портах **Блистательной Порты** взыскивать с тех только товаров российских, которые для продажи выгружаемы будут; а с тех, которые в другие приморские города отправляемы быть имеют, пошлин не брать, и затруднения не делать, ибо они плачены будут в тех местах, где для продажи выгрузятся...

Ст. 40. Если б случилось, что одна из содоговаривающихся сторон была в войне с какою-либо постороннею державою, то не возбраняется подданным другой содоговаривающейся стороны отправлять свой торг с оною и проезжать в области ея, только бы они не привозили к неприятельским каких воинских аммуниций или припасов...

Ст. 52. ...Предоставлено Российскому Императорскому Двору право учредить своих консулов во всех местах владения **Оттоманского**, где Российский Двор их для торговых своих дел иметь желает...

Ст. 63. ...Если кто с российским купцом спор имеет и к кадию пойдут, то судья спорного их дела слушать не должен без присутствия российского драгомана... Если же спор случится между одними российскими подданными, то посланник их, при **Блистательной Порте** находящийся, или консулы их могут рассматривать и решать оный по российским законам и обычаям...

**Вопросы:**

- 1. Что называют Оттоманской Портой или Блистательной Портой в этом документе? Объясните происхождение этого названия. (15 баллов)**
- 2. Какого рода приведенный документ? Какими словами можно заполнить лауну в названии? (15 баллов)**

1. **Порта** (Высокая Порта) – принятое и употреблявшееся в европейских дипломатических документах и в литературе официальное название правительства (диван и канцелярия великого визиря) Османской империи.

**Высокая Порта** – на языке турецких чиновников означает резиденцию турецкого султана, а также местопребывание турецкого правительства, и самой турецкой монархии. В последнем смысле название Высокая Порта принято и европейцами. Такое же значение имеет выражение **Блистательная Порта**

От итальянского “porta” : название произошло от архитектурной особенности – очень высокой двери (Бал-аль-Али), ведущей в дом Великого визиря.

2. Этот документ - **торговый** договор 1783 г. между Россией и Турцией.

Договор воспроизводил и распространял на русских подданных льготы и привилегии, данные Портой Англии и Франции в договорах о капитуляциях, концессиях.

**Часть IV. Понимание научного текста.**

Прочтите внимательно приведенный ниже отрывок из книги Г. Киссинджера «О Китае» (Г. Киссинджер. О Китае. Пер. с англ. яз. В.Н. Верченко. – Москва: АСТ, 2014. – 635 с. Глава 3. С. 74 – 77). Ответьте на вопросы.

**ОТ ПРЕВОСХОДСТВА К ЗАКАТУ**

По мере продвижения вперед XIX века Китай пережил массу разнообразных ударов, которые изменили его исторический облик. До Опиумной войны он представлял дипломатию и торговлю в основном как формы признания превосходства Китая. В обсуждаемое нами время Китай переживал период очередной внутренней смуты, когда страна столкнулась с



тремя вызовами извне; даже одного из них уже было бы достаточно, чтобы свалить династию. Эти угрозы пришли с разных направлений и в формах, прежде неизвестных истории Китая.

<...>

В современном Китае с чувством уныния вспоминают о последовавшей серии катастроф как части печально знаменитого «столетия унижений», окончившегося только с объединением страны под националистической формой коммунизма. В то же самое время эра китайского падения по многим параметрам представляется испытанием его замечательных способностей превозмочь все невзгоды, способные погубить другие общества.

Пока иностранные армии маршировали по территории Китая и выдвигали унижительные условия, Небесный двор не переставал претендовать на центральную власть и был в состоянии распространять ее на большей части китайской территории. К захватчикам относились так же, как в предыдущие века, как некоей помехе, нежелательному перерыву в вечном ритме китайской жизни. Двор в Пекине мог действовать подобным образом, ведь иностранные грабежи происходили преимущественно на периферии Китая и оккупанты приходили, чтобы торговать; а поскольку дело обстояло именно так, то в интересах захватчиков было сохранять спокойствие на самых обширных и самых густонаселенных центральных территориях. Правительство в Пекине, таким образом, получало поле для маневра. По всем возникающим проблемам требовались переговоры с императорским двором, в силу чего тот получал возможность натравливать одних оккупантов против других.

При таком слабом раскладе китайские государственные деятели умудрялись играть свою роль весьма умело, не допуская еще более худшей катастрофы. С точки зрения равновесия в мире объективная расстановка сил не предполагала сохранения Китая как унитарного государства размером с материк. Опираясь на традиционное представление о своем превосходстве, Китай, несмотря на довольно часто бросаемые ему вызовы и на



переполнявшие страну волны колониальных грабежей и внутренних волнений, в конечном счете собственными силами преодолел все свои проблемы роста. Пройдя через болезненный и часто унижительный процесс, китайские государственные деятели в итоге сохранили моральные и территориальные установления своего распадающегося на части миропорядка.

<...> ...китайская элита конфуцианского толка и основная масса консервативно настроенного населения страны сохраняли двойственное отношение к таким советам [модернизироваться]. Многие воспринимали книги на иностранных языках и западную технику как несущие угрозу культурной самобытности Китая и общественному порядку в стране. После доходивших до драк стычек победившая фракция решила: модернизация по западному пути будет означать отказ от своего уникального наследия, а это ничто не сможет оправдать. Поэтому Китай вступил в эру имперской экспансии без тех преимуществ, которые давала современная военная система общенационального уровня, и только частично приспособившись к иностранным политическим и финансовым нововведениям.

В свете контраста между военной слабостью Китая и его экспансионистским видением своей роли в мире значительным достижением стала тыловая оборона с целью сохранения китайского правительства. Это достижение не отмечалось каким-то празднованием побед. Это была незавершенная, длившаяся долгое время, пережившая и порой убивавшая своих сторонников попытка, в реализации которой было множество отступлений и имелось много внутренних противников. Эта борьба стоила очень и очень дорого китайскому народу, чье терпение и выносливость служили, не в первый и не в последний раз, в качестве последней линии обороны. Но она позволила сохранить Китай в идеале как занимающую целый континент реальность, как страну, ответственную за свою собственную судьбу. Выработанные во время изнурительной борьбы

огромная самодисциплина и уверенность в своих силах дали возможность Китаю вновь возродиться в более позднюю эпоху.

**Вопросы:**

- 1. Какие «три вызова извне», упоминающиеся в начале главы, по Вашему мнению, имеются в виду? (10 баллов)**

**Под тремя вызовами понимается угроза со стороны западных держав, Российской империи и Японии.**

- 2. Как автор объясняет причины «столетия унижений»? Согласны ли Вы с этим мнением? Какие конкретные примеры Вы можете привести в поддержку своего мнения? (10 баллов)**

**Допустим любой логически обоснованный ответ. В ответе желательно обратить внимание на нежелание китайской элиты модернизироваться**

- 3. Согласны ли Вы с утверждением автора, что Китай «в конечном счете собственными силами преодолел все свои проблемы роста»? (10 баллов)**

**Допустим любой логически обоснованный ответ. Можно обратить внимание на иностранную помощь (к примеру, СССР в определенные периоды XX в.) и принять это как аргумент, если автор ответа не согласен с позицией Г. Киссинджера. Однако это не является обязательной рекомендацией.**